

س8/اذ كان من المعلوم ان عدد الوحدات التي تستهلكها الاسرة من سلعة معينة خلال الشهر تتبع توزيع بواسون بمتوسط 3 وحدات شهريا واذا عرف المتغير العشوائي X بانه عدد الوحدات التي تستهلكها الاسرة خلال الشهر من هذه السلعة، ما احتمال أن أسرة ما تستهلك 3 وحدات على الاكثر خلال الشهر:

حساب الاحتمالات:

احتمال أن أسرة ما تستهلك 3 وحدات على الاكثر خلال الشهر هو:








$$P(X \leq 3) = p(3) + p(2) + p(1) + p(0) \quad 0.3474 \text{ (ا)}$$

$$= \left[\frac{3^3}{3!} + \frac{3^2}{2!} + \frac{3^1}{1!} + \frac{3^0}{0!} \right] \left[\frac{0.0498}{1} \right] \quad 0.4685 \text{ (ب)}$$

$$= [0.0498] \left(\frac{27}{6} + \frac{9}{2} + \frac{3}{1} + \frac{1}{1} \right) = 0.0498(13) = \underline{0.6474} \quad 0.5447 \text{ (ج)}$$

دائما توزيع بواسون موجب الالتواء

0.6474 (د)

الشكل الزر بالآلة	الخطوات	الشكل بالآلة
	1 الآلة على المود العادي 1	نوع الآلة (casio fx-991es)
	2 نفتح قوس	(
 	3 نضغط على زر الكسر ونكتب رقم 3 ثم نضغط زر x اس مربع ونكتب رقم 3	$\left(\frac{3^3}{\quad}\right)$
	4 نازل تحت ونكتب رقم 3 ثم نضغط على SHIFT ثم زر ويسمى هذا مضروب 3	$\left(\frac{3^3}{3!}\right)$
	5 نكمل باقي المعادلة في نفس الطريق أعلاه ثم نغط =	$\left(\frac{3^3}{3!} + \frac{3^2}{2!} + \frac{3^1}{1!} + \frac{3^0}{0!}\right) = 13$
 	6 نوجد قيمة (e) وهي أساس نظام اللوغاريتمات عن طريق زر ALPHA ثم زر (x10^x)	e
	7 ثم نضغط زر x اس مربع ونكتب رقم (-3) ثم يساوي	$e^{-3} = 0.04978$ نقرب العدد (0.0498) $0.0498 \times 13 = \underline{0.6474}$