

## أسئلة اختبار مبادئ الاقتصاد الجزئي الفصل الأول 1435 هـ

1 – النمو الاقتصادي :

أ) يساعد في خفض البطالة .

ب) ينقل منحني إمكانيات الإنتاج إلى الخارج ( اليمين ) .

ج) ( أ ) و ( ب ) .

د) لا شيء مما سبق .

2 – ينتقل منحني إمكانيات الإنتاج إلى اليمين إذا :

أ) زادت الموارد الاقتصادية .

ب) وجود تقدم تقني .

ج) إذا كانت كميات الموارد المتاحة للإنتاج ثابتة .

د) ( أ ) و ( ب ) .

3 – دراسة الكيفية التي يتم بموجبها اتخاذ القرارات الاقتصادية للمنشأة هي من اهتمامات :

أ) الاقتصاد الكلي .

ب) الاقتصاد الجزئي .

ج) الاقتصاد الدولي .

د) ( أ ) و ( ج ) .

4 – يعتبر منحني إمكانيات الإنتاج الممكن من أبسط النماذج التي يستخدمها الاقتصاديون لشرح

الكيفية التي تتم بها المفاضلة والاختيار بين بدائل الإنتاج المتنافسة على الموارد :

أ) الندرة .

ب) المتوفرة .

ج) الدولية .

د) لا شيء مما سبق .

5 – عند قدوم عيد الأضحى ، يزداد الطلب على الأضاحي وبالتالي :

أ) تنخفض أسعار اللحوم .

ب) أسعار اللحوم ثابتة .

ج) ينخفض الطلب على الدجاج .

د) ترتفع أسعار اللحوم .

6 - نفترض أن احد مصانع الاسمنت الكبرى توقف عن العمل ، فإن ذلك سوف يؤدي إلى

أ ) انتقال منحنى العرض إلى اليسار وارتفاع السعر .

ب ) انتقال منحنى العرض إلى اليسار وانخفاض السعر .

جـ ) انتقال منحنى الطلب إلى اليسار وارتفاع السعر .

د ) انتقال منحنى الطلب إلى اليسار وانخفاض السعر .

7 - يمتاز موسم التمور في المملكة هذه السنة بوفرة المحصول مما سوف يؤدي إلى :

أ ) انتقال منحنى العرض إلى اليسار وارتفاع السعر .

ب ) انتقال منحنى العرض إلى اليمين وانخفاض السعر .

جـ ) انتقال منحنى الطلب إلى اليسار وارتفاع السعر .

د ) انتقال منحنى الطلب إلى اليسار وانخفاض السعر .

التكاليف الكلية	التكاليف المتغيرة	الكمية
100	60	5
110	70	6

8 - من الجدول أعلاه ، التكلفة الحدية لإنتاج الوحدة السادسة هي :

أ ) 11 ريال .

ب ) 130 ريال .

جـ ) 30 ريال .

د ) 10 ريالات .

9 - من الجدول أعلاه ، متوسط التكلفة الكلية لإنتاج الوحدة الخامسة هي :

أ ) 10 ريال .

ب ) 18.33 ريال .

جـ ) 12 ريال .

د ) 20 ريال .

10 – في المدى الطويل أو البعيد في الإنتاج :

أ ) يكون عنصر رأس المال فقط ثابتاً .

ب ) تعاني المنشأة من سلبيات الحجم الكبير .

ج ) تكون فيها جميع عناصر الإنتاج ثابتة .

د ) تكون فيها جميع عناصر الإنتاج متغيرة .

11 – ينص قانون تناقص الغلة أو تناقص الناتج الحدي عندما :

أ ) يتناقص الناتج الحدي لعنصر الإنتاج المتغير عند زيادته .

ب ) يتناقص الإنتاج مع تزايد عناصر الإنتاج المتغيرة .

ج ) يزيد الإنتاج بنسبة أقل من نسبة الزيادة في جميع عناصر الإنتاج .

د ) يتناقص الإنتاج مع زيادة جميع عناصر الإنتاج .

12 – التكلفة الثابتة الكلية هي :

أ ) تكاليف لا تتغير بتغير الإنتاج .

ب ) التكلفة الثابتة والمتغيرة المتعلقة بإنتاج السلع .

ج ) التكلفة التي تزداد بزيادة الإنتاج .

د ) لا شيء مما سبق .

13 – المدى القصير أو القريب في الإنتاج تحدث عندما :

أ ) تمتد إلى سنة واحدة أو أقل .

ب ) تكون فيها جميع عناصر الإنتاج متغيرة .

ج ) تكون فيها جميع عناصر الإنتاج ثابتة .

د ) تكون بعض عناصر الإنتاج ثابتة .

14 – عندما تكون مرونة الطلب لسلعة ما مرتفعة ، فإن تخفيض السعر سيؤدي ... الإيرادات الكلية :

أ ) لزيادة .

ب ) لنقص .

ج ) لثبات .

د ) لا شيء مما سبق .

15 – لأجل تعظيم المنفعة الكلية من استهلاك عدة سلع ، يقوم المستهلك بمساواة :

( أ ) المنفعة الكلية من كل سلعة .

( ب ) المنفعة الحدية لكل ريال ينفق على كل سلعة .

( ج ) المنفعة الحدية من كل سلعة .

( د ) المنفعة الكلية لكل ريال ينفق على كل سلعة .

16 – وفقاً لقانون الطلب، مع ارتفاع سعر سلعة الدجاج تنخفض الكميات المطلوبة من الدجاج نتيجة :

( أ ) لارتفاع أسعار اللحوم الأخرى .

( ب ) لزيادة الدخل الحقيقي للمستهلكين .

( ج ) لوجود سلع مماثلة أو بديلة وأسعارها ثابتة لم تتغير .

( د ) لا شيء مما سبق .

17 – استناداً إلى نظرية المنفعة الحدية ، عند توازن المستهلك ، تؤدي زيادة الدخل إلى تمكن

المستهلك من :

( أ ) انخفاض منفعته الكلية .

( ب ) انخفاض الاستهلاك من أي السلع .

( ج ) انخفاض المنفعة الكلية من بعض أو كل السلع .

( د ) زيادة الاستهلاك وانخفاض منفعته الحدية .

18 – تعرف المنفعة بأنها :

( أ ) المبلغ الذي يكون المستهلك دفعه لشراء السلعة .

( ب ) الفائدة العملية من السلعة .

( ج ) الاستمتاع بشراء السلعة .

( د ) مستوى الإشباع المتحصل عليه من استهلاك السلعة .

19 – كلما زاد استهلاك عبد الله من تناول التفاح :

( أ ) زادت رغبته في تناول المزيد منها .

( ب ) زادت المنفعة الحدية التي يحصل عليها حتى تصل إلى نهايتها القصوى .

( ج ) انخفضت المنفعة الحدية من أكل التفاح .

( د ) ( أ ) و ( ب ) .

20 – عندما تصل المنفعة الحدية إلى صفر ، فإن المنفعة الكلية تكون :

- أ ( أقصى ما يمكن .
- ب ( أقل ما يمكن .
- ج ( تكون سالبة .
- د ( صفر .

21 – تشير دالة الإنتاج إلى :

- أ ( استخدام الآلات في الإنتاج .
- ب ( أثر التقدم التقني على الإنتاجية .
- ج ( دور نقابات العمال في الصناعة .
- د ( العلاقة بين عناصر الإنتاج .

22 – من أهم عوامل الإنتاج في إنتاج السيارات التالي :

- أ ( رأس المال .
- ب ( البحيرات .
- ج ( الخدمات الفندقية .
- د ( جميع ما سبق .

23 – عندما يزيد الاستهلاك من السلعة ، فإن منفعتها الكلية :

- أ ( تقترب من المنفعة الحدية .
- ب ( تتناقص .
- ج ( تبقى ثابتة .
- د ( تتزايد .

24 – مشكلة الندرة في الاقتصاد أن :

- أ ( الموارد الاقتصادية غير محددة .
- ب ( الموارد الاقتصادية متوفرة بكثرة .
- ج ( الموارد الاقتصادية محددة .
- د ( لا شيء مما سبق .

25 - ينص قانون تناقص المنفعة على أن :

أ ) المنفعة الحدية تزداد بزيادة الاستهلاك .  
ب ) المنفعة الحدية ثابتة .

ج ) المنفعة الحدية تتناقص بزيادة الاستهلاك .

د ) المنفعة الحدية تتزايد بزيادة الاستهلاك .

26 - الكمية المعروضة من السلعة هي الكمية التي :

أ ) يكون على المستهلك عرضها عند سعر معين خلال فترة معينة .

ب ) يرغب المستهلكون ويستطيعون شراءها عند سعر معين خلال فترة معينة .

ج ) يحتاج البائعون طلبها عند سعر معين خلال فترة معينة .

د ) يرغب البائعون ويستطيعون عرضها للبيع عند سعر معين خلال فترة معينة .

27 - إذا زاد الدخل :

أ ) انتقل منحنى طلب السلعة العادية إلى جهة الشمال .

ب ) تكون هناك حركة إلى أعلى على طول منحنى الطلب .

ج ) تكون هناك حركة إلى أسفل على طول منحنى الطلب .

د ) انتقل منحنى طلب السلعة العادية إلى جهة اليمين .

28 - انخفاض الكمية المعروضة يصور بيانياً :

أ ) انتقال منحنى العرض إلى جهة الشمال .

ب ) حركة على طول منحنى العرض إلى أسفل .

ج ) انتقال منحنى العرض إلى جهة اليمين .

د ) حركة إلى أعلى على طول منحنى العرض .

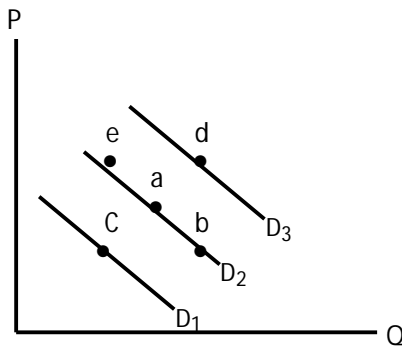
29 - في الشكل ، التغيير في الطلب ، يصورها التحرك :

أ ) ( a ) إلى ( d ) .

ب ) ( a ) إلى ( c ) .

ج ) ( a ) إلى ( e ) .

د ) ( أ ) و ( ب ) .



30 – وجود العجز يتسبب في :

- أ ) انتقال منحنى العرض إلى اليمين .
- ب ) انتقال منحنى الطلب إلى الشمال .
- ج ) ارتفاع السعر .
- د ) انخفاض السعر .

31 – عندما يزيد العرض فقط من السلعة ، فإن سعر التوازن ..... وكمية التوازن .....

- أ ) يرتفع ، تنقص .
- ب ) ينخفض ، تزيد .
- ج ) تنخفض ، تنقص .
- د ) يرتفع ، تزيد .

32 – المرونة الدخلية للطلب تكون أكبر قيمة في حالة :

- أ ) الساعات .
- ب ) الطعام .
- ج ) السفر .
- د ) ( أ ) و ( ج ) .

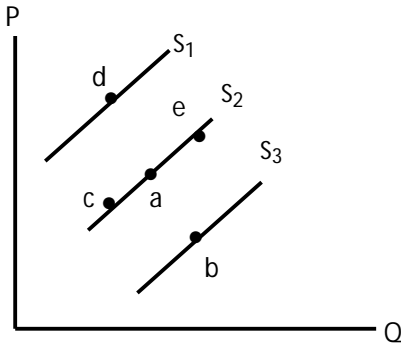
33 – تكون مرونة الطلب على الساعات اليدوية 2 ( قيمة مطلقة ) عندما :

- أ ) تتغير الكمية المطلوبة بنسبة أكبر من التغير في الأسعار .
- ب ) ترتفع الأسعار بمعدل 2 % ويتراجع الإيراد الكلي بنسبة 2 % .
- ج ) يؤدي تراجع الأسعار بنسبة 3 % إلى تراجع الكمية المطلوبة منها بمعدل 6 % .
- د ) تؤدي زيادة الأسعار بمعدل 5 % إلى انخفاض الطلب بنسبة 5 % .

34 – المرونة السعرية للطلب تساوي :

- أ ) نسبة التغير في الكمية المعروضة مقسوماً على نسبة تغير السعر .
- ب ) نسبة التغير في السعر مقسوماً على نسبة التغير في الكمية .
- ج ) التغير في السعر مقسوماً على التغير في الكمية .
- د ) نسبة التغير في الكمية المطلوبة مقسوماً على نسبة تغير السعر .

35 - في الشكل ، زيادة العرض يصورها الانتقال من :



(أ) (a) و (e) .

(ب) (a) و (b) .

(ج) (a) و (d) .

(د) (ب) و (ج) .

36 - زيادة عدد مطاعم الوجبات السريعة في المدينة يؤدي إلى :

(أ) زيادة الطلب على الوجبات السريعة .

(ب) ارتفاع في أسعار الوجبات السريعة .

(ج) زيادة عرض الوجبات السريعة وانخفاض أسعارها .

(د) انخفاض الطلب على بدائل الوجبات السريعة .

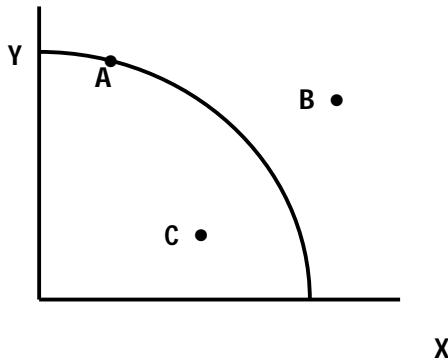
37 - السلع التي لها مرونة تقاطعية سالبة هي سلع :

(أ) بديلة .

(ب) عادية .

(ج) متكاملة .

(د) رديئة .



38 - في الشكل الإنتاج عند النقطة A يفيد أن الموارد :

(أ) مستغلة بكفاءة عالية .

(ب) بعضها عاطل أو غير مستغل بكفاءة أو كلاهما معاً .

(ج) غير مستغلة بالكامل فقط .

(د) المتاحة لا تكفي للوصول إلى هذه النقطة .

39 - أي النقاط في الشكل تمثل إنتاج يمكن تحقيقه بالموارد والتقنية المتاحة بكفاءة إنتاجية عالية :

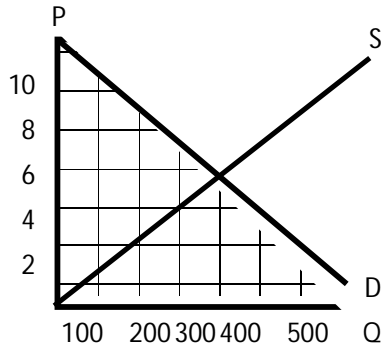
(أ) A

(ب) B

(ج) C

(د) D





40 - كمية التوازن في الشكل هي :

- أ) 300 وحدة .
- ب) 200 وحدة .
- ج) 600 وحدة .
- د) 400 وحدة .

41 - في الشكل عند سعر قدره 4 ريال يكون هناك :

- أ) فائض مما يدفع السعر إلى أعلى .
- ب) عجز مما يدفع السعر إلى أعلى .
- ج) عجز مما يدفع السعر إلى أسفل .
- د) فائض مما يدفع السعر إلى أسفل .

وحدات العمل	الإنتاج الكلي	الناتج الحدي	الناتج المتوسط
20	220		
30	300		
40	340		

42 - من الجدول أعلاه ، الناتج الحدي للعامل عند زيادة وحدات العمل من 20 إلى 30 وحدة هو :

- أ) 8 وحدات .
- ب) 20 وحدة .
- ج) 50 وحدة .
- د) 10 وحدات .

43 - من الجدول أعلاه ، الناتج المتوسط للعامل عند استخدام 30 وحدة عمل هو :

- أ) 10 وحدات .
- ب) 11 وحدة .
- ج) 8.5 وحدة .
- د) 21 وحدة .

44 – ينص قانون العرض على أن انخفاض سعر السلعة ، مع بقاء العوامل الأخرى ثابتة يؤدي إلى :

أ ) زيادة الكمية المطلوبة من السلعة .

ب ) انخفاض الكمية المطلوبة من السلعة .

ج ) انخفاض الكمية المعروضة من السلعة .

د ) زيادة الكمية المعروضة من السلعة .

45 – إذا أدى انخفاض سعر السلعة إلى زيادة الاراد الكلي للبائع ، دل ذلك على أن الطلب :

أ ) غير مرن .

ب ) مرن .

ج ) احادي المرونة .

د ) ( أ ) و ( ج ) .

46 – إذا كانت المرونة السعرية للطلب هي 2 ، فإن ارتفاع السعر بنسبة 20 % يؤدي إلى انخفاض

الكمية المطلوبة بنسبة :

أ ) 40 %

ب ) 10 %

ج ) 4 %

د ) 2 %

47 – علم الاقتصاد هو دراسة :

أ ) كيفية توفير احتياجات الناس والقضاء على الندرة .

ب ) توزيع فائض الإنتاج على المحتاجين .

ج ) كيفية خفض معدل البطالة .

د ) كيفية تحقيق أقصى إنتاج ممكن من السلع والخدمات لتلبية حاجات أفراد المجتمع غير المحددة في

ظل الموارد الاقتصادية المحددة .

48 – زيادة الدخل تؤدي إلى انتقال :

أ ) منحنى الطلب إلى اليمين .

ب ) منحنى العرض إلى اليمين .

ج ) منحنى الطلب إلى اليسار .

د ) منحنى العرض إلى اليسار .

49 – حسب نظرية المنفعة فإن نقطة التشبع يتم تحقيقها عندما تصبح :

أ ( المنفعة الحدية صفر .

ب ( المنفعة الكلية صفر .

ج ( المنفعة الكلية والحدية صفر .

د ( لا شيء مما سبق .

50 – تكلفة الفرصة البديلة لأي نشاط أو اختيار هي :

أ ( أفضل البدائل التي تمت التضحية بها .

ب ( أقل البدائل التي تمت التضحية بها سعراً .

ج ( التكلفة المالية أو الحقيقية .

د ( التكلفة المالية فقط .

تمت بحمد الله

أخوكم : 7áMóÖDŶ