

الإحصاء الوصفي: يهتم بجمع البيانات وعرضها دون استقراء النتائج.

الإحصاء الاستقرائي: يبحث في استقراء النتائج واتخاذ القرارات.

البيانات: مجموعة من المشاهدات والقياسات التي تخص الظاهرة محل الدراسة.

المتغير النوعي: لا يمكن التعبير عنه بعدد (لون العينين، لون السيارة، تقدير الطلاب).

المتغير الكمي: نعبر عن بعدد.

كمية متقطعة: تعد ولا تقاس، ولا تقبل الكسور.

كمية متصلة: تقاس ولا تعد، وتقبل الكسور.

المدى: أقل قيمة - أعلى قيمة.

الجداول التكرارية المفتوحة:

مفتوح من الأسفل: الرقم الأصغر غير محدد بدقة (6 فأقل مثلاً).

مفتوح من الأعلى: الرقم الأكبر غير محدد بدقة (50 فأكثر مثلاً).

مفتوحين من الجهتين: كلا الرقمين الأصغر والأكبر غير محددتين بدقة.

الأعمدية البيانية: أكثر الرسومات البيانية انتشاراً.

البيانات على شكل دائرة: تستخدم عندنا مقارنة أجزاء البيانات بالمجموع الكلي، وعندما يكون العدد قليلاً.

المنحنى أو الخط البياني: يستخدم لتوضيح الاتجاه العام للظاهرة خلال فترة زمنية طويلة.

المدرج التكراري: أعمدة مستطيلة متجاورة.

الوسط الحسابي: مجموع القيم على عددها، أحد مقاييس النزعة المركزية وأسهلها استخداماً، ويدخل في

حسابه كل القيم، يتأثر بالقيم المتطرفة، لا يمكن إيجاده من خلال الرسم.

الوسيط: أحد مقاييس النزعة المركزية، لا يتأثر بالقيم المتطرفة الشاذة، يعرف من خلال الرسم، لا يعتمد على كل القيم. (من طريقة حل المعادلتين: الوسط والوسيط، ستفهم التعريف).

النوال: نزعة مركزية أيضاً، وشبيه بالوسط الحسابي في المزايا، ومن عيوبه أقل المقاييس استخداماً، عديم الفائدة في البيانات قليلة العدد.

التباين: متوسط مربعات انحرافات القيم عن وسطها الحسابي (تربيع الانحراف).

الانحراف المعياري: الجذر التربيعي لمتوسط مربعات انحرافات القيم عن وسطها الحسابي (جذر الانحراف).

معامل بيرسون للارتباط: لا يتأثر بأي عملية حسابية من جمع وطرح وضرب وقسمة، من 1 وأغشار الواحد بالسالب أو الموجب. فيه حال تعدى 1 يكون هناك خطأ في الحساب.

عند 1 موجب تكون العلاقة تامة. وأقل من ذلك بالموجب تكون العلاقة طردية قوية أو ضعيفة حسب حجم الرقم، وبالسالب تكون عكسية وقوة تعاكسها حسب حجم الرقم أيضاً، وفي حال الصفر تكون العلاقة منعقدة:

والارتباط غالباً قيمته كسر أي أقل من الواحد الصحيح

ولتحديد نوع العلاقة نعلم على إشارة معامل الارتباط فإذا كانت الإشارة:
• موجبة فإن العلاقة تكون طردية
• سالبة فإن العلاقة تكون عكسية

ولتحديد قوة العلاقة نعلم على قيمة معامل الارتباط فإذا كانت القيمة:
• من أكبر من صفر إلى أقل من 0.3 فتكون علاقة ضعيفة جداً
• من أكبر من 0.3 إلى أقل من 0.5 تكون علاقة ضعيفة
• من أكبر من 0.5 إلى أقل من 0.7 تكون علاقة متوسطة
• من أكبر من 0.7 إلى أقل من 0.9 تكون علاقة قوية
• من أكبر من 0.9 إلى أقل من 1.00 تكون علاقة قوية جداً
• الواحد الصحيح تكون علاقة تامة

• أما إذا كانت قيمة معامل الارتباط تساوي صفر فلا توجد علاقة خطية أو ارتباط بينهما أي يكون المتغيرين مستقلين عن بعضهما البعض وتكون العلاقة منعقدة

معادلات وتمارين:

مثال: يسؤال خمسة أشخاص عن أجرهم الشهري فكانت إجاباتهم كما يلي بالألف ريال:
3 , 5 , 2, 7,3

المطلوب:

- أحسب متوسط الأجر الشهري
- وإذا قررت إدارة الشركة زيادة أجورهم أحسب متوسط الأجر الجديد في الحالتين التاليتين
 1. زيادة أجور العاملين بمقدار 2000 ريال
 2. زيادة أجور العاملين بنسبة 5 %

الحل:

- 1- استخراج الوسط الحسابي من الأرقام كما هي ثم زد الناتج 5%.
- 2- أضف 2 إلى كل رقم (3 تصبح 5، 7 تصبح 9..إلخ)، ثم استخراج الوسط الحسابي بعد الزيادة.

تعريف المنوال [الشائع]:

يُعرف المنوال لمجموعة من القيم على أنه القيمة التي تتكرر أكثر من غيرها أو القيمة الأكثر شيوعاً [لذا يُسمى في بعض الأحيان بالـ "الشائع"]. وأحياناً يُرمز للمنوال بالرمز \bar{x}

فمثلاً:

مجموعة القيم	18	12	11	10	10	9	9	9	7	5	2	2	9
ومجموعة القيم	16	15	12	10	8	5	3	9	ليس لها منوال	[أو <u>عدمية المنوال</u>]			
ومجموعة القيم	9	7	7	7	5	5	4	4	4	3	2		لها منوالان 4 , 7

أي أن مجموعة القيم قد تكون وحيدة المنوال [لها منوال واحد] ، وقد تكون عديدة المنوال [منوالان أو أكثر] وقد تكون عدمية المنوال [لا يوجد لها منوال]

أما مجموعة القيم 4 4 5 5 6 6 7 7 فقد تسرع وتقول أنها رباعية المنوال ومناولها : 4 , 5 , 6 , 7

لكن [حيث أن جميع القيم لها نفس التكرار] هذه المجموعة الأخيرة عدمية المنوال

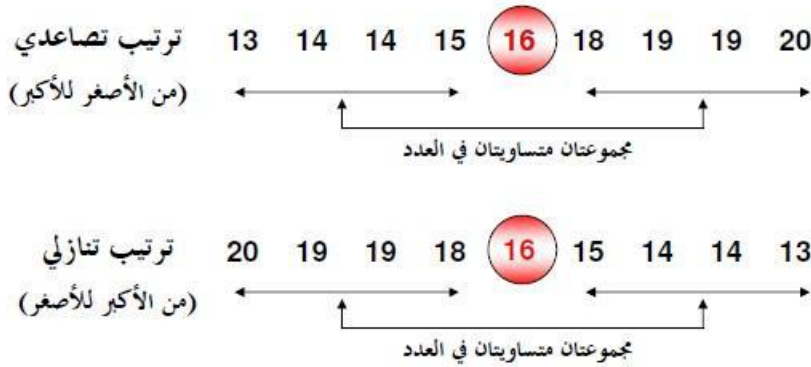


الوسيط (الفردى):

تعريف الوسيط :

(ببساطة) يُعرف الوسيط [وسنرمز له بالرمز M] لمجموعة من القيم (المرتبة تصاعدياً أو تنازلياً حسب قيمها) على أنه القيمة التي تقسم مجموعة القيم إلى مجموعتين متساويتين في العدد ، أو بتعبير آخر هي القيمة التي في المنتصف

فمثلاً لمجموعة القيم : 13 , 14 , 18 , 15 , 20 , 16 , 19 , 14 , 13 ، إذا قمنا بترتيبها تصاعدياً أو تنازلياً



يكون الوسيط هو
العدد الخامس
رتبة الوسيط أي
ترتيبه بين القيم
وقيمته 16

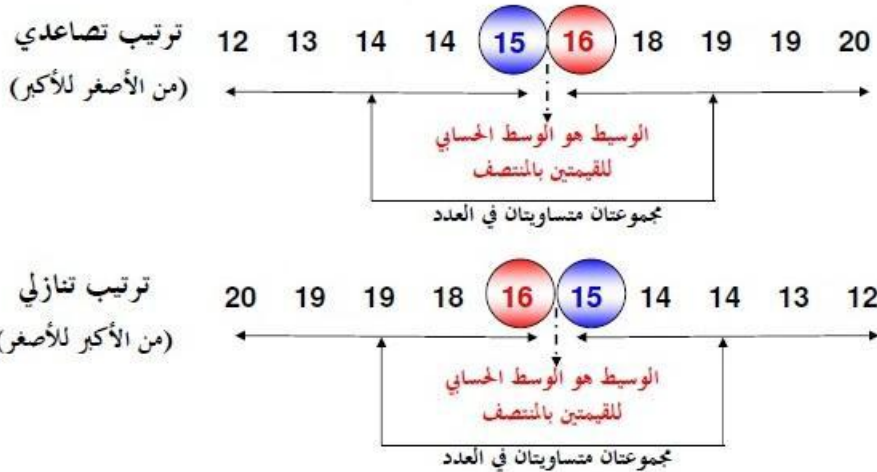
فرق بين رتبة
الوسيط وقيمته

هام
جدا

لاحظ هنا أن عدد القيم n [هنا = 9] فردي وبالتالي هناك قيمة واحدة في منتصف المجموعة

الوسيط (زوجي):

أما لمجموعة القيم : 12 , 13 , 14 , 18 , 15 , 20 , 16 , 19 , 14 , 13 ، إذا قمنا بترتيبها تصاعدياً أو تنازلياً القيمة 12 للمجموعة السابقة] ، إذا قمنا بترتيبها تصاعدياً أو تنازلياً



في هذه الحالة توجد قيمتان بالمنتصف وهما القيمة الخامسة والقيمة السادسة [وهما العددان 15 , 16] ، عندئذ يكون الوسيط هو الوسط الحسابي لهاتين القيمتين ، أي :

$$\frac{15 + 16}{2} = 15.5$$

المدى R مجموعة من البيانات هو الفرق بين أكبر قيمة في البيانات وأصغر قيمة فيها

$$\frac{\text{تكرار القيمة}}{\text{مجموع التكرارات}} = \text{التكرار النسبي لقيمة ما}$$

$$\frac{\text{تكرار القيمة}}{\text{مجموع التكرارات}} \times 360 = \text{الزاوية المركزية لقيمة ما}$$

التكرار النسبي المئوي: هو التكرار النسبي $\times 100$

وهذا تمرين يوضح كيف نستفيد من معادلتى التكرار النسبي والتكرار النسبي المئوي، ولا بد من التفريق بين النسبة، والنسبة المئوية:

س ٢ : المدى مجموعة من البيانات المنفصلة هو :

أكثر القيم تكراراً في البيانات

أصغر قيمة في البيانات

أكبر قيمة في البيانات

الفرق بين أكبر وأصغر قيمتين في البيانات

س ٣ : الجدول المرافق يبين درجات ٢٠ طالباً في أحد المقررات الدراسية :

الدرجة	100	99	98	97	96	95	94	93	92	التكرار
	1	3	1	1	1	6	3	2	2	

هامش للإجابة

(أ) عدد الطلاب الحاصلين على 94 فأقل هو : 3 0.15 4 7

(ب) عدد الطلاب الحاصلين على درجة أقل من 94 هو : 3 0.15 4 7

(ج) نسبة الطلاب الحاصلين على 94 فأقل هي : 0.35 35% 4 7

(د) النسبة المئوية للطلاب الحاصلين على 94 فأقل هي : 0.35 35% 4 7

خذ بالك : المطلوب نسبة (وليس نسبة مئوية) أيوه ... ده بقى نسبة مئوية

(أ-٣) $7 = 3 + 2 + 2$

(ب-٣) $4 = 2 + 2$

(ج-٣) $\frac{7}{20} = 0.35$

(د-٣) $0.35 \times 100 = 35\%$

وهذا تمرين آخر:

5	2	2	1	0
1	2	1	1	1
0	0	1	2	2
1	3	1	0	0
1	2	1	0	2
3	0	0	0	1

المطلوب:

- عرض البيانات السابقة في صورة جدول تكراري
- احسب الاحتمالات التالية:

- أن لا يتعرض أي شخص لحادث
- أن يكون هناك حادث واحد على الأكثر
- أن يكون هناك حادث واحد على الأقل

طريقة الحل:

التكرار النسبي التكرارات اجمالي التكرارات	التكرارات (بالارقام)	التفريع (العدد بالشرطات - كل خمس شرطات تكون ما يسمى بالجزمة)	عدد الحوادث
$0.30 = 30 \div 9$	9	TTTT	صفر
$0.36667 = 30 \div 11$	11	I TTTT TTTT	1
$0.23333 = 30 \div 7$	7	II TTTT	2
$0.10 = 30 \div 3$	3	III	3
1		30	الجموع

احتمال الا يتعرض اي شخص لحادث؟

صفر = 0.30

احتمال ان يكون هناك حادث واحد على الاكثر؟

بمعنى انه سوف يكون اكبر عدد للحوادث هو 1

$$0.66667 = 0.36667 + 0.30 = 1$$

احتمال ان يكون هناك حادث واحد على الاقل؟

بمعنى انه سوف يكون اقل عدد للحوادث هو 1

لذلك لا بد من استبعاد نسبة تكرار الصفر ونحسب باقي الاعداد ونختصرها في هذا المثال بطرح قيمة تكرار

الصفر من اجمالي التكرار النسبي 1

$$0.70 = 0.30 - 1$$

وهذا تمرين يوضح كيف يمكن الاستفادة من قانوني الزاوية المركزية، والتكرار النسبي:

المتغير (العمر) x	التكرار (العدد) f	الزاوية المركزية
20	20	72°
25	?	36°
30	30	?
35	?	?
	$\sum f$	

هامش للإجابة

(أ) - هناك تناسب بين التكرار والزاوية المركزية . إذن :

$$72 \times ? = 36 \times 20 \quad \therefore ? = 10$$

(ب) بنفس الأسلوب السابق

$$72 \times 30 = ? \times 20 \quad \therefore ? = 108$$

(ج) مجموع الزوايا المركزية يجب أن يكون 360°

$$\therefore 72 + 36 + 108 + ? = 360 \quad \therefore ? = 144$$

س ١ : الجدول المقابل يبين الجدول التكراري لأعمار عدد من الممرضات (أقرب سنة) اللاتي تعملن في أحد أقسام إحدى المستشفيات ، من هذا الجدول أجب

على الأسئلة التالية :

(أ) عدد الممرضات ذات العمر 25 سنة هو :

40 30 20 10

(ب) الزاوية المركزية المناظرة للعمر 30 سنة هي :

144° 108° 72° 36°

(ج) الزاوية المركزية المناظرة للعمر 35 سنة هي :

144° 108° 72° 36°

نجد بعض التكرارات وبعض الزوايا المركزية مختلفة، مع اختفاء مجموع التكرار.

بعد فهم معادلة التكرار والزوايا المركزية يمكن وضع أرقام الموجودة في (خيارات الإجابة للتخمين عليها) دون الحاجة إلى خطوات حل أخرى.

السؤال الأول: كيف نعرف عدد الممرضات مع وجود زاوية مركزية؟.

نبدأ أولاً باستنتاج رقم التكرار اعتماداً على أكثر القيم وضوحاً، وأكثرها هنا في الصف الأول من الجدول.

قانون الزاوية المركزية: العمر $20 \div$ مجموع التكرارات $\times 360$.

لكننا لا نعلم عدد التكرارات، فنضطر إلى القسمة على رقم عشوائي.

هل ظهرت الزاوية المركزية 72؟ جرب على رقم آخر بالزيادة أو النقص، وعند ظهور الرقم 72 بعد التقسيم على أحد الخيارات العشوائية (على افتراض أنه مجموع التكرارات)، ستعلم أن الرقم المجهول هو 100 وهذا هو عدد التكرارات.

وهنا قد استخرجنا رقماً مهماً يساعد في تسهيل الإجابات.

السؤال 1: عدد الممرضات ذات العد 25؟

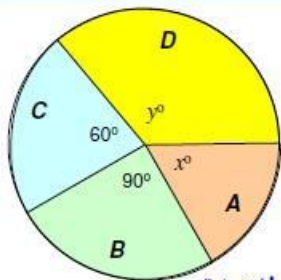
بعد ظهور التكرار ثم وجود خيارات إجابة، ستصبح المسألة أسهل بكثير:

جرب الرقم الأول (10) $10 \div 100 \times 360 =$ نعم. ظهرت الزاوية المركزية 36، والإجابة (10).

وقس على ذلك بقية الإجابات التي سنهل أكثر مع كل ناتج.

(لن تستغرق التخمينات العشوائية بالحاسبة مدة أكثر من طريقة المقص إن لم تكن أقل).

تمرين:



س ٥ : الشكل المقابل يبين مبيعات أربع شركات A, B, C, D (بيع لعب الأطفال) وذلك خلال عيد الفطر المبارك ، فإذا كان عدد اللعب الكلي التي تم بيعها بواسطة هذه الشركات هو 5400 لعبة ، أجب على الأسئلة التالية :

هامش للإجابة

(أ-٥)

$$360 \times ? = 90 \times 100$$

$$? = 25\%$$

100%	360°
?	90°

$$\frac{25}{100} \times 5400 = 1350$$

(ب-٥)

(ج-٥)

الزاوية المركزية المناظرة لمبيعات الشركتين معاً تساوي

$$360 - (90 + 60) = 210^\circ$$

5400	360°
?	210°

$$360 \times ? = 210 \times 5400$$

$$? = 3150$$

(أ) النسبة المئوية لمبيعات الشركة B هي :

60% 40% 30% 25%

(ب) عدد اللعب التي باعتها الشركة B هو :

1350 900 2250 2700

(ج) عدد اللعب التي باعتها الشركتان A, D معاً هو :

1350 3150 2250 900

(د) وإذا كانت النسبة بين مبيعات الشركتين A, D هي 8 : 13 ، فإن قيمة x تكون :

60° 90° 80° 150°

إبه رأيك نخلي الجزء (د) واجب ، والحل هو

هنا أيضاً تخمينات:

إذا عرفنا أن مجموع الزوايا للدائرة كاملة 360 وربعها 90، ثم شاهدنا الحجم الذي احتلته كل شركة من الدائرة.

ومن أراد المقص فدونه المقص. يقص على كيفه.

طول الفئة = حدها الأدنى - الحد الأعلى (الفرق بين الحدين الأدنى والأعلى).

مركز الفئة (ضروري في البيانات المبوبة) = حد الفئة الأدنى + حدها الأعلى ÷ 2

وهذا مثال علمي مصور على المعادلتين:

الفئة	المتغير x (الطول)	طول الفئة c
الأولى	$0 \leq x < 20$	$20 - 0 = 20$
الثانية	$20 \leq x < 30$	$30 - 20 = 10$
الثالثة	$30 \leq x < 35$	$35 - 30 = 5$
الرابعة	$35 \leq x < 40$	$40 - 35 = 5$
الخامسة	$40 \leq x < 50$	$50 - 40 = 10$
السادسة	$50 \leq x < 60$	$60 - 50 = 10$

٥. لكل فئة **طول** وهو يساوي الفرق بين حدها الأعلى وحدها الأدنى

• فالفئة الأولى طولها يساوي 20 والثانية طولها يساوي 10

والثالثة طولها يساوي 5 والرابعة طولها يساوي 5

والخامسة طولها يساوي 10 ، أما السادسة (والأخيرة) فطولها يساوي

10 . أي أن الفئات **[في هذا المثال]** ليست متساوية في الطول

٦. لكل فئة **مركز** [وسنرمز له بالرمز x_0] وهي قيمة المتغير x الواقعة في منتصف تلك الفئة ، وتُحسب ببساطة على أنها متوسط حديها الأدنى والأعلى ، أي أن :

الفئة	المتغير x (الطول)	مركز الفئة x_0
الأولى	$0 \leq x < 20$	$(0 + 20) \div 2 = 10$
الثانية	$20 \leq x < 30$	$(20 + 30) \div 2 = 25$
الثالثة	$30 \leq x < 35$	$(30 + 35) \div 2 = 32.5$
الرابعة	$35 \leq x < 40$	$(35 + 40) \div 2 = 37.5$
الخامسة	$40 \leq x < 50$	$(40 + 50) \div 2 = 45$
السادسة	$50 \leq x < 60$	$(50 + 60) \div 2 = 55$

$$\text{مركز أي فئة} = \frac{\text{حد الفئة الأدنى} + \text{حدها الأعلى}}{2}$$

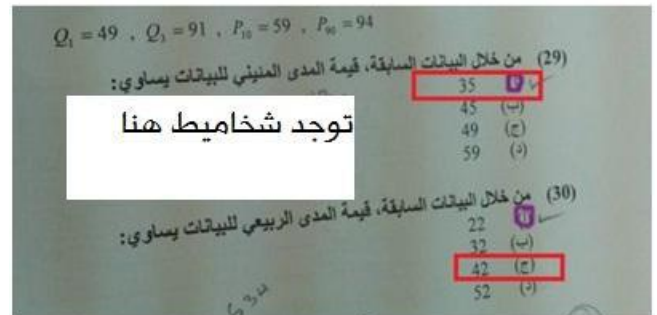
ومن ثم يكون مركز الفئة الأولى 10 ، والثانية 25 والثالثة 32.5 ، والرابعة 37.5 والخامسة 45 ، ومركز الفئة الأخيرة

(السادسة) 55



استزد من المعادلات والتعريفات:

- **الوسيط M لمجموعة من القيم [وهو أحد مقياس النوع المركزية]:** هو قيمة تقسم مجموعة القيم [بعد ترتيبها تصاعدياً] إلى مجموعتين متساويتين في العدد ، أي بحيث تقع 50% من القيم تحتها (أي أقل منها) ، 50% من القيم فوقها (أي أكبر منها) [وبالتالي هي قيمة المتغير التي يناظرها تكرار متجمع صاعد قدره $\frac{1}{2} \sum f$ في حالة القيم ذات التكرارات أو البيانات المتصلة ، أو تكرار متجمع نسبي قدره 50%].
- **الربع الأول Q_1 لمجموعة من القيم:** هو قيمة تقسم مجموعة القيم [بعد ترتيبها تصاعدياً] إلى مجموعتين بحيث تقع 25% من القيم تحتها (أي أقل منها) ، 75% من القيم فوقها (أي أكبر منها) [وبالتالي هي قيمة المتغير التي يناظرها تكرار متجمع صاعد قدره $\frac{1}{4} \sum f$ في حالة القيم ذات التكرارات أو البيانات المتصلة ، أو تكرار متجمع نسبي قدره 25%].
- **الربع لثالث Q_3 لمجموعة من القيم:** هو قيمة تقسم مجموعة القيم [بعد ترتيبها تصاعدياً] إلى مجموعتين بحيث تقع 75% من القيم تحتها (أي أقل منها) ، 25% من القيم فوقها (أي أكبر منها) [وبالتالي هي قيمة المتغير التي يناظرها تكرار متجمع صاعد قدره $\frac{3}{4} \sum f$ في حالة القيم ذات التكرارات أو البيانات المتصلة ، أو تكرار متجمع نسبي قدره 75%].
- **المئين العاشر P_{10} لمجموعة من القيم:** هو قيمة تقسم مجموعة القيم [بعد ترتيبها تصاعدياً] إلى مجموعتين بحيث تقع 10% من القيم



ما عليك إلا تطبيق القانونين أعلاه:

المدى المئيني: تخصم قيمة 10% من قيمة 90%، والرمز المئيني واضح P_{90} P_{10}

المدى الربيعي: تخصم الربع الأول من الربع الثالث. ورمز الربع واضح Q_1 للربع الأول و 3 للثالث

ولو طلب نصف المدى الربيعي أو الانحراف الربيعي : حاصل الطرح $\div 2$

ومن أراد الاستزادة:

$$P_{90} - P_{10} = [\text{وهو أحد مقاييس التشتت}] \text{ المدى المثني}$$

$$Q_3 - Q_1 = [\text{وهو أحد مقاييس التشتت}] \text{ المدى الربيعي}$$

$$\frac{1}{2}(Q_3 - Q_1) = \text{نصف المدى الربيعي} = [\text{وهو أحد مقاييس التشتت}] \text{ الانحراف الربيعي}$$

$$\frac{Q_3 - Q_1}{Q_3 + Q_1} \times 100 = [\text{وهو أحد مقاييس التشتت النسبي ويكتب ككسبة مئوية}] \text{ معامل الاختلاف الربيعي}$$

$$[M = Q_2 \text{ تذكر أن}] \frac{Q_3 - 2Q_2 + Q_1}{Q_3 - Q_1} = [\text{وهو أحد مقاييس الالتواء}] \text{ معامل الالتواء الربيعي}$$

تذكر أن القيمة الموجبة لمعامل الالتواء تعني التواء لليمين والقيمة السالبة تعني التواء لليسار

$$[M = P_{50} \text{ تذكر أن}] \frac{P_{90} - 2P_{50} + P_{10}}{P_{90} - P_{10}} = [\text{وهو أحد مقاييس الالتواء}] \text{ معامل الالتواء المثني}$$

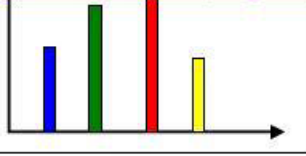
تذكر أن القيمة الموجبة لمعامل الالتواء تعني التواء لليمين والقيمة السالبة تعني التواء لليسار

$$\text{معامل التفرطح المثني} = \frac{\text{نصف المدى الربيعي}}{\text{المدى المثني}} = \frac{\text{الانحراف الربيعي}}{\text{المدى المثني}}$$

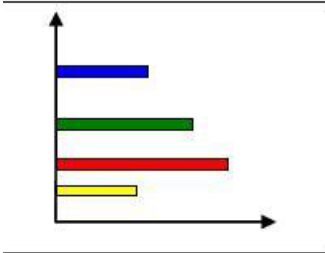
:

التكرار المتجمع الصاعد المناظر لقيمة معينة a لتغير x هو مجموع تكرارات جميع قيم المتغير الأقل من a


التكرار المتجمع الهابط المناظر لقيمة معينة a لتغير x هو مجموع تكرارات جميع قيم المتغير الأكبر من أو تساوي a



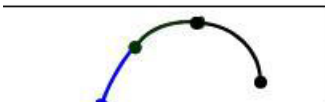
طريقة الأعمدة البسيطة : حيث تُمثل كل قيمة من قيم المتغير بعمود (خط رأسي) طوله يُعبر عن تكرار تلك القيمة [لا يهم عرض الأعمدة أو المسافات بينها ولكن المهم جداً أن تكون الأعمدة منفصلة عن بعضها] .



طريقة القضبان البسيطة : حيث تُمثل كل قيمة من قيم المتغير بقضيب (خط أفقي) طوله يُعبر عن تكرار تلك القيمة [لا يهم سمك القضبان أو المسافات بينها ولكن المهم جداً أن تكون القضبان منفصلة عن بعضها] .



طريقة المضلع التكراري : حيث تُمثل كل قيمة من قيم المتغير وتكرارها بنقطة ثم نقوم بتوصيل هذه النقاط بخط منكسر (بواسطة المسطرة)



طريقة المنحنى التكراري : حيث تُمثل كل قيمة من قيم المتغير وتكرارها بنقطة ثم نقوم بتوصيل هذه النقاط بخط ممهد (باليد)

مثال: البيانات تعبر عن المبيعات الشهرية لأحد المحال التجارية خلال عام ١٤٢٧ هـ بلألف ريال كما يلي:

الشهر	محرم	صفر	ربيع أول	ربيع ثان	جمادى أول	جمادى الاخر	رجب	شعبان	رمضان	شوال	ذى القعدة	ذى الحجة
المبيعات	٣	٥	٨	٣	٦	٤	١٢	٥	٤	٣	٧	٩

المطلوب:
أحسب قيمة التباين وقيمة الإنحراف المعياري للمبيعات الشهرية.

الحل : نفتح الحاسبه ونضغط (MODE SETUP) ويصبح أمامك خيارات نختر (STAT) رقم ٣ ..
بعدها نلقى خيارات نختر (VAR) .. يصبح امامنا عمود جدول .. (هنا تبدأ عملية الحساب) ..
.. ننظر الى المثال فالاعلى ونطبق فالحاسبه مايلي ..
٣ = ٥ = ٨ = ٣ = ٦ = ٤ = ١٢ = ٥ = ٤ = ٣ = ٧ = ٩ > بعد كل رقم نضغط يساوي ..
ثم نضغط (AS) بعدها نضغط .. SHIFT مع رقم ١ ونلقى خيارات نختر (VAR) من خلال الضغط على رقم ٥
يصبح امامنا اربع خيارات نختر رقم .. ٣ .. رمز الانحراف المعياري فبصيح = ٢,٦٨
ونطلع التباين من نتجه الانحراف المعياري وذلك بقيام التربيع أي الضغط على (أكس أس تو) .. ثم يساوي ..
فبصيح ناتج التباين هو ٧,١٩ ..

المهلكي

هذا غير مبوب. ووجوده في جدول لا يعني أنه مبوب.

المطلوب إدخال الأرقام كما هي في الحاسبة الإحصائية كما هو موضح.

مثال:

البيانات التالية توضح توزيع مجموعة من المدرسين العاملين في مجال التربية وفقا لفئات أعمارهم فكانت النتائج كما يلي:

فئات العمر	20-	30-	40-	50-60
عدد العمال	10	30	50	20

المطلوب: حساب مقاييس التشتت التالية:

(أ) الوسط الحسابي
(ب) التباين
(ج) الانحراف المعياري
(د) متوسط الانحرافات المطلقة

هذا مبوب، ولا بد قبل أي شيء من استخراج مركز الفئة.

ومركز الفئة نستخرجه بجمع الحد الأدنى للفئة مع الحد الأعلى للفئة اللاحقة ÷ 2

مثال: 20 الرقم الأدنى للفئة الأولى + 30 الرقم الأعلى للفئة اللاحقة ÷ 2، والتكرار يكون خاص بصاحب الرقم الأول 10

وهكذا مع الفئة التالية، تجمع 30 مع 40 ثم تقسم على 2، والتكرار 30

تجمع أرقام الفئات على حدة، وأرقام التكرارات على حدة.

بنفس طريقة حساب المتوسط يظهر عندك جدول X تضع فيه أرقام الفئات، وجدول فريكو (التكرار) تضع فيه أرقام التكرارات، بالتسلسل العمودي، كل رقم يقابله تكراره، لا تجوز العشوائية، ثم تكمل بقية الخطوات لمعرفة الوسيط والانحراف والتباين

أما متوسط الانحرافات المطلقة فهو يعادل 83% تقريباً من قيمة الانحراف المعياري. تضرب الانحراف المعياري في 83% وسوف يصبح الناتج قريب جداً من أحد خيارات الإجابة.

معامل بيرسون للارتباط:

8	9	11	4	15	10	5	6	7	2	3	2	المنفق على الاعلان
17	15	22	18	33	26	19	18	22	9	12	10	المبيعات

المطلوب:

- 1- ارسم شكل الانتشار يوضح العلاقة بين المنفق على الاعلان و المبيعات ؟
- 2- احسب معامل الارتباط الخطى البسيط (بيرسون)، مع التعليق

لأيجاد معامل الارتباط الخطي بيرسون نجهز الآلة

Mode

3

2

ندخل البيانات كالمعتاد
x المنفق على الاعلان في خانة
y والمبيعات في خانة

AC

للحصول على **معامل الارتباط** في ثواني

Shift

1

5

3

=875.

رمز ارتباط بيرسون في الحاسبة r

معامل سبيرمان: فقط في حال وجود بيانات X و Y

يتم إدخال البيانات كما هي في بيرسون لكن النتيجة النهائية تكون عبر الضغط على b بدلاً من r.

٤٦. إذا كانت قيمة معامل الارتباط = 0,7 فإن قيمة معامل التحديد تساوي:

- أ - 0,67
- ب - 0,49
- ج - 0,9
- د - 0,55

معامل الارتباط = جذر معامل التحديد. ومعاد التحديد = تربيع الارتباط. المطلوب: تربيع الرقم 0.7 ليصبح 0.49

٤٨. تحديد جنس شخص ما يعتبر مثلاً على استخدام المقياس:

- أ - المقياس الرتبي
- ب - المقياس النسبي
- ج - المقياس الفتري
- د - المقياس الاسمي

٣٦. الرُّبِيع الأعلى هو:

- أ - القيمة التي يكون قبلها 1% من المشاهدات و 99% أكبر منها
- ب - القيمة التي يكون قبلها 25% من المشاهدات و 75% بعدها
- ج - القيمة التي يكون قبلها 75% من المشاهدات و 25% بعدها
- د - القيمة التي يكون قبلها 10% من المشاهدات و 90% أكبر منها

يتحدث عن "الرُّبِيع" يعني ربع، والرُّبِيع يتكون من ٢٥%.

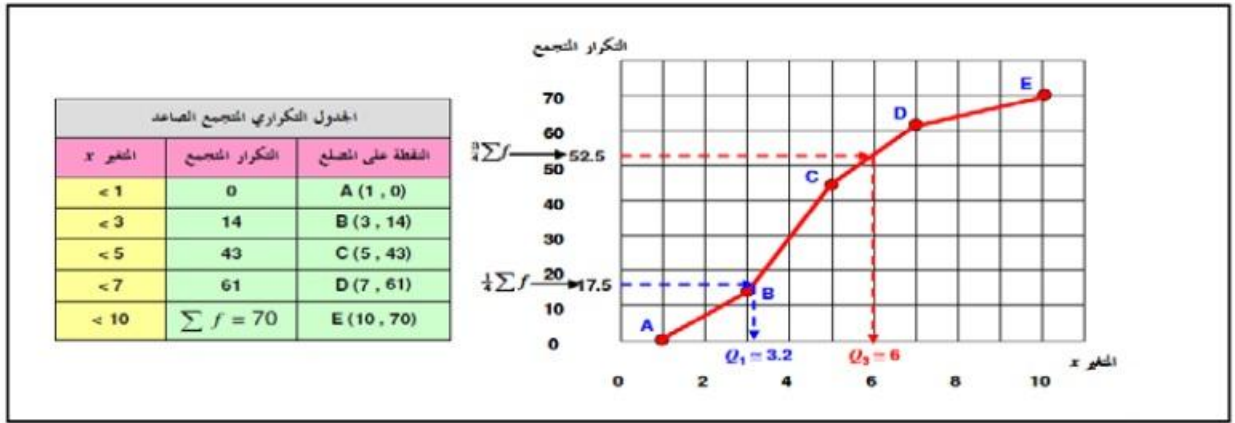
وبما أنه طلب الرُّبِيع الأعلى، الإجابة الصحيحة، كما هي موضحة

٣٧. أي قيمة من هذه القيم تعطينا ارتباط أقوى :

- أ - 0,82+ شرح في المحاضرة الأولى من المصفى أن أقوى ارتباط يكون ١ موجب، وتصبح العلاقة تامة. وحسب القرب أو البعد من الرقم ١ تكون قوة العلاقة. والجواب كما هو موضح.
- ب - 0,95+
- ج - 0,91-
- د - 0,96-

١٨. مجموعة من الدرجات متوسطها الحسابي (20) والانحراف المعياري لها (15)، فإذا قمنا بإضافة خمس درجات لكل درجة في المجموعة، فإن قيمة الانحراف المعياري الجديد سوف تكون:

- أ - 15 ما دام أنه أضاف، يعني جمع، يبقى الانحراف كما هو، لأن الانحراف المعياري لا يتأثر بعملية الجمع والطرح، وإنما بالقسمة والضرب فقط. (والله دافور يا ولدا!)
- ب - 10
- ج - 25
- د - 20



ويكون الانحراف الربيعي هو نصف المدى الربيعي ، أي 1.4 . أما معامل الاختلاف الربيعي فيتحدد من :

$$\frac{Q_3 - Q_1}{Q_3 + Q_1} \times 100 = \frac{6 - 3.2}{6 + 3.2} \times 100 = \frac{2.8}{9.2} \times 100 \cong 30.4\%$$

ويتحدد معامل الالتواء الربيعي من [تذكر أن $Q_2 = M$] :

قوانين مهمة تتفع في استخراج نتائج بعض أسئلة الامتحان:

تكرار نسبي: تكرار القيمة ÷ مجموع التكرارات

الزاوية المركزية لقيمة ما: تكرار القيمة ÷ مجموع التكرارات × 360

طول الفئة: حدها الأدنى - حدها الأعلى

مركز الفئة: الحد الأعلى + الحد الأدنى ÷ 2

قيمة الرقم القياسي (البسيط): مجموع سنة المقارنة ÷ مجموع سنة الأساس × 100

المدى الربيعي: ربع الأول - ربع ثالث

المدى المئني: 10%-90%

الانحراف الربيعي = نصف المدى الربيعي: $Q3 - Q1 \div 2$

معامل التفرطح المئني: نصف المدى الربيعي ÷ المدى المئني.

الانحراف المعياري والانحراف عن المتوسط لا يتأثر بعمليتي الطرح والجمع.

الدرجة المعيارية للطالب في مادة ما: الوسط الحسابي للدرجات - الدرجة المتحصلة ÷ الانحراف المعياري.

معامل الاختلاف للإيجار وغيره: الانحراف المعياري ÷ الوسط الحسابي × 100

معامل الالتواء: المنوال - الوسط الحسابي ÷ الانحراف المعياري

الانحراف المتوسط أو متوسط الانحرافات المطلقة = 83% تقريباً من الانحراف المعياري

وبهذا يكون اكتمل مصفانا الأغر للإحصاء، بما يكفي ويزيد للحصول على درجة مثالية بإذن الله.

الحاسبة المعتمدة في هذا المصفي: كاسيو fx 991es plus