


محاضره ٣

المحاضرة (٣)

المتغيرات العشوائية




المتغير العشوائي Random Variable:

المتغير العشوائي هو الذي يأخذ قيما حقيقية مختلفة تعبر عن نتائج فراغ العينة، ومن ثم مجال هذا المتغير، يشمل كل القيم الممكنة له، ويكون لكل قيمة من القيم التي يأخذها المتغير احتمال معين .

وينقسم المتغير العشوائي إلى قسمين هما:

- المتغيرات العشوائية المنفصلة Discrete Random Variables
- المتغيرات العشوائية المتصلة (المستمرة) Continuous Random Variables



محاضره ٣

أولاً : المتغيرات العشوائية المنقطعة (المنفصلة):

المتغير العشوائي المنفصل هو الذي يأخذ قيم بينية، ومتباعدة، ويرمز للمتغير العشوائي بشكل عام بحرف من الحروف الأبجدية الكبيرة... X, Y, Z, ... ويرمز للقيم التي يأخذها المتغير بالحروف الأبجدية الصغيرة، X, y, Z, ...

فالمتغير العشوائي المنفصل هو كل قيمة من قيم المتغير العشوائي، ومن أمثلة هذه المتغيرات:-

- عدد الأولاد الذكور في الأسرة المكونة من أربع أولاد X، $X: \{x=0,1,2,3,4\}$.
- عدد العملاء الذين يتم إنهاء خدمتهم البنكية كل 10 دقائق Y، $Y: \{y=0,1,2,3,\dots\}$.
- عدد مرات استخدام نوع معين من الأسمدة خلال الدورة الزراعية.
- عدد الوحدات التالفة من إنتاج مزرعة معينة تنتج 200 وحدة كل موسم.
- عدد الوحدات التي تستهلكها الأسرة من سبعة معبئة خلال الشهر.



التوزيع الاحتمالي للمتغير العشوائي المنفصل:

التوزيع الاحتمالي، هو الذي يبين احتمالات حدوث القيم التي يمكن يأخذها المتغير، والتي ترتبط باحتمالات النتائج الممكنة في فراغ العينة، وبمعنى آخر هو التكرار النسبي للقيم التي يمكن أن يأخذها المتغير.

- فإذا كان المتغير العشوائي المنفصل X يأخذ القيم، $X: \{x = x_1, x_2, \dots, x_n\}$ ،
- وكان $P(X = x_i) = f(x_i)$ هو احتمال أن المتغير العشوائي يأخذ القيمة x_i ،
- فإنه، يمكن تكوين جدول التوزيع الاحتمالي للمتغير العشوائي X ، وهو جدول مكون من عمودين، الأول به القيم الممكنة للمتغير $X: \{x = x_1, x_2, \dots, x_n\}$ ،
- والثاني به القيم الاحتمالية لهذا المتغير ، أي أن: $P(X = x_i) = f(x_i)$



محاضره ٣

جدول التوزيع الاحتمالي للمتغير العشوائي المنفصل

x_i	$f(x_i)$
x_1	$f(x_1)$
x_2	$f(x_2)$
\vdots	\vdots
x_n	$f(x_n)$
Σ	1

وتسمى الدالة $f(x_i)$ بدالة الاحتمال



مثال:

إذا كانت نسبة مبيعات أحد المراكز التجارية من التفاح الأمريكي 0.60، بينما يكون نسبة مبيعاته من الأنواع الأخرى للتفاح 0.40، اشترى أحد العملاء عبوتين .

والمطلوب:

- كون فراغ العينة.
- إذا عرف المتغير العشوائي بأنه عدد العبوات المشتراة من التفاح الأمريكي، فأوجد الآتي:
- التوزيع الاحتمالي للمتغير العشوائي .
- ارسم دالة الاحتمال لهذا المتغير.



محاضره ٣

الحل:

تكوين فراغ العينة:
التجربة هنا هو شراء وحدتين من عبوات التفاح، ومن ثم فراغ العينة يتكون من أربع نتائج، هي:

		عدد العبوات	
		X	$P(X=x)=f(x)$
	أمريكي	(أمريكي، أمريكي)	0.36
	أخر	(أخر، أمريكي)	0.24
	أمريكي	(أمريكي، آخر)	0.24
	أخر	(أخر، آخر)	0.16



تابع الحل:-

التوزيع الاحتمالي لعدد العبوات المشتراة من التفاح الأمريكي من المعلوم أن العميل اشترى عبوتين، وأن المتغير العشوائي هو عدد العبوات المشتراة من التفاح الأمريكي، لذا تكون القيم الممكنة للمتغير العشوائي هي:

$x=0$ إذا كانت العبوتين من النوع الآخر، أي إذا كانت نتيجة التجربة (آخر، آخر)،
 $x=1$ إذا كان أحد العبوتين من النوع الأمريكي، أي إذا كانت نتيجة التجربة (آخر، أمريكي) أو (أمريكي، آخر)،
 $x=2$ إذا كان العبوتين من النوع الأمريكي، أي إذا كانت نتيجة التجربة (أمريكي، أمريكي)


ومن ثم يأخذ المتغير القيم: $X:\{x=0,1,2\}$ ، ويرتبط احتمالات هذه القيم باحتمالات نتائج التجربة المناظرة لها كما هو مبين أعلاه، ومن ثم يكون التوزيع الاحتمالي للمتغير العشوائي X هو:




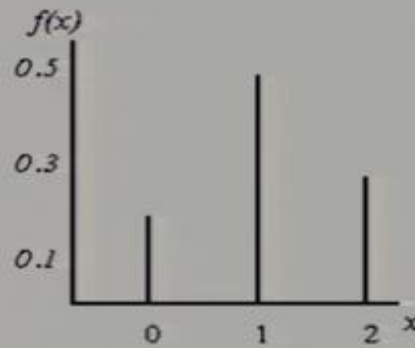
محاضره ٣

جدول التوزيع الاحتمالي لعدد العبوات المشتراة من التفاح الأمريكي

x_i	$f(x_i)$
0	$0.4 \times 0.4 = 0.16$
1	$0.4 \times 0.6 + 0.6 \times 0.4 = 0.48$
2	$0.6 \times 0.6 = 0.36$
Σ	1



رسم دالة الاحتمال $f(x)$:



محاضره ٣


الوسط الحسابي والتباين للمتغير العشوائي المنفصل:

يرمز للوسط الحسابي للمتغير العشوائي بالرمز (ميو)، ويحسب بتطبيق المعادلة التالية:

$$\mu = \sum x_i f(x_i)$$

وأما التباين ويرمز له بالرمز σ^2 (سيجما²)، فيحسب بتطبيق المعادلة التالية:


$$\begin{aligned}\sigma^2 &= \sum (x_i - \mu)^2 f(x_i) \\ &= \sum x_i^2 f(x_i) - \mu^2\end{aligned}$$



مثال:

في المثال السابق احسب ما يلي:

- الوسط الحسابي لعدد العبوات المشتراة من النوع الأمريكي .
- احسب الانحراف المعياري لعدد العبوات المشتراة من النوع الأمريكي .
- أوجد معامل الاختلاف النسبي .



محاضره ٣

الحل:

الوسط الحسابي لعدد العيوات من النوع الأمريكي:

لحساب الوسط الحسابي والانحراف المعياري يتم استخدام المعادلة الخاصة بذلك وهذا يتطلب تكوين جدول يشمل المجاميع التالية: $\sum x_i f(x_i)$ ، $\sum x_i^2 f(x_i)$ وذلك كما يلي:

x_i	$f(x_i)$	$x_i f(x_i)$	$x_i^2 f(x_i)$
0	0.16	0	0
1	0.48	0.48	0.48
2	0.36	0.72	1.44
Σ	1	1.20	1.92



تابع الحل:

إذا الوسط الحسابي هو: $\mu = \sum x_i f(x_i) = 1.20$

ولحساب الانحراف المعياري يجب أولاً حساب التباين وهو:

$$\sigma^2 = \sum x_i^2 f(x_i) - \mu^2 = 1.92 - (1.20)^2 = 0.48$$

إذا الانحراف المعياري قيمته هي:

$$\sigma = \sqrt{\sigma^2} = \sqrt{0.48} = 0.693$$

معامل الاختلاف النسبي هو:

$$C.V = \frac{\sigma}{\mu} \cdot 100 = \frac{0.693}{1.2} \cdot 100 = 57.7$$



محاضره ٣

ثانياً : المتغيرات العشوائية المستمرة Continuous Random Variables

المتغير العشوائي المستمر هو الذي يأخذ قيما متصلة، ويأخذ عدد لانتهائي من القيم الممكنة له داخل مجاله، فإذا كان X متغير عشوائي مستمر، ويقع في المدى (a,b) ، أي أن: $\{X = x : a < x < b\}$ ، فإن للمتغير X عدد لانتهائي من القيم تقع بين الحدين الأدنى والأعلى (a,b) ، ومن الأمثلة على المتغيرات الكمية المستمرة ما يلي:

- كمية الألبان التي تنتجها البقرة في اليوم بالنتر: $\{X = x : 10 < x < 40\}$
- المساحة المزروعة بالأعلاف في المملكة بالآلاف هكتار $\{X = x : 1000 < x < 15000\}$
- فترة صلاحية حفظ الدجاج المبرد بالأيام، $\{X = x : 1 < x < 5\}$
- وزن الجسم بالكيلوجرام للأعمار من $(30-40)$ ، $\{X = x : 55 < x < 80\}$
- وهكذا الأمثلة على المتغير الكمي المستمر كثيرة.




تابع التوزيع الاحتمالي للمتغير المستمر :-

الوسط الحسابي والتباين للمتغير العشوائي المستمر:

إذا كانت $f(x)$ هي دالة كثافة الاحتمال للمتغير العشوائي X ، $a < x < b$ ، فإن معادلة الوسط والتباين يمكن كتابتها كما يلي:

$$\mu = E(x) = \int_a^b x f(x) dx$$
$$\sigma^2 = E(x^2) - \mu^2, E(x^2) = \int_a^b x^2 f(x) dx$$



محاضره ٣

التوزيعات الاحتمالية للمتغيرات المنفصلة:-

أ- توزيع ذي الحدين:

يستخدم هذا التوزيع في الحالات التي يكون للظاهرة محل الدراسة نتيجتان فقط متنافيتان، النتيجة محل الاهتمام وتسمى بحالة النجاح، والأخرى تسمى بحالة الفشل، **ومن أمثلة ذلك:**

- عند إعطاء مريض نوع معين من الأدوية، لها نتيجتان:
(استجابة للدواء، أو عدم استجابة)
- عند فحص عبوة بداخلها نوع معين من الفاكهة، لها نتيجتان
(الوحدة إما أن تكون سليمة، أو تكون معيبة)
- عند إلقاء قطعة عملة، لها نتيجتان
(ظهور الوجه الذي يحمل الصورة، أو الوجه الذي يحمل الكتابة)
- نتيجة الطالب في الاختبار
(نجاح، رسوب)
- استخدام المزارع لبرنامج معين في الزراعة
(يستخدم، أو لا يستخدم)



شكل التوزيع الاحتمالي ثنائي الحدين:

إذا كررت محاولة من المرات، بحيث أن كل محاولة لها نتيجتان فقط متنافيتان هما:

- النتيجة محل الاهتمام " حالة نجاح " وتتم باحتمال ثابت في كل محاولة هو p
- النتيجة الأخرى " حالة فشل " وتتم باحتمال ثابت أيضا هو $q = 1 - p$

وبافتراض أن هذه المحاولات مستقلة، بمعنى أن نتيجة كل محاولة ليس لها علاقة بنتيجة المحاولة الأخرى، وإذا كان المتغير العشوائي X يعبر عن عدد حالات النجاح " عدد النتائج محل الاهتمام " في n محاولة، فإن مدي المتغير العشوائي X والذي يعبر عن عدد حالات النجاح هو: $X : \{x = 0, 1, 2, \dots, n\}$



محاضره ٣

إذا فتوزيع ذو الحدين هو أحد التوزيعات الاحتمالية المنفصلة، ويستخدم لإيجاد احتمال وقوع حدث معين (نجاح) عدداً من المرات مقداره X من بين n من المحاولات لنفس التجربة (ونرمز لهذا الاحتمال بالرمز $P(X)$ وذلك عندما تتحقق الشروط التالية :

- هناك ناتجان ممكنان فقط ومتنافيان لكل محاولة .
- المحاولات وعددها n مستقلة عن بعضها البعض .
- احتمال وقوع الحدث المعين في كل محاولة (النجاح) P ثابت ولا يتغير من محاولة لأخرى .



فبالتالي يمكن حساب الاحتمال من خلال المعادلة التالية :

$$P(X) = \frac{n!}{X!(n-X)!} P^X (1-P)^{n-X}$$

حيث $n!$ (وتقرأ " مضروب n ") $= 3.2.1 \dots (n-2). (n-1). n. 0! = 1$.

ويكون متوسط توزيع ذي الحدين $\mu = np$

وانحراف المعياري $\sigma = \sqrt{np(1-p)}$



محاضره ٣

تحديد شكل التوزيع:

- يتحدد شكل التوزيع ثنائي الحدين وفقاً لقيمة احتمال النجاح كما يلي:
- إذا كان $p = 0.5$ فإن التوزيع الاحتمالي ثنائي الحدين يكون **متمثل**.
 - إذا كان $p < 0.5$ فإن التوزيع الاحتمالي ثنائي الحدين يكون **موجب الالتواء**.
 - إذا كان $p > 0.5$ فإن التوزيع الاحتمالي ثنائي الحدين يكون **سالب الالتواء**.



مثال:

عدد رمى عملة متوازنة مرتين فإن النواتج الممكنة هي **TT, TH, HT, HH** وعلى ذلك فإن:

$$P(0H) = \frac{1}{4} \quad P(1H) = \frac{1}{2} \quad \text{and} \quad P(2H) = \frac{1}{4}$$

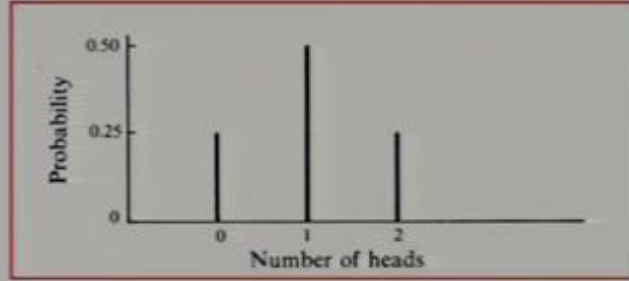
وهكذا فإن عدد الصور متغير عشوائي منفصل، وتمثل مجموعة كل النواتج الممكنة مع احتمالاتها المناظرة توزيعاً احتمالياً منفصلاً، أنظر الجدول التالي:

الاحتمال	إمكانية حدوثها	عدد الصور
0.25	TT	0
0.50	TH, HT	1
0.25	HH	2



محاضره ٣

ويمكن كذلك تمثيل ذلك من خلال الرسم التالي:



مثال :-

إذا كان احتمال نجاح الطالب في مقرر التحليل الإحصائي ٨٠% تم

إختيار ٤ طلاب المطلوب :-

١. كون جدول توزيع ثنائي الحدين .
 ٢. أوجد احتمال نجاح ٣ طلاب .
 ٣. أوجد احتمال رسوب ٣ طلاب .
 ٤. أوجد احتمال نجاح طالبين على الأقل .
 ٥. القيمة المتوقعة (الوسط الحسابي) .
- الانحراف المعياري .



محاضره ٣

الحل :-

$$P = 0.80 , (1-P = 0.20) , n=4$$

١- جدول توزيع ثنائي الحدين :-

عدد الطلاب التاجحين	عدد الطلاب الراسبين	الاحتمال	النتيج
0	4	$= 4C0 \times (0.80)^0 \times (0.20)^4$	0.0016
1	3	$= 4C1 \times (0.80)^1 \times (0.20)^3$	0.0256
2	2	$= 4C2 \times (0.80)^2 \times (0.20)^2$	0.1536
3	1	$= 4C3 \times (0.80)^3 \times (0.20)^1$	0.4096
4	0	$= 4C4 \times (0.80)^4 \times (0.20)^0$	0.4096



تابع الحل :-

٢- أوجد احتمال نجاح ٣ طلاب :-

$$P(3) = 0.4096$$

٣- أوجد احتمال رسوب ٣ طلاب :-

$$P(1) = 0.0256$$

٤- أوجد احتمال نجاح طالبين على الأقل :-

$$P(2)+P(3)+P(4) = 0.9728$$

٥- القيمة المتوقعة (الوسط الحسابي) =

$$\mu = n \times p = 4 \times 0.80 = 3.2$$

٦- الانحراف المعياري =

$$\sigma = \sqrt{n \times p \times (1 - p)} = \sqrt{4 \times 0.8 \times 0.2} = 0.8$$




محاضره ٣

مثال :-

إذا كان احتمال حياة شخص عند العمر ٣٠ هو ٦٠% تم اختيار ٥ أشخاص عند تمام العمر ٣٠ المطلوب :-

- ١ . كون جدول توزيع ثنائي الحدين .
 - ٢ . أوجد احتمال حياة ٤ أشخاص .
 - ٣ . أوجد احتمال وفاة ٣ أشخاص .
 - ٤ . أوجد احتمال حياة ٣ أشخاص على الأقل .
 - ٥ . القيمة المتوقعة (الوسط الحسابي) .
- الانحراف المعياري .



الحل :-

$$P = 0.60 , (1-P = 0.40) , n=5$$

١- جدول توزيع ثنائي الحدين :-

عدد الطلاب الناجحين	عدد الطلاب الراسبين	الاحتمال	النتج
0	5	$= 5C0 \times (0.60)^0 \times (0.40)^5$	0.01024
1	4	$= 5C1 \times (0.60)^1 \times (0.40)^4$	0.0768
2	3	$= 5C2 \times (0.60)^2 \times (0.40)^3$	0.2304
3	2	$= 5C3 \times (0.60)^3 \times (0.40)^2$	0.3456
4	1	$= 5C4 \times (0.60)^4 \times (0.40)^1$	0.2592
5	0	$= 5C4 \times (0.60)^5 \times (0.40)^0$	0.07776



محاضره ٣

تابع الحل :-

٢- أوجد احتمال حياة ٤ أشخاص :-

$$P(4) = 0.2592$$

٣- أوجد احتمال وفاة ٣ أشخاص :-

$$P(2) = 0.2304$$

٤- أوجد احتمال حياة ٣ أشخاص على الأقل :-

$$P = (p(3) + p(4) + p(5)) = 0.07776 + 0.2592 + 0.3456 = 0.68256$$

٥- القيمة المتوقعة (الوسط الحسابي) :-

$$\mu = n \times p = 5 \times 0.60 = 3$$

٦- الانحراف المعياري =

$$\sigma = \sqrt{n \times p \times (1 - p)} = \sqrt{5 \times 0.6 \times 0.4} = 1.095445$$

