

○ تعريف المجموعة :

$\{ \}$	←.....	هي عدد من العناصر بينها صفات مشتركة تكتب بين حاصرتين	✓
A , B , C , \dots	←.....	تسمى بأحد الحروف الهجائية الكبيرة	✓
$A = \{ 1,3,5,7,9,\dots \}$	←.....	و من الأمثلة على المجموعات	✓
a , b , c , \dots	←.....	يرمز للعناصر بواسطة حروف صغير مثل :-	✓
\in	←.....	يستخدم الرمز \in "ينتمي إلى" لبيان عناصر المجموعة	✓
$a \in A$	←.....	أن a ينتمي إلى المجموعة A و يكتب بالصورة	✓
$a \notin A$	←.....	أن العنصر a لا ينتمي إلى المجموعة A و يكتب على الصورة	✓

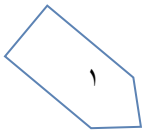
○ طريقة كتابة المجموعات :

$\left(\begin{array}{c} \text{مجموعة} \\ \text{مفتوحة} \end{array} \right)$	$A = \{ 1,5,10,15 \}$	$\leftarrow \dots \dots \dots$	<p>✓ <u>طريقة العد (سرد العناصر):</u></p> <p>يتم فيها وضع جميع عناصر المجموعة ، أو جزء منها ، بين قوسي المجموعة { } بحيث يفصل بين كل عنصرين بعلامة فاصلة " , " :-</p> <p>(وهي مجموعة منتظمة تسير بنفس الشكل ١ ٢ ٣ ٤ وهكذا)</p> <p>بنظام فارق معين بين الأرقام - مثل مجموعة A الفرق بين الرقم والذي يليه ٥ أرقام ..</p> <p>(و هي مجموعة مغلقة و لكن المساحة لا تكفي لكتابة من ١ إلى ١٠٠ و سوف نستخدم النقاط للتعبير عن بعض العناصر)</p>
	$B = \{ a , b , c , d \}$ $C = \{ 1 , 2 , 3 , \dots \}$		
$\left(\begin{array}{c} \text{مجموعة} \\ \text{مغلقة} \end{array} \right)$	$A = \{ 1 , 2 , 3 , \dots , 100 \}$	$\leftarrow \dots \dots \dots$	<p>✓ <u>طريقة القاعدة (الصفة المميزة):</u></p> <p>و يتم فيها وصف المجموعة بذكر صفة يمكن بواسطتها تحديد عناصرها ، أي الصفة التي تحدد ارتباط عناصر المجموعة ، فمثلاً :</p>

$A = \{ x : \text{عدد زوجي} \}$ $B = \{ x : \text{طالب بمقرر الاحصاء في الادارة} \}$ $C = \{ x : \text{طالب بنظام التعليم عن بعد} \}$ $D = \{ x : \text{عدد صحيح } -3 \leq x \leq 1 \}$ $X = \{ x : \text{عدد صحيح } 0 \leq x \leq 12 \}$	$\leftarrow \dots \dots \dots$	<p>✓ <u>طريقة القاعدة (الصفة المميزة):</u></p> <p>و يتم فيها وصف المجموعة بذكر صفة يمكن بواسطتها تحديد عناصرها ، أي الصفة التي تحدد ارتباط عناصر المجموعة ، فمثلاً :</p>
---	--------------------------------	--

○ أنواع المجموعات :

$A = \{ x : \text{عدد طبيعي زوجي و فردي} \}$ $B = \{ x : \text{دولة عربية تقع في أمريكا الشمالية} \}$	$\leftarrow \dots \dots \dots$	<p>✓ <u>المجموعة الخالية :</u></p> <p>هي المجموعة التي لا تحتوي أي عنصر ويرمز لها بالرمز \emptyset (فاي) أو { } . أمثلة :-</p>
$A = \{ 2 , 4 , 6 , 8 \}$ $B = \{ 1 , 2 , 3 , \dots , 100 \}$ $C = \{ x , y , s , t u \}$	$\leftarrow \dots \dots \dots$	<p>✓ <u>المجموعة المنتهية :</u></p> <p>المجموعة التي تكون عناصرها محدودة . المجموعات التالية ، مجموعات منتهية ...</p>
$A = \{ x : \text{عدد طبيعي فردي} \}$ $B = \{ 10 , 20 , 30 , \dots \}$	$\leftarrow \dots \dots \dots$	<p>✓ <u>المجموعة الغير منتهية:</u></p> <p>المجموعة التي تكون عناصرها غير محدودة (وهي المجموعة التي لا يمكن تحديد عناصرها بشكل دقيق) .</p>



✓ المجموعة الكلية :

هي المجموعة التي تدرس جميع المجموعات باعتبارها مجموعات جزئية و يرمز لها بالرمز U .

إذا كانت $A = \{2, 4, 6\}$ و $B = \{1, 2, 3, 4, 5, 6, 7, 8\}$

فإن $A \subset B$.

٢- المجموعة المكونة من جميع طلاب التعليم الالكتروني بجامعة الملك فيصل مجموعة جزئية من مجموعة طلاب هذه الجامعة .

✓ المجموعة الجزئية :

تكون المجموعة A جزئية من المجموعة B إذا كانت جميع عناصر A موجودة في B و تكتب على الصورة :- $A \subset B$

أي المجموعات التالية متكافئة وأيها متساوية ؟

1- $A = \{1, 5, 7, 9\}$, $B = \{9, 7, 5, 1\}$

2- $A = \{2, 5, 9\}$, $B = \{a, s, d\}$

الحل:

$$1 - A = B$$

$$2 - A \equiv B$$

✓ تساوي المجموعات :

تكون المجموعتان A و B متساويتان إذا كانت :-

$$A \subseteq B , B \subseteq A \gggggggg A = B$$

إذا كانت A جزئية من B وتساويها وكذلك B جزئية من A وتساويها .. فتكون A تساوي B

أما المجموعتان المتكافئتان فهما المجموعتان اللتان تتساويان في عدد عناصرها وتكتب على الصورة $A \equiv B$

○ العمليات على المجموعات :

إذا كان $A = \{1, 2, 3, 7\}$ و $B = \{2, 4, 6, 8\}$

أوجد $(A \cup B)$ ؟

الحل: $(A \cup B) = \{1, 2, 3, 4, 6, 7, 8\}$

✓ الإتحاد :

اتحاد المجموعتين A و B هو مجموعة كل العناصر الموجودة في A أو في B أو في كليهما .

إذا كان $A = \{-1, 0, 1, 2, 3\}$ و $B = \{0, 2, 4, 6\}$

أوجد $A \cap B$ ؟

الحل: $(A \cap B) = \{0, 2\}$

✓ التقاطع :

تقاطع المجموعتين A و B هو مجموعة كل العناصر الموجودة في A وفي B معاً أي العناصر المشتركة بين A و B .

إذا كان $U = \{1, 2, 3, 4, 5, 6, 7, 8, 9, 10\}$ و $A = \{2, 4, 6, 8, 10\}$

أوجد المجموعة المكملية \bar{A}

الحل: $\bar{A} = \{1, 3, 5, 7, 9\}$

✓ المكملية أو المتممة :

يقال أن \bar{A} مكملية المجموعة A إذا كانت تحتوي على جميع عناصر المجموعة الكلية U باستثناء عناصر A .

إذا كانت $A = \{1, 2, 3, x, y\}$ و $B = \{3, 4, 5, x, w\}$

أوجد $A - B$

الحل: $A - B = \{1, 2, y\}$

✓ الفرق :

إذا كانت مجموعتان A ، B فإن $A - B$ يسمى بالفرق وهو مجموعة كل العناصر الموجودة في A وليست في B .

وتقرأ من اليسار إلى اليمين A ناقص B وليس العكس..

1. $A \cup B$

2. $A \cap B$

3. $A - B$

4. \bar{A}

5. \bar{B}

6. $\bar{A} \cup \bar{B}$

7. $\bar{A} \cap \bar{B}$

8. $\bar{A} \cup A$

9. $\bar{A} \cap A$

أوجد :

مثال :

$A = \{1, 2, 3, x, y\}$

إذا كانت :

$B = \{3, 4, 5, x, w\}$

و

$U = \{1, 2, 3, 4, 5, x, y, w, z\}$: والمجموعة الكلية :

1. $A \cup B = \{1, 2, 3, 4, 5, x, y, w\}$

2. $A \cap B = \{3, x\}$

3. $A - B = \{4, 5, w\}$

4. $\bar{A} = \{4, 5, w, z\}$

5. $\bar{B} = \{1, 2, w, z\}$

6. $\bar{A} \cup \bar{B} = \{1, 2, 4, 5, y, w, z\}$

7. $\bar{A} \cap \bar{B} = \{z\}$

8. $\bar{A} \cup A = U$

9. $\bar{A} \cap A = \{\}$

الحل ...

وممكن أن تكون الإجابة فاي \emptyset المجموعة الخالية

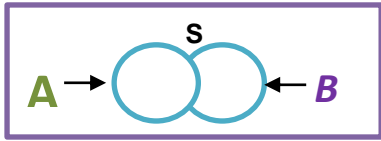


أشكال فن VIN Figures

يمكن تمثيل المجموعات والعمليات المختلفة عليها من خلال استعمال اشكال هندسية تسمى أشكال فن وذلك وفق ما يلي:



١. المجموعة الكلية: تمثل المجموعات الكلية بمستطيل ويرمز لها بالرمز S أو U



٢. إتحاد الحوادث Events Union: لأي حادثتين A و B فإن الحادثة

التي تتضمن كافة العناصر التي تنتمي إلى A أو B أو إلى كليهما معا يطلق عليها إتحاد حادثتين ويرمز لها (A ∪ B) أو (A أو B) والشكل التالي يوضح ذلك:

شكل فن لتمثيل إتحاد حادثتين A و B

$$(A \cup B)$$

وبشكل عام لأي n حادثة $A_1, A_2, A_3, \dots, A_n$ فإن إتحاد هذه الحوادث هو: $\bigcup_{i=1}^n A_i = A_1 \cup A_2 \cup A_3 \dots \cup A_n$

ويمكن القول أن $\bigcup_{i=1}^n A_i$ هو حدث يقع إذا وقع أحد هذه الحوادث A_i على الأقل وهو ما يطلق عليه جمع الأحداث

فالإتحاد U يعني اتحاد المجموعتين A و B وهو مجموع

العناصر الموجودة في كلتا المجموعتين دون تكرار العناصر.

مثال: ✖

$$A = \{1, 2, -6, -7\}$$

$$B = \{-6, -7, -11\}$$

$$(A \cup B) = \{1, 2, -6, -7, -11\}$$

✓ خواص العمليات الجبرية لإتحاد الحوادث:

إذا كانت A و B و C ثلاث حوادث فإن: $A \cup (B \cap C) = (A \cup B) \cap (A \cup C)$

ويعني ذلك توزيع الإتحاد على التقاطع.

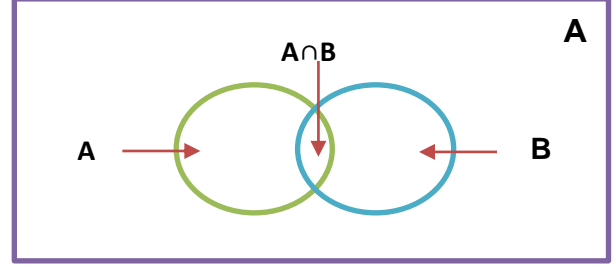
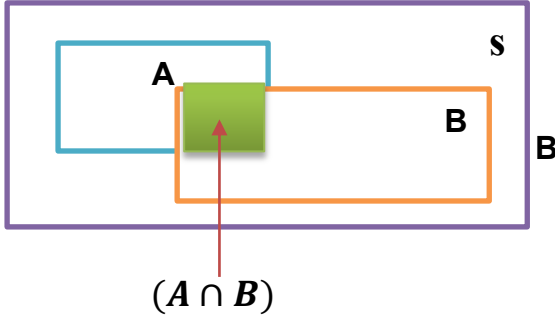
- وكذلك هناك خاصية التبديل والتي تعني أن: $(A \cup B) = (B \cup A)$

شرح: أن كان عندنا $A \cup (B \cap C)$

فبم تقسيم توزيع خارج القوس مع داخل القوس بإشارته يتم إيجاد اتحاد A , B و اتحاد A , C ثم إيجاد التقاطع بين المجموعتين التي نتجت عن الإتحاد $(A \cup B) \cap (A \cup C)$

٣. تقاطع الحوادث Events Intersection :

لأي حادثتين A و B فإن الحادثة التي تتضمن كافة نقاط العينة التي تنتمي إلى A و B أو إلى كليهما معا في نفس الوقت يطلق عليها تقاطع حادثتين ويرمز لها $(A \cap B)$ أو $(B \cap A)$ وباستخدام أشكال فن يكون الجزء المحدد بـ A and B هو الذي يمثل تقاطع الحادثتين :



شكل فن لتمثيل تقاطع حادثتين A و B

وبشكل عام لأي n حادثة $A_1, A_2, A_3, \dots, A_n$ فإن تقاطع هذه الحوادث هو : $\bigcap_{i=1}^n A_i = A_1 \cap A_2 \cap A_3 \dots \cap A_n$

ويمكن القول أن $\bigcap_{i=1}^n A_i$ هو حدث يقع إذا وفقط وقعت كل الحوادث A_i على الأقل وهو ما يطلق عليه ضرب الحوادث

$$A = \{1, 2, -6, -7\}$$

مثال : \square

$$B = \{-6, -7, -11\}$$

$$(A \cap B) = \{-6, -7\}$$

فالتقاطع \cap إذا هو مجموعة العناصر المشتركة بين مجموعتين أو أكثر.

شرح: أن كان عندنا $A \cap (B \cup C)$

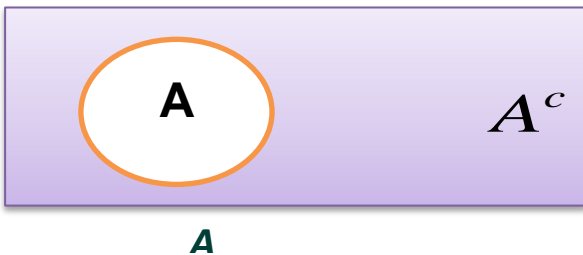
✓ خواص العمليات الجبرية لإتحاد الحوادث:

فيتم توزيع خارج القوس مع داخل القوس بإشارته يتم إيجاد تقاطع A , B وتقاطع A , C ثم إيجاد الإتحاد بين المجموعتين التي نتجت عن التقاطع $(A \cap B) \cup (A \cap C)$

إذا كانت A و B و C ثلاث حوادث فإن : $A \cap (B \cup C) = (A \cap B) \cup (A \cap C)$

ويعني ذلك توزيع التقاطع على الإتحاد.

- وكذلك هناك خاصية التبادل والتي تعني أن : $(A \cap B) = (B \cap A)$



شكل فن لتمثيل مكملة الحادثة A

٤- الحادثة المتممة Complementary Event :

لأي حادثة A فإن متممتها هي الحادثة التي تتضمن كافة العناصر التي لا تنتمي إلى A ويرمز لها بالرمز A^c أو \bar{A} وهو حدث يتألف من جميع عناصر Ω غير المنتمية إلى A وباستخدام أشكال فن فإن الجزء المظلل يمثل الحادثة المتممة:

$$S = \{1, 2, 3, 4, 5, 6, 7, 8, 9, 10, 11, 12, 13, 14, 15, 16, 17, 18, 19, 20\}$$

$$A = \{1, 3, 5, 7, 8, 9, 10, 11, 12, 13, 14, 15, 16, 17, 18, 19\}$$

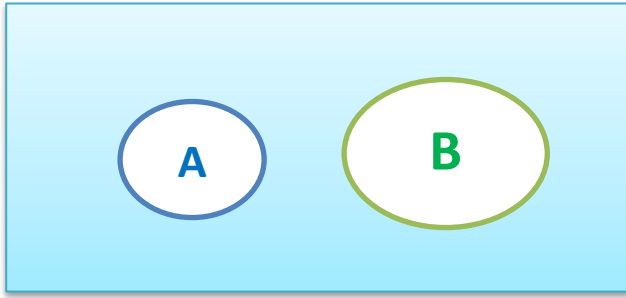
$$B = \{1, 2, 3, 6, 8, 11, 12, 14, 16\}$$

$$\bar{A} = \{2, 4, 6, 20\}$$

$$\bar{B} = \{4, 5, 7, 9, 10, 13, 15, 17, 18, 19, 20\}$$

٥- الحوادث المتنافية Mutually Exclusive Events :

الحدثان A و B متنافيتان أو منفصلتان إذا كان تقاطعهما خاليا أي أن $A \cap B = \phi$ ويمكن القول أيضا أن $A \cap A^c = \phi$ ، وباستخدام أشكالٍ ففإن الحدثان المنفصلتان يتمثلان بالشكل التالي :



$$A \cap B = \phi$$

$$A \cap A^c = \phi$$

شكل ففإن لتمثيل حدثتان متنافيتان A و B

○ بعض العلاقات المهمة : كل A^c هي \bar{A} و S هي U و \bar{S} هي \bar{U}

$$A \cup A^c = S$$

$$A \cap A^c = \phi$$

$$\bar{\bar{S}} = \phi$$

$$\bar{\phi} = S$$

$$A \cup S = S$$

$$A \cap S = A$$

$$A \cap \phi = \phi$$

$$\overline{B \cup A} = \bar{B} \cap \bar{A}$$

$$\overline{A \cup B} = \bar{A} \cap \bar{B}$$

إذا كانت $A \subset B$ فإن:

$$A = A \cap B$$

$$B = A \cup B$$

$$\bar{B} \subset \bar{A}$$

**** أمثلة وتمارين ******⊗ التمرين الأول :**

يراد شراء ثلاثة أنواع من اللحوم من جزار معين، فإذا رمزنا للحم الدجاج بـ **A** ولحم الضأن بـ **B** ، ولحم العجل بـ **C** فإن :

$$\begin{aligned} \cap &= \text{و} \\ U &= \text{أو} \end{aligned}$$

- توفر أنواع اللحوم الثلاثة يعني توفر لحم **A** و **B** و **C** أي بمعنى : $A \cap B \cap C$

- عدم توفر أي نوع من اللحوم يعني عدم توفر **A** و **B** و **C** أو كلها أي بمعنى : $\bar{A} \cap \bar{B} \cap \bar{C}$

- توفر نوع واحد من اللحوم على الأقل هو توفر **A** أو **B** أو **C** أو كلها أي بمعنى : $A \cup B \cup C$

- توفر نوع **A** فقط يعني : $A \cap \bar{B} \cap \bar{C}$

- توفر نوع واحد من اللحم يعني إما توفر **A** وعدم توفر النوعين الآخرين أو توفر **B** وعدم توفر النوعين الآخرين ، أو توفر **C** وعدم

توفر النوعين الآخرين أي بمعنى : $(A \cap \bar{B} \cap \bar{C}) \cup (\bar{A} \cap B \cap \bar{C}) \cup (\bar{A} \cap \bar{B} \cap C)$

⊗ التمرين الثاني :

وضح أي من هذه المجموعات هي مجموعة خالية أو مجموعة منتهية أو مجموعة غير منتهية :-

- $A = \{x : \text{عدد سالب و موجب } x\} = \emptyset$
- $B = \{3, 6, 9, 12\} = \text{مجموعة منتهية}$
- $C = \{x : \text{دولة أوروبية تقع في شبة الجزيرة العربية } x\} = \emptyset$
- $D = \{2, 4, 6, \dots, 100\} = \text{مجموعة منتهية}$
- $E = \{100, 200, 300, \dots\} = \text{مجموعة غير منتهية}$
- $F = \{w, e, r, t\} = \text{مجموعة منتهية}$

⊗ التمرين الثالث :

إذا كانت $A = \{3, 5, 7\}$ و $B = \{1, 2, 3, 4, 5, 6, 7, 8\}$ فهل يمكن القول أن $A \subset B$ ؟

الحل / نعم لانه جميع عناصر **A** موجوده في **B**

أي المجموعات التالية متكافئة وأيها متساوية ؟

$$1- A = \{5, 10, 15, 20\} \quad , \quad B = \{15, 10, 5, 20\}$$

$$2- A = \{20, 50, 70\} \quad , \quad B = \{k, d, u\}$$

$$1. A=B$$

$$2. A \equiv B$$

✗ التمرين الرابع :

إذا كانت $U = \{0, 1, 2, 3, \dots, 10\}$ وكانت $A = \{ \}$ ، $B = \{1, 2, 3, 4, 5\}$ ، $C = \{6, 7, 8, 9, 10\}$ فجد ما يلي:-

- | | |
|---------------------------|----------------------------|
| 1- $A \cup B$ | 5- $A \cap \bar{C}$ |
| 2- $A \cap C$ | 6- $A - (B \cap C)$ |
| 3- $\bar{A} \cap \bar{B}$ | 7- $(\bar{A} \cup B) - C$ |
| 4- $B \cup C$ | 8- $\overline{(B \cap C)}$ |

الحل :

- | | |
|---|---|
| 1- $A \cup B = \{1, 2, 3, 4, 5, 6, 8, 10\}$ | 7- $(\bar{A} \cup B) - C$ |
| 2- $A \cap C = \{6, 8, 10\}$ | $\bar{A} = \{0, 1, 3, 5, 7, 9\}$ |
| 3- $\bar{A} \cap \bar{B} = \overline{A \cup B} = \{0, 7, 9\}$ | $\bar{A} \cup B = \{0, 1, 2, 3, 4, 5, 7, 9\}$ |
| 4- $B \cup C = \{1, 2, 3, 4, 5, 6, 7, 8, 9, 10\}$ | $(\bar{A} \cup B) - C = \{0, 1, 2, 3, 4, 5\}$ |
| 5- $A \cap \bar{C} = A - C = \{2, 4\}$ | 8- $\overline{(B \cap C)} = \overline{(B \cup C)} = B \cup C$ |
| 6- $A - (B \cap C) = B \cap C = \emptyset$ | $B \cup C = \{1, 2, 3, 4, 5, 6, 7, 8, 9, 10\}$ |
| $A - (B \cap C) = A - (\emptyset) = A$ | |

✗ التمرين الخامس :

إذا كانت :

$$A = \{8, 10, 12, r, m\} \text{ و } B = \{4, 6, 10, o, r\}$$

أوجد المجموعة الكلية ثم أوجد :-

الحل : المجموعة الكلية : $U = \{4, 6, 8, 10, 12, r, m, o\}$

1. $A \cup B = \{4, 6, 8, 10, 12, r, m, o\}$
2. $A \cap B = \{10, r\}$
3. $B - A = \{4, 6, o\}$
4. $\bar{A} = \{4, 6, o\}$
5. $\bar{B} = \{8, 12, m\}$
6. $\bar{A} \cup \bar{B} = \{4, 6, 8, 12, o, m\}$
7. $\bar{A} \cap \bar{B} = \{ \}$

8. $\bar{A} \cup A = U$

9. $\bar{A} \cap A = \{\}$

وممكن أن تكون الإجابة فاي \emptyset المجموعة الخالية

التمرين السادس :

نفترض أن $A = \{3, 4, 5, x, y\}$ و $B = \{4, x, y, z\}$ ضع الرمز \in أو \notin في المكان الفارغ لتكون الجملة صحيحة .

1. $3 \in A$

2. $3 \notin B$

3. $x \in A$

4. $x \in B$

5. $z \notin A$

6. $1 \notin A$

7. $1 \notin B$