

المحاضرة الرابعة عشر

مراجعة شاملة

المجموعات :-

1- أي من المجموعات التالية تم كتابتها بطريقة القاعدة:

(a) $A = \{1, 2, 3, \dots, 100\}$

(b) $B = \{1, 2, 3, \dots\}$

(c) $C = \{a, b, c, f\}$

(d) $D = \{x \mid x \text{ بعد عن والتعليم الإلكتروني التعلم بنظام طالب } x\}$

(مجموعة منتظمة و منتهي - طريقة العد " السرد ")

(مجموعة منتظمة - طريقة العد " السرد ")

(طريقة العد " السرد ")

(طريقة القاعدة " الصفة المميزة ")

2- إذا كانت المجموعة $A = \{8, 15, 90\}$ والمجموعة $B = \{k, f, r\}$ ففي هذه الحالة فإن العلاقة بين كل من المجموعتين تأخذ أي من

الأشكال التالية:

(a) $A = B$

(b) $A \equiv B$

(c) $A \subset B$

(d) $B \subset A$

لتكون المجموعتين متساويتين : لابد تكون عناصر المجموعه A نفس عناصر المجموعه B يعنو لو كانت عناصر A=B B={8,190,15} نقول عنها	=
التكافئ ، لنقول عن المجموعتين متكافئتين ، لابد تكون عدد عناصر المجموعه A مساوي لعدد عناصر المجموعه B مثل السؤال لدينا الآن عدد عناصر المجموعه A=3 عناصر B=3 ،	\equiv

3- إذا كانت المجموعة الكلية $U = \{-3, -2, -1, 0, 1, 2, 3\}$ و $A = \{-3, -2, -1\}$ فإن \bar{A} تساوي:

(a) $\{1, 2, 3\}$

(b) $\{-3, -2, -1, 0\}$

(c) $\{0, 1, 2, 3\}$

(d) \emptyset

\bar{A} مكمل (متممة) للمجموعة A نأخذ بقية العناصر المتبقية لنا من المجموعة الكلية $U = \{-3, -2, -1, 0, 1, 2, 3\}$ $A = \{-3, -2, -1\}$ $\bar{A} = \{0, 1, 2, 3\}$
--

4- إذا كان $A = \{4, 6, 9, 15\}$ و $B = \{2, 4, 11\}$ فإن $A \cap B$ تساوي:

(a) $\{2, 4, 6, 9, 11, 15\}$

(b) $\{4\}$

(c) $\{12, 11, 15\}$

(d) \emptyset

يمثل رمز التقاطع	\cap
يمثل رمز جزئي	\subset
الاتحاد	\cup
المجموعة فاي - المجموعة الخالية	\emptyset

5- إذا كانت $A = \{4, 7, 9, 11\}$ و $B = \{2, 4, 5, 7\}$ فإن $A - B$ تساوي:

5- $A - B$ عبارة عن الفرق ،
اي العناصر الموجودة ب المجموعة A وغير
موجودة ب المجموعة B

(a) $\{2, 5\}$ (b) $\{9, 11\}$ (c) $\{2, 4\}$ (d) \emptyset

6- إذا كانت المجموعة $S = \{2, 5, 8\}$ فإن مجموعة المجموعات $P(S)$ تساوي:

(a) $\{\{2\}, \{5\}, \{8\}\}$ (b) $\{\{2, 5\}, \{2, 8\}, \{5, 8\}\}$ (c) $\{\{2\}, \{5\}, \{8\}, \{2, 5\}, \{2, 8\}, \{5, 8\}\}$ (d) $\{\{2\}, \{5\}, \{8\}, \{2, 5\}, \{2, 8\}, \{5, 8\}, \{2, 5, 8\}, \emptyset\}$

7- إذا احتوت المجموعة S على 3 من العناصر، فإن عدد عناصر مجموعة المجموعات $P(S)$ هو:

$$S(P) = 2^3 = 8$$

(a) 4

(b) 8

(c) 16

(d) 32

8- إذا كانت الفترات A

$$B = [-2, 4] \text{ و } = [1, 3]$$

$$A \cup B \text{ فإن } , 3)$$

تساوي:

(a) $[1, 3]$ (b) $[-2, 4]$ (c) $[3, 4]$ (d) $[-2, 1]$

سؤال 8- 1

() يمثل فترة مفتوحة ، يعني الرقم الي بين
القوسين ما يدخل ضمن تكوين المجموعة
- [] يعتبر فترة مغلقة الرقمين الي بين القوسين
يدخل ضمن تكوين المجموعة

الشرح :

لو نجح للخيارات و نكون المجموعه لكل فترة موجودة لدينا :

$$A - [1, 3) = \{1, 2\}$$

مثل ما ذكرنا (يمثل الفترة المفتوحة و الرقم 3 بجانبه ما يدخل ضمن
المجموعة

$$B - [-2, 4] = \{-2, -1, 0, 1, 2, 3, 4\}$$

عبارة عن فترة مغلقة الارقام الي بين القوسين دخلوا معنا ضمن
تكوين المجموعة .

المجموعة نفس الي حصلنا عليها من اتحاد المجموعتين

$$C - [3, 4] = \{3, 4\}$$

$$D - [-2, 1) = \{-2, -1, 0\}$$

1 لا يدخل ضمن المجموعة لانه بجانب القوس (ويمثل فترة مفتوحة

2-

نستخرج عناصر المجموعة لكل فترة :

$$A = \{1, 2, 3, 4\}$$

$$B = \{-2, -1, 0, 1, 2\}$$

بعد ما استخرجنا المجموعتين يمكننا إيجاد المطلوب ،

الاتحاد بين المجموعتين

نحصل ع مجموعة

$$\{-2, -1, 0, 1, 2, 3, 4\}$$

9- إذا كانت $f(x) = x^3 + 5x - 8$ و $h(x) = 2x^2 + 3x$ فإن $f(x) \times h(x)$ يساوي:

(a) $10x^3 - x^2 - 24x$

(b) $x^5 - 3x^4 + 10x^3 - x^2 + 24x$

(c) $2x^4 + 3x^3 - 10x^2 - x - 24$

(d) $2x^5 + 3x^4 + 10x^3 - x^2 - 24x$

10- إذا كان $f(x) = x^4 - 3x^2 + 5$ ، وكان $h(x) = x^2 - 4$ فإن $f(x) \div h(x)$ يساوي:

(a) $x^2 - 1$

(b) $x + 1$

(c) $x^2 + 1$

(d) $x - 1$

11- إذا كانت $f(x) = \frac{-2x+1}{x-9}$ ، فإن مجال هذا الاقتار هو:

(a) R

(b) $R \setminus \{-9\}$

(c) $R \setminus \{9\}$

(d) $R \setminus \{0\}$

11- نساوي المقام ب الصفر

$$X-9=0$$

ننقل ال9 للطرف الاخر ونلاحظ تغير اشارته

$$X=9$$

12- إذا كانت $f(x) = \frac{x}{3x+2}$ و $h(x) = \frac{5x^2+2}{2x-2}$ فإن $f(x) \div h(x)$ يساوي:

(a) $\frac{15x^3+12x^2+4x+4}{6x^2-2x-4}$

(b) $\frac{5x^3+2x}{6x^2-x-4}$

(c) $\frac{2x^2-2x}{15x^3+10x^2+6x+4}$

(d) $\frac{6x^2-x-4}{15x^3+10x^2+6x+4}$

12- نقوم بتحويل عملية القسمة إلى ضرب ، و نقلب الكسر

الثاني :

$$f(x) \div h(x) = \frac{x}{3x+2} \times \frac{2x-2}{5x^2+2}$$

=

$$\frac{(X)(2X-2)}{(3X+2)(5X^2+2)}$$

$$= \frac{2x^2-2x}{15x^3+10x^2+6x+4}$$

13- اولاً: نبسط الكسر الثاني لابسط صورة و نخلية

بنفس أساس الكسر $\frac{1}{3}$

$$3^4 = 81$$

$$\left(\frac{1}{3}\right)x^2 = \left(\frac{1}{3}\right)4$$

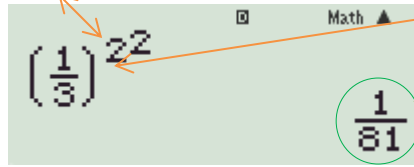
ثانياً : نساوي الاسس مع بعض ، نأخذ الجذر التربيعي

للطرفين

$$X^2 = 4 = \pm 2$$

13- إذا كانت المعادلة $\left(\frac{1}{3}\right)x^2 = \frac{1}{81}$ فإن x يساوي :

نحرب! استبدال x بالاختيارات، وليكن (2)



إذا ظهر لنا الناتج مطابقاً للسؤال، يكون هو الصح!

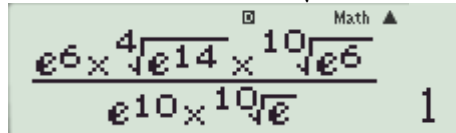
± 2 (a)

± 3 (b)

± 4 (c)

(a) لا شيء مما سبق.

14- إن أبسط صورة يمكن أن يكتب عليها المقدار $\frac{e^{6.4}\sqrt[4]{e^{14}} \cdot 10\sqrt[6]{e^6}}{e^{10} \cdot 10\sqrt[6]{e}}$ هي :



0 (a)

1 (b)

2 (c)

3 (d)

كتابة الجذر مع الأس = \sqrt{x} + SHIFT

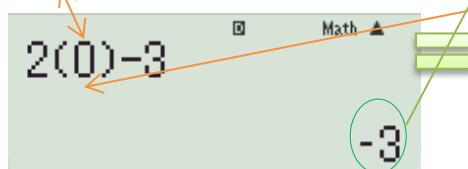
كتابة e مع الأس = e^x + SHIFT

كتابة e بدون الأس = e^x + ALPHA

المعادلات والمتباينات :-

15- إذا كانت المعادلة $2x - 3 = -3$ فإن :

نحرب! استبدال x بالاختيارات، وليكن (0)



إذا ظهر لنا الناتج مطابقاً للسؤال، يكون هو الصح!

$x = 0$ (a)

$x = 3$ (b)

$x = -3$ (c)

(a) لا شيء مما سبق .

سؤال 15

$$2x - 3 = -3$$

ننقل -3 للطرف الاخر ، وعند نقلها تتغير الاشارة

$$2x = -3 + 3 = 0$$

16- إذا كانت المعادلة $x^2 + 2x - 3 = 0$ فإن :

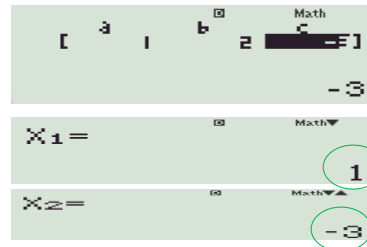
طريقة الحل موجودة ب الملخص ص 13,14



المعادلة التربيعية = بعد كتابة الرقم في الآلة نضغط = لنتمكن من كتابة الآخر

بعد الانتهاء من كتابة جميع الأرقام، نضغط = ؛ ليظهر الناتج

ستظهر لنا x_1 ، ونضغط السهم النازل ؛ لعرض x_2



$x_1 = 0, x_2 = -1$ (a)

$x_1 = 3, x_2 = -1$ (b)

$x_1 = -3, x_2 = 1$ (c)

(a) لا يوجد حل حقيقي للمعادلة.

17- إذا كان النظام التالي:

$$\begin{cases} 2x + 3y = 7 & (1) \\ 3x + 2y = 8 & (2) \end{cases}$$

فإن حل هذا النظام يساوي:

$x = 1, y = 2$ (a)

$x = -2, y = -2$ (b)

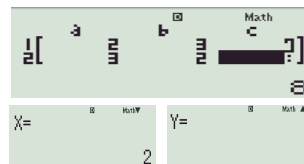
$x = -1, y = -2$ (c)

طريقة الحل موجودة ب الملخص ص 15

نكتب الأرقام فقط!



المعادلتين =



$x = 2, y = 1$ (d)

18- إذا كانت المتباينة $x + 5 \geq 6$ فإن مجموعة الحل للمتباينة هي:

(a) $(1, +\infty)$

(b) $[1, +\infty)$

(c) $(-\infty, 1]$

(d) $(-\infty, 1)$

المتتاليات :-

19- المتتالية: $\frac{1}{4}, \frac{1}{2}, \frac{3}{4}, 1, \frac{5}{4}, \frac{3}{2}, \dots$

(a) حسابية وأساسها 4.

(b) هندسية وأساسها $\frac{1}{4}$.

(c) حسابية وأساسها $\frac{1}{4}$.

(d) ليست حسابية ولا هندسية.

20- المتتالية: $\frac{1}{4}, -\frac{3}{4}, \frac{9}{4}, -\frac{27}{4}, \frac{81}{4}, \dots$

(a) هندسية وأساسها -3.

(b) حسابية وأساسها $\frac{1}{2}$.

(c) هندسية وأساسها 3.

(d) ليست حسابية ولا هندسية.

21- إذا كان لدينا متتالية حسابية حدها الأول 10 وأساسها 0.5، فإن حدها العام هو:

(a) $10.5 + 0.5n$

(b) $9.5 + 0.5n$

(c) $0.5 + 0.5n$

(d) لا شيء مما سبق.

19- نشوف الفرق بين الحدود، إذا الفرق ثابت إذاً حسابية

$$\frac{1}{2} - \frac{1}{4} = \frac{1}{4}$$

$$\frac{3}{4} - \frac{1}{2} = \frac{1}{4}$$

$$1 - \frac{3}{4} = \frac{1}{4}$$

نجري عملية الطرح!



لكتابسة البسط والمقام، نضغط

$$\frac{1}{2} - \frac{1}{4}$$

$$\frac{1}{4}$$

$$1 - \frac{3}{4}$$

$$\frac{1}{4}$$

-20

$$-\frac{3}{4} \div \frac{1}{4} = -3$$

$$\frac{9}{4} \div \frac{3}{4} = -3$$

$$-\frac{27}{4} \div \frac{9}{4} = -3$$

نجري عملية القسمة!

$$\left(-\frac{3}{4}\right) \div \frac{1}{4}$$

$$-3$$

$$\frac{9}{4} \div \left(-\frac{3}{4}\right)$$

$$-3$$

21- الحد العام للمتتالية الحسابية

$$an = a1 + (n-1)d$$

$$a1 = 10 \quad d = .5$$

نعوض ب القانون

$$an = 10 + (n-1) \cdot .5$$

$$10 + .5n - .5 = .5n + 9.5$$

نعوض بدلاً عن n برقم (1)

نحرب! أحد الاختيارات، وإذا الناتج (10) هو الصح

$$9.5 + 0.5(1)$$

$$10$$

22- متتالية هندسية حدها الأول 5 وأساسها 6-، فإن قيمة الحد الرابع من هذه المتتالية تساوي:

22- الحد العام للمتتالية الهندسية : $an = a1 \cdot r^{n-1}$

$$a1 = 5 \quad r = -6 \quad n = 4$$

نعوض بالقانون مباشرة

$$an = 5 \times -6^{4-1}$$

$$an = 5 \times (-6)^3 = 5 \times -216 = -1080$$

الحد الأول: 5
الأساس: (-6)
الحد المطلوب: 4-1

Math ▲
5(-6)⁴⁻¹
-1080

(a) 192

(b) -1458

(c) -1080

(d) لا شيء مما سبق.

23- متتالية حسابية حدها الأول 10 وأساسها 12، فإن مجموع أول عشرة حدود من هذه المتتالية يساوي:

23- القانون :

$$Sn = \frac{n}{2} (2a1 + (n - 1)d)$$

$$A1=10 \quad d=12 \quad n=10$$

نطبق مباشرة بالقانون

$$S20 = \frac{10}{2} (2 \times 10 + (10 - 1)12)$$

$$Sn = 5 (20 + (9)12) = 5(20 + 108) = 5 \times 128 = 640$$

نستخدم السيقما، نضغط

Math ▲
10
Σ (10+12(X-1))
x=1
640

الحد الأول: 10
الحد المطلوب: 10

(a) 540

(b) 640

(c) 740

(d) لا شيء مما سبق.

24- متتالية هندسية مجموع أول عشرة حدودها فيها يساوي 2046 وأساسها يساوي 2، فإن حدها الأول يساوي:

24 - القانون

$$: sn = \frac{a1(r^n - 1)}{r - 1}$$

$$A1=? \quad N=10 \quad r=2$$

$$: sn = \frac{a1(2^{10} - 1)}{2 - 1} = 2046$$

$$a1(1024 - 1) = 2046$$

$$a1 (1023) = 2046$$

نقسم معامل a1 ع الطرفين

$$2 = \frac{2046}{1023}$$

نعوض ب x بدلاً عن n

نستخدم السيقما، نضغط

Math ▲
10
Σ (3X-8)
x=4
91

(a) 2

(b) 3

(c) 4

(d) لا شيء مما سبق.

25- قيمة المقدار $\sum_{n=4}^{10} (3n - 8)$ تساوي:

(a) -91

(b) 546

(c) 91

(d) لا شيء مما سبق.

26- قيمة المقدار $\sum_{n=1}^{10} (2^{n-1})$ تساوي:

(a) 1022

(b) 1023

(c) 1024

(d) لا شيء مما سبق

Math ▲
10
Σ (2^X-1)
x=1
1023

27- أودع شخص مبلغ 1500 ريال في أحد البنوك ليستثمر بمعدل فائدة بسيطة 12% سنويا، فإن جملة المبلغ المتكون له في نهاية 10

سنوات يساوي:

(a) 3300

(b) 3000

(c) 1500

(d) لا شيء مما سبق.

-27 قانون الفائدة البسيطة = $an = a1 + (n)d$

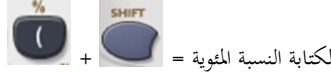
$$a1 = 1500 \quad n = 10 \quad d = 12\%$$

$$d = \frac{12}{100} \times 1500 = 180$$

نعوض مباشرة ب القانون

$$an = 1500 + (10) \times 180 = 3300$$

المبلغ + المبلغ × الفائدة × السنوات



$$1500 + 1500 \times 12\% \times 10 = 3300$$

28- أودع شخص مبلغ 2000 ريال في أحد البنوك التجارية لكي يستثمر بمعدل فائدة مركبة 12% سنويا، فإن جملة المبلغ المتكون له في نهاية

ثلاثة سنوات يساوي:

(a) 2800

(b) 2809.856

(c) 2231

(d) لا شيء مما سبق.

-28 قانون الفائدة المركبة = $an = a1r^n$

$$a1 = 2000 \quad n = 3 \quad r = 12\%$$

$$r = 12\% + 1 = 1.12$$

نعوض بالقانون مباشرة

$$an = 2000 \times (1.12)^3 = 2809.856$$

المبلغ × (1 + الفائدة) السنوات

$$2000 \times (1 + 12\%)^3 = 2809.856$$

المصفوفات :-

29- يمكن تصنيف المصفوفة A التالية على أنها مصفوفة:

$$A = \begin{bmatrix} 2 & 3 & 5 \\ 1 & 6 & 9 \\ -8 & 8 & 22 \end{bmatrix}$$

(a) مربعة وليست قطرية.

(b) مربعة وقطرية في نفس الوقت.

(c) مربعة ومحايطة في نفس الوقت.

(d) ليست مربعة ولا قطرية ولا محايطة.

عدد الصفوف = عدد الاعمدة	المصفوفة المربعة
المصفوفة المربعة التي يكون جميع العناصر فيها غير القطر الرئيسي أصفار	القطرية
جميع عناصر القطر الرئيسي = 1 هي مصفوفة مربعة	المحايطة

30- حاصل جمع المصفوفتين A و B هو:

$$A = \begin{bmatrix} 1 & 2 & 3 \\ 4 & 5 & 6 \end{bmatrix} \quad B = \begin{bmatrix} 1 & 2 & 3 \\ 4 & 5 & 6 \end{bmatrix},$$

(a) مصفوفة رتبته 2 × 2.

(b) مصفوفة رتبته 3 × 3.

(c) مصفوفة رتبته 2 × 3.

(d) لا يمكن جمع هاتين المصفوفتين.

في الجمع و الطرح : لا بد تكون المصفوفتين من نفس الرتبة

$$A = 2 \times 3 \text{ رتبة المصفوفة}$$

$$B = 2 \times 3 \text{ رتبة المصفوفة}$$

حاصل جمع / طرح المصفوفتين: نحصل ع مصفوفة رتبته نفس المصفوفتين الي

$$2 \times 3 \text{ اجرينا عليهم عملة } +- \text{}$$

31- حاصل ضرب المصفوفتين A و B هو:

$$A_{2 \times 3} = \begin{bmatrix} 1 & 2 & 3 \\ 4 & 5 & 6 \end{bmatrix}, \quad B_{3 \times 2} = \begin{bmatrix} 1 & 4 \\ 2 & 5 \\ 3 & 6 \end{bmatrix}$$

شرط عند ضرب المصفوفتين:

عدد أعمدة الأولى = عدد صفوف الثانية

الرتبة نأخذها من صفوف المصفوفة الأولى

و أعمدة المصفوفة الثانية

(a) مصفوفة رتبته 2×2 .

(b) مصفوفة رتبته 3×3 .

(c) مصفوفة رتبته 2×3 .

(d) لا يمكن ضرب هاتين المصفوفتين.

32- إذا علمت أن:

$$A = \begin{bmatrix} 50 & 6 \\ 3 & -5 \\ 90 & -8 \end{bmatrix}, \quad B = \begin{bmatrix} 1 & 0 \\ 0 & 1 \end{bmatrix}, \quad C = \begin{bmatrix} 50 & 3 & 90 \\ 6 & -5 & -8 \end{bmatrix}$$

32- شرط ضرب المصفوفتين:

عدد أعمدة الأولى = عدد صفوف الثانية

2 صف = 2 عمود

إذا توفر الشرط نُجري عملية الضرب

هو: A و B فإن ناتج ضرب المصفوفتين

(a) A

(b) B

(c) C

(d) لا شيء مما سبق

6) لاختيار التعامل مع المصفوفات

رتبة المصفوفة B

رتبة المصفوفة B

نقوم بإدراج المصفوفة الأولى

نقوم بإدراج المصفوفة الثانية

إذا الناتج مطابق للمصفوفة A

رتبة المصفوفة A ثلاثة صفوف وعمودين 2×3

رتبة المصفوفة B 2×2

خطوات الحل بالآلة الحاسبة - وبقية حلول المصفوفات بنفس الطريقة

أولاً $2 + 1 + 6 + \text{MODE SETUP}$

بعد كتابة الرقم في الآلة نضغط $=$ لنتمكن من كتابة الآخر

MAT $\begin{bmatrix} 50 & 6 \\ 3 & -5 \\ 90 & -8 \end{bmatrix}$

ثانياً $5 + 2 + 2 + 4 + \text{SHIFT} + \text{AC}$

MAT $\begin{bmatrix} 1 & 0 \\ 0 & 1 \end{bmatrix}$

ثالثاً $\text{MatA} \leftarrow 3 + 4 + \text{SHIFT} + \text{AC}$

رابعاً $\text{MatB} \leftarrow 4 + 4 + \text{SHIFT} + \text{AC}$

نجري عملية الضرب ثم $=$

MAT $\text{Ans} \begin{bmatrix} 50 & 3 & 90 \\ 6 & -5 & -8 \end{bmatrix}$

$$A = \begin{bmatrix} -1 & 0 \\ 0 & -1 \\ 2 & 2 \end{bmatrix}, B = \begin{bmatrix} -1 & 0 \\ 0 & -1 \\ 2 & 2 \end{bmatrix}, C = \begin{bmatrix} -1 & 0 & 2 \\ 0 & -1 & 2 \end{bmatrix}, D = \begin{bmatrix} 0 & -1 \\ -1 & 0 \\ 2 & 2 \end{bmatrix}$$

هو: A فإن منقول المصفوفة

B (a)

C (b)

D (c)

(d) لا شيء مما سبق

منقول المصفوفة أو مبدل المصفوفة هي تبدیل الصفوف بالأعمدة والاعمدة

بالصفوف ويرمز لها بالرمز A^T .

34- إذا علمت أن:

$$A = \begin{bmatrix} 2 & 5 \\ -9 & -7 \end{bmatrix}, B = \begin{bmatrix} 5 & 2 \\ 9 & 7 \end{bmatrix}, C = \begin{bmatrix} -2 & -5 \\ 7 & 9 \end{bmatrix}, D = \begin{bmatrix} -7 & -5 \\ 9 & 2 \end{bmatrix}$$

هو: A فإن معكوس المصفوفة

B (a)

C (b)

D (c)

(d) لا شيء مما سبق

34- اولاً: نستخرج المحدد للمصفوفة

$$\Delta = (2 \times -7) - (5 \times -9) = 31$$

ثانياً: نغير اماكن عناصر القطر الاول ، ونغير اشارة

عناصر القطر الثاني

$$A^{-1} = \frac{1}{31} \begin{bmatrix} -7 & -5 \\ +9 & 2 \end{bmatrix} = \begin{bmatrix} \frac{-7}{31} & \frac{-5}{31} \\ \frac{-9}{31} & \frac{2}{31} \end{bmatrix}$$

رتبة المصفوفة A صفين وعمودين 2x2

أولاً

MAT

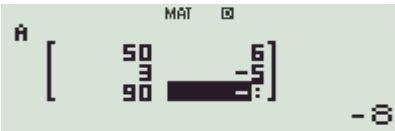
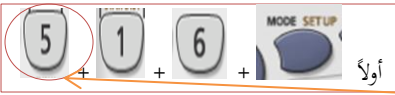
ثانياً

معكوس المصفوفة

MAT

النتائج غير مطابق للاختيارات، إذا لا شيء مما سبق

MAT



رتبة المصفوفة 2x3 (3 صفوف وعمودين)

$$\begin{vmatrix} 50 & 6 \\ 3 & -5 \\ 90 & -8 \end{vmatrix} \text{ تساوي:}$$

-123 (a)

123 (b)

0 (c)

(d) هذا المحدد غير معرف.



det(



det(MatA

المحدد غير معرف →

Dimension ERROR

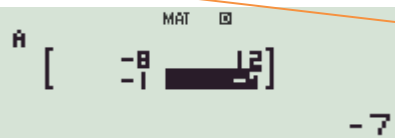
$$\begin{vmatrix} 4 & 6 & 9 \\ -9 & 3 & -6 \\ 4 & 6 & 9 \end{vmatrix} \text{ تساوي:}$$

-63 (a)

63 (b)

0 (c)

(d) هذا المحدد غير معرف.



رتبة المصفوفة 2x2 (صفتين وعمودين)

$$\begin{vmatrix} -8 & 12 \\ -1 & -7 \end{vmatrix} \text{ تساوي:}$$

-24 (a)

2 (b)

68 (c)

(d) هذا المحدد غير معرف.



det(



det(MatA

النتيجة

det(MatA

68

36 : إذا تساوت عناصر صفتين أو عمودين في المصفوفة

فإن قيمة المحدد تساوي صفر

تذكر/ي :

- إذا كانت عناصر أحد الصفوف أو الأعمدة أصفار فإن

قيمة المحدد تساوي صفر

- إذا كان أحد الصفوف مضاعف لصف آخر أو أحد

الأعمدة مضاعف للآخر فإن قيمة المحدد تساوي صفر.

إذا بدلنا صف مكان صف أو عمود مكان عمود في المحدد

فإن قيمة المحدد تنعكس إشارتها.

- محدد المصفوفة القطرية = حاصل ضرب عناصر القطر

- محدد المصفوفة المحايدة = 1

- محدد المصفوفة المثلثية = حاصل ضرب عناصر القطر

35- هنا المصفوفة لدينا من رتبة 2x3

المحددات تحسب للمصفوفات المربعة

المصفوفة المربعة عدد الصفوف = عدد الأعمدة

37- المصفوفة من الرتبة 2x2

$$\Delta = ad - bc.$$

$$\Delta = (-8 \times -7) - (-1 \times 12) = 68$$

شرح جوان - إعداد صدى الأمل

38 - المصفوفة من رتبة 3×3 يتم إيجاد المحدد بطريقة :

الاسهم - المحددات الصغيرة .

طريقة الاسهم : نكرر العمود الاول و الثاني ب المصفوفة

$$\begin{vmatrix} 1 & 1 & 1 & 1 & 1 \\ 2 & 1 & -1 & 2 & 1 \\ 0 & 2 & 0 & 0 & 2 \end{vmatrix}$$

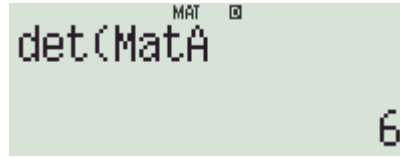
الان نوجد قيمة المحدد :

$$- (2 \times 2 \times 1) + (0 \times 1 - \times 1) + (0 \times 1 \times 1)$$

$$6 = (1 \times 2 \times 0) + (1 - \times 2 \times 1) + (0 \times 1 \times 1)$$

رتبة المصفوفة 3×3 (3 صفوف و 3 أعمدة)

$$\begin{vmatrix} 1 & 1 & 1 \\ 2 & 1 & -1 \\ 0 & 2 & 0 \end{vmatrix} \text{ تساوي: } -38 \text{ قيمة المحدد}$$



(a) 6

(b) 2

(c) 0

(d) هذا المحدد غير معرف.

39- محدد المصفوفة القطرية = حاصل ضرب عناصر القطر الرئيسي

$$1 \times 2 \times 3 \times 4 = 24$$

$$\begin{vmatrix} 1 & 0 & 0 & 0 \\ 0 & 2 & 0 & 0 \\ 0 & 0 & 3 & 0 \\ 0 & 0 & 0 & 4 \end{vmatrix} \text{ تساوي: } -39 \text{ قيمة المحدد}$$

(a) 0

(b) 10

(c) 20

(d) 24

40- اولاً: ننشأ المصفوفة الخاصة ب معامل المتغيرات - مصفوفة المتغيرات -

مصفوفة الثوابت:

$$\begin{vmatrix} X \\ Y \end{vmatrix} = X \quad \begin{vmatrix} 405 \\ 165 - \end{vmatrix} = B \quad \begin{vmatrix} 30 & 7 \\ 12 & -19 \end{vmatrix} = A$$

طالب ΔX نأخذ المصفوفة A ونستبدل عناصر العمود الاول (30,12)

بعمود الثوابت

$$\begin{vmatrix} 405 & 7 \\ 165 - & -19 \end{vmatrix}$$

الان نستخرج المحدد : $(405 \times -19) - (7 \times -165) = -6540$

40- إذا علمت نظام المعادلات التالي :

$$30x + 7y = 405$$

$$12x - 19y = -165$$

تساوي: Δ_x فإن قيمة

(a) -560

(b) -420

(c) -6540

(d) لا شيء مما سبق

41- إذا كانت دالة الطلب على سلعة ما تمثل بالدالة ($D = 20 - 2x$) فيمكن وصف الطلب على هذه السلعة عند سعر **100** ريال والكمية المطلوبة **50** وحدة على أنه طلب:

(a) عدم المرونة.

(b) متكافئ المرونة.

(c) مرن.

(d) لا نهائي المرونة

41- نوجد المشتقة لدالة الطلب : -2

المشتقة الاولى للطلب $\times \frac{\text{السعر}}{\text{الكمية}}$

$$-2 \times \frac{100}{50} = -4$$

نأخذ القيمة المطلقة $|-4| = 4$ 4 أكبر من 1 اذا الطلب مرنتذكير: أقل من الواحد ، الطلب غير مرن

$$= 1 \text{ الطلب متكافئ}$$

42- إذا علمت أن دالة الربح الكلي هي ($P = 50 + 2x - x^2$) فإن نوع نهاية هذه الدالة هي نهاية:

(a) صغرى.

(b) عظمى.

(c) صغرى وعظمى في نفس الوقت.

(d) لا شيء مما سبق

المشتقة الأولى: $= 2 - 2x$	42- يتم إيجاد المشتقة الأولى للدالة. - يتم إيجاد المشتقة الثانية. ← إذا كانت إشارة المشتقة الثانية سالبة فهذا يدل على وجود نهاية عظمى.
المشتقة الثانية : $= -2$	← إذا كانت إشارة المشتقة الثانية موجبة فهذا يدل على وجود نهاية صغرى.
إشارة المشتقة الثانية سالبة إذا هي نهاية <u>عظمى</u>	

إذا علمت أن الإيراد الكلي لإحدى الشركات تأخذ الشكل $(R = 4x^3 - 10x^2 + 8x + 20)$ ودالة التكاليف الكلية تأخذ

الشكل $(C = 15x^2 - 2x + 36)$ فإن :

43- حجم الإيراد الحدي R' عند إنتاج وبيع 5 وحدات يساوي:

$$\frac{d}{dx} () |_{x=}$$



نختار التالي

43- الإيراد الحدي = المشتقة الأولى لدالة الإيراد الكلي.

$$R' = 12x^2 - 20x + 8$$

نعوض ب المشتقة :

$$12(5)^2 - 20(5) + 8 = 208$$

44- التكلفة الحدية = المشتقة الأولى لدالة التكلفة الكلية.

$$C' = 30x - 2$$

نعوض ب المشتقة :

$$C' = 30(20) - 2 = 598$$

45- الربح الحدي = المشتقة الأولى لدالة الربح الكلي.

الربح الحدي = الإيراد الحدي - التكلفة الحدية.

نستخدم القانون الثاني لان الربح الكلي مش موجود ،

$$P' = (12x^2 - 20x + 8) - (30x - 2)$$

$$P' = 12x^2 - 50x + 10$$

46- نعوض بدالة الربح الحدي الي حصلنا عليها بفقرة 45

$$P' = 12(10)^2 - 50(10) + 10 = 710$$

$$\frac{d}{dx} (4x^3 - 10x^2 + 8x + 20) |_{x=5}$$

208 (a)

192 (b)

200 (c)

(d) لا شيء مما سبق.

44- حجم التكاليف الحدية C' عند إنتاج وبيع 20 وحدة يساوي:

$$\frac{d}{dx} (15x^2 - 2x + 36) |_{x=20}$$

600 (a)

200 (b)

14925 (c)

(d) لا شيء مما سبق.

45- دالة الربح الحدي P' هي:

$$4x^3 - 25x^2 + 10x - 16$$
 (a)

$$10x^3 - x^2 - 16x - 20$$
 (b)

$$12x^2 - 50x + 10$$
 (c)

(d) لا شيء مما سبق.

46- حجم الربح الحدي P' عند إنتاج وبيع 10 وحدات يساوي:

$$12(10)^2 - 50(10) + 10$$

199 (a)


198 (b)

710 (c)

(d) لا شيء مما سبق

إذا علمت أن دالة الإيراد الحدي لإحدى الشركات تأخذ الشكل $(R' = 60x^2 + 20x - 25)$ ودالة التكاليف الحدية تأخذ الشكل

$(C' = 20x + 40)$ فإن :



نختار التالي بدون شفت

القيمة في الأسفل، دائماً = صفر (0)

47- حجم الكلي الحدي R عند إنتاج وبيع 10 وحدات يساوي:

$$\int_0^{10} 60X^2 + 20X - 25 dx = 20750$$

20750 (a)

20000 (b)

21750 (c)

(d) لا شيء مما سبق.

48- حجم التكاليف الكلية C عند إنتاج وبيع 10 وحدة يساوي:

$$\int_0^{10} 20X + 40 dx = 1400$$

400 (a)

1400 (b)

1000 (c)

(d) لا شيء مما سبق.

49- دالة الربح الكلي P هي:

$60x^3 + 20x^2 + 10x$ (a)

$20x^3 - 20x^2 - 65x$ (b)

$20x^3 - 65x$ (c)

(d) لا شيء مما سبق.

50- حجم الربح الكلي P عند إنتاج وبيع 10 وحدات يساوي:

$$20(10)^3 - 65(10) = 19350$$

18350 (a)

19350 (b)

20350 (c)

(d) لا شيء مما سبق.

47- الإيراد الكلي = تكامل دالة الإيراد الحدي.

$$R = 20X^3 + 10X^2 - 25X$$

نعوض بالمعادلة :

$$= 20(10)^3 + 10(10)^2 - 25(10) = 20750$$

48- التكاليف الكلية = تكامل التكاليف الحدية

$$C = 10X^2 + 40X$$

نعوض بالدالة :

$$C = 10(10)^2 + 40(10) = 1400$$

49- الربح الكلي = الإيراد الكلي - التكاليف الكلية

$$(20X^3 + 10X^2 - 25X) - (10X^2 + 40X) = 20x^3 - 65x$$

50- نعوض بدالة الربح الكلي التي حصلنا عليها بفقرة

49

$$= 20(10)^3 - 65(10) = 19350$$

المحاضرة الرابعة عشر: غير شاملة لجميع تمارين المنهج لذا لا بد أن يطلع الطالب على المنهج بالكامل!

شرح استخدام الآلة/ فيلارك *

شرح استخدام القوانين/ جوان

إعداد/ صدى الأمل

* تمت الاستعانة بشرح فيديو استخدام الآلة من/ أمجاد

