

ملتقى طلاب وطالبات جامعة الملك فيصل وجامعة الدمام
كلية الدراسات التطبيقية وخدمة المجتمع (التعليم عن بعد)
إدارة أعمال - المستوى الخامس
١٤٣٧ هـ - ١٤٣٨ هـ / ٢٠١٦ - ٢٠١٧ م

ملزمة النهائية: ادارة سلسلة الإمدادات

تلخيص: د.سويره، حورا محمد
تدقيق: د.سويره

الفصل السادس والسابع

المشتريات _ التسعير

أولا/مقدمة:

المشتريات هي "عملية الشراء". ويرى كثير أن المشتريات من مسؤولية قسم المشتريات فقط، إلا أن الوظيفة أكبر كثيرا من ذلك، وإذا تمت تأديتها بفعالية، تصبح كل أقسام الشركة مشمولة فيها. وعليه، فإن الحصول على المواد الصحيحة، وبالتسليم الصحيح (في الوقت والمكان المناسب). ومن المصدر الصحيح بالسعر الصحيح كلها وظائف مشتريات.

لذلك تكون المشتريات هي المسؤولة عن إصدار الأوامر لضمان وصول السلع في الوقت التي توجد فيه حاجة لها.

ويكون لقسم المشتريات المسؤولية الرئيسية لتحديد مصادر التوريد المناسبة، والتفاوض على السعر، لذلك تكون المشتريات بمعناها الواسع، هي عمل كل فرد.

(١) المشتريات، ورافعة الربح.

تتفق شركات التصنيع 50%، في المتوسط، من قيمة مبيعاتها في شراء المواد الخام، والمكونات، والتوريدات. وهو ما يعطي لوظيفة المشتريات إمكانية هائلة لزيادة الأرباح.

(٢) أهداف المشتريات.

تعتبر المشتريات هي المسؤولة عن تدفق المواد في الشركة، ومتابعة المورد، وتسهيل التسليم. ويمكن أن ينتج عن عدم التسليم في الموعد المحدد فوضى للتصنيع والمبيعات إلا أن المشتريات يمكن أن تقلل المشاكل مما يزيد من الإضافة للربح.

ويمكن تقسيم الأهداف إلى اربعة فئات:

- ١) الحصول على السلع، والخدمات بالكميات، والجودة اللازمة.
- ٢) الحصول على السلع، والخدمات بأقل التكاليف.
- ٣) ضمان أفضل خدمة ممكنة، والتسليم الفوري من المورد.
- ٤) تطوير علاقات جيدة مع المورد، والحفاظ عليها، وتطوير الموردين المحتملين.

ولتحقيق الأهداف السابقة، يجب القيام ببعض الوظائف الأساسية التي تساعدنا في تحقيق هذه الأهداف:

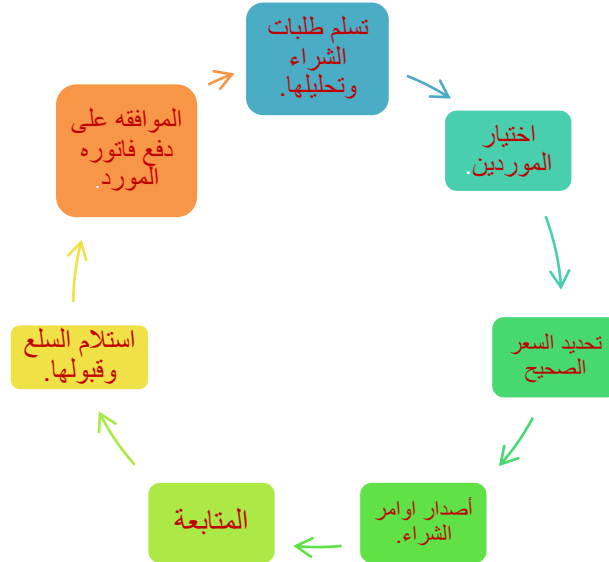
- تحديد مواصفات المشتريات: الكمية الصحيحة، والجودة الصحيحة، والتسليم الصحيح (الوقت والمكان).
- إختيار المورد: (المصدر الصحيح).
- التفاوض على شروط الشراء: (السعر الصحيح).
- إصدار أوامر الشراء وإدارتها.

(٣) خطوات دورة المشتريات:

تتكون دورة المشتريات من خطوات التالية:

١. تسليم طلبات الشراء وتحليلها.
٢. إختيار الموردين، وإيجاد الموردين، وطلب قائمة أسعار منهم، وإستلام الأسعار وتحليلها، وأختيار المورد الصحيح.

٣. تحديد السعر الصحيح.
٤. إصدار أوامر الشراء.
٥. المتابعة لضمان تحقيق تواريخ التسليم.
٦. إستلام السلع وقبولها.
٧. الموافقة على دفع فاتورة المورد.



اولاً: تسلم وتحليل طلب الشراء:

تبدأ طلبات الشراء بالقسم أو الشخص الذي سيكون المستخدم النهائي للمواد المشتراة. ويحتوي طلب الشراء، على أقل تقدير على المعلومات التالية:

- (١) تعريف مصدر الطلب الأصلي، وموافقة معتمدة.
- (٢) الحساب الذي سيتم تحميل التكلفة عليه.
- (٣) مواصفات الكمية.
- (٤) الكمية، ووحدة القياس.
- (٥) تاريخ ومكان التسليم.
- (٦) أي معلومات إضافية لازمة.

ثانياً: إختيار الموردين.

تعد من المسؤوليات المهمة لقسم المشتريات، ويتم الإحتفاظ بقائمة بالموردين الموافق عليهم. فإذا لم يسبق شراء العنصر من قبل، أو لم يوجد مورد مقبول، يجب عمل بحث لتحديد الموردين المناسبين، وإذا كانت قيمة الأمر صغيره أو لعناصر نمطية، يمكن أن يوجد المورد في كتالوج، أو دورية مهنية، أو دليل.

ثالثاً: طلب الأسعار.

طلب الأسعار هو إستفسار مكتوب يرسل إلى موردين كافين لضمان تسليم أسعار منافسة، وإعتمادية. وبعد أن يكمل الموردون الأسعار، يعيدها للمشتري وتحلل الأسعار ومدى إرتباطها بالمواصفات، وشروط البيع، والتسليم، وشروط الدفع. ويكون الإختيار النهائي هو تسوية بين العوامل التقنية، والسعر، وعادة يكون كل من قسمي الإصدار، والمشتريات مشاركين في القرار.

رابعاً: تحديد السعر الصحيح.

يعتبر **تحديد السعر الصحيح** من مسؤولية قسم المشتريات، ويرتبط ارتباطاً وثيقاً باختيار الموردين، ويكون قسم المشتريات مسؤولاً أيضاً عن التفاوض على السعر، للحصول على أفضل سعر من المورد.

خامساً: إصدار أمر الشراء.

- يكون أمر الشراء عرض قانون للشراء.
- ويقبول المورد له فإنه يصبح عقد قانوني لتسليم السلع، وفقاً للشروط المحدودة.
- ويعد أمر الشراء من: **طلب الشراء، وأسعار المورد، ومن المعلومات الإضافية اللازمة.**
- ترسل نسخ منه للمورد وتحفظ بنسخة في قسم المشتريات، والقسم الطالب للشراء.

سادساً: المتابعة والتسليم.

- يكون المورد مسؤولاً عن تسليم العناصر المطلوبة في الوقت المحدد للتسليم ويكون قسم المشتريات مسؤولاً عن ضمان أن يسلم المورد في الوقت المحدد.
- إذا كان هناك شك في إمكانية تحقيق ضمان، فقسم المشتريات عليه أن يجد الوقت لإتخاذ الإجراءات التصحيحية. ويشمل هذا: **تسهيل النقل، مصادر توريد بديلة، العمل مع المورد لحل مشاكله أو إعادة جدولة الإنتاج.**
- يكون قسم المشتريات مسؤولاً عن العمل المورد على أي تغييرات في متطلبات التسليم، ويجب أن يخبر المشتري المورد بالمتطلبات الحقيقية حتى يوفر المطلوب في وقت الحاجة له.

سابعاً: إستلام السلع وقبولها.

- تفحص السلع عند إستلامها؛ لضمان أنها السلع الصحيحة بالكميات الصحيحة ولم تتلف أثناء النقل.
- باستخدام نسخة أمر الشراء لدى القسم الإستلام، وفاتورة الشحن التي يقدمها الناقل يقبل قسم الإستلام السلع، ويعد تقرير الإستلام مع ذكر أي ملاحظات بأي تباينات، فإذا كان مطلوب مزيد من الفحص، مثل: (مراقبة الجودة) ترسل السلع إلى مراقبة الجودة، أو يحتفظ بها لفحصها.
- إذا تم إستلام سلع تالفة يخطر قسم الإستلام قسم المشتريات بذلك، ويحتفظ بالسلع لمزيد من الإجراءات، وعندما تكون السلع سليمة وليست بحاجة للفحص، ترسل للقسم الذي طلبها في الأصل أو إلى المخزن.
- عند ذلك ترسل نسخة من تقرير الإستلام لقسم المشتريات ويذكر التباين أو التعارض عن أمر الشراء، فإذا أعتبر الأمر كاملاً يغلق قسم الإستلام نسخته، ويخطر قسم المشتريات، وإذا لم يكتمل يظل أمر الشراء مفتوح منتظر إكتماله، وإذا كانت مراقبة الجودة قد فحصت السلع فإنها تخطر قسم المشتريات إذا قبلت السلع أم لا.

ثامناً: الموافقة على فاتورة المورد للدفع.

عند إستلام فاتورة المورد، توجد **ثلاثة معلومات** يجب أن تتفق مع بعضها وهي:

- **(أمر الشراء – أمر الإستلام – الفاتورة)**، حيث يجب أن تتساوى العناصر والكميات عليها، ويجب أن تكون الأسعار نفس الشيء على أمر الشراء والفاتورة، كما يجب التأكد من الخصومات وشروط أمر الشراء الأصلي مقابل الفاتورة، ويعمل قسم المشتريات على التحقق من صحتها وتسوية أي اختلافات، وبعد القبول ترسل الفاتورة لحسابات الدائنين للدفع.

ثانياً: تحديد المواصفات.

(1) تحديد المواصفات.

عند شراء عنصر أو خدمة من مورد، تؤخذ عدة عوامل في الحسبان عند تحديد المواصفات، وعي تقسم إلى ثلاثة فئات واسعة:

(متطلبات الكمية – متطلبات السعر – المتطلبات الوظيفية).

(أ) متطلبات الكمية.

تعتبر الكمية مهمة لأنها ستكون عاملاً مؤثراً في طريقة تصميم المنتج، والتي يتم تصنيعه بها.

مثال: إذا كان الطلب على وحدة واحدة فقط من العنصر، فإنه يصمم ليصنع بأقل تكلفة، أما إذا كان الطلب على عدة آلاف من وحدات العنصر فيصمم العنصر للإستفادة من إقتصاديات الحجم، وبالتالي يحقق الإحتياجات الوظيفية بسعر أفضل.

(ب) متطلبات السعر.

تمثل مواصفات السعر القيمة الإقتصادية التي يضعها المشتري على العنصر (المبلغ الذي يرحب الفرد بدفعه)، فإذا كان المنتج سيباع بسعر منخفض، فلن ترغب جهة التصنيع أن تدفع سعراً مرتفعاً للجزء المكون منه المنتج، ويجب أن ترتبط القيمة الإقتصادية التي توضع على العنصر بإستخدام العنصر.

(ج) المتطلبات الوظيفية.

تهتم المواصفات الوظيفية بالمستخدم النهائي للعنصر، بمعنى ما يتوقع أن يقدمه العنصر المستخدم. وتكون المتطلبات الوظيفية بطبيعتها، هي الأكثر أهمية من كل الفئات الأخرى.

والمواصفات الوظيفية، هي الأكثر صعوبة من حيث تعريفها. ويجب أن تحقق تلك المواصفات الحاجات الفعلية، أو الغرض الفعلي للعنصر.

(٢) علاقة المواصفات الوظيفية بالجودة.

ترتبط المواصفات الوظيفية ارتباطاً وثقياً بجودة المنتج، أو الخدمة.

توجد الكثير من التعريفات للجودة، إلا أنها تتمركز كلها على فكرة إرضاء المستخدم ويمكن القول بأن العنصر يتصف بالجودة إذا حقق إرضاء المستخدم.

وتوجد اربع مراحل لتوفير رضا المستخدم:

- (١) الجودة وتخطيط المنتج.
- (٢) الجودة وتصميم المنتج.
- (٣) الجودة والتصنيع.
- (٤) الجودة والإستخدام.

ثالثاً: وصف المواصفات الوظيفية.

يمكن أن توصف المواصفات الوظيفية بالطرق التالية، أو بخليط منها:

- (١) طبقاً للعلامة التجارية.
- (٢) طبقاً لمواصفات الخواص الطبيعية والكيميائية، والمواد وطرق التصنيع والأداء.
- (٣) طبقاً للرسومات الهندسية.
- (٤) متنوعة.

الطريقة الأولى: الوصف طبقاً للعلامة التجارية.

يستخدم الوصف وفقاً للعلامة التجارية في أغلب الأحيان في أعمال تجارة الجملة، وتجارة التجزئة، كما يستخدم بصورة موسعة في التصنيع.

ويستخدم الوصف وفقاً للعلامة التجارية تحت الظروف التالية:

- أن تكون العناصر حاصلة على براءات إختراع، أو تكون العملية سرية.
- أن يكون لدى المورد خبرة ليست متوفرة لدى المشتري.
- أن تكون الجودة المشتراة صغيرة لدرجة أنها لا تستحق أن يبذل المشتري جهداً في تطوير المواصفات.

وعند الشراء طبقاً للعلامة التجارية، يعتمد العميل على سمعة المورد، لأن المورد يرغب عادة في أن يحافظ على سمعة العلامة التجارية وعلى جودة المنتج ويضمنها لكي يحقق رضاء المشتري.

ما هي مشاكل الإعتماد على العلامة التجارية؟

- (١) **التكلفة:** حيث يكون لعناصر العلامة التجارية مستويات أسعار أعلى من العناصر التي ليست لها علاقة تجارية، وقد يكون تطوير مواصفات لمنتجات شاملة أقل تكلفة من الإعتماد على العلامات التجارية.
- (٢) **أنها تقيد عدد الموردين؛ وتقلل المنافسة:** وبالتالي، تكون الممارسة العملية المعتادة هي طلب العنصر باسم العلامة التجارية أو مايكافئه.

الطريقة الثانية: الوصف طبقاً للمواصفات والمواد وطرق التصنيع.

يعتمد الوصف طبقاً للمواصفات على وصف المشتري ما يريده بالضبط، وبالتفصيل، وهناك عدة طرق لوصف المنتج طبقاً لهذه الطريقة، وهي:

- (١) **الخواص الفيزيائية والكيميائية:** يجب أن يعرف ويحدد المشتري الخواص الفيزيائية، والكيميائية للمواد المطلوبة.
- (٢) **مادة التصنيع وطريقته:** في بعض الأحيان تحدد مواد، وطرق التصنيع أداء المنتج. وإستخدامه.
- (٣) **الأداء:** تستخدم هذه الطريقة عندما يكون الإهتمام الأولي للمشتري بما يجب أن يؤديه العنصر، وهو ما يساعد المورد في تحديد كيف سيتحقق الأداء. وتكون مواصفات الأداء:
 - سهلة الإعداد نسبياً.
 - تتمتع بميزة المعرفة الخاصة للمورد.

وأياً كانت الطريقة المستخدمة (من الطرق الثلاثة السابقة)، توجد عدة خواص للوصف طبقاً للمواصفات:

- يجب تصميم المواصفات بعناية.
- يجب أن تسمح المواصفات بمصادر متعددة لتقديم عروض متنافسة.
- لا تميل كل العناصر أن تكون لها مواصفات (لون العنصر، مظهره).
- إذا حدد المشتري المواصفات يمكن أن يكون تطويرها مكلف.
- قد لا يكون العنصر الذي يوصف بواسطة المواصفات أكثر مناسبة، ويكون مكلف جداً عن المنتج النمطي للمورد.

(٢) مصادر المواصفات:

يوجد مصدران رئيسيان للمواصفات، وهما:

(١) مواصفات المشتري.

٢) المواصفات النمطية.

أولاً: مواصفات المشتري: يكون تطوير مواصفات المشتري مكلفاً ومهلكاً للوقت، وعادة لا تستخدم الشركات هذه الطريقة إلا إذا لم يكن هناك مواصفات نمطية متاحة.

ثانياً: المواصفات النمطية: طورت المواصفات النمطية نتيجة للكثير من الدراسة والجهد من الوكالات الحكومية والغير حكومية، وعادة تطبق على المنتجات الخام أو شبه المصنعة أو أجزاء المكونات أو مكونات المواد.

مميزات استخدام المواصفات النمطية:

- أنها تعرف، وتقبل على نطاق واسع، وتتاح لمعظم الموردين.
- أسعارها تكون أقل من العناصر الغير نمطية.
- يمكن تطويرها لإحتياجات الكثير من المشتريين.

الطريقة الثالثة: الرسومات الهندسية.

تصف الرسومات الهندسية تفاصيل التشكيل الدقيق للأجزاء، كما تعطي معلومات أيضاً عن أشياء أخرى مثل: التشطيبات، والمساحات، والمادة التي تستخدم.

وهي تستخدم على نطاق الواسع، بسبب عدم وجود طريقة أخرى لوصف تشكيل الأجزاء، وينتجها قسم التصميم الهندسي، وهي مكلفة في إنتاجها لكنها تعطي وصفاً دقيقاً للجزء المطلوب.

الطريقة الرابعة: المتنوعات.

توجد طرق مختلفة أخرى للمواصفات تشمل العبارة المشهورة، (أعطني واحدة أخرى مثل الواحدة الأخيرة)، وفي بعض الأحيان تستخدم عينات، ومثل ذلك: عندما يراد وصف ألوان أو أنماط.

وعادة تؤثر جودة الوصف على نجاح الشراء وفي بعض الأحيان على السعر المدفوع.

رابعاً/إختيار الموردين.

هدف المشتريات هو وضع كل الأشياء الصحيحة مع بعضها البعض: الجودة، والكمية، والتسليم، والسعر. وبعد أن يتم إتخاذ قرار ما يراد شراؤه يصبح القرار التالي في الأهمية هو إختيار المورد الصحيح، والمورد الصحيح هو ذلك المورد الذي لديه التقنية لإنتاج المنتج بالجودة المطلوبة، ولديه السعة لإنتاج الكميات المطلوبة، ويمكنه تشغيل الأعمال بدرجة جيدة، ويستمر في البيع بصورة متنافسة.

١) أنواع مصادر التوريد.

المصادر الوحيدة: عندما يتاح مورد واحد فقط للعنصر بسبب براءات الإختراع، والمواصفات التقنية، والمادة الخام، والموقع.

المصادر المتعددة: إستخدام أكثر من مورد واحد للعنصر، ومن مميزاتها: هي أن المنافسة ينتج عنها سعر أقل وخدمة أفضل وبالتالي يتواجد توريد مستمر.

المصادر الفردية: قرار يخططه التنظيم لإختيار مورد واحد للعنصر عندما يكون متاحاً العديد من الموردين، ويهدف إلى تحقيق شراكة طويلة المدى.

٢) عوامل إختيار الموردين

هناك سبعة عوامل يجب أخذها في الاعتبار لإختيار المورد، وهي كالتالي:

- أ- **المقدرة التقنية:** هل لدى المورد المقدرة التقنية لعمل وتوريد المنتج المطلوب؟ وهل لديه برنامج لتطوير المنتج وتحسينه؟ وهل يستطيع المورد أن يساعد في تحسين المنتجات؟ **تكون هذه الأسئلة مهمة** لتحديد المورد ذو المقدرة التقنية.
- ب- **مقدرة التصنيع:** يجب أن يكون التصنيع قادراً على تحقيق مواصفات المنتج، مع إنتاج أقل وحدات معيبة ممكنة، كما يجب أن يكون لدى المورد برنامج جيد لمراقبة الجودة، وأفراد تصنيف أكفاء، وذلك لضمان أن المورد يمكنه توريد الكمية والجودة المطلوبين.
- ت- **المعولية/الإعتمادية:** تعني إختيار المورد الذي يتمتع بسمعة طيبة، ومستقر، وقوي مالياً بدرجة كافية للبقاء في الأعمال.
- ث- **خدمة ما بعد البيع:** إذا كان للمنتج طبيعة تقنية، أو قد يحتاج إلى إستبدال أجزاء أو إلى دعم تقني، يجب أن يكون للمورد خدمة جيدة بعد البيع، ومخزون جيد بقطع الغيار.
- ج- **موقع المورد:** يساعد الموقع القريب في تقليل أوقات التسليم، بمعنى وجود إمكانية للتسليم السريع في حالات العجز الطارئة.
- ح- **السعر:** يجب أن يكون المورد قادراً على تقديم أسعاراً تنافسية، ولا يقصد بذلك أقل الأسعار، وإنما السعر الذي يأخذ في الحسبان مقدره المورد على تقديم السلع اللازمة بالكميات والجودة المطلوبة.
- خ- **عوامل أخرى:** مثل: شروط المديونية والأعمال المتبادلة، ورغبة المورد في الإحتفاظ بمخزون للمشتري.

٣) **تحديد الموردين:** إحدى المسؤوليات الرئيسية لقسم المشتريات، هي الإستمرار في البحث عن كل مصادر التوريد المتاحة مثل: (أفراد المبيعات بشركة التوريد- الكتالوجات – المجالات المهنية – الأدلة التجارية – المعلومات التي يحصل عليها أفراد المبيعات في شركه المشتري).

٤) **الإختيار النهائي للمورد:**

تكون بعض العوامل في تقييم الموردين المحتملين عوامل كميته، ويعتبر السعر هو المثال الواضح لذلك، وهناك عوامل أخرى وصفية، ومن أمثلتها الكفاءة التقنية للمورد.

وتكون الصعوبة في إيجاد طريقة لدمج هذين العاملين، لمساعدة المشتري في تحديد أفضل مورد، وإحدى الطرق هي.

طريقة الترتيب تعتمد وهي تعتمد على:

- ١) إختيار العوامل التي يجب أن تؤخذ في الحسبان في تقييم الموردين المحتملين.
- ٢) تحديد وزنا لكل عامل، وذلك لتحديد أهمية هذه العامل بالنسبة لبقية العوامل.
- ٣) يتم تقييم المورد بالنسبة لكل عامل، وذلك بناء على مقدرتهم.
- ٤) ترتيب الموردين، يضرب وزن كل عامل لكل مورد في درجة المورد لهذا العامل.

مثال لطريقة الترتيب.

العامل	الوزن	تقديرات الموردين				مجموع التقديرات			
		أ	ب	ج	د	أ	ب	ج	د
الوظيفة	10	8	10	6	6	80	100	60	60
التكلفة	8	3	5	9	10	24	40	72	80
الخدمة	8	9	4	5	7	72	32	40	56
السند الضئى	5	7	9	4	2	35	45	20	10
الربح	2	4	3	6	8	8	6	12	16
المجموع (تقدير المورد)						219	223	204	222

خامساً/تحديد السعر.

(1) أساس التسعير

في بعض الأحيان يستخدم مصطلح "السعر العادل" في وصف ما يجب دفعه في العنصر. وهو أقل سعر يمكن شراء العنصر به.

وأحد تعريفات **السعر العادل** هو السعر التنافسي، والذي يعطى البائع ربحاً ويسمح للمشتري بالبيع في النهاية محققاً ربحاً أيضاً وحتى يستطيع البائعون البقاء في النشاط، يجب أن يقللوا التكاليف عن طريق تقليل الجودة والخدمة، ولكن يجب في النهاية أن يرضى كل من البائع والمشتري.

ولأننا نريد أن ندفع سعراً عادلاً، لذا من الجيد تطوير أساس معين لتحديد السعر العادل. ومن الطرق الواسعة الإستخدام لتحليل التكاليف هي تجزئتها إلى تكاليف ثابتة ومتغيرة.

التكاليف الثابتة: هي التكاليف التي لا تتغير بتغير حجم الإنتاج وتتعلق بتكلفة الأصول الثابتة، ومن أمثلتها: إهلاك المعدات والضرائب والتأمين والمصاريف الإدارية الإضافية.

التكاليف المتغيرة: هي تلك التكاليف التي تتغير بتغير الكمية المنتجة والمباعة مباشرة، ومن أمثلتها: العمالة المباشرة، والمواد المباشرة، وعمولات المبيعات.

وتوضح المعادلات التالية العلاقة بين التكاليف الثابتة والتكاليف المتغير.

التكاليف الكلية = التكاليف الثابتة + (التكاليف المتغيرة للوحدة) x (عدد الوحدات)

$$\text{التكاليف الكلية} = \text{التكاليف المتوسطة للوحدة} = \frac{\text{التكاليف الكلية}}{\text{عدد الوحدات}}$$

نقطة التعادل.

هي النقطة التي يتعادل عندها إجمالي التكاليف مع إجمالي العائد، ويساوي الربح عندها صفر. وتحسب نقطة التعادل من العلاقة التالية:


إجمالي العائد – إجمالي التكاليف

$$\text{إجمالي العائد} - \text{إجمالي التكاليف} = 0$$

$$\text{إجمالي العائد} = \text{إجمالي التكاليف}$$

$$\text{إجمالي العائد} = (\text{سعر الوحدة}) \times (\text{عدد الوحدات})$$

$$\text{إجمالي التكاليف} = (\text{التكاليف الثابتة}) + (\text{التكاليف المتغيرة للوحدة}) \times (\text{عدد الوحدات})$$



مثال لمشكلة ١:

يتطلب عمل أحد المكونات تكلفه ثابتة قدرها 5,000 ريال وتكلفه متغيرة قدرها 6.50 ريال لكل وحدة. فما هو إجمالي التكلفة، ومتوسط التكلفة لإنتاج دفعه 1000 وحده؟

وإذا كان سعر البيع 15 ريال للوحدة الواحدة، فما هي نقطة التعادل؟

الحل:

$$\text{التكاليف الكلية} = 500 + (6.5 \times 1000) = 11500 \text{ ريال.}$$

$$\text{التكاليف المتوسطة للوحدة} = 11500 \div 1000 = 11.5 \text{ ريال للوحدة.}$$

إجمالي العائد = إجمالي التكاليف

لحساب نقطة التعادل، نفرض أن عدد الوحدات المباعة = x وحيث أن

$$15x = 5000 + 6.5x$$

$$8.5x = 5000$$

$$x = 588.25 \text{ وحدة تقريبا}$$

تحدث نقطة التعادل عند إنتاج 588.25 وحده وبيعها.

(٢) التفاوض على السعر.

يمكن التفاوض على الأسعار إذا كان لدى المشتري معرفه ومقدره على ذلك، فقد يكون لتاجر التجزئة الغير القليل من المقدره على التفاوض، إلا أن المشتري الكبير يمكن أن يكون لديه الكثير من المقدره على التفاوض، وأثناء التفاوض يحاول المشتري والبائع عمل تسويه لشروط الشراء لتحقيق المنفعة لكل الطرفين، ويعتبر أحد العوامل المهمة في التفاوض هو نوع المنتج، وتوجد اربعة أنواع:

- **السلع التجارية:** مثل: النحاس، والفحم، والدقيق، والمعادن، ويتحدد السعر عن طريق العرض والطلب في السوق. ويهتم التفاوض بالعقود على الأسعار المستقبلية.
- **المنتجات النمطية:** نظراً لأن العناصر تكون نمطية، وهناك عدد كبير من الموردين، فتحدد الأسعار على أساس الأسعار المعلنة في الكتالوجات، ولا يوجد مجال كبير للتفاوض بإستثناء المشتريات الكبيرة.
- **العناصر التي لها قيمه صغيره:** مثل: توريدات الصيانة أ التنظيف، وتمثل مشتريات مثل هذه العناصر قيمة صغيره مما يجعل التفاوض على السعر عديم القيمة، وتتفاوض الشركات على عقد

- مع المورد الذي يمكنه توريد العديد من العناصر، وإعداد نظام أوامر بسيط يقلل من تكلفه الأوامر.
- **العناصر التي تعد حسب الطلب:** تشمل هذه الفئة العناصر التي تنتج طبقاً للمواصفات. وهذه يمكن التفاوض عليها بصفة عامة.

سادساً/تأثير تخطيط المتطلبات من المواد على المشتريات.

يدرس هذا الجزء تأثير تخطيط المتطلبات من المواد **MRP** على وظيفة المشتريات، والدور المتغير للمشتريات.

يمكن تقسيم المشتريات إلى نوعين من الأنشطة:

- **الإستحواذ:** ويشتمل على وظائف تحديد المواصفات وإختيار الموردين وتحديد السعر، والتفاوض.
- **جدولة المورد ومتابعته:** تهتم بطرح الأوامر للموردين، والعمل مع الموردين في جدول التسليم ومتابعتهم.

وتتفق أهداف جدولة المورد مع أهداف مراقبة نشاط الإنتاج حول تنفيذ جدول الإنتاج الرئيسي، وخطه المتطلبات من المواد، وضمان الإستخدام الجيد للموارد، وتقليل مخزون مابين العمليات، والحفاظ على مستوى خدمه العميل المرغوب فيه.

(١) مفهوم المخطط /المشتري.

في النظام التقليدي، يطرح مخطط المتطلبات من المواد الأمر إما إلى مراقبة نشاط الإنتاج أو المشتريات. ويصدر قسم المشتريات أوامر شراء بناء على خطه المتطلبات من المواد. وعندما تتغير الخطط يجب أن يبلغ مخطط الإنتاج قسم المشتريات بالتغيير، وهنا يبلغ قسم المشتريات المورد بذلك، **ولتحسين فعالية نشاط المخطط/المشتري يدمج عمل المخطط وعمل المشتري في عمل واحد يؤديه فرد واحد،** ويؤدي كلاً من المخطط والمشتري أعمال تخطيط المواد للعناصر التي تقع تحت تحكمه.

ويكون المخطط/المشتري مسؤولاً عن:

تحديد المتطلبات من المواد – تطوير الجداول – إصدار أوامر الورشة – طرح المواد للموردين – تحديد أولويات التسليم – مراقبة الأوامر في المصنع وإلى الموردين – القيام بكل الأنشطة لمصاحبة لوظائف الشراء وتخطيط الإنتاج – الحفاظ على إتصال وثيق بأفراد المورد.

(٢) شراء العقد:

عادة ينتج نظام تخطيط المتطلبات من المواد أوامر متكررة بكميات صغيرة، وفي بعض الأحيان من المستحيل إصدار أمر شراء جديد لكل متطلب إسبوعي، ويكون البديل هو الدخول في عقد طويل المدى مع المورد، وعادة يعطي للمورد نسخه من خطه المتطلبات من المواد حتى يكون ملماً بالطلبات المستقبلية.

(٣) إستجابة المورد ومعايلته:

نظراً لأن متطلبات المواد عادة ما تتغير فيجب أن يكون الموردون قادرين على رد الفعل بسرعه للتغيير، ويجب أن يكونوا مرنين بصورة كبيرة. ويضمن **شراء العقد** للموردين كميته معينه من الأعمال، ويلزمهم بتخصيص هذه الكمية من سعتهم للعميل، ويستجوبون أكثر لإحتياجات العميل، وتكون ردود فعلهم سريعة للتغيرات بالجدول.

(٤) العلاقة الوثيقة مع الموردين:

يعني شراء العقد والحاجة إلى لى مرونة المورد ومعالجته أن علاقة المشتري – المورد يجب أن تكون وثيقة وتعاونيه.ومن الضروري وجود إتصالات في إتجاهين،وتعاون،وعمل فريق ممتاز.

٥) تبادل البيانات إلكترونياً:

يجعل تبادل البيانات إلكترونياً من الممكن للعملاء والموردين في أن يتبادلوا معلومات العمليات الجارية مثل: **أوامر الشراء والفواتير**. والتبادل الإلكتروني للبيانات يلغى الأعمال الورقية المهلكة للوقت وتسهل الإتصالات بين المخطط المشتري والموردين.

٦) المخزون الذي يديره المورد:

في هذا المفهوم يمتلك المورد المخزون حتى يسحبه العميل ليستخدمه ويدفع ثمن ما إستخدمه،ولا يحتاج العميل أن يصدر أوامر لهذا المخزون،نظراً لمسئولية المورد عن الإحتفاظ بالعرض الكافي في التسهيل لإستخدام العميل.

٧) الإنترنت:

أصبحت تقنية الإنترنت وسيط الإتصال الأكثر قبولاً عن من أي شيء آخر،وتوجد ثلاثة أشكال للشبكات وهي:

- ١) **الإنترنت:** وهي الأكثر إستخداماً،وهي مفتوحة وعامة لكل الناس.
- ٢) **الأنترانت:** شبكة داخلية عادة ما تستخدم داخل حدود الشركة.ويمكن أن تمتد عبر العديد من مواقع التصنيع،أو حتى الدول.ويتقيد الإتصال بها على الناس العاملين في الشركة فقط.
- ٣) **الإكسترانت:** إنترانت تشترك فيها شركتان أو أكثر،وتنقل كل شركة مشتركة فيها بيانات معينة خارج الإنترنت الخاصة إلى الإكسترانت،لنتاح الشركات المشتركة في الإكسترانت فقط،(مثل توفير المعلومات إلى المورد).

سابعاً/ بعض الأمور التنظيمية لإدارة سلسلة التوريد.

- **تغير تركيز تكلفة الشركات تغيراً هائلاً،**فعاده لا تبني القرارات على السعر المنتج فقط،بل تبني على إجمالي التكلفة والقيمة والجودة وتقديم الخدمة وأي سمه أخرى تضعها الشركة على إجمالي القيمة،ويمكن أن تشمل تكاليف النقل والتخزين.
- **تغير إتخاذ القرار** من "أنا أقول وأنت تعمل"أو التفاوض مع الموردين إلى "**دعنا نتكلم عن أفضل طريقة لتناول الأمر،ونتخذ قراراً مزدوج الفائدة.**
- **تغير المشاركة في المعلومات** من إعطاء المعلومات عن الأمر ببساطه إلى منظور المشاركة في بعض المعلومات المهمة عن الأعمال نفسها.
- **تناول نظم القياس** لكل أوجه سلسلة التوريد،وليس أداء المورد فقط.
- **تزايد الأعمال الإلكترونية** ويشمل هذا زيادة إستخدام الإنترنت.

الفصل الثامن

التنبؤ

أولا المقدمة:

يعتبر التنبؤ مقدما للتخطيط. فقبل الخطط يجب عمل تقدير (تنبؤ) للظروف التي ستقابلها الشركة خلال فترة مستقبلية قادمة. ويكون التنبؤ حتميا في تطوير الخطط لتحقيق الطلب المستقبلي. وتؤثر الكثير من العوامل على الطلب على منتجات الشركة وخدماتها، ورغم أنه من غير الممكن تحديد تأثيرها على الطلب، إلا أنه من المفيد التعرف: على بعض العوامل الرئيسية التالية:

- الأعمال العامة، والظروف الاقتصادية.
- التنافسية.
- اتجاهات السوق مثل التغيير في الطلب.
- خطط الشركة للإعلان، والترويج، والتسعير، وتغييرات المنتج.

ثانيا/ إدارة الطلب

تعتبر إدارة الطلب، وظيفة معالجة كل الطلبات على المنتجات، وإدارتها. ويحدث هذا في المدى القصير، والمتوسط، والطويل.

في المدى الطويل، يلزم معالجة طلب التخطيط الاستراتيجي للأعمال لأشياء مثل التسهيلات.

وفي المدى المتوسط، يكون الغرض من إدارة الطلب هو معالجة إجمالي الطلب لتخطيط الإنتاج.

وفي المدى القصير تلتزم إدارة الطلب على العناصر المرتبطة بجدولة الإنتاج الرئيسية.

وتشمل إدارة الطلب أربعة أنشطة رئيسية، وهي:

- التنبؤ.
- تشغيل الأمر.
- وعود بالتسليم.
- تنسيق التداخل بين تخطيط، ومراقبة التصنيع، والتسويق.

تشغيل الأمر Order Processing

يبدأ تشغيل الأمر عند استلام أمر العميل. ويمكن تسليم المنتج من مخزون السلع النهائية، أو يمكن أن ينتج، أو يتم تحميصه طبقا للطلب.

فإذا تم التبعية من المخزون، تصدر أوامر البيع التي تسمح بشحن السلع من المخزون. وإذا كان المنتج سينتج أو يتم تجميعه، فيجب أن يصدر قسم المبيعات أمر مبيعات يحدد فيه المنتج. وهنا ترسل نسخة من أمر المبيعات تحدد شروط، وظروف قبول الأمر الى العميل. وترسل نسخة أخرى الى المخطط الرئيسي للبدء في تخطيط عملية التصنيع.

ويجب أن يعرف المخطط الرئيسي ما يراد إنتاجه، وكم عدد الوحدات المطلوب إنتاجها، ومتى سيكون التسليم، ويجب أ، يكتب أمر المبيعات بلغة تجعل هذه المعلومات واضحة.

ثالثا/ التنبؤ بالطلب

(1) تعتمد التنبؤات على ما يراد عملة، ويجب أن تعد التنبؤات لكل من خطة الأعمال الاستراتيجية، وخطة الإنتاج، وجدولة الإنتاج الرئيسية.

- ٢) **تهتم الخطة الاستراتيجية للأعمال** بالأسواق الشاملة واتجاه الاقتصاد خلال السنتين الى العشر سنوات التالية. والغرض منها هو توفير الوقت لتخطيط الأشياء التي يحتاج تغييرها الى الوقت الطويل.
- ٣) **بالنسبة للإنتاج**، يجب أن توفر الخطة الاستراتيجية للأعمال وقتا كافيا لتخطيط الموارد. ويمكن أن تراجع التنبؤات، والتخطيط كل ربع سنة أو كل سنة.
- ٤) **يهتم تخطيط الإنتاج**، بنشاط التصنيع للسنة الى ثلاث سنوات التالية. **وبالنسبة للتصنيع**، يهتم هذا التنبؤ بالعناصر اللازمة لتخطيط الإنتاج **مثل** الميزانيات، وتخطيط العمالة. وتعد التنبؤات لعائلات المنتجات بدلا من العناصر النهائية المحددة.
- ٥) **تهتم جدولة الإنتاج الرئيسية**، بنشاط الإنتاج من الآن ولبضعة أشهر قادمة. وتعد التنبؤات للعناصر الفردية كما هي موجودة على جدول الإنتاج الرئيسي، ومستويات المخزون للعناصر الفردية.

رابعاً/ خواص الطلب

أنماط الطلب

نمط الطلب هو الشكل العام للسلسلة الزمنية، ويوضح العلاقة بين الطلب والزمن، وعادة يتغير نمط الطلب الفعلي من وقت لآخر **ويرجع هذا الى أربعة أسباب هي:**

- ١) **الاتجاه:** يمكن أن يكون الاتجاه ثابت لا يتغير، ويمكن أن يزداد ويقل من سنة الى أخرى.
- ٢) **الموسمية:** هي التذبذب السنوي في الطلب طبقا للوقت في السنة، ويمكن أن ينتج هذا التذبذب من الطقس أو مواسم العطلات أو أحداث موسمية، ويمكن أن تحدث الموسمية سنويا أو أسبوعيا أو حتى يوميا. فمثلا يتغير الطلب على المطعم من ساعة لأخرى طوال النهار.
- ٣) **التغير العشوائي:** يحدث عندما تؤثر الكثير من العوامل على الطلب خلال فترات محددة، لذا يحدث بصورة عشوائية، ويمكن أن يكون التغير صغيرا، او يمكن أن يكون كبيرا.
- ٤) **الدورة:** تؤثر الزيادات والانخفاضات الشبيهة بالموجات في الاقتصاد على الطلب. ويعتبر التنبؤ بالدورات عملا اقتصاديا.

الطلب المستقر مقابل الطلب الديناميكي

تتغير أشكال أنماط الطلب لبعض المنتجات مع مرور الوقت بينما لا تتغير أنماط الطلب لمنتجات أخرى. وتسمى الأنماط التي تحتفظ بالشكل العام **مستقرة**. والتي لا تحتفظ بالشكل العام ديناميكية. والتنبؤ بالطلب يكون أسهل بالنسبة للطلب المستقر.

الطلب المعتمد مقابل الطلب المستقل

الطلب على المنتج أو الخدمة يكون **مستقلا** عندما لا يرتبط بالطلب على أي منتج آخر، أو أي خدمة أخرى. ويحدث **الطلب المعتمد** على المنتج، عندما يستخلص الطلب على العنصر من الطلب على عنصر ثاني. ولا حاجة الى التنبؤ بمتطلبات الطلب على عنصر ثاني. ولا حاجة الى التنبؤ بمتطلبات الطلب المعتمد وإنما تحسب للطلب على العنصر المستقل.

خامساً/ أساسيات التنبؤ

خواص التنبؤ

- ١) **عادة تكون التنبؤات خطأ:** حيث تحاول التنبؤات أن تنظر في المستقبل المجهول، لذا فهي تتضمن خطأ بدرجة معينة، أي أن الأخطاء حتمية ويجب توقعها
- ٢) **يجب أن تشمل التنبؤات تقديرا للخطأ:** وعادة يعبر عنه بنسبة مئوية (موجبة، أو سالبة) من التنبؤ أو مدى بين قيمتين عليا ودنيا.
- ٣) **تكون التنبؤات أكثر دقة لعائلات أو المجموعات المنتجات:** ويعني هذا أن التنبؤات تكون أكثر دقة لمجموعات العناصر الكبيرة عن العناصر الفردية في المجموعة.

٤) تكون التنبؤات أكثر دقة للفترات الزمنية الأصغر: أي أنه من الأسهل للشركة أن تتنبأ بالطلب في المستقبل القريب عنة في المستقبل البعيد.

سادسا/ جمع البيانات وأعدادها

قواعد جمع البيانات

- ١) سجل البيانات بنفس المصطلحات اللازمة للتنبؤ، وهي مشكلة لتحديد الغرض من التنبؤ، وما الذي يتم التنبؤ به، وتوجد ثلاثة أبعاد لذلك:
 - إذا كان الغرض هو التنبؤ بالطلب على الإنتاج، فيجب أن تكون البيانات المطلوبة هي البيانات المعتمدة على الطلب، وليس البيانات المعتمدة على الشحنات.
 - يجب أن تكون فترة التنبؤ بالأسابيع أو الأشهر أو بالربع سنة، مثل فترة الجداول، حيث يجب أن يكون التنبؤ لنفس الفترة الزمنية الموجودة بالجدول.
- ٢) سجل الظروف المرتبطة بالبيانات، حيث يتأثر الطلب بأحداث خاصة، ويجب تسجيل هذه الأحداث مع بيانات الطلب.
- ٣) سجل الطلب المستقل لمجموعات العملاء المختلفة، حيث توزع الكثير من الشركات سلعها عبر قنوات توزيع مختلفة، ولكل منها خواص الطلب الخاصة بها.

سابعا/ أساليب التنبؤ

التصنيفات الرئيسية لأساليب التنبؤ

١. أساليب كيفية:
 - هي تنبؤات مبنية على الحكم، والبدئية، والآراء الملمة بالمعلومات.
 - تستخدمها الإدارة العليا في التنبؤ باتجاهات الأعمال العامة، والطلب المحتمل لعائلات المنتجات خلال فترة زمنية طويلة.
 - توجد عدة طرق للتنبؤ الكيفي مثل: طريقة دلفي، وطريقة رأي لجنة الخبراء.
٢. أساليب داخلية:
 - تستخدم هذه الأساليب بيانات تاريخية في التنبؤ، وهي متوفرة بالشركة.
 - تفترض هذه الأساليب أن ما حدث في الماضي سيحدث في المستقبل.
٣. الأساليب الخارجية:
 - هي تنبؤات مبنية على محددات خارجية ترتبط بالطلب على منتجات الشركة. مثال (معدلات الميلاد، الدخل)
 - تعتمد على نظرية: أن الطلب على مجموعة المنتج يرتبط بنشاط يقع في مجال آخر. مثال ذلك تتناسب مبيعات طوب البناء مع عقود بناء المنازل، كما تتناسب مبيعات إطارات السيارات مع استهلاك الوقود. حيث يعتبر استهلاك الوقود وبناء المنازل محددات اقتصادية. وهي التي تصف ظروفًا اقتصادية تحدث خلال فترة زمنية معينة.
 - التنبؤ الخارجي أكثر فائدة في التنبؤ بإجمالي الطلب على منتجات الشركة، أو الطلب على عائلات المنتجات. لذا فهي تستخدم في تخطيط الإنتاج والأعمال.
 - مشكلة هذه الطرق تتلخص في إيجاد محدد يرتبط بالطلب، والذي يقود للطلب، أي يحدث قبل أن يحدث الطلب.

ثامنا/ بعض الأساليب الداخلية المهمة

(١) المتوسطات المتحركة Moving Averages

- إحدى الطرق البسيطة للتنبؤ هي أخذ متوسط الطلب لآخر ثلاث أو ست فترات. واستخدام هذا الرقم كتنبؤ للفترة القادمة.
- تستخدم المتوسطات المتحركة بصورة أفضل في التنبؤ بالمنتجات التي لها طلب مستقر نسبيًا، ولها اتجاه قليل، أو موسمية قليلة.

- تفيد في ترشيح الذبذبات العشوائية.
- أحد عيوب استخدام المتوسطات المتحركة هو (الحاجة الى الاحتفاظ بعدد من الفترات التاريخية للعنصر المراد التنبؤ به).
- يتطلب كما كبيرا من تخزين الحاسب، أو الموظفين الكتابيين وتكون الحسابات مرهقة.

مثال لمشكلة (1):

كان الطلب خلال الثلاثة أشهر ماضية كالتالي: 120، 135، 114 وحدة

والمطلوب

- استخدام المتوسط المتحرك لثلاثة أشهر لحساب التنبؤ للشهر الرابع؟
- إذا كان الطلب الفعلي في الشهر الرابع هو 129 وحدة، احسب التنبؤ للشهر الخامس؟

الإجابة:

$$(1) \text{ التنبؤ للشهر الرابع} = \frac{120+135+114}{3} = \frac{369}{3} = 123$$

$$(2) \text{ التنبؤ للشهر الخامس} = \frac{135+114+129}{3} = \frac{378}{3} = 126$$

(2) التمهيد الأسّي.

إحدى مميزاته هي أنه من الممكن إعطاء البيانات الجديدة أي وزن نريده. ويسمى الوزن الذي يعطى لآخر طلب فعلي (ثابت التمهيد) يومثل بحرف الفا (a)، ودائما يعبر عنه بكسر عشري من 0 إلى 1.

تأخذ صيغة حساب التنبؤ الجديد الشكل التالي:

$$\text{التنبؤ الجديد} - \{ (a) \times \text{الطلب الأخير} \} + \{ (a-1) \times \text{التنبؤ السابق} \}$$

ويوفر التمهيد الأسّي طريقه لتجديد التنبؤ. ويعمل بشكل جيد عند التعامل مع العناصر المستقرة. ويعتبر مقنعاً في التنبؤ للمدى القصير، وليس مقنعاً عندما يكون الطلب منخفض.

•تاسعا/ الموسمية

للكثير من المنتجات نمط طلب موسمي أو دوري. مثل: الملابس الشتوية. والأقل وضوحا المنتجات التي يتغير الطلب عليها أثناء الوقت من اليوم أو الأسبوع مثل: استخدام الطاقة الكهربائية أثناء النوم.

(1) دليل الموسمية

تقاس درجة التغير الموسمي للمنتج باستخدام دليل الموسمية. ويكون هذا الدليل تقديرا لحجم الطلب خلال الموسم، سواء أكبر من أو أقل من متوسط الطلب على المنتج. وتأخذ الصيغة لحساب الدليل الموسمي الشكل التالي

$$\text{دليل الموسمية} = \frac{\text{متوسط طلب الفترة}}{\text{متوسط الطلب لجميع الفترات}}$$

مثال لمشكلة (3):

المجموع	الربع ح				السنة
	4	3	2	1	
401	90	81	108	122	1
399	96	73	100	130	2
400	99	71	98	132	3
400	95	75	102	128	المتوسط

يبين الجدول السابق منتجاً موسمياً بناء على الطلب الربع سنوي، والطلب لآخر ثلاث سنوات. ويبلغ متوسط الطلب الربع سنوي لجميع الفترات هو 100 وحدة. ويكون متوسط الطلب هو متوسط الطلب التاريخي لكل الفترات؟ والمطلوب حساب الأدلة الموسمية لكل ربع سنة، وما هو مجموع تلك الأدلة؟

الإجابة:

يمكن حساب الأدلة الموسمية الآن كما يلي:

$$\text{الدليل الموسمي (الربع الأول)} = \frac{128}{100} = 1.28$$

$$\text{الدليل الموسمي (الربع الثاني)} = \frac{102}{100} = 1.02$$

$$\text{الدليل الموسمي (الربع الثالث)} = \frac{75}{100} = 0.75$$

$$\text{الدليل الموسمي (الربع الرابع)} = \frac{95}{100} = 0.95$$

$$\text{مجموع الأدلة الموسمية} = 4.00$$

لاحظ أن إجمالي كل الأدلة الموسمية يساوي عدد الفترات. وتكون هذه طريقة جيدة للتأكد مما إذا كانت الحسابات صحيحة.

(٢) التنبؤات الموسمية

تستخدم هذه المعادلة لتطوير الأدلة الموسمية في التنبؤ بالطلب الموسمي أيضاً. فإذا كانت الشركة تتنبأ بمتوسط الطلب لكل الفترات يمكنها أن تستخدم الأدلة الموسمية في حساب التنبؤات الموسمية. وبإعادة كتابة المعادلة لتتناسب مع ذلك فإنها تأخذ الشكل التالي:

$$\text{التنبؤ بالطلب الموسمي} = \text{دليل الموسمية} \times \text{متوسط الطلب المتوقع الربع سنوي}$$

مثال لمشكلة (٤)

اعتماد على نفس بيانات المشكلة (٣) السابقة، افترض أن الشركة تتنبأ بأن الطلب السنوي للسنة القادمة هو 420 وحدة. أحسب التنبؤ بالطلب الموسمي للمبيعات الربع سنوية؟

الإجابة:

$$(١) \text{ متوسط الطلب على جميع الفترات} = \frac{420}{4} = 105$$

$$(٢) \text{ الطلب الموسمي} = (\text{دليل الموسمية}) (\text{متوسط الطلب الربع سنوي المتوقع})$$

الربع الأول = $105 \times 1.28 = 134.4$ وحدة

الربع الثاني = $105 \times 1.02 = 107.1$ وحدة

الربع الثالث = $105 \times 0.75 = 78.75$ وحدة

الربع الرابع = $105 \times 0.95 = 99.75$ وحدة

إجمالي الطلب المتوقع = 420 وحدة

(٣) الطلب دون اعتبار للموسمية

لا تأخذ التنبؤات في الحسبان التغير العشوائي، وتعد لمتوسط الطلب. ويحسب الطلب الموسمي من المتوسط باستخدام الأدلة الموسمية، ومعادلة حساب الطلب دون الاعتماد على الموسمية كالتالي:

$$\frac{\text{الطلب الموسمي الفعلي}}{\text{دليل الموسمية}} = \text{الطلب دون اعتبار للموسمية}$$

مثال لمشكلة (٥)

إذا كان الطلب لشهر يناير 5200 وحدة لشركة تنتج مضارب التنس، وكان الطلب خلال شهر يونيو 24,000 وحدة. فإذا كانت الأدلة الموسمية لشهر يناير 0.5 ولشهر يونيو 2.5

المطلوب: احسب طلب شهر يناير وطلب شهر يونيو غير المعتمد على الموسمية ثم حدد كيف تقارن الشهرين؟

الإجابة:

$$\text{الطلب دون اعتبار الموسمية لشهر يناير} = \frac{5200}{0.5} = 10.400 \text{ وحدة}$$

$$\text{الطلب دون اعتبار الموسمية لشهر يونيو} = \frac{24000}{2.5} = 9.600 \text{ وحدة}$$

يمكن الآن مقارنة طلب شهري يناير ويونيو فعلى أساس عدم الاعتماد على الموسمية يكون طلب شهر يناير أكبر من طلب شهر يونيو.

عاشرا/تتبع التنبؤ

(١) خطأ التنبؤ:

هو الفرق بين الطلب الفعلي والطلب المتوقع به، ويمكن أن يحدث الخطأ بإحدى طريقتين وهما (التحيز – التغير العشوائي)

(أ) التحيز

يكون التحيز خطأ عندما يكون الطلب الفعلي أكبر من أو أقل من التنبؤ بالطلب، وعند وجود هذا التحيز يجب تغيير التنبؤ لتحسين دقته.

ويكون الغرض من تتبع التنبؤ هو إيجاد المقدرة على ردة فعل لخطأ التنبؤ عن طريق تقليله وعند ملاحظة خطأ أو تحيز كبير غير مقبول يجب فحصه لتحديد سببه

(ب) التغير العشوائي:

هي فترة معينة يختلف الطلب الفعلي عن متوسط الطلب، ويعتمد التغير على مستوى الطلب للمنتج، وهنا سيكون لبعض المنتجات طلب مستقر، ولن يكون بعضها الآخر مستقرا.

(٢) متوسط الانحراف المطلق (MAD)

يجب أن يقاس خطأ التنبؤ قبل أن يمكن استخدامه في مراجعة التنبؤ أو المساعدة في التخطيط وتوجد عدة طرق لقياس الخطأ إلا أن الطريقة الأكثر استخداما هي **متوسط الانحراف المطلق**.
متوسط الانحراف المطلق، وتعني **مطلق** أي دون اهتمام بإشارات السالب والموجب ويشير **الانحراف** الى الخطأ
ويحسب متوسط الانحراف المطلق (MAD) ممن العلاقة التالية:

$$\text{متوسط الانحراف المطلق} = \frac{\text{متوسط الانحرافات المطلقة}}{\text{عدد المشاهدات}}$$

مثال لمشكلة (6):

إستخدام بيانات الجدول الجانبي لحساب متوسط الانحراف المطلق؟

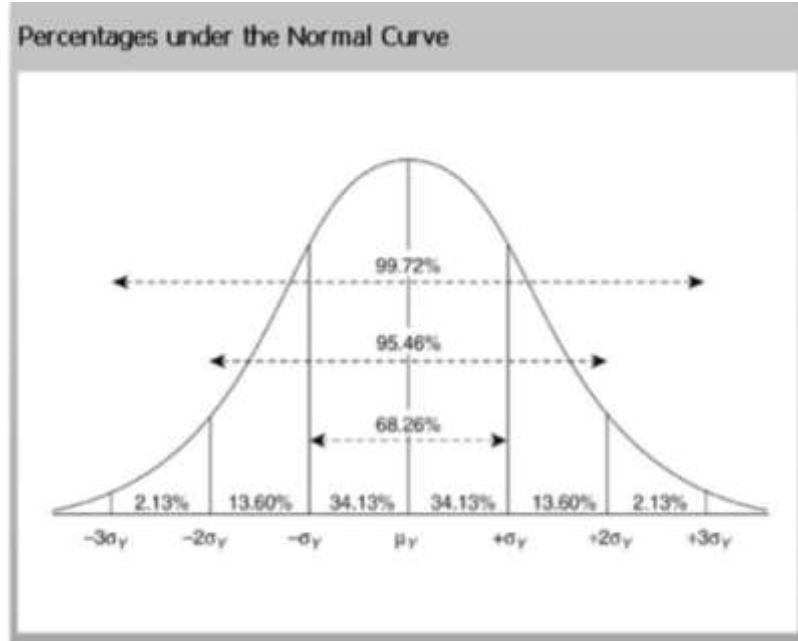
الإجابة:

$$\text{متوسط الانحراف المطلق} = \frac{5+6+2+4+3+4}{6} = 4$$

الانحراف (الخطأ)	الفعلي	التنبؤ	الشهر
5	105	100	1
-6	94	100	2
-2	98	100	3
4	104	100	4
3	103	100	5
-4	96	100	6
0	600	600	المجموع

(٣) التوزيع الطبيعي

يقيس متوسط الانحراف المطلق بين الطلب الفعلي والتنبؤ وعادة يكون الطلب الفعلي قريبا من التنبؤ لكن في بعض الأحيان لا يحدث هذا، ويكون لرسم عدة مرات تكرار الطلب الفعلي قيمه معينة لأنتاج منحني يشبه الجرس يسمى هذا التوزيع **التوزيع الطبيعي**



(٤) نسبة وقت انتظار الإنتاج الى وقت انتظار الطلب:

يكون وقت انتظار الإنتاج هو وقت الانتظار المخصص للمنتج ويشمل وقت شراء المواد الخام حتى وصولها والتصنيع والتجميع والتسليم وفي بعض الأحيان تصميم المنتج. ويكون وقت انتظار الطلب وقت انتظار العميل، وهو الوقت منذ أن يصدر العميل أمره حتى يتم تسليم السلع. ويمكن أن يكون قصيرا جدا كما في بيئة الإنتاج للمنتج أو طويلا جدا كما في بيئة الهندسة للأمر.

الفصل التاسع

أساسيات المخزون

مقدمة:

المخزون: عبارته عن مواد، وتوريدات تحتفظ بها المؤسسات، إما لبيعها، أو لتوفير مدخلات، أو لتوريدات لعملية الإنتاج. وتحتاج كل المؤسسات إلى المخزون، وعادة ما يكون المخزون جزءاً مهماً من إجمالي الأصول.

والمخزون مهم مالياً، لشركات التصنيع، ففي تقرير الموازنة يمثل من 20% إلى 60% من الأصول. ومع استخدام المخزون يتحول إلى نقدية.

والنقدية تحسن التدفق النقدي، والعائد على الإستثمار. وهناك تكاليف الإحتفاظ بالمخزون، وتسبب في زيادة تكاليف التشغيل، وتقلل الأرباح.

والإدارة الجيدة للمخزون مهمة، هي المسئولية عن تخطيط المخزون، ويجب تناول المخزون على كل مستويات التخطيط، وبذلك يكون جزء من تخطيط الإنتاج، والجدولة الرئيسية للإنتاج.

ثانياً/ إدارة إجمالي المخزون.

تتعامل إدارة إجمالي المخزون مع المخزون طبقاً لتصنيفه (مواد خام، ومخزون مابين العمليات، وسلع نهائية). وتهتم إدارة إجمالي المخزون بتكاليف، ومنافع الإحتفاظ بالتصنيفات المختلفة للمخزون.

وتشمل إدارة إجمالي المخزون مايلي:

- التدفق، وأنواع المخزون اللازمة.
- أنماط العرض، والطلب.
- الوظائف التي يؤديها المخزون.
- التكاليف المصاحبة للمخزون.

ثالثاً/ إدارة عنصر المخزون.

لا يدار المخزون على المستوى الإجمالي فقط، وإنما على مستوى العنصر أيضاً. ويجب أن يتم إعداد قواعد قرارات خاصة بعناصر المخزون حتى يمكن للعاملين المسئولين عن إدارة المخزون أن يؤديوا عملهم بكفاءة.

وتشمل هذه القواعد مايلي:

- ماهي عناصر المخزون الفردية الأكثر أهمية.
- كيف تراقب العناصر الفردية.
- كم يطلب في المرة الواحدة.

بعض العوامل المؤثرة على قرارات إدارة المخزون:

أنواع المخزون بناء على تدفق المواد.

أنماط العرض، والطلب.

الوظائف التي يؤديها المخزون.

أهداف إدارة المخزون.

تكاليف المخزون.

ويتم إستعراض تلك العناصر في الأجزاء من رابعاً وحتى ثامناً في الجزء التالي.

رابعاً/المخزون، وتدقيق المواد.

توجد عدة طرق لتصنيف المخزون حسب تدقيق المواد، وهي:

المواد الخام: هي عناصر مشتراه ولتم تدخل عملية الإنتاج، وتشمل المواد المشتراة، وأجزاء المكونات، والتجميعات الفرعية.

مخزون مابين عمليات: مواد خام دخلت عملية التصنيع، ويجرى العمل عليها، أو تنتظر أن يجرى العمل عليها.

السلع النهائية: المنتجات النهائية لعملية الإنتاج، والتي تكون معدة للبيع كعناصر كاملة. ويمكن الإحتفاظ بها كمخزون.

مخزون التوزيع: سلع نهائية موجودة في نظام التوزيع.

توريدات الصيانة، والإصلاح، والتشغيل: عناصر تستخدم في الإنتاج، ولا تصبح جزء من المنتج. **على سبيل المثال** تشمل العدد اليدوية، وقطع الغيار، وزيت التشحيم.

خامساً/ أنماط العرض والطلب.

إذا **أنفق العرض مع الطلب** ستصبح الحاجة بسيطة للمخزون. ويمكن أن يتم إنتاج السلع بنفس معدل الطلب، ولا يبنى أي مخزون. وكما تتواجد هذه الحالة يجب أن يتم التنبؤ بالطلب.

وباستخدام هذه النظام تتم تغذية المواد الخام للإنتاج طبقاً للحاجة ويكون تدفق العمل من محطة لأخرى متوازناً بحيث يلزم القليل فقط من مخزون بين العمليات، ويتم تسليم السلع للعميل بالمعدل الذي يحتاجه به.

ولا يكون الطلب على معظم المنتجات كافياً بدرجة كافية. كما لا يكون ثابتاً بدرجة كافية لضمان إعداد نظام تدفق الخط، وعادة ما تكون هذه المنتجات في دفعات.

سادساً/وظائف المخزون.

يمكن تصنيف المخزون حسب الوظيفة التي يؤديها:

مخزون التوقع: حيث يبنى توقعاً للطلب المستقبلي. أي إنتاج للمستقبل.

مخزون التذبذب: (مخزون الأمان) يحتفظ به لتغطية التذبذبات العشوائية غير المتنبأ بها في العرض، والطلب.

مخزون حجم الدفعة: وهو ينتج بالعناصر التي تشتري أو تصنع بكميات أكبر من الحاجة الفورية لها، ويمون للاستفادة من ميزة خصومات الكميات، وتقليل تكاليف الشحن والتكاليف الكتابية.

مخزون النقل: وهو يوجد بسبب الوقت اللازم لنقل السلع من موقع لأخر. ويسمى في بعض الأحيان مخزون خط الأنابيب أو مخزون الحركة.

وتكون متوسط كمية المخزون في النقل:

$$I = \frac{TA}{365}$$

حيث **I**=متوسط المخزون و**T**=وقت النقل، **A**=الطلب السنوي

مخزون الحاجز: يتم تداول بعض المنتجات، مثل المعادن والسلع التجارية، وتذبذب أسعار هذه المنتجات طبقاً للعرض والطلب.

مثال لمشكلة (1):

يتم تسليم السلع من المورد للنقل في عدد 10 أيام. إذا كان الطلب السنوي 5200 وحدة فما هو متوسط المخزون السنوي في النقل؟

الإجابة:

$$I = \frac{TA}{365}$$

$$I = \frac{10 \times 5200}{365}$$

142.5 وحدة

ويمكن حل المشكلة بنفس الطريقة باستخدام الريالات بدلا من الوحدات.

سابعا: أهداف إدارة المخزون

أهداف الشركة التي ترغب في تحقيق الربح من المخزون:

(تعظيم خدمة العميل وعمليات منخفضة التكاليف وأقل استثمار مخزون)

■ خدمة العميل:

هي مقدرة الشركة على تحقيق احتياجات العملاء وفي إدارة المخزون يستخدم المصطلح لوصف مدى إتاحة العناصر عند الحاجة لها. وهو بذلك يعتبر مقياسا لفاعلية إدارة المخزون.

وتوجد العديد من الطرق لقياس خدمة العميل، لكم لا يوجد مقياس واحد أفضل ويساعد المخزون على تعظيم خدمة العميل عن طريق الحماية ضد عدم التأكد ومن الضروري الاحتفاظ بمخزون زائد للحماية ضد عدم التأكد ويسمى في هذه الحالة **مخزون الأمان**

■ كفاءة التشغيل:

يساعد المخزون في جعل عملية التصنيع أكثر إنتاجية بأربع طرق:

(1) يسمح المخزون للعمليات التي لها معدلات إنتاج مختلفة بالعمل بشكل مستقل وبصورة اقتصادية أكثر
(2) لتخطيط الإنتاج للمنتجات الموسمية تستخدم استراتيجيات مختلفة مثل: تسوية الإنتاج وبناء المخزون المتوقع للبيع في فترات الذروة وينتج عن هذا ما يلي:

○ تكاليف وقت إضافي أقل.

○ تكاليف تعيين، واستغناء أقل.

○ تكاليف تدريب أقل.

○ تكاليف تعاقد من الباطن أقل.

○ سعة لازمة أقل.

(3) يسمح مخزون التصنيع بتشغيل دورات إنتاج أطول، وهذا ينتج عنه ما يلي:

○ تكلفة إعداد أقل لكل عنصر. حيث تعتمد تكلفة إنتاج الدفعة على تكاليف الإعداد وتكاليف التشغيل وتكون تكاليف الإعداد ثابتة إلا إن تكاليف التشغيل تتغير مع تغير العدد المنتج.

○ زيادة في سعة الإنتاج بسبب استخدام موارد الإنتاج جزء كبير من الوقت في التشغيل على عكس الإعداد.

(4) يسمح مخزون التصنيع بالشراء بكميات كبيرة. مما ينتج عنه تكاليف أقل لكل وحدة. إلا إن كل هذا له سعر. وتكون هنا المشكلة هي موازنة استثمار المخزون مع العديد من العوامل.

وتصبح المشكلة موازنة استثمار المخزون مع ما يلي:

○ خدمة العميل: كلما أنخفض المخزون كلما ازداد العجز (النفاد) وأنخفض مستوى خدمة العميل، والعكس بالعكس.

○ التكاليف المصاحبة للتغيرات في مستوى الإنتاج ستكون تكاليف سعة المعدات زائدة، والوقت الإضافي والتدريب والاستغناء أعلى إذا تذبذب الإنتاج مع الطلب

- **تكلفة إصدار الأوامر:** يمكن تحقيق المخزون المنخفض عن طريق إصدار أوامر بطلب كميات أصغر من المعتاد، إلا أنه ينتج عن ذلك تكاليف أوامر سنوية أعلى.
- **تكاليف النقل:** تكلف السلع التي تنقل بكميات صغيرة أكثر للوحدة الواحدة عن تلك التي تنقل بكميات كبيرة. فإذا تم الاحتفاظ بالمخزون نجد أن منفعة تزداد عن تكاليف الاحتفاظ بالمخزون

ثامنا: تكاليف المخزون

(١) تكاليف قرارات إدارة المخزون

- **تكلفة العنصر:** هو السعر المدفوع في شراء العنصر والذي يتكون من تكلفة العنصر وأي تكاليف مباشرة أخرى تصاحب الحصول على العنصر وإحضاره للمصنع.
- **تكاليف الحفظ أو الحمل:** وتشمل كل المصاريف التي تواجهها الشركة بسبب حجم المخزون المحتفظ به. فمع زيادة المخزون تزداد هذه التكاليف. ويمكن تجزئتها إلى ثلاث فئات:
 - ١- **تكاليف رأسمالية:** لا تتاح الأموال المستثمرة في المخزون لأي استخدامات أخرى.
 - ٢- **تكاليف التخزين:** هي تكاليف المخزون، والعمال، والمعدات.
 - ٣- **تكاليف المخاطرة:** مخاطرة حفظ المخزون مثل: **التلف الاختلاس، الفساد.**

مثال مشكلة (١)

تحتفظ شركة بمخزون متوسط تبلغ قيمته السنوية 2000000 ريال، فإذا قدرت تكلفة رأس الما بأنها 10%، وتكلفة التخزين 7%، وتكاليف المخاطرة بأنها 6%، فكم تبلغ تكلفة احتفاظها بالمخزون في السنة؟

الإجابة:

$$\text{التكلفة الكلية للاحتفاظ بالمخزون} = 10\% + 7\% + 6\% = 23\%$$

$$\text{التكلفة السنوية للاحتفاظ بالمخزون} = 0.23 \times 2000000 = 460000 \text{ ريال}$$

(٢) تكاليف الأوامر:

- هي تلك التكاليف التي تصاحب إصدار أمر، أما إلى المصنع أو إلى المورد. ولا تعتمد تكلفة إصدار الأمر على كمية الطلبية، فسواء كانت الكمية المطلوبة 10 أو 100 تظل تكلفة الأمر كما هي. إلا أن تكلفة الأوامر السنوية تعتمد على عدد الأوامر التي تصدر في السنة.
- وتشمل تكاليف الأمر في المصنع، على:
 - **تكاليف مراقبة الإنتاج:** وتعتمد على عدد الأوامر الصادرة، وليس الكمية التي تشملها تلك الأوامر. فكلما قلت الأوامر قلت التكلفة.
 - **تكاليف الإعداد والتفكيك:** مع كل أمر يجب أن تعد مراكز العمل لتشغيل الأمر، وتفكيك الإعداد في نهاية التشغيل، ولا تعتمد هذه التكاليف على الكمية التي يشملها الأمر، وأما عدد الأوامر التي تصدر في السنة.
 - **تكلفة السعة المفقودة:** مع كل مرة يصدر فيها أمر، يكون الوقت اللازم للإعداد مفقودا كوقف مخرجات منتجة. ويمثل هذا سعة مفقودة، ويرتبط بعدد الأوامر الصادرة.
 - **تكلفة أمر الشراء:** في كل مرة إصدار أمر شراء تصاحبه تكلفة. وتشمل هذه التكاليف الإعداد والمتابعة والتعجيل والاستلام ودفع الفاتورة. وتعتمد تكلفة الأوامر السنوية على عدد الأوامر في السنة ويمكن تقليلها عن طريق طلب كميات أكبر في الأمر الواحد.
 - **تكاليف النفاذ أو العجز:** إذا زاد الطلب أثناء وقت الانتظار عن التنبؤ نتوقع **عجزا أو نفاذا**، ويكون العجز مكلفا نسبيا بسبب الأوامر الخلفية وفقدان المبيعات والعملاء ويمكن تقليل العجز عن طريق المخزون إضافي.
 - **تكاليف السعة المصاحبة:** عند تغيير مستويات المخرجات، يمكن أن توجد تكاليف للوقت الإضافي، والتعيين، والتدريب، والمناوبات الإضافية، والإستغناءات. ويجب تجنب التكاليف المصاحبة للعسة عن طريق تسويه الإنتاج أي إنتاج العناصر في الركوند لبيعها وقت الذروة.

مثال لمشكلة (٣): بمعرفة التكاليف السنوية التالية، احسب متوسط تكلفة إصدار أمر واحد؟

✓ مرتبات رقابة الإنتاج = 60000 ريال.

✓ مصاريف التوريد والتشغيل لقسم رقابة الإنتاج = 15000 ريال.

✓ تكلفة تجهيز مركز العمل لإعداد أمر إنتاجي واحد = 120 ريال

✓ الأوامر المخصصة كل سنة = 2000 أمر.

الإجابة:

$$\text{التكلفة المتوسطة} = \frac{\text{التكاليف الثابتة}}{\text{عدد الأوامر}} + \text{التكلفة المتغيرة}$$

$$\text{التكلفة المتوسطة} = 120 + \frac{60000 + 15000}{2000} = 157.5 \text{ ريال}$$

تاسعا: التقارير المالية والمخزون

التقريران الماليان الرئيسيان، هما **تقرير الموازنة وتقرير الدخل**، ويبين تقرير الموازنة: الأصول والخصوم وحقوق الملكية الملاك بينما يبين تقرير الدخل: العائد المتحقق ومصاريف تحقيق هذا العائد.

(١) تقرير الموازنة:

❖ **الأصول:** هي شيء معين له قيمة ومن المتوقع أن يفيد في الأعمال المستقبلية وقد يكون شيء ملموسا كالنقود والمخزون والألات والمباني أو قد يكون غير ملموس مثل: حسابات المدينين أو براءات الاختراع.

❖ **الخصوم:** هي التزامات أو مبالغ تدين بها الشركة ومن أمثلتها حسابات الدائنين والأجور المدفوعة والدين طويل المدى.

❖ **حقوق الملكية:** وهي الفرق بين الأصول والخصوم. وتمثل دفع كل الخصوم ما يترك لملاك الأعمال وهي تنتج إما من الاستثمارات أو من الأرباح.

معادلة المحاسبة:

$$\text{Assets} = \text{Liabilities} + \text{Owners Equity}$$

معادلة المحاسبة، هي العلاقة بين الأصول والخصوم وحق الملاك. وهذه المعادلة أساسية وبمعرفة إثنين من القيم يمكن إيجاد القيمة الثالثة.

مثال مشكلة (٥)

(أ) إذا كانت الحقوق الملكية 1000 ريال والخصوم 800 ريال. فما مقدار الأصول؟

(ب) إذا كانت الأصول 1000 ريال، والخصوم 600 ريال. فما مقدار الحقوق الملكية؟

الإجابة:

(أ) الأصول = الخصوم + حق الملاك

$$\text{الأصول} = 1000 + 800 = 1800 \text{ ريال}$$

(ب) حقوق الملاك = الأصول - الخصوم

$$\text{حق الملاك} = 1000 - 600 = 400 \text{ ريال}$$

تقرير الموازنة:

عادة يبين تقرير الموازنة الأصول في الناحية اليمنى والخصوم وحق الملكية في الناحية اليسرى.

ويكون رأس المال عبارة عن الأموال التي يستثمرها الملاك في الشركة.

وتزداد المكاسب المحتفظ بها، من العائدات التي تحققت الشركة، بينما تقل من المصاريف التي تنفقها.

(٢) تقرير الدخل

الدخل (الربح): هو الغرض من العمل ولهذا تقسم الى سلسلة حسابات تسمى حسابات العائد والتي تبين سبب زيادة ونقصان حقوق الملكية.
الدخل (الربح) = العوائد - المصاريف

ويأتي **العائد** من بيع السلع والخدمات أحيانا من خلال الدفع الفوري في صورة سيولة نقدية، وأحيانا من خلال الدفع اللاحق فيسمى حسابا مدينا. وتعتبر **المصاريف**: عبارة عن تكاليف عملية تحقيق العائد وعادة تصنف في تكلفة السلع المباعة ومصاريف إدارية وعامة. أما **تكلفة السلع المباعة**: فهي تكاليف إنتاج المنتج وتشمل العمالة المباشرة والمواد المباشرة والمصاريف الإضافية للمصنع. **المصاريف الإدارية والعامة**: هي كل تكاليف التشغيل الأخرى ومنها: تكاليف الإعلان والتأمين والضرائب والأجور.

مثال لمشكلة (6):	
1,500,000	العوائد
300,000	العمالة المباشرة
500,000	المواد المباشرة
400,000	نفقات المصنع
150,000	المصاريف الإدارية، والعامة

بمعرفة البيانات التالية، احسب إجمالي الهامش، وصافي الدخل. كم سيزداد الربح إذا انخفضت تكاليف المواد، من خلال إدارة مواد أفضل، بمقدار 50000 ريال؟

الإجابة:
الربح بعد انخفاض تكاليف المواد = 50000 + 150000 = 200000 ريال

العوائد	
1,500,000	تكاليف البضاعة المباعة
	العمالة المباشرة 300,000
	المواد المباشرة 500,000
(1,200,000)	نفقات المصنع 400,000
300,000	إجمالي الدخل (الربح)
(150,000)	المصاريف الإدارية، والعامة
150,000	صافي الدخل (الربح)

(٣) تحليل التدفق النقدي:

عند شراء المخزون كمواد خام، يتم تسجيله كأصل وعندما يدخل الإنتاج يسجل كمخزون بين العمليات ومع إجراء التشغيل عليه تزداد قيمته بمقدار العمالة المباشرة التي تنفق عليه، والمصاريف الإضافية التي تساهم في تشغيله وعندما تصبح السلع معدة للبيع فلا تتحول الى عائد حتى تباع وتستعاد المصاريف التي إنفقت عليه في الإنتاج.

(٤) مقاييس أداء المخزون المالية:

يعتبر المخزون أصل، ويمثل نفود تكون مربوطة ولا يمكن استخدامها في أغراض أخرى لذا نحتاج للاحتفاظ بأقل مخزون ممكن لذا نحتاج مقياس لمستوى المخزون والمقياسان المرتبطان بالمبيعات هما **معدل دوران المخزون وعدد أيام العرض**.

(أ) دوران المخزون

لا تحتفظ جهة التصنيع بالمخزون ولا يعتبر هذا عمليا نظرا للحاجة للمخزون في دعم التصنيع. والمقياس المريح لمدى فعالية استخدام المخزون هو معدل دوران المخزون والذي يحسب من العلاقة التالية:

$$\text{معدل دوران المخزون} = \frac{\text{التكاليف السنوية للبضاعة المباعة}}{\text{متوسط قيمة المخزون}}$$

مثال مشكلة (7)

(١) احسب معدل دوران المخزون إذا كانت تكلفة السلع السنوية 24 مليون ريال في السنة ومتوسط قيمة المخزون 6 مليون ريال؟

(٢) إذا زاد دوران المخزون الى 12 مرة في السنة، كم يبلغ الانخفاض في المخزون؟

(٣) إذا كانت تكلفة الاحتفاظ بالمخزون 25% من متوسط المخزون كم سيكون التوفير؟

الإجابة:

$$(١) \text{ معدل دوران المخزون} = \frac{\text{التكاليف السنوية للبضاعة المباعة}}{\text{متوسط قيمة المخزون}}$$

$$\text{معدل دوران المخزون} = \frac{24000000}{6000000} = 4 \text{ مرات}$$

$$(٢) \text{ متوسط قيمة المخزون} = \frac{\text{التكاليف السنوية للبضاعة المباعة}}{\text{معدل دوران المخزون}}$$

$$\text{متوسط قيمة المخزون} = \frac{24000000}{12} = 2000000$$

تابع مثال (7)

$$\begin{aligned} \text{التخفيض في المخزون} &= 6000000 - 2000000 = 4000000 \text{ ريال} \\ \text{التخفيض في المخزون} &= 4000000 \\ \text{الوفر} &= 0.25 \times 4000000 = 1000000 \end{aligned}$$

ب- أيام العرض (التوريد)

تكون أيام العرض مقياسا لعدد الأيام المكافئ للمخزون تحت اليد بناء على الاستخدام وتأخذ معادلة حساب أيام العرض الشكل التالي:

$$\text{أيام العرض (التوريد)} = \frac{\text{المخزون تحت اليد}}{\text{معدل الاستخدام اليومي}}$$

مثال مشكلة (8)

لدى إحدى الشركات 9000 وحدة تحت اليد واستخدام سنوي 48000 وحدة ويوجد في السنة 240 يوم عمل فكم يكون عدد أيام العرض؟
الإجابة:

$$\text{متوسط الوفر اليومي} = \frac{48000}{240} = 200 \text{ وحدة}$$

$$\text{أيام العرض للتوريد} = \frac{\text{المخزون تحت اليد}}{\text{معدل الاستخدام اليومي}} = \frac{9000}{200} = 45 \text{ يوم}$$

طرق تقويم المخزون:

هناك أربع طرق هامة لتقويم التخزين وهي كالتالي:

- ❖ القادم أولا يخرج أولا: تفترض هذه الطريقة أن العنصر الاقدم (الأول) في المخزون يباع أولا ولا تعكس هذه الطريقة الاسعار الحالية.
- ❖ القادم أخيرا يخرج أولا: تفترض هذه الطريقة أن العنصر الاحدث (الأخير) هو الذي يباع أولا وفي حال زيادة الأسعار يكون الاحلال عند السعر الحالي.
- ❖ متوسط التكلفة: تفترض هذه الطريقة متوسطا لكل الأسعار المدفوعة في العنصر. ومشكاتها في تغير الأسعار (الزيادة والانخفاض) فالتكلفة المستخدمة لا ترتبط بالتكلفة الفعلية.
- ❖ التكلفة النمطية: تستخدم هذه الطريقة تكلفة تحدد قبل أن يبدأ الإنتاج وتشمل التكلفة المواد المباشرة، والعمالة المباشرة والمصاريف الإضافية.

عاشرا: مراقبة المخزون (أ ، ب ، ج)

المراقبة المبنية على تصنيف (أ ، ب ، ج):

باستخدام طريقة (أ ، ب ، ج) توجد قاعدتان عامتان تتبعان:

- 1- احتفاظ بالكثير من العناصر منخفضة القيمة وتمثل عناصر (C) حوالي 50% من العناصر الا انها تمثل حوالي 5% فقط من إجمالي قيمة المخزون وتكون عناصر (C) مهمة اذا حدث عجز في عنصر منها فقط فيجب أن توجد تحت اليد دائما مثال ذلك: أطلب احتياجات السنة مرة واحدة واحتفظ بالكثير من مخزون الأمان.
- 2- تقليل مخزون العناصر مرتفعة القيمة وتمثل عناصر (A) حوالي 20% من العناصر الا انها تمثل حوالي 80% من القيمة وهي في غاية الأهمية وتستحق المراقبة الأكثر أحكاما والمراجعة المتكررة.

ويمكن أن تأخذ المراقبات المختلفة مع الأصناف المختلفة الشكل التالي:

- ❖ **تحصيل عناصر (A) على اعلى أولوية:** وتشمل المراقبة المحكمة سجلات كاملة دقيقة ومراجعة منتظمة متكررة ومراجعة لتنبؤات الطلب ومتابعة وتشهيل لتقليل وقت الانتظار.
- ❖ **تحصيل عناصر (B) على أولوية متوسطة:** ومراقبات معتادة وسجلات جيدة وانتباه منتظم وتشغيل معتاد.
- ❖ **تحصيل عناصر (C) على اقل أولوية:** أبسط المراقبات الممكنة والتأكد من وجود كميات كثيرة جدا منها تكون في المخزون وسجلات بسيطة أو بدونها مع ضرورة طلب كميات كبيرة منها والاحتفاظ بمخزون امان.

ملخص الفصل

توجد فوائد، وتكاليف من وجود المخزون وتكون المشكلة عبارة عن توازن تكلفة حفظ المخزون مع ما يلي:

- **خدمة العميل:** كلما انخفض مستوى المخزون كلما ازداد ترجيح العجز أو النفاذ والتكلفة المحتملة للأوامر الخلفية وفقدان المبيعات وخسارة العملاء وكلما زاد مستوى المخزون زاد مستوى خدمة العملاء
- **كفاءة التشغيل:** يفصل المخزون العمليات عن بعضها ويسمح للتصنيع بالعمل بكفاءة أكبر ويسمح بتسوية الإنتاج وتجنب تكاليف تغيير مستويات الإنتاج ويسمح حفظ المخزون بدورات إنتاج أطول وتقليل عدد حالات الاعداد ويسمح المخزون للإدارة بشراء كميات أكبر ويعطي نظام تصنيف (أ، ب، ج) للمخزون أولوية للعناصر الفردية حتى يمكن مراقبة المخزون والتكاليف بصورة أفضل.
- **تكلفة إصدار الأوامر:** يمكن أن يقل المخزون عن طريق طلب التقليل في كل مرة إصدار الأمر إلا أن هذا يتسبب في زيادة تكلفة الأوامر السنوية.
- **تكاليف النقل والمناولة:** كلما ازداد نقل السلع وقلت الكمية المنقولة كلما ازدادت تكاليف النقل ومناولة المواد وتتأثر إدارة المخزون بعدد من العوامل منها:

تصنيف المخزون: من حيث إذا كان المخزون مواد خام أو ما بين العمليات أو سلع نهائية

الوظائف التي يخدمها المخزون: مخزون التوقيع أو التذبذب أو حجم الدفعة أو النقل.

أنماط العرض والطلب

التكاليف المصاحبة لحفظ أو عدم حفظ المخزون

بالإضافة إلى إدارة المخزون على المستوى الإجمالي يجب أن يدار المخزون على مستوى العنصر أيضا وتحتاج الإدارة أن تحدد قواعد قرار خاصه بعناصر المخزون حتى يستطيع افراد المخزون لأن يؤديوا عملهم بكفاءة.

مراجعة عملي الإمداد (المسائل الحسابية).

الفصل الثاني والثالث:

سادسا/ إعداد خطة الإنتاج.

(٤) خطة إنتاج المستوى

فيما يلي إجراء عام لتطوير خطة إنتاج المستوى:

إجمالي الإنتاج = إجمالي التنبؤ + الأوامر الخلفية +
مخزون آخر المدة - مخزون أول المدة

١. جمع إجمالي التنبؤ بالطلب لأفق التخطيط.
٢. تحديد مخزون البداية ، ومخزون النهاية المرغوب فيه.
٣. حساب إجمالي الإنتاج كما يلي:

٤. حساب الإنتاج اللازم لكل فترة عن طريق قسمة إجمالي الإنتاج على عدد الفترات .
٥. حساب مخزون النهاية لكل فترة .

مثال المشكلة : (٢)

تنتج شركة فطائر الأسماك كعكات الأسماك الطازجة ، وتريد أن تطور خطة إنتاج لها . ويبلغ مخزون البداية المتوقع 100 علبة وترغب في أن تقلله إلى 80 علبة مع نهاية فترة التخطيط. ويكون عدد أيام العمل متساوي في كل فترة . ولا توجد أوامر خلفية . ويأخذ الطلب المتوقع على الكعكات الشكل التالي :

الفترة	1	2	3	4	5	الإجمالي
التنبؤ	110	120	130	120	120	600

١. كم علبة يجب أن تنتجها كل فترة ؟

٢. سيكون مخزون النهاية لكل فترة ؟

٣. إذا بلغت تكلفة الاحتفاظ بالمخزون 5 دولارات لكل علبة في الفترة الواحدة ، فبناء على مخزون النهاية كم تبلغ إجمالي تكلفة المخزون ؟

إجمالي الإنتاج = إجمالي التنبؤ + الأوامر الخلفية + مخزون آخر
المدة - مخزون أول المدة

الإجابة:

(أ) الإنتاج المطلوب = $600 + 100 - 80 = 580$ علبة

إنتاج كل فترة = $\frac{580}{5} = 116$ علبة

مخزون آخر المدة = مخزون أول المدة + الإنتاج - الطلب

(ب)

مخزون آخر المدة بعد أول فترة = $100 + 116 - 110 = 106$ علبة

وبالمثل يحسب مخزون كل فترة كما هو موضح بالجدول التالي ، ويصبح مخزون نهاية الفترة الأولى هو مخزون بداية الفترة التالية :

مخزون آخر المدة للفترة الثانية = $106 + 116 - 120 = 102$ علبة

(ج) تبلغ إجمالي تكلفة الاحتفاظ بالمخزون مايلي :

(106 + 102 + 88 + 84 + 80) (5 دولار) = 2300 دولار

الفترة	1	2	3	4	5	الإجمالي
التنبؤ	110	120	130	120	120	600
الإنتاج	116	116	116	116	116	580
مخزون آخر المدة	100	106	102	88	84	80

الجدول يبين خطة إنتاج المستوى

مثال لمشكلة : (٤)

إذا كانت فاتورة الموارد Resource Bill لإحدى الشركات كالتالي :

المنتج	الخشب	ساعات العمالة
المناضد	20	1.31
المقاعد	10	0.85
المقاعد بدون ظهر	5	0.55

فإذا خطت الشركة لإنتاج 500 منضدة ، و 300 مقعد، و 1500 مقعد دون ظهر ، في فترة معينة . والمطلوب حساب :

١ . كمية الخشب المستخدمة في الإنتاج ؟

٢ . كمية ساعات العمالة المستخدمة في الإنتاج ؟

الحل :

١ . كمية الخشب المستخدمة في الإنتاج ؟

المناضد = $20 \times 500 = 10000$ لوح خشب

المقاعد = $10 \times 300 = 3000$ لوح خشب

مقاعد دون ظهر = $5 \times 1500 = 7500$ لوح خشب

إجمالي الخشب المطلوب للإنتاج = 20500 لوح خشب

٢ . كمية ساعات العمالة المستخدمة في الإنتاج ؟

المناضد = $1.31 \times 500 = 655$ ساعات عمالة

المقاعد = $0.85 \times 300 = 255$ ساعات عمالة

مقاعد دون ظهر = $0.55 \times 1500 = 825$ ساعات عمالة

إجمالي ساعات العمالة المطلوبة للإنتاج = 1735 ساعة عمالة

الفصل الرابع.

تخطيط متطلبات من المواد.

ثانيا/ فواتير المواد.

١ . فاتورة المستوى الواحد:

تحتوي فاتورة المستوى الواحد للمواد على عائل واحد، ومكوناته الفوريه فقط لذلك سميت بهذا الاسم.

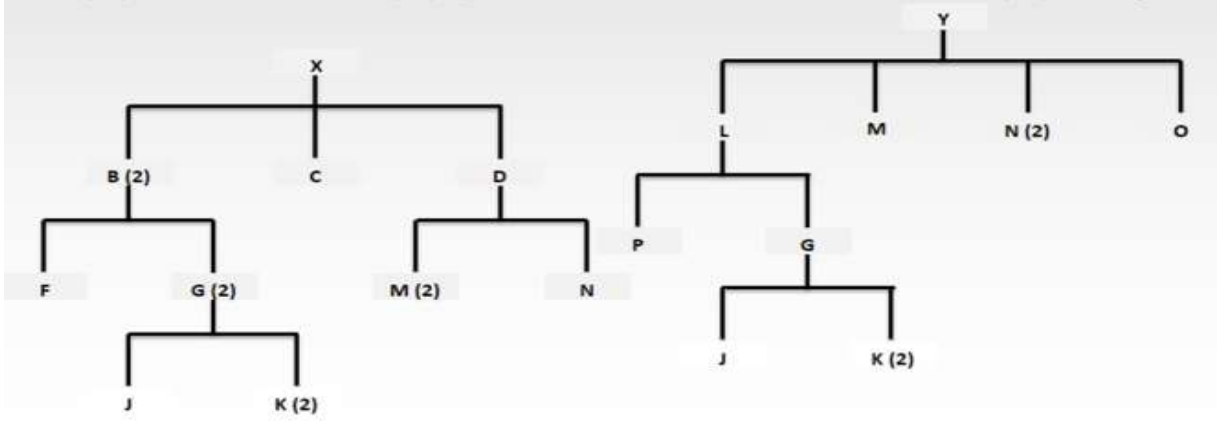
توجد عدة مميزات لإستخدام فواتير المستوى الواحد:

- تجنب ازدواج السجلات.
- يقلل عدم ازدواج السجلات من عدد السجلات، وحجم الملف في الحاسب.

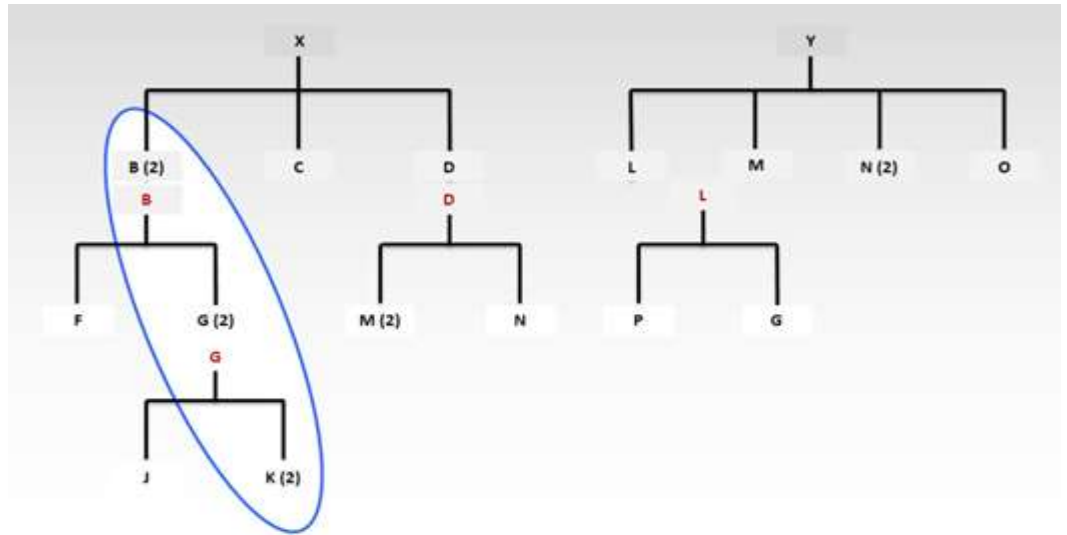
• تصبح صيانة الفواتير سهلة ومبسطة.

• مثال لمشكلة:

• باستخدام شجرة المنتج التالية، شيد أشجار المستوى الواحد المناسبة. ثم حدد كم عدد (K) اللازمة لعمل 100 وحدة من المنتج (X)، و50 وحدة من (Y)؟



الإجابة:



تحتاج كل وحدة من (X) إلى 2 من (B).

تحتاج كل من وحدة من (B) إلى 2 من (G)، وبالتالي فالوحدة من (X) تحتاج إلى 4 من (G).

تحتاج 100 وحدة من (X) إلى 400 وحدة من (G).

تحتاج كل وحدة من (Y) إلى وحدة واحدة من (L).

تحتاج كل وحدة من (L) إلى وحدة واحدة من (G)، وبالتالي فالوحدة الواحدة من (Y) تحتاج إلى وحدة واحدة من (G).

تحتاج 50 وحدة من (Y) إلى 50 وحدة من (G).

إجمالي الحاجة إلى (G) يكون 450 وحدة.

كما تحتاج كل وحدة من (G) إلى 2 من (K).

إجمالي الحاجة إلى (K) يكون (450X2 – 900) وحدة.

الفصل الخامس.

إدارة السعة.

خامسا/السعة المتاحة.

الوقت المتاح هو عدد الساعات التي يمكن استخدام مراكز العمل فيها. مثال ذلك، يتيح مركز العمل الذي يعمل مناوبة من ست ساعات لخمسة أيام في الأسبوع 30 ساعة في الأسبوع. ويعتمد الوقت المتاح على عدد الآلات، وعدد العمال، وساعات العملية.

مثال لمشكلة (١)

لدى أحد مراكز العمل ثلاث آلات ويعمل المركز 8 ساعات في اليوم، و 5 أيام في الأسبوع. أحسب الوقت المتاح؟

الإجابة: الوقت المتاح = عدد الآلات × عدد ساعات العمل × أيام العمل

الوقت المتاح = $3 \times 8 \times 5 = 120$ ساعة في الأسبوع.

(١) الاستغلال:

تسمى النسبة المئوية من الوقت التي يكون فيها مركز العمل نشطا بالمقارنة مع الوقت المتاح، بالاستغلال

$$\text{الاستغلال} = \frac{\text{الفعلية العمل ساعات}}{\text{الساعات المتاحة}} \times 100\%$$

مثال لمشكلة (٢)

يتاح مركز عمل لفترة 120 ساعة لكنه ينتج سلعا لعدد 100 ساعة عمل. فما الاستغلال لمركز العمل؟

الإجابة

$$\text{الاستغلال} = \frac{\text{الفعلية العمل ساعات}}{\text{الساعات المتاحة}} \times 100\%$$

$$\text{الاستغلال} = 100\% \times \frac{100}{120} = 83.3\%$$

(٢) الكفاءة:

من الممكن أن يستغل مركز العمل 100 ساعة في الأسبوع دون أن ينتج 100 ساعة عمل نمطية. أو قد يعمل العمال بصورة أسرع، فتختلف ساعة المركز العمل أو تقل عن 100%.

$$\text{الكفاءة} = \frac{\text{معدل الإنتاج الطبيعي}}{\text{معدل الإنتاج المعياري}} \times 100\%$$

مثال لمشكلة (٣):

ينتج مركز عمل 120 وحدة من الوردية، وتبلغ كمية الكمية النمطية لهذا الوقت 100 وحدة في الوردية. فما هي كفاءة مركز العمل؟

الإجابة

$$\text{الكفاءة} = 100\% \times \frac{120}{100} = 120\%$$

(٣) السعة المقدرة

تحسب السعة المقدرة عن طريق أخذ استغلال مركز العمل، وكفايته، والوقت المتاح في الحسبان.

$$\text{السعة المقدرة} = \text{الوقت المتاح} \times \text{الاستغلال} \times \text{الكفاءة}$$

مثال لمشكلة (٤)

يتكون مركز عمل من أربع الآلات، ويعمل 8 ساعات في اليوم لخمسة أيام في الأسبوع. وكان الاستغلال 85% والكفاءة 110% فما هي السعة المقدرة له؟

الإجابة:

$$\text{الوقت المتاح} = 5 \times 8 \times 4 = 160 \text{ ساعة/يوم}$$

$$\text{السعة المقدرة} = 160 \times 0.85 \times 1.10 = 149.6 \text{ ساعة نظمية}$$

(٤) السعة الموضحة

لإيجاد سعة مركز العمل يتم فحص سجلات الإنتاج السابقة، واستخدام هذه المعلومات على أنها السعة المتاحة لمركز العمل.

مثال لمشكلة (٥):

خلال الأربعة أسابيع الماضية، أنتج مركز عمل ١٢٠، ١٣٠، ١٥٠، ١٤٠ ساعة عمل نظمية، فما هي السعة الموضحة لمركز العمل؟

الإجابة:

$$\text{السعة الموضحة} = \frac{140+150+130+120}{4} = 135 \text{ ساعة نظمية}$$

لاحظ أن السعة الموضحة هي المخرجات (متوسط ساعات العمل النمطية)

سادسا/السعة المطلوبة (الحمل).

(١) الوقت اللازم لكل أمر

يكون الوقت اللازم لكل أمر عبارة عن حاصل جمع وقت الإعداد، ووقت التشغيل. ويكون وقت التشغيل الكلي مساويا لوقت التشغيل لكل وحدة مضروبا في عدد الوحدات الموجودة في هذا الأمر

مثال لمشكلة (٧)

يجري مركز عمل تشغيلاً لعدد ١٥٠ وحدة عمود تروس الموجودة في أمر عمل معين. وكان وقت الإعداد ١.٥ ساعة، ووقت التشغيل ٠.٢ ساعة لكل وحدة. فما هو الوقت النمطي اللازم لتشغيل الأمر؟

الإجابة:

$$\text{إجمالي الوقت النمطي للتشغيل} = \text{وقت الإعداد} + \text{وقت التشغيل}$$

$$= 1.5 + (0.2 \times 150) = 31.5 \text{ ساعة نظمية}$$

مثال لمشكلة (9):

لدى مركز عمل الأوامر المفتوحة، والأوامر المخططة التالية للأسبوع 20. إحصاء إجمالي الوقت النمطي اللازم (الحمل) في مركز العمل هذا في الأسبوع 20. وقد بدأ العمل على الأمر رقم 222 لتوه بالفعل. ولا زالت هناك 100 وحدة لم يجرى تشغيل لها.

كمية الأمر	وقت الإعداد (ساعة)	وقت التنفيذ (ساعة/وحدة)	إجمالي الوقت (ساعة)
الأوامر المفتوحة			
222	0	0.2	
333	1.5	0.2	
الأوامر المخططة			
444	3	0.25	
555	2.5	0.15	
إجمالي الوقت			

الإجابة:

الأوامر المفتوحة

222

إجمالي الوقت = $0 + (0.2 \times 100) = 20$ ساعة نمطية

333

إجمالي الوقت = $1.5 + (0.2 \times 150) = 31.5$ ساعة نمطية

الأوامر المخططة

444

إجمالي الوقت = $3 + (0.25 \times 200) = 53$ ساعة نمطية

555

إجمالي الوقت = $2.5 + (0.15 \times 300) = 47$ ساعة نمطية

إجمالي الساعات النمطية = 151.5 ساعة نمطية

الفصل السادس والسابع.

المشتريات – التسعير.

خامسا/تحديد السعر.

التكاليف الثابتة: هي التكاليف التي لا تتغير بتغير حجم الإنتاج وتتعلق بتكلفة الأصول الثابتة، ومن أمثلتها: إهلاك المعدات والضرائب والتأمين والمصاريف الإدارية الإضافية.

التكاليف المتغيرة: هي تلك التكاليف التي تتغير بتغير الكمية المنتجة والمباعة مباشرة، ومن أمثلتها: العمالة المباشرة، والمواد المباشرة، وعمولات المبيعات.

وتوضح المعادلات التالية العلاقة بين التكاليف الثابتة والتكاليف المتغيرة.

التكاليف الكلية = التكاليف الثابتة + (التكاليف المتغيرة للوحدة) \times (عدد الوحدات)


$$\frac{\text{التكاليف الكلية}}{\text{عدد الوحدات}} = \text{التكاليف المتوسطة للوحدة}$$

نقطة التعادل.

هي النقطة التي يتعادل عندها إجمالي التكاليف مع إجمالي العائد، ويساوي الربح عندها **صفر**. وتحسب نقطة التعادل من العلاقة التالية:

إجمالي العائد - إجمالي التكاليف

$$\text{سعر الوحدة} \times (\text{عدد الوحدات}) = \text{التكاليف الثابتة} + (\text{التكاليف المتغيرة للوحدة}) \times (\text{عدد الوحدات}).$$



مثال لمشكلة ١:

يتطلب عمل أحد المكونات تكلفه ثابتة قدرها **5,000** ريال وتكلفه متغيرة قدرها **6.50** ريال لكل وحدة. فما هو إجمالي التكلفة، ومتوسط التكلفة لإنتاج دفعه **1000** وحدة؟

وإذا كان سعر البيع **15** ريال للوحدة الواحدة، فما هي نقطة التعادل؟

الحل :

$$\text{التكاليف الكلية} = 500 + (6.5 \times 1000) = 11500 \text{ ريال.}$$

$$\text{التكاليف المتوسطة للوحدة} = 11500 \div 1000 = 11.5 \text{ ريال للوحدة.}$$

لحساب نقطة التعادل، نفرض أن عدد الوحدات المباعة = x وحيث أن

$$15x = 5000 + 6.5x$$

$$8.5x = 5000$$

$$x = 588.25 \text{ وحدة تقريبا}$$

تحدث نقطة التعادل عند إنتاج **588.25** وحدة وبيعها.

الفصل الثامن.

التنبؤ.

ثامنا/ بعض الأساليب الداخلية المهمة

(٢) المتوسطات المتحركة moving Averages

- إحدى الطرق البسيطة للتنبؤ هي أخذ متوسط الطلب **لآخر** ثلاث أو ست فترات. واستخدام هذا الرقم كتنبؤ للفترة القادمة.
- تستخدم المتوسطات المتحركة بصورة أفضل في التنبؤ بالمنتجات التي لها طلب مستقر نسبيا، ولها اتجاه قليل، أو موسمية قليلة.

- تفيد في ترشيح الذبذبات العشوائية.
 - أحد عيوب استخدام المتوسطات المتحركة هو (الحاجة الى الاحتفاظ بعدد من الفترات التاريخية للعنصر المراد التنبؤ به).
 - يتطلب كما كبيرا من تخزين الحاسب، أو الموظفين الكتابيين وتكون الحسابات مرهقة.
- (١) المتوسطات المتحركة.

مثال لمشكلة (١):

كان الطلب خلال الثلاثة أشهر ماضية كالتالي: 120، 135، 114 وحدة

والمطلوب

- استخدام المتوسط المتحرك لثلاثة أشهر لحساب التنبؤ للشهر الرابع؟
- إذا كان الطلب الفعلي في الشهر الرابع هو 129 وحدة، احسب التنبؤ للشهر الخامس؟

الإجابة:

$$(٣) \quad \text{التنبؤ للشهر الرابع} = \frac{120+135+114}{3} = \frac{369}{3} = 123$$

$$(٤) \quad \text{التنبؤ للشهر الخامس} = \frac{135+114+129}{3} = \frac{378}{3} = 126$$

(٥) دليل الموسمية

تقاس درجة التغير الموسمي للمنتج باستخدام دليل الموسمية. ويكون هذا الدليل تقديرا لحجم الطلب خلال الموسم، سواء أكبر من أو أقل من متوسط الطلب على المنتج. وتأخذ الصيغة لحساب الدليل الموسمي الشكل التالي

$$\text{دليل الموسمية} = \frac{\text{متوسط طلب الفترة}}{\text{متوسط الطلب لجميع الفترات}}$$

مثال لمشكلة (2):

المجموع	الربح				السنة
	4	3	2	1	
401	90	81	08	122	1
399	96	73	100	130	2
400	99	71	98	32	3
400	95	75	02	28	المتوسط

يبين الجدول السابق منتجاً موسمياً بناء على الطلب الربع سنوي، والطلب لآخر ثلاث سنوات. ويبلغ متوسط الطلب الربع سنوي لجميع الفترات هو 100 وحدة. ويكون متوسط الطلب هو متوسط الطلب التاريخي لكل الفترات؟ والمطلوب حساب الأدلة الموسمية لكل ربع سنة، وما هو مجموع تلك الأدلة؟

الإجابة:

يمكن حساب الأدلة الموسمية الآن كما يلي:

$$\text{الدليل الموسمي (الربع الأول)} = \frac{128}{100} = 1.28$$

$$\text{الدليل الموسمي (الربع الثاني)} = \frac{102}{100} = 1.02$$

$$\text{الدليل الموسمي (الربع الثالث)} = \frac{75}{100} = 0.75$$

$$\text{الدليل الموسمي (الربع الرابع)} = \frac{95}{100} = 0.95$$

مجموع الأدلة الموسمية = 4.00

لاحظ أن إجمالي كل الأدلة الموسمية يساوي عدد الفترات. وتكون هذه طريقة جيدة للتأكد مما إذا كانت الحسابات صحيحة.

(٣) التنبؤات الموسمية

تستخدم هذه المعادلة لتطوير الأدلة الموسمية في التنبؤ بالطلب الموسمي أيضاً. فإذا كانت الشركة تتنبأ بمتوسط الطلب لكل الفترات يمكنها أن تستخدم الأدلة الموسمية في حساب التنبؤات الموسمية. وبإعادة كتابة المعادلة لتناسب مع ذلك فإنها تأخذ الشكل التالي:

التنبؤ بالطلب الموسمي = دليل الموسمية × متوسط الطلب المتوقع الربع سنوي

مثال لمشكلة (3)

اعتماد على نفس بيانات المشكلة (٣) السابقة، افترض أن الشركة تتنبأ بأن الطلب السنوي للسنة القادمة هو 420 وحدة. أحسب التنبؤ بالطلب الموسمي للمبيعات الربع سنوية؟

الإجابة:

$$(٤) \text{ متوسط الطلب على جميع الفترات} = \frac{420}{4} = 105$$

$$(٥) \text{ الطلب الموسمي} = (\text{دليل الموسمية}) (\text{متوسط الطلب الربع سنوي المتوقع})$$

$$\text{الربع الأول} = 105 \times 1.28 = 134.4 \text{ وحدة}$$

$$\text{الربع الثاني} = 105 \times 1.02 = 107.1 \text{ وحدة}$$

$$\text{الربع الثالث} = 105 \times 0.75 = 78.75 \text{ وحدة}$$

$$\text{الربع الرابع} = 105 \times 0.95 = 99.75 \text{ وحدة}$$

إجمالي الطلب المتوقع = 420 وحدة

(١) الطلب دون اعتبار للموسمية

لا تأخذ التنبؤات في الحسبان التغير العشوائي، وتعد لمتوسط الطلب. ويحسب الطلب الموسمي من المتوسط باستخدام الأدلة الموسمية، ومعادلة حساب الطلب دون الاعتماد على الموسمية كالتالي:

$$\text{الطلب دون اعتبار للموسمية} = \frac{\text{الطلب الموسمي الفعلي}}{\text{دليل الموسمية}}$$

مثال لمشكلة (4)

إذا كان الطلب لشهر يناير 5200 وحدة لشركة تنتج مضارب التنس، وكان الطلب خلال شهر يونيو 24,000 وحدة. فإذا كانت الأدلة الموسمية لشهر يناير 0.5 ولشهر يونيو 2.5

المطلوب: احسب طلب شهر يناير وطلب شهر يونيو غير المعتمد على الموسمية ثم حدد كيف تقارن الشهرين؟

الإجابة:

$$\text{الطلب دون اعتبار الموسمية لشهر يناير} = \frac{5200}{0.5} = 10.400 \text{ وحدة}$$

الطلب دون اعتبار الموسمية لشهر يونيو = $\frac{24000}{2.5} = 9.600$ وحدة

يمكن الآن مقارنة طلب شهري يناير ويونيو فعلى أساس عدم الاعتماد على الموسمية يكون طلب شهر يناير أكبر من طلب شهر يونيو
عاشرا/تتباع التنبؤ.

(1) متوسط الانحراف المطلق (MAD)

يجب أن يقاس خطأ التنبؤ قبل أن يمكن استخدامه في مراجعة التنبؤ أو المساعدة في التخطيط وتوجد عدة طرق لقياس الخطأ إلا أن الطريقة الأكثر استخداما هي **متوسط الانحراف المطلق**.
متوسط الانحراف المطلق، وتعني **مطلق** أي دون اهتمام بإشارات السالب والموجب ويشير **الانحراف** الى الخطأ
ويحسب متوسط الانحراف المطلق (MAD) ممن العلاقة التالية:

$$\text{متوسط الانحراف المطلق} = \frac{\text{متوسط الانحرافات المطلقة}}{\text{عدد المشاهدات}}$$

مثال لمشكلة (6):

إستخدام بيانات الجدول الجانبي لحساب متوسط الانحراف المطلق؟

الإجابة:

$$\text{متوسط الانحراف المطلق} = \frac{5+6+2+4+3+4}{6} = 4$$

الشهر	التنبؤ	الفعلي	انحراف (ال)
1	100	105	5
2	100	94	-6
3	100	98	-2
4	100	104	4
5	100	103	3
6	100	96	-4
المجموع	600	600	0

الفصل التاسع.

أساسيات المخزون.

سادسا/وظائف المخزون.

مخزون النقل: وهو يوجد بسبب الوقت اللازم لنقل السلع من موقع لأخر. ويسمى في بعض الأحيان "مخزون خط الأنابيب" أو مخزون الحركة.
وتكون متوسط كمية المخزون في النقل:

$$I = \frac{TA}{365}$$

حيث I = متوسط المخزون، T = وقت النقل، و A = الطلب السنوي

مخزون الحاجز: يتم تداول بعض المنتجات، مثل المعادن والسلع التجارية، وتتذبذب أسعار هذه المنتجات طبقا للعرض، والطلب.

مثال لمشكلة (1):

يتم تسليم السلع من المورد للنقل في عدد 10 أيام. إذا كان الطلب السنوي 5200 وحدة. فما هو متوسط المخزون السنوي في النقل؟

الإجابة:

$$I = \frac{TA}{365}$$

$$I = \frac{10 \times 5200}{365}$$

142.5 وحدة.

ويمكن حل المشكلة بنفس الطريقة باستخدام الريالات بدلا من الوحدات.

ثامنا/ تكاليف المخزون.

(1) تكاليف قرارات إدارة المخزون.

تكلفة العنصر: هو السعر المدفوع في شراء العنصر، والذي يتكون من تكلفة العنصر، وأي تكاليف مباشرة أخرى تصاحب الحصول على العنصر، وإحضاره للمصنع.

تكاليف الحفظ أو الحمل: وتشمل كل المصاريف التي تواجهها الشركة بسبب حجم المخزون المحتفظ به. فمع زيادة المخزون تزداد هذه التكاليف. ويمكن تجزئتها إلى ثلاث فئات:

1- تكاليف رأسمالية: لانتاح الأموال المستثمرة في المخزون لأي إستخدامات أخرى.

2- تكاليف التخزين: هي تكاليف المخزون، والعمال، والمعدات.

3- تكاليف المخاطرة: بمخاطرة حفظ المخزون مثال: التقادم، التلف، الإختلاس، الفساد.

مثال لمشكلة (2):

تحتفظ شركة بمخزون متوسط تبلغ قيمته السنوية 2000000 ريال، فإذا قدرت تكلفة رأس المال بأنها 10%، وتكلفة التخزين 7%، وتكاليف المخاطرة بأنها 6%، فكم تبلغ التكلفة لإحتفاظها بالمخزون في السنة؟

الإجابة:

التكلفة الكلية للإحتفاظ بالمخزون = 10% + 7% + 6% = 23%.

التكلفة السنوية للإحتفاظ بالمخزون = 2000000 ريال X 0.23 = 460000 ريال

مثال لمشكلة (3):

بمعرفة التكاليف السنوية التالية، إحسب متوسط تكلفة إصدار أمر واحد؟

مرتبة رقابة الإنتاج = 60000 ريال.

مصاريف التوريد والتشغيل لقسم رقابة الإنتاج = 15000 ريال.

تكلفة تجهيز مركز العمل لإعداد أمر إنتاجي واحد = 120 ريال.

الأوامر المخصصة كل سنة = 2000 ريال.

الإجابة:

$$\text{التكلفة المتوسطة} = \frac{\text{التكاليف الثابتة}}{\text{عدد الأوامر}} + \text{التكلفة المتغيرة}$$

$$\text{التكلفة المتوسطة} = \frac{60000+15000}{2000} + 120 = 157.5 \text{ ريال}$$

تاسعا/ التقارير المالية والمخزون.

التقريران الماليان الرئيسيان: هما تقرير الموازنة، وتقرير الدخل، ويبين تقرير الموازنة: الأصول، والخصوم، وحقوق الملكية. بينما يبين تقرير الدخل: العائد المتحقق، ومصاريف تحقيق هذا العائد.

(١) تقرير الموازنة.

الأصول: هي شيء معين له قيمة، ومن المتوقع أن يفيد في الأعمال المستقبلية، وقد يكون شيء ملموس كالنقود، والمخزون، والألات، والمباني. أو قد يكون غير ملموس مثل: حسابات المدنين، أو براءات الإختراع.

الخصوم: هي إلتزامات أو مبالغ تدين بها الشركة، ومن أمثلتها حسابات الدائنين، والأجور المدفوعة، والدين طويل المدى.

حقوق الملكية: وهي الفرق بين الأصول والخصوم. وتمثل بعد دفع كل الخصوم، ما يترك لملاك الأعمال. وهي تنتج إما من الإستثمارات أو من الإرباح.

$$\text{Assets} = \text{Liabilities} + \text{Owners' Equity}$$

معادلة المحاسبة:

معادلة المحاسبة، هي العلاقة بين الأصول، والخصوم، وحق الملاك هذه معادلة أساسية، وبمعرفة إثنين من القيم يمكن إيجاد القيمة الثالثة.

مثال لمشكلة (5):

- (أ) إذا كانت حقوق الملكية 1000 ريال، والخصوم 800 ريال، فما مقدار الأصول؟
(ب) إذا كانت الأصول 1000 ريال، والخصوم 600 ريال، فما مقدار حقوق الملكية؟

الإجابة:

(أ) الأصول = الخصوم + حق الملاك.

$$\text{الأصول} = 1000 + 800 = 1800 \text{ ريال}$$

(ب) حقوق الملاك = 1000 - 600 = 400 ريال.

تقرير الموازنة:

عادة يبين تقرير الموازنة، الأصول في الناحية اليمنى، والخصوم وحق الملاك في الناحية اليسرى.

ويكون رأس المال عبارة عن الأموال التي يستثمرها الملاك في الشركة.

وتزداد المكاسب المتحفظ بها، من العائدات التي تحققها الشركة، بينما تقل من المصاريف التي تنفقها.

(٢) تقرير الدخل.

الدخل (الربح): هو الغرض من العمل، ولهذا تقسم سلسلة حسابات تسمى حسابات العائد، والتي تبين سبب زيادة ونقصان حقوق الملكية.

$$\text{الدخل (الربح)} = \text{العائد} - \text{المصاريف}$$

ويأتي العائد من بيع السلع والخدمات، أحياناً من خلال الدفع الفوري في صورة سيولة نقدية، وأحياناً من خلال الدفع اللاحق، فيسمى حساباً مديناً.

وتعتبر المصاريف عبارة عن تكاليف عملية تحقيق العائد، وعادة تصنف في تكلفة السلع المباعة، ومصاريف إدارية وعامة.

أما تكلفة السلع المباعة: فهي تكاليف إنتاج المنتج، وتشمل العمالة المباشرة، والمواد المباشرة، والمصاريف الإضافية للمصنع.

المصاريف الإدارية والعامة: هي كل تكاليف التشغيل الأخرى، ومنها: تكاليف الإعلان، والتأمين، والضرائب والأجور.

مثال لمشكلة (6):

1,500,000	العوائد
300,000	العمالة المباشرة
500,000	المواد المباشرة
400,000	نفقات المصنع
150,000	المصاريف الإدارية والعامة

بمعرفة البيانات التالية، إحسب إجمالي الهامش، وصافي الدخل.

كم سيزداد الربح إذا إنخفضت تكاليف المواد، من خلال إدارة مواد أفضل، بمقدار 50000 ريال؟

الإجابة:

الربح بعد انخفاض تكاليف المواد = 50000 + 150000 = 200000 ريال

1,500,000		العوائد
		تكاليف البضاعة المباعة
	300,000	العمالة المباشرة
	500,000	المواد المباشرة
(1,200,000)	400,000	نفقات المصنع
300,000		إجمالي الدخل (الربح)
(150,000)		المصاريف الإدارية، والعامة
150,000		صافي الدخل (الربح)

٣) مقاييس أداء المخزون المالية.

يعتبر المخزون أصل، ويمثل نقود تكون مربوطة، ولا يمكن إستخدامها في أغراض أخرى. ولأن للمخزون تكاليف حفظ، وتكاليف رأس المال، ومخاطرة، لذا نحتاج للإحتفاظ بأقل مخزون ممكن. لذا، نحتاج مقياس لمستوى المخزون، والمقياسان المرتبطان بالمبيعات، هما معدل دوران المخزون، وعدد أيام العرض.

أ) دوران المخزون.

لا تحفظ جهة التصنيع بالمخزون، ولا يعتبر هذا علمياً، نظراً للحاجة للمخزون في دعم التصنيع. والمقياس المريح لمدى فعالية إستخدام المخزون هو معدل دوران المخزون، والذي يحسب من العلاقة التالية:

$$\text{معدل دوران المخزون} = \frac{\text{التكاليف السنوية للبضاعة المباعة}}{\text{متوسط قيمة المخزون}}$$

مثال لمشكلة (7):

١) إحسب معدل دوران المخزون إذا كانت تكلفة السلع السنوية 24 مليون ريال في السنة، ومتوسط قيمة المخزون 6 مليون ريال؟

٢) إذا زاد دوران المخزون في 12 مره في السنة، كم يبلغ الإنخفاض في المخزون؟

٣) إذا كانت التكلفة الإحتفاظ بالمخزون 25% من متوسط المخزون، كم سيكون الوفرة؟

الإجابة:

$$(1) \text{ معدل دوران المخزون} = \frac{\text{التكاليف السنوية للبضاعة المباعة}}{\text{متوسط قيمة المخزون}}$$

$$\text{معدل دوران المخزون} = \frac{24,000,000}{6,000,000} = 4 \text{ مرات}$$

$$(2) \text{ متوسط قيمة المخزون} = \frac{\text{التكاليف السنوية للبضاعة المباعة}}{\text{معدل دوران المخزون}}$$

$$\text{متوسط قيمة المخزون} = \frac{24,000,000}{12} = 2,000,000 \text{ ريال.}$$

$$\text{التخفيض في المخزون} = 6,000,000 - 2,000,000 = 4,000,000 \text{ ريال.}$$

$$(3) \text{ التخفيض في المخزون} = 4,000,000$$

$$\text{الوفر} = 0.25 \times 4,000,000 = 1,000,000$$

(ب) أيام العرض (التوريد):

تكون أيام العرض مقياساً لعدد الأيام المكافئ للمخزون تحت اليد بناء على الإستخدام، وتأخذ معادلة حساب أيام العرض الشكل التالي:

$$\text{أيام العرض (التوريد)} = \frac{\text{المخزون تحت اليد}}{\text{معدل الإستخدام اليومي}}$$

مثال لمشكلة (8):

بلدى إحدى الشركات 9000 وحدة تحت اليد، وإستخدام سنوي 48,000 وحدة. ويوجد في السنة 240 يوم عمل. فكم يكون عدد أيام العرض؟

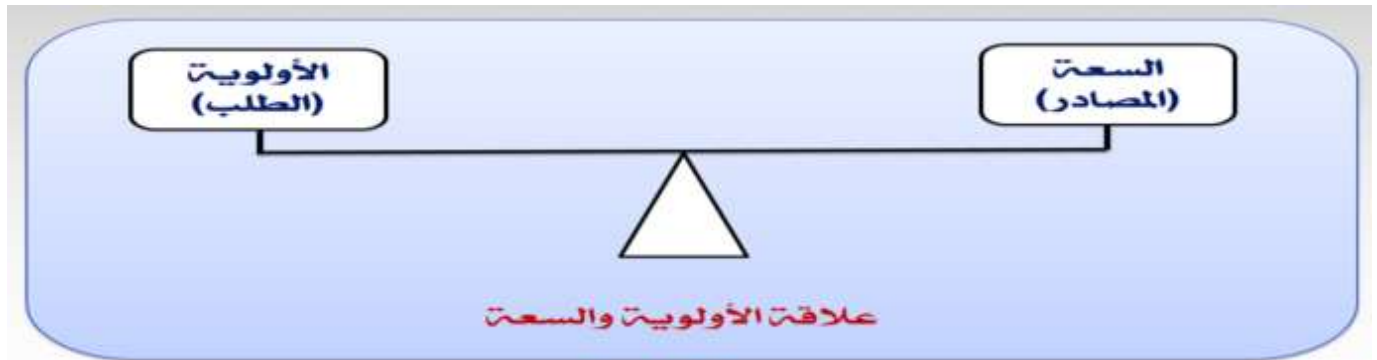
الإجابة:

$$\text{متوسط الوفر اليومي} = \frac{48,000}{240} = 200 \text{ وحدة.}$$

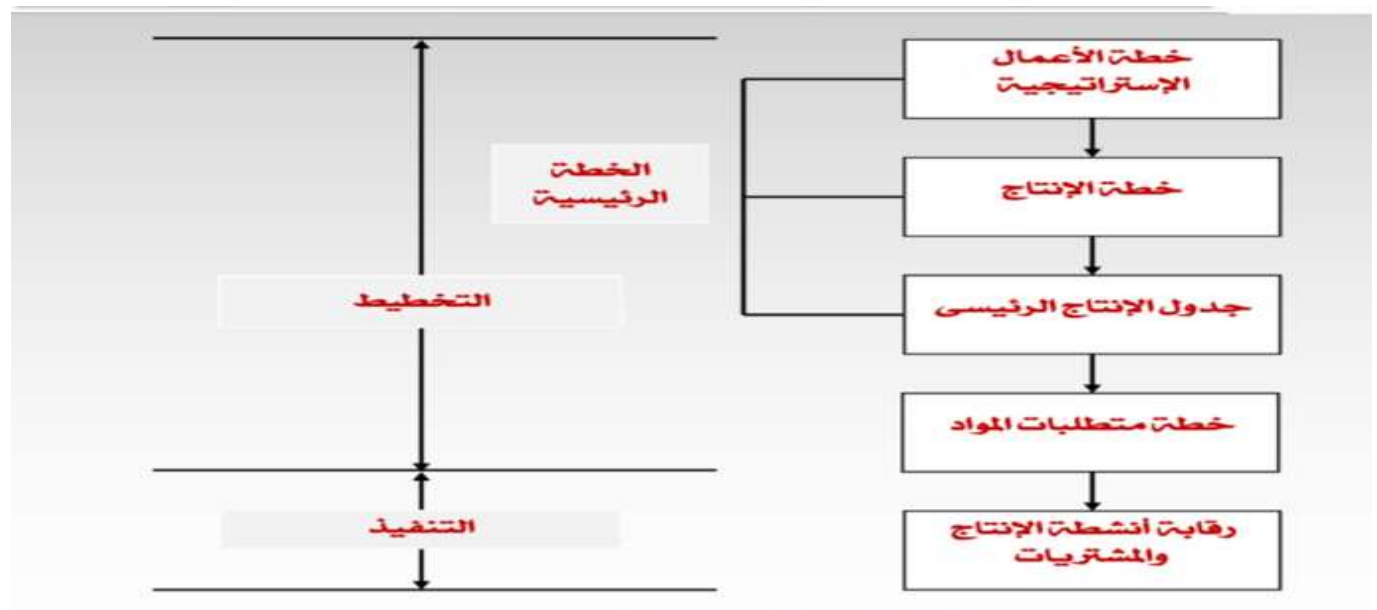
$$\text{العرض (التوريد)} = \frac{\text{المخزون تحت اليد}}{\text{معدل الإستخدام اليومي}} = \frac{9000}{200} = 45 \text{ يوم.}$$

صور الرسومات المهمة..

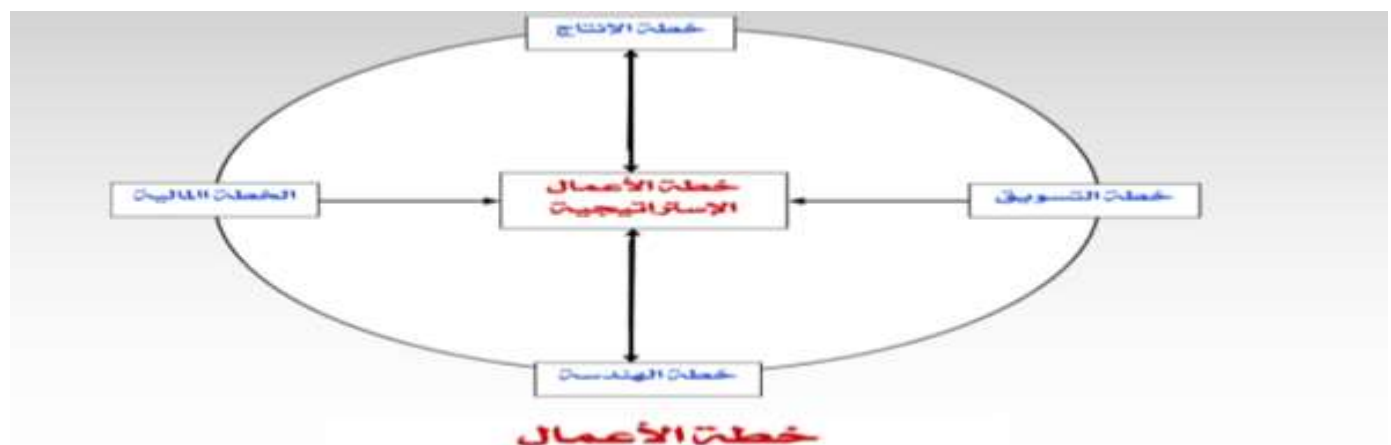
1_ علاقة الأولوية والسعة



2_ نظام تخطيط ومراقبة التصنيع



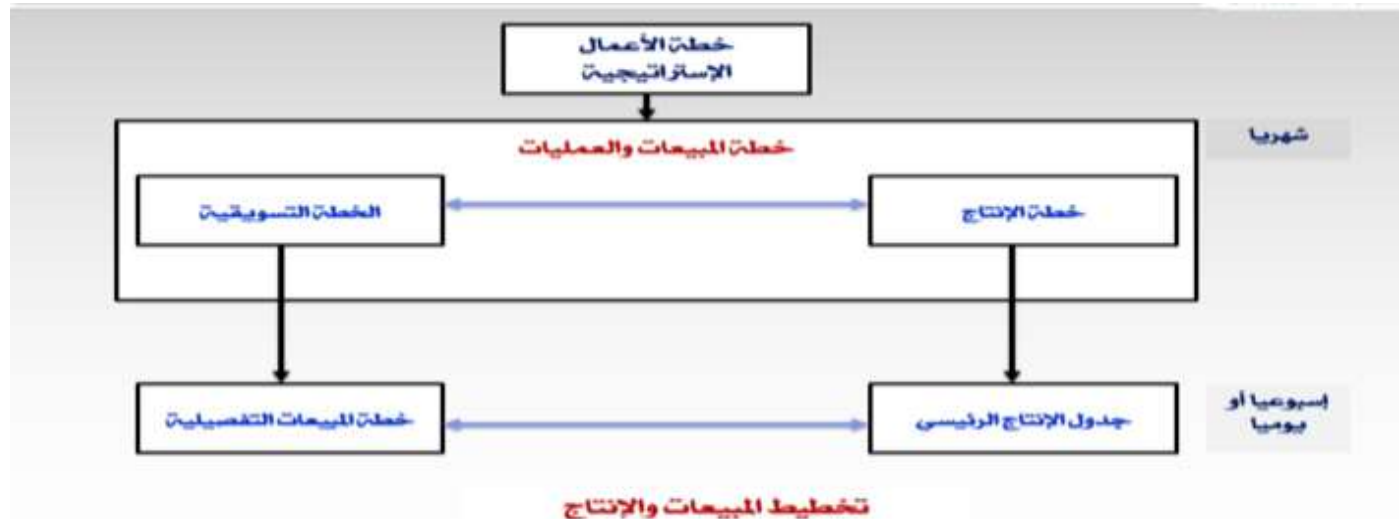
3_ خطة الأعمال



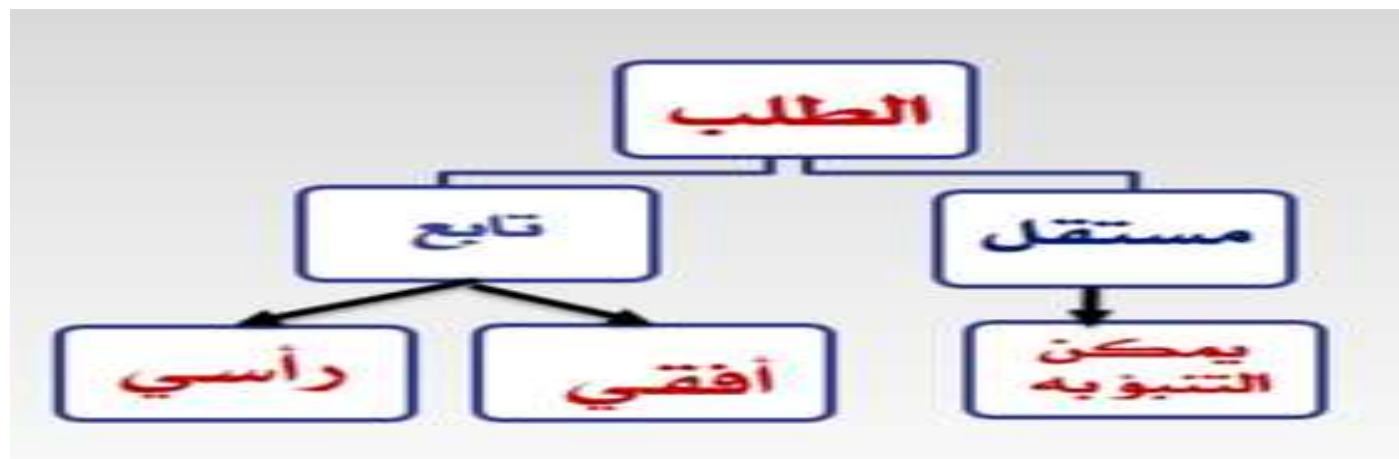
٤- العلاقة بين أدوات التخطيط وأفاق التخطيط ومستويات التفاصيل المختلفة



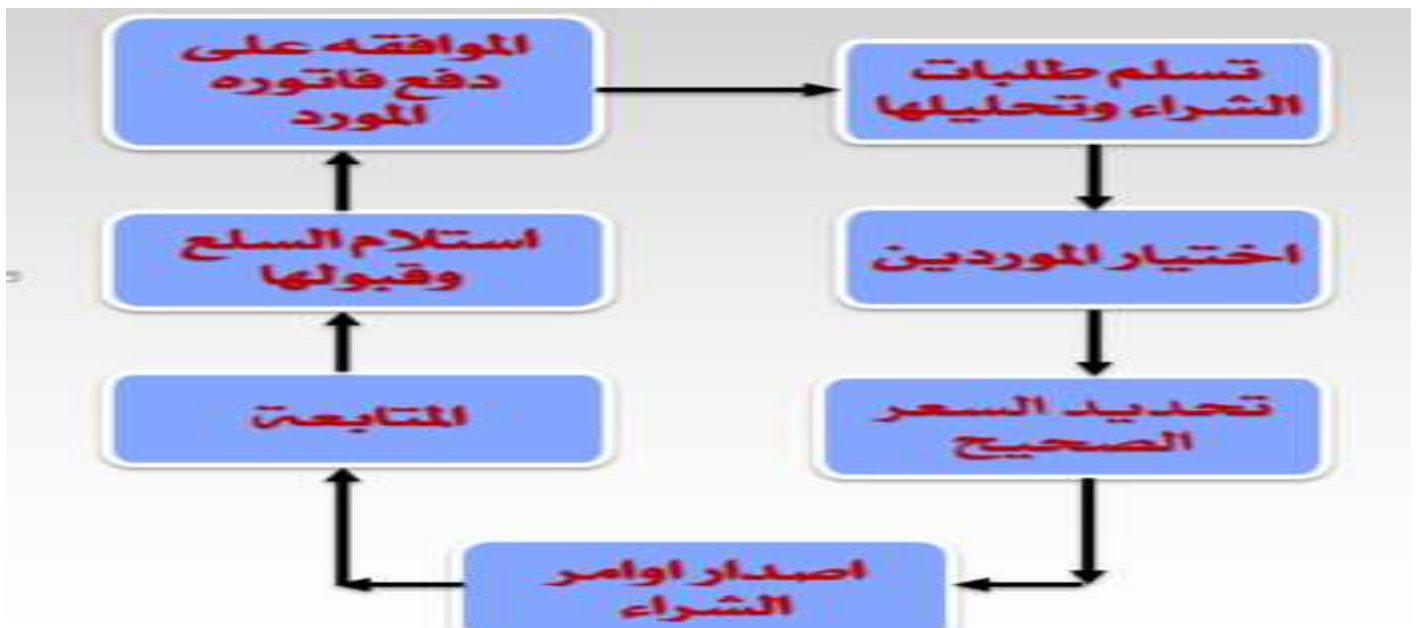
٥- تخطيط المبيعات والإنتاج



٦- الطلب



ثالثاً / تخطيط السعة



الواجب الأول:

السؤال الأول / تعتبر إحدى أكثر الطرق فعالية لتحسين الإنتاجية والثروة هي تخطيط، ومراقبة تدفق المواد في التصنيع. وتوجد ثلاثة عناصر لنظام تدفق المواد، وهي..... :

العرض.

تخطيط ومراقبة التصنيع.

التوزيع المادي/ الطبيعي.

كل ما سبق.

السؤال الثاني / يرغب العملاء في أن يكون وقت انتظار التسليم أقل ما يمكن، ويجب أن يصمم التصنيع إستراتيجية لتحقيق هذا، وتوجد أربعة إستراتيجيات أساسية لذلك، ومنها..... :

التصميم للأمر .

التصنيع للأمر .

التوريد للأمر .

التسليم للأمر .

السؤال الثالث / يجب أن يحقق المورد حد أدنى من متطلبات العميل كي يعتبر منافساً حيوياً في السوق. وقد تبنى متطلبات العميل على :السعر، والجودة، والتسليم، وما إلى ذلك، وتسمى.....

راجو الأمر .

مؤهلو الأمر .

موردو الأمر .

مستلمو الأمر .

السؤال الرابع / تعنى أن مواصفات العميل تتطلب عمل هندسى فريد، أو أن إعداد المنتج يتم حسب طلبه . ولن يتم شراء المخزون إلا عندما يحتاجه التصنيع فقط. ويكون وقت إنتظار التسليم طويلاً لأنه لا يشمل وقت إنتظار الشراء فقط، وإنما يشمل وقت إنتظار التصميم أيضاً.

الهندسة للأمر .

التصنيع للأمر .

التجميع للأمر .

التصنيع للتخزين

السؤال الخامس / للحصول على الأوامر يجب أن يكون للموردين سمات تشجع العملاء على إختيار منتجاتهم، وخدماتهم بدلاً من منافسيهم.

وتسمى هذه السمات التنافسية، أو خليط السمات التنافسية، التي تحت عملاء الشركة على إختيار منتجاتها، أو خدماتها بمسمى.....

راجو الأمر .

مؤهلو الأمر .

موردو الأمر .

مستلمو الأمر .

السؤال السادس / من منظور، يكون هذا الوقت هو المنقضي منذ تسلّم المورد للأمر، وحتى تسليم المنتج.

العميل .

المورد.

المنتج .

لا شيء مما سبق .

الحل: اسوم

الواجب الثاني:

السؤال الاول:

توجد ثلاثة مراحل لتدفق المواد، ومنها..... :

تدفق المواد الخام إلى شركة التصنيع من نظام التوزيع الطبيعي.

ثم تقوم بتوزيع المنتج النهائي على العملاء، من خلال نظام التوزيع الطبيعي.

تقوم شركة التصنيع بإجراء عمليات التشغيل علي المواد الخام.

كل ما سبق

السؤال الثاني:

تشتمل سلسلة التوريد على مجموعة من العوامل الهامة، من بينها.....

يمكن ربط عدد محدود من الشركات في سلسلة التوريد

تشمل بعض الانشطة والعمليات التي تتم لتوريد المنتج للعميل النهائي

يتدفق المنتج من المورد الى العميل اما معلومات التصميم والطلب فتتدفق من العميل الى المورد

كل ما سبق

السؤال الثالث:

يعني ان جهة التصنيع لاتبدا في اعداد المنتج حتى تتسلم امر العميل .وهنا يقل وقت انتظار التسليم

بسبب وجود وقت تصميم بسيط، ويكون المخزون موجود كمادة خام

الهندسة للامر

التصنيع للامر

التجميع للامر

التصنيع للتخزين

السؤال الرابع:

يعني ان المورد يقوم بتصنيع السلع وبيعها من مخزون السلع النهائية ويكون وقت انتظار التسليم

هو الاقل

الهندسة للامر

التصنيع للامر

التجميع للامر

التصنيع للتخزين

السؤال الخامس:

يعني ان المنتج يعد من مكونات نمطية يمكن ان تخزنها جهة التصنيع وتقوم بتجميعها طبقا لامر العميل. ويقل وقت انتظار التسليم اكثر بسبب عدم وجود وقت تصميم موجود، ووجود المخزون بالفعل الهندسة للامر

التصنيع للامر

التجميع للامر

التصنيع للتخزين

السؤال السادس:

يشير المفهوم الحالي لسلسلة التوريد إلى أنها مجموعة الأنشطة كلها، من إنتاج المادة الخام وحتى شراء العميل النهائي كسلسلة أنشطة مرتبطة بعضها البعض. وأنشطة سلسلة التوريد تتضمن ثلاثة أمور حرجه، منها:

تدفق المنتجات

تدفق المعلومات

تدفق العمل

لاشي مما سبق.

الحل: thelovehut

الواجب الثالث:

السؤال 1 : يشمل ----ترجمة أولويات المنتج الشهرية، أو الربع سنوية، أو السنوية من خطة الإنتاج إلى إجمالي سعة معين، وكمثال لذلك (إجمالي ساعات عمل).

تخطيط السعة

تخطيط الموارد

تخطيط السعة التقريبي

لا شئ مما سبق

السؤال 2: يتاح مركز عمل لفترة ٢٠ ساعة لكنة ينتج سلعاً لعدد ١٠٠ ساعة عمل. فما هو الإستغلال لمركز العمل؟

81.1 %

82.2 %

83.3 %

84.4 %

السؤال 3: تكون -----، بمثابة مراقبة مخرجات الإنتاج، ومقارنتها بخطة السعة، وإتخاذ الإجراء التصحيحي عند الحاجة لذلك.

إدارة السعة

تخطيط السعة

مراقبة السعة

تخطيط المتطلبات من السعة

السؤال 4 : يتكون مركز عمل من أربع آلات، ويعمل ٨ ساعات في اليوم لخمسة أيام في الإسيوع. وكان الإستغلال ٨٥%، والكفاءة ١١٠% فما هي السعة المقدرة له؟

149.6 ساعة نمطية

141.6 ساعة نمطية

147.6 ساعة نمطية

144.6 ساعة نمطية

السؤال 5: في شكل علاقة تخطيط السعة بتخطيط الأولويات، الموجود أمامك، المطلوب تحديد ما الذي يشير إليه الرقم (٢).



خطة الموارد

تخطيط المتطلبات من السعة

جدول الإنتاج الرئيسي

انشطة الرقابة على الإنتاج

السؤال 6: يعتبر ----- هو الوقت الذي ينقضى بصورة معتادة في نقل المادة من محطة عمل إلى محطة عمل أخرى.

وقت الإنتظار (المهلة) Lead Time

وقت الصف. Queue Time.

وقت الإنتظار Wait Time

وقت النقل، Move Time

السؤال 7: ينتج مركز عمل ٢٠ وحدة في الوردية، وتبلغ الكمية النمطية لهذا الوقت ١٠٠ وحدة في الوردية. فما هي كفاءة مركز العمل؟

100 %

120 %

140 %

110 %

السؤال 8: ----- هي، قدرة النظام أو الموارد لإنتاج كمية من المخرجات في فترة زمنية محددة ..

الحمل Load

السعة اللازمة

السعة المتاحة

إدارة السعة

السؤال 9: في شكل علاقة تخطيط السعة بتخطيط الأولويات، الموجود أمامك، المطلوب تحديد ما الذي يشير إليه الرقم (3).



خطة الموارد

تخطيط المتطلبات من السعة

جدول الإنتاج الرئيسي

انشطة الرقابة على الإنتاج

السؤال 10: في شكل علاقة تخطيط السعة بتخطيط الأولويات، الموجود أمامك، المطلوب تحديد ما الذي يشير إليه الرقم (4).



خطة الموارد

تخطيط المتطلبات من السعة

جدول الإنتاج الرئيسي

انشطة الرقابة على الإنتاج

السؤال 11: خلال الأربعة أسابيع الماضية، أنتج مركز عمل 540 ساعة عمل نمطية، وكانت الساعات المتاحة للعمل 640 ساعة، وعدد ساعات العمل الفعلية 480 ساعة. إحسب إستغلال مركز العمل؟

70 %

75 %

80 %

85 %

السؤال 12: الغرض من ----- هو التأكد من جدوى جدول الإنتاج الرئيسي، والعمل على ضمان إستغلال

مراكز العمل

تخطيط السعة

تخطيط الموارد

تخطيط السعة التقريبي

لا شئ مما سبق

السؤال 13: المطلق المرتبط إرتباطاً وثيقاً بالسعة اللازمة، هو ----- وهو كمية العمل المخطط في فترة زمنية محددة.

الحمل Load

السعة اللازمة

السعة المتاحة

إدارة السعة

السؤال 14: خلال الأربعة أسابيع الماضية، أنتج مركز عمل 540 ساعة عمل نمطية، وكانت الساعات المتاحة للعمل 640 ساعة، وعدد ساعات العمل الفعلية 480 ساعة. إحسب كفاءة مركز العمل؟

116 %

115.5 %

112.5 %

111%

السؤال 15: لدى أحد مراكز العمل ثلاث آلات، ويعمل المركز 8 ساعات في اليوم، و 5 أيام في الأسبوع.

أحسب الوقت المتاح ؟

150 ساعة في الأسبوع

140 ساعة في الأسبوع

130 ساعة في الأسبوع

120 ساعة في الأسبوع

السؤال 16: تعرف ----- بأنها وظيفة تشييد مستويات للسعة، وقياسها ومراقبتها لكي يتم تنفيذ كل جداول التصنيع.

إدارة السعة

تخطيط السعة

مراقبة السعة

تخطيط المتطلبات من السعة

السؤال 17: تكون ----- هي قدرة النظام أو الموارد اللازمة لإنتاج المخرجات المرغوب فيها في فترة زمنية محددة.

الحمل Load

السعة اللازمة

السعة المتاحة

إدارة السعة

السؤال 19: وأخيراً، يعتبر ----- عبارة عن حاصل جمع أوقات الصف، والإعداد، والتشغيل، والإنتظار، والنقل.

وقت الإنتظار (المهلة) Lead Time

وقت الصف Queue Time

وقت الإنتظار Wait Time

وقت النقل، Move Time

السؤال 20: خلال الأربعة أسابيع الماضية، أنتج مركز عمل ١٢٠، ١٣٠، ١٥٠، ١٤٠ ساعة عمل نمطية، فما هي السعة الموضحة لمركز العمل؟

131 ساعة نمطية

133 ساعة نمطية

135 ساعة نمطية

137 ساعة نمطية

السؤال 21: يجري مركز عمل تشغيلاً لعدد ١٥٠ وحدة عمود تروس الموجودة في أمر عمل معين. وكان وقت الإعداد ١.٥ ساعة، ووقت التشغيل ٠.٢ ساعة لكل وحدة. فما هو الوقت النمطي اللازم لتشغيل الأمر؟

33.5 ساعة نمطية

32.5 ساعة نمطية

30.5 ساعة نمطية

31.5 ساعة نمطية

السؤال 22: بينما يكون ----- هو الوقت الذي يقضيه العمل (إنتاج الوحدة) عند مركز العمل كي يتم تناوله.

وقت الإنتظار (المهلة) **Lead Time**

وقت الصف **Queue Time**

وقت الإنتظار **Wait Time**

وقت النقل، **Move Time**

السؤال 23: في شكل علاقة تخطيط السعة بتخطيط الأولويات، الموجود أمامك، المطلوب تحديد ما الذي يشير إليه الرقم (1).



خطة الموارد

تخطيط المتطلبات من السعة

جدول الإنتاج الرئيسي

انشطة الرقابة على الإنتاج

السؤال 24: -----، يتكون مركز العمل من عدد من الآلات أو العمال القادرين على تأدية نفس العمل.

ملف الأمر المفتوح

ملف المسار

ملف مركز العمل

لا شئ مما سبق

السؤال 25: يشير مفهوم ----- إلى مقدرة العامل أو الآلة أو الخطة أو مركز العمل على إنتاج المخرجات في فترة زمنية معينة، لذا فالسعة هي معدل تأدية العمل وليس كمية تأدية العمل.

الحمل **Load**

السعة اللازمة

السعة المتاحة

إدارة السعة

السؤال 26: -----، المسار هو خط السير الذي يتبعه العمل من مركز عمل إلى مركز عمل آخر. ويجب أن يوجد ملف مسار لكل مكون يتم تصنيعه،

ملف الأمر المفتوح

ملف المسار

ملف مركز العمل

لا شئ مما سبق
السؤال 27:-----، يقصد به (سجل بكل أوامر الورشة النشطة والتي تكون تحت التشغيل).

ملف الأمر المفتوح

ملف المسار

ملف مركز العمل

لا شئ مما سبق

السؤال 28:-----، فهي عملية تحديد الموارد اللازمة لتحقيق خطة الأولويات والطرق اللازمة لجعل السعة متاحة فيتم تخطيط الإنتاج، وجدولة الإنتاج الرئيسية، والمتطلبات من الموارد والأولويات.

إدارة السعة

تخطيط السعة

مراقبة السعة

تخطيط المتطلبات من السعة

السؤال 29: يكون ----- في مركز العمل هو الوقت الذي يقضيه العمل (إنتاج الوحدة) في مركز العمل بعد إتمامه وقبل نقله.

وقت الإنتظار (المهلة) Lead Tim

وقت الصف Queue Time

وقت الإنتظار Wait Time

وقت النقل، Move Time

السؤال 30: تأخذ عملية ----- الأشكال التالية: تحديد السعة المتاحة في كل مركز عمل لكل فترة زمنية، وتحديد الحمل في كل مركز عمل لكل فترة زمنية.

تخطيط السعة

تخطيط الموارد

تخطيط السعة التقريبي

لا شئ مما سبق

السؤال 31: يرتبط ----- مباشرة بخطة المتطلبات من الموارد، لذا فهو يعتبر أشمل وأعم من تخطيط السعة التقريبي.

إدارة السعة

تخطيط السعة

مراقبة السعة

تخطيط المتطلبات من السعة

الاختبار الفصلي.

السؤال ١ : تعني ----- المقدره على إنتاج السلع والخدمات، أو عدد الواحدات التي يمكن إنتاجها في فترة زمنية معينة، ويجب أن يترجم الطلب على السلع إلى طلب عليها.

الأولويات.

الفاعلية.

السعة

الكفاءة.

السؤال ٢: في شكل نظام تخطيط ومراقبة التصنيع يشير الرقم (26)....

خطة الأعمال الإستراتيجية.

خطة الإنتاج.

جدول الإنتاج الرئيسي.

الخطة الرئيسية.

السؤال ٣: يعني..... أن المنتج يعد من مكونات نمطية يمكن أن تخزنها جهة التصنيع، وتقوم بتجميعها طبقاً لأمر العميل.

الهندسة للأمر.

التصنيع للأمر.

التجميع للأمر.

التصنيع للتخزين.

السؤال ٤: تعمل مراقبة الإنتاج في الوقت الحالي في بيئة قوية تتكون من ستة تحديات رئيسية، من بينها:

العملاء الذين لا يرضون أبداً.

كم مقبول من البيئات.

عدد محدود من البدائل.

كل ماسيق.

السؤال ٥: يكون لمشكلة تخطيط الإنتاج بعض السمات التالية:-----.

يستخدم أفق زمني لمدة 24 شهر.

لا يتغير الطلب.

يتكون الطلب على الإنتاج من أكثر من عائلة للمنتجات المختلفة.

يكون المصنع والمعدات ثابتين خلال الأفق الزمني.

السؤال ٦: يشير رقم (32) في شكل خطة الأعمال إلى.....

خطة التسويق.

خطة المالية.

خطة الإنتاج.

خطة الهندسة.

السؤال ٧: ترغب إحدى الشركات في إنتاج 20000 وحدة من أحد العناصر خلال الثلاثة أشهر القادمة بمعدل متساوي. في الشهر الأول 20 يوم عمل، وفي الشهر الثاني 21 يوم عمل، وفي الثالث 14 يوم عمل بسبب الإغلاق السنوي. كم يجب أن تنتج الشركة في المتوسط كل يوم لتسوية الإنتاج.

363.636 وحدة.

262.626 وحدة.

464.646 وحدة.

لا شيء مما سبق.

السؤال ٨: تعني إنتاج مستمر لكمية تساوي متوسط الطلب، من خلال حساب الشركة لإجمالي طلبها، وتنتج ما يكفي في المتوسط لتلبية الطلب، وفي بعض الأحيان يكون الطلب أقل من الكمية المنتجة فيبنى المخزون، وإذا زاد الطلب فيستخدم المخزون في تلبية هذه الزيادة.

إستراتيجية التعاقد من الباطن.

إستراتيجية تسوية الإنتاج أو انتظامه.

إستراتيجية المطاردة/توفيق الطلب.

لا شيء مما سبق.

السؤال ٩ : يجب أن يحقق المورد حد أدنى من متطلبات العميل كي يعتبر منافسًا حيويًا في السوق. وقد تبني متطلبات العميل على: السعر، والجودة، والتسليم، وما إلى ذلك، وتسمى.....

رابحو الأمر.

مؤهلو الأمر.

موردو الأمر.

مستلمو الأمر

السؤال ١٠: من بين أهداف إدارة المواد، ما يلي.....

تحسين استخدام موارد الشركة.

توفير مستوى خدمة العميل المطلوب.

تخطيط ومراقبة التصنيع.

لا شيء مما سبق.

السؤال ١١: تشير الرقم (39) في شكل تخطيط المبيعات والإنتاج إلى....

خطة الإنتاج.

جدول الإنتاج الرئيسي.

خطة المبيعات التفصيلية.

الخطة التسويقية.

السؤال ١٢: للحصول على الأوامر يجب أن يكون للموردين سمات تشجع العملاء على اختيار منتجاتهم، وخدماتهم بدلاً من منافستهم، وتسمى هذه السمات التنافسية، أو خليط السمات التنافسية، التي تحت عملاء الشركة على اختيارها منتجاتها، أو خدماتها بسمى...

رابجو الأمر.

مؤهلو الأمر.

موردو الأمر.

مستلمو الأمر

السؤال ١٣: يشمل العرض الطبيعي كل الأنشطة الموجودة في عملية النقل، من المورد إلى بداية عملية الإنتاج، ومن نهاية عملية الإنتاج إلى المستهلك. وتتضمن الأنشطة بعض ما يلي:.....

النقل.

التخزين.

مناولة المواد.

كل ماسبق.

السؤال ١٤: تشير الرقم (31) في شكل خطة الأعمال إلى.....

خطة التسويق.

الخطة المالية.

الخطة الإنتاج.

خطة الهندسية.

السؤال ١٥: نظام التخطيط، ومراقبة التصنيع توجد به خمس مستويات رئيسية، وهي: خطة الأعمال الإستراتيجية، و.....

خطة المبيعات، والإنتاج.

جدول الإنتاج الرئيسي.

خطة المتطلبات من الموارد.

كل ما سبق.

السؤال ١٦: تعني إنتاج الكمية المطلوبة في أي وقت محدد، وتظل مستويات المخزون مستقرة بينما يتغير الإنتاج لتلبية الطلب. أي تنتج الشركة ما يكفي فقط لتلبية الطلب.

إستراتيجية التعاقد من الباطن.

إستراتيجية تسوية الإنتاج أو أنتظامه.

إستراتيجية المطاردة/توفيق الطلب.

لا شيء مما سبق.

السؤال ١٧: يعتبر إحدى أكثر الطرق فعالية لتحسين الإنتاجية والثروة هي تخطيط، ومراقبة تدفق المواد في التصنيع، وتوجد ثلاثة عناصر لتدفق المواد وهي:

العرض.

تخطيط ومراقبة التصنيع.

التوزيع المادي/الطبيعي.

كل ما سبق.

السؤال ١٨: يكون تخطيط المبيعات والإنتاج متوسط المدى ويشمل خطط التسويق والإنتاج والهندسة والتمويل، وتخطيط المبيعات والإنتاج عدد من الفوائد من بينها...

يسمح بإدارة أفضل للموارد..

يوفر خطة واقعية يمكن أن تحقق أهداف الشركة.

يوفر وسيلة لإدارة الإنتاج والمبيعات.

يوفر وسيلة لتجديد خطة التسويق.

السؤال ١٩: تمثل.....*مرحلة التنفيذ والمراقبة لنظام تخطيط ومراقبة التصنيع.

خطة المتطلبات من المواد.

خطة الإنتاج والمبيعات.

المشتريات ومراقبة نشاط الإنتاج.

لا شيء مما سبق.

السؤال ٢٠: المتريات Metric** هي *مقاييس سبق التأكد من صحتها،* وتحدد إما بمصطلحات كمية، أو بمصطلحات كيفية. وبدون المتريات، لا يمكن*للشركة أن تتوقع أن تعمل بكفاءة، أو بفعالية بصورة يومية. وتعطينا المتريات ما يلي:

المراقبة عن طريق العاملين.

رفع التقارير إلى الملاحظين.

تحسين مخرجات التصنيع.

كل ما سبق.

السؤال ٢١: يشير مصطلح...* لعملية تطوير جدول الإنتاج الرئيسي.

النتائج النهائي.

الجدولة الرئيسية.

خطة الإنتاج والمبيعات.

لا شيء مما سبق.

السؤال ٢٢: هدف التسويق هو الحفاظ على العائد، وزيادته لذا يجب أن يوفر أفضل خدمة للعميل بعدة طرق، ومنها...

تصنيع العنصر غير المتوفرة بسرعة.

إنتاج نظام توزيع سريع.

الإحتفاظ بمخزونات مرتفعة.

كل ماسبق.

السؤال ٢٣: في بيئة تصنيع للأمر، ينتظر المصنعون حتى يستلموا الأمر من العميل قبل البدء في تصنيع السلع، وبصفة عامة، تصنع الشركات للأمر عندما.....

تنتج السلع طبقاً لمواصفات عامة.

لا يرحب العميل بالانتظار أثناء تصنيع الأمر.

يكون المنتج مكلفاً في تصنيعه، وتخزينه.

لا شيء مما سبق.

السؤال ٢٤: يرغب العملاء في أيكون وقت انتظار التسليم أقل ما يمكن ويجب أن يصمم التصنيع إستراتيجية لتحقيق هذا وتوجد اربعى إستراتيجيات اساسية لذلك وهي:

التصميم للأمر.

التصنيع للأمر.

التوريد للأمر.

التسليم للأمر.

السؤال ٢٥: توجد ثلاثة مراحل لتدفق المواد وهي:

تدفق المواد الخام لنظام إلى شركة التصنيع من نظام التوزيع الطبيعي.

ثم تقوم بتوزيع المنتج النهائي على العملاء من خلال التوزيع الطبيعي.

تقوم الشركة التصنيع بإجراء عمليات التشغيل على المواد الخام.

كل ماسبق

السؤال ٢٦: تكون خطة لإنتاج وشراء المكونات المستخدمة في إنتاج العناصر الموجودة في جدول

الإنتاج الرئيسي.

خطة لإنتاج والمبيعات.

خطة المتطلبات من المواد.

خطة الأعمال الإستراتيجية.

لا شيء مما سبق.

السؤال ٢٧: تكون خطة الأعمال الإستراتيجية التي تتوقع الشركة أن تحققها خلال السنتين إلى العشر سنوات التالية، وربما لأكثر من ذلك.

تنسيق بين خطط التسويق والتمويل والإنتاج والهندسة.

طلبات السوق عن طريق إستخدام المصانع والألات والمعدات والمواد

تقريراً بالأهداف والاعراض الرئيسية.

كل ما سبق

السؤال ٢٨: في بيئة التصنيع للتخزين، وتأخذ المعلومات اللازمة لعمل خطة الإنتاج الشكل التالي: التنبؤ طبقاً للفترة في أفق التخطيط، و_____.

مخزون البداية

مخزون النهاية المرغوب فيه

أي أوامر عميل متأخرة

كل ما سبق

السؤال ٢٨: خلال الفترة الزمنية لخطة الإنتاج عادة لا يمكن عمل تغييراتكبيرة في السعة، إلا أنه يمكن تغيير بعض ما يلي:_____.

يمكن أن يبني المخزون في فترات الركود، ويبيع في فترات الطلب المرتفع

تعيين أفراد وتدريبهم، أو الاستغناء عنهم، وإضافة أو إلغاء المناوبات

التعاقد من الباطن على العمل، أو تأجير معدات إضافية

كل ما سبق

السؤال ٢٩: من منظور.....، يكون هذا الوقت هو المنقضي منذ تسلم المورد للأمر، وحتى تسليم المنتج.

العميل.

المورد.

المنتج.

لا شيء مما سبق.

السؤال ٣٠: في بيئة التصنيع للتخزين، تنتج المنتجات وتوضع في المخزن قبل تسلم الأمرمن العميل. وبصفة عامة تنتج الشركات للتخزين عندما:-----.

يكون الطلب غير ثابت، ومتنبأ به.

يوجد كثرة من خيارات المنتج

يكون للمنتجات عمر فصير على الرف

تكون أوقات التسليم المطلوبة من الأسواق أقصر من الوقت اللازم للإنتاج

السؤال ٣١: كل مستوى من مستويات نظام التخطيط، ومراقبه التصنيع الخمسة يكون لديه مدى ووقت وغرض معين لذا فهو يختلف عن باقي المستويات في الغرض من الخطة، و.....

الأفق الزمني

مستوى التنفيذ

دورة حياة الخطة

كل ما سبق

السؤال ٣٢: يشير الرقم (٣٠) في شكل خطة الأعمال إلى.....

خطة التسويق

خطة المالية

خطة الإنتاج

خطة الهندسة

السؤال ٣٣: تعني إستراتيجية ----- الإنتاج دائماً عند أدنى حد للطلب، وتلبية أي زيادة في الطلب من خلال التعاقد.

إستراتيجية التعاقد من الباطن

إستراتيجية تسوية الإنتاج أو إنتظامه

إستراتيجية المطاردة/توفيق الطلب

لا شئ مما سبق

السؤال ٣٤: يشير المفهوم الحالي لسلسلة التوريد إلى أنها مجموعة الأنشطة كلها، من إنتاج المادة الخام وحتى شراء العميل النهائي كسلسلة أنشطة مرتبطة بعضها ببعض وأنشطة سلسلة التوريد تتضمن ثلاثة أمور خرجها، منها:

تدفق المنتجات

تدفق المعلومات

تدفق العمل

لا شئ مما سبق

السؤال ٣٥: تشير الرقم (٤٢) في شكل تخطيط المبيعات والإنتاج إلى.....

خطة الإنتاج

جدول الإنتاج الرئيسي

خطة المبيعات التفصيلية

الخطة التسويقية

السؤال ٣٦: يعنى أن المورد يقوم بتصنيع السلع وبيعها من مخزون السلع النهائية. ويكون وقت إنتظار التسليم هو الأقل.

الهندسة للأمر.

التصنيع للأمر.

التجميع للأمر.

التصنيع للتخزين.

السؤال ٣٧: تشمل سلسلة التوريد على مجموعة من العوامل الهامة، من بينها.....

يمكن ربط عدد محدود من الشركات في سلسلة التوريد

تشمل بعض الأنشطة والعمليات التي تتم لتوريد المنتج للعميل النهائي

يتدفق المنتج من المورد إلى العميل، أما معلومات التصميم، والطلب فتتدفق من العميل إلى المورد

كل ماسبق.

السؤال ٣٨: إذا كانت فاتورة الموارد Resource Bill لإحدى شركات كالتالي:

8555

فإذا خطت الشركة لإنتاج ٥٠٠ منضدة، و ٣٠٠ مقعد، و ١٥٠٠ مقعد دون ظهر، في فترة معينة.

والمطلوب حساب: كمية الخشب المستخدمة في الإنتاج؟

20000 لوح خشب.

20500 لوح خشب.

21000 لوح خشب.

لا شيء مما سبق.

السؤال ٣٩: تعني أن مواصفات العميل تتطلب عمل هندسي فريد، أو أن إعداد المنتج يتم حسب طلبه. ولن يتم شراء المخزون إلا عندما يحتاجه التصنيع فقط. ويكون وقت إنتظار التسليم طويلاً لأنه لا يشمل وقت إنتظار الشراء فقط، وإنما يشمل وقت إنتظار التصميم أيضاً.

الهندسة للأمر.

التصنيع للأمر.

التجميع للأمر.

التصنيع للأمر.

السؤال ٤٠: من بين الطرق محافظة التمويل على تقليل الإستثمارات والتكاليف ،مايلي:

زيادة المخزون، بحيث يرتفع إستثمار المخزون

إنتاج كميات صغيرة بإستخدام دورات إنتاج طويلة

تقليل عدد المصانع والمخزون

التصنيع لأمر التصنيع فقط

السؤال ٤١: عرف الدليل الأمريكي لمراقبة الإنتاج والمخزون..... بأنه : (نظام معلومات موجه للمحاسبة

(لتعريف المنشأة وتخطيطها

نظام التخطيط والمراقبة المتكامل

(ERP) تخطيط موارد المنشأة

نظام تخطيط موارد التصنيع

كل ما سبق

السؤال ٤٢: بمثابة عملية مراجعة مستمرة لخطة الأعمال الإستراتيجية وتنسيق خطط الأقسام

المختلفة:

(sop) تخطيط المبيعات والعمليات

خطة الإنتاج والمبيعات

خطة المتطلبات من المواد

لا شيء مما سبق

السؤال ٤٣: في شكل نظام تخطيط ومراقبة التصنيع يشير الرقم (٢٤) إلى.....

خطة الأعمال الإستراتيجية

خطة الإنتاج

جدول الإنتاج الرئيسي

الخطة الرئيسية

السؤال ٤٤: للحصول على أقصى ربح، يجب أن يكون للشركة أهداف لتحقيق أقصى ربح، ومنها.....

توفير أسرع خدمة للعميل

توفير أفضل تكاليف إنتاج

توفير أعلى استثمار مخزون

توفير أقل تكاليف توزيع

السؤال ٤٥: يجب التخطيط الجيد على أربعة أسئلة هامة، منها.....

ما الذي سنعمله؟

ماذا نحتاج لعمله؟

ماذا يوجد لدينا؟

كل ما سبق

السؤال ٤٦: معرفه الأهداف التي حددتها خطة الأعمال الإستراتيجية تهتم خطة الإنتاج بما يلي:

كميات كل مجموعة منتج والتي يجب أن تنتج في كل فترة، و.....

إتاحه الموارد اللازمه

مستويات المخزون المرغوب فيها

موارد المعدات والعمالة

كل ما سبق

السؤال ٤٧: عندما توجد عدة خيارات للمنتج كما في حالة السيارات، وعندما لا يرغب العميل في الإنتظار حتى

يتم تصنيع المنتج، ينتج المصنعون أجزاء المكونات النمطية ويخزنوها. وعندما يتسلم المصنعون أمر

العميل، يقوموا بتجميع أجزاء المكونات من المخزون طبقاً للأمر. ولعمل خطة الإنتاج لمنتجات التصنيع للأمر

تلزم المعلومات التالية:.....

التنبؤ لكل فترة من فترات أفق التخطيط

إحتياطي النهاية لأوامر العملاء

عدد الوحدات المرغوب في إنتاجها

لا شيء مما سبق

السؤال ٤٨: مصطلح..... يشير للنتائج النهائي لعملية الجدولة الرئيسية. وعادةً تراجع هذه الخطط وتُعدل

إسبوعياً أو شهرياً.

خطة الأعمال الإستراتيجية.

خطة الإنتاج.

جدول الإنتاج الرئيسي

لا شيء مما سبق

السؤال ٤٩: يعني..... أن جهة التصنيع لا تبدأ في إعداد المنتج حتى تتسلم أمر العميل. وهنا يقل وقت إنتظار التسليم بسبب وجود وقت تصميم بسيط، ويكون المخزون موجود كمادة خام. الهندسة للأمر.

التصنيع للأمر.

التجميع للأمر.

التصنيع للتخزين.

السؤال ٥٠: يشير مصطلح..... لعملية تطوير جدول الإنتاج الرئيسي.

النتاج النهائي

الجدولة الرئيسية

خطة الأنتاج والمبيعات

لا شيء مما سبق

السؤال ٥١: يشير الرقم (٤٠) في شكل تخطيط المبيعات والإنتاج إلى.....

خطة الإنتاج.

جدول الإنتاج الرئيسي.

خطة المبيعات التفصيلية.

الخطة التسويقية.

السؤال ٥٢: تنتج شركة فطائر الأسماك كعكات الأسماك الطازجة، وتريد أن تطور خطة إنتاج لها. و يبلغ مخزون البداية المتوقع ١٠٠ علبة، وترغب في أن تقلله إلى ٨٠ علبة مع نهاية فترة التخطيط. ويكون عدد أيام العمل متساوى في كل فترة. ولا توجد أوامر خلفية. ويأخذ الطلب المتوقع على الكعكات الشكل التالي:

الفترة	1	2	3	4	5	الإجمالي
التنبؤ	110	120	130	120	120	600

إذا بلغت تكلفة الإحتفاظ بالمخزون ٥ دولارات لكل علبة في الفترة الواحدة، فبناء على مخزون النهاية كم تبلغ إجمالي تكلفة المخزون؟

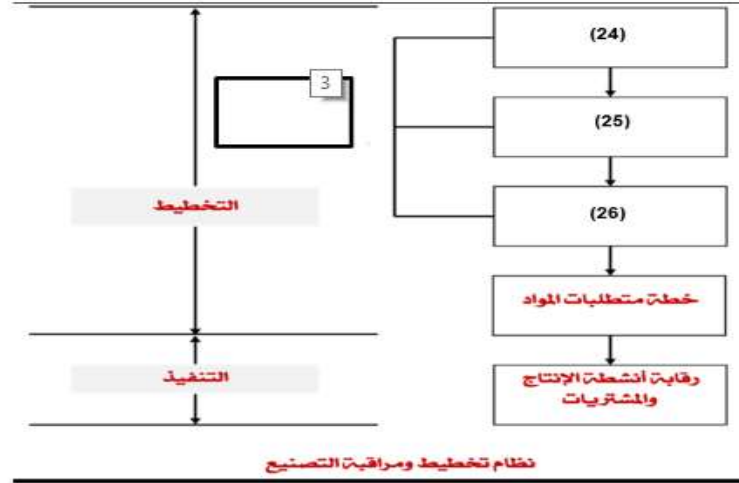
2100 دولار .

2300 دولار .

2530 دولار .

لا شيء مما سبق .

السؤال ٥٣ :



في شكل نظام تخطيط ومراقبة التصنيع يشير الرقم (25) إلى:

A. خطة الأعمال الإستراتيجية.

B. خطة الإنتاج.

C. جدول الإنتاج الرئيسي.

D. الخطة الرئيسية.

السؤال ٥٤ :

تنتج شركة فطائر الأسماك كعكات الأسماك الطازجة، وتريد أن تطور خطة إنتاج لها. ويبلغ مخزون البداية المتوقع 100 علية، وترغب في أن تظله إلى 80 علية مع نهاية فترة التخطيط. ويكون عدد أيام العمل متساوي في كل فترة. ولا توجد أوامر خلفية. ويأخذ الطلب المتوقع على الكعكات الشكل التالي:

الفترة	1	2	3	4	5	الإجمالي
التنبؤ	110	120	130	120	120	600

كم سيكون مخزون النهاية للفترة الثانية؟

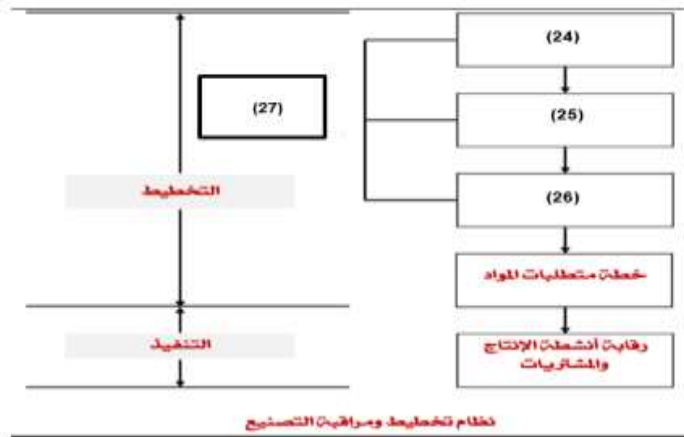
A. 102 علية.

B. 103 علية.

C. 104 علية.

D. لا شيء مما سبق.

السؤال ٥٥ :



في شكل نظام تخطيط ومراقبة التصنيع بشهر الرقم (27) إلى:

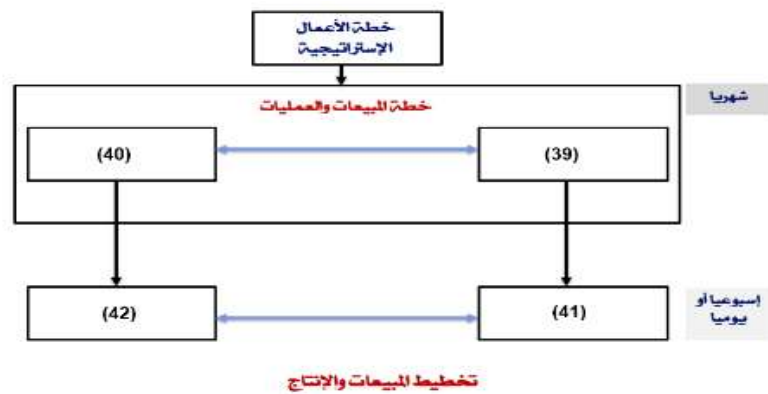
Ⓐ خطة الأعمال الإستراتيجية.

Ⓑ خطة الإنتاج.

Ⓒ جدول الإنتاج الرئيسي.

Ⓓ **الخطة الرئيسية**

السؤال ٥٦:



تشير الرقم (41) في شكل تخطيط المبيعات والإنتاج إلى:

Ⓐ خطة الإنتاج.

Ⓑ **جدول الإنتاج الرئيسي.**

Ⓒ خطة المبيعات التفصيلية.

Ⓓ خطة التسويقية.

السؤال ٥٧:

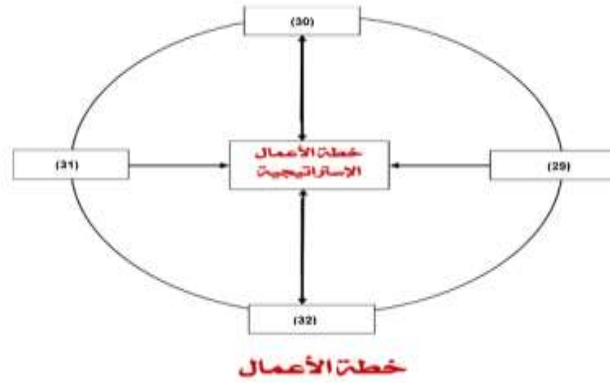
تنتج شركة فطائر الأسماك كعكات الأسماك الطازجة، وتريد أن تطور خطة إنتاج لها. ويبلغ مخزون البداية المتوقع 100 علية، وترغب في أن تقله إلى 80 علية مع نهاية فترة التخطيط. ويكون عدد أيام العمل متساوي في كل فترة. ولا توجد أوامر خلفية. ويأخذ الطلب المتوقع على الكعكات الشكل التالي:

الفترة	1	2	3	4	5	الإجمالي
الطلب	110	120	130	120	120	600

كم علية يجب أن تنتجها كل فترة؟

- A. 114 علية.
- B. 115 علية.
- C. 116 علية.
- D. لا شيء مما سبق.

السؤال ٥٨:



يشير الرقم (29) في شكل خطة الأعمال إلى

- A. خطة التسويق.
- B. خطة المالية.
- C. خطة الإنتاج.
- D. خطة الهندسة.