

الواجب الأول ل مقرر : ادارة سلسلة الامدادات

السؤال 1

تتصف سلسلة التوريد بالدينامكية فهي تنطوي علي التدفق المستمر ل-----

--.

الأموال

المعلومات

المنتجات

كل ما سبق

السؤال 2

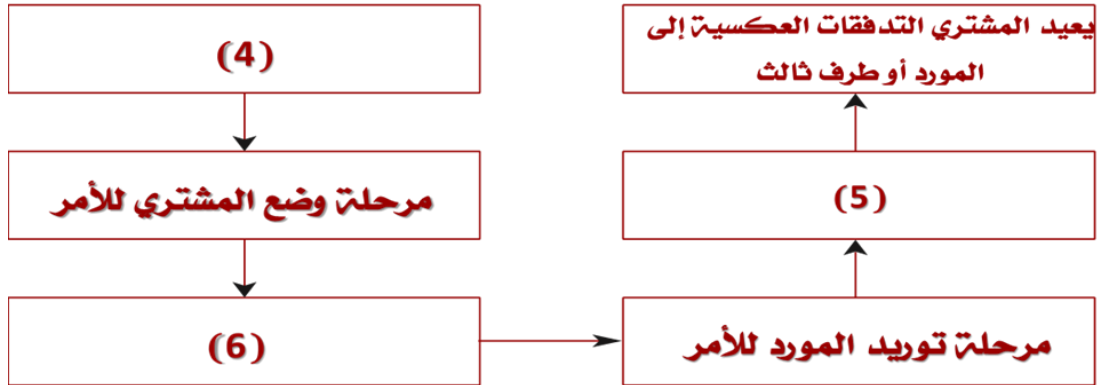
فائض سلسلة التوريد = فائض المبيعات - تكاليف سلسلة التوريد

صواب

خطأ

السؤال 3

في شكل العمليات الفرعية في كل دورة عمليات لسلسلة التوريد الموضح أعلاه
يشير الرقم (6) إلى: -----



مرحلة استلام المشتري للتوريد

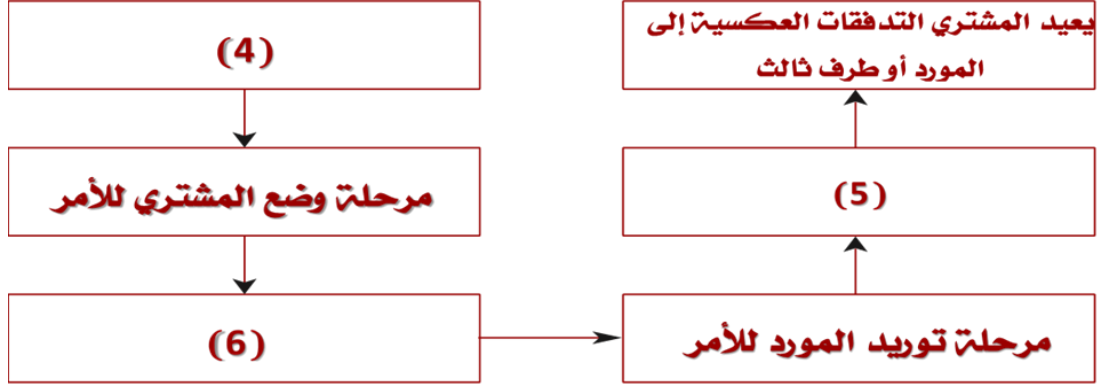
مرحلة استلام المورد للأمر

مرحلة تسويق المورد للمنتج

مرحلة استلام فاتورة الشراء

السؤال 4

في شكل العمليات الفرعية في كل دورة عمليات لسلسلة التوريد الموضح أعلاه
يشير الرقم (4) إلى: -----



مرحلة استلام المشتري للتوريد

مرحلة استلام المورد للأمر

مرحلة تسويق المورد للمنتج

مرحلة استلام فاتورة الشراء

السؤال 5

هناك طريقتان مختلفتان لعرض العمليات التي تتم في سلسلة التوريد، وهما -----

منظور الدفع

منظور السحب

منظور الدورة

كل ما سبق

السؤال 6

تتضمن القرارات الاستراتيجية التي تتخذها الشركات في مرحلة التصميم، كلاً من
الاستعانة بمصادر خارجية أم أداء وظائف سلسلة التوريد داخلياً، كما تحدد -----

المنتجات التي سيتم شرائها

وسائل النقل، ونوع نظام المعلومات

تنظيم مرافق الإنتاج والتخزين

كل ما سبق

السؤال 7

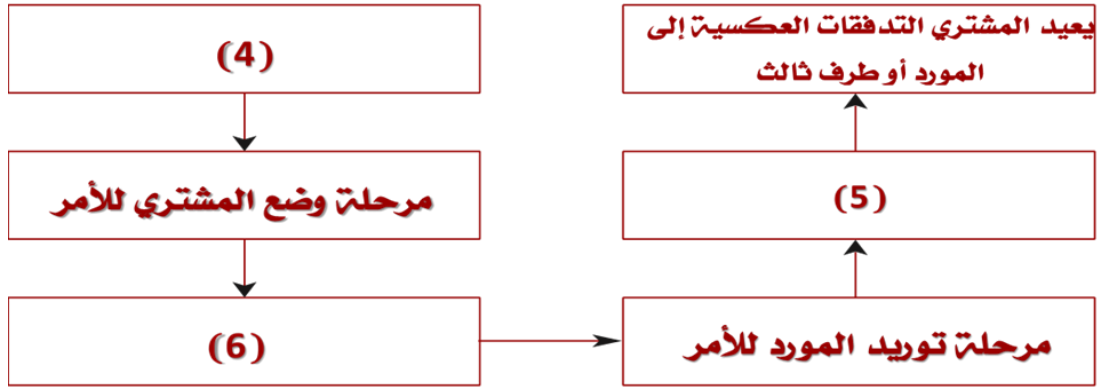
يشمل التخطيط إتخاذ قرارات بشأن تحديد أى الأسواق سيتم تزويدها ومن أى
المواقع، و -----

سياسات الإنتاج الواجب إتباعها
توقيت وحجم الإنتاج والتسويق والأسعار
تعاقبات التصنيع من الباطن

كل ما سبق

السؤال 8

في شكل العمليات الفرعية في كل دورة عمليات لسلسلة التوريد الموضح أعلاه
يشير الرقم (5) إلى: -----



مرحلة استلام المشتري للتوريد

مرحلة استلام المورد للأمر
مرحلة تسويق المورد للمنتج
مرحلة استلام فاتورة الشراء

السؤال 9

يتطلب نجاح إدارة سلسلة التوريد العديد من القرارات المتعلقة بتدفق المعلومات،
والمنتجات، والأموال. وتدرج هذه القرارات تحت ثلاث فئات أو مراحل. وهي:-----

تخطيط عملية الإنتاج

إستراتيجية/ تصميم سلسلة التوريد

تنظيم سلسلة التوريد

كل ما سبق

السؤال 10

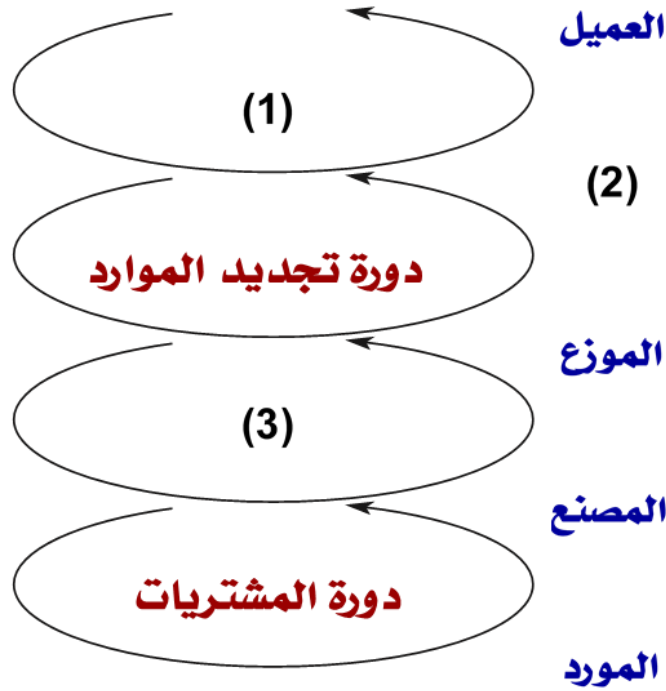
تتكون سلسلة التوريد من جميع الأطراف المشاركة في الوفاء بطلبات العملاء، سواء بشكل مباشر أو غير مباشر. ولا تتضمن سلسلة التوريد المصنعين والموردين فقط، بل تتضمن أيضاً الناقلون، والمستودعات، وتجار التجزئة، وحتى العملاء أنفسهم.

صواب

خطأ

السؤال 11

الشكل أعلاه يوضح دورات عمليات سلسلة التوريد، والمطلوب تحديد ما الذي يشير إليه الرقم (2) في الشكل؟



دورة التصنيع

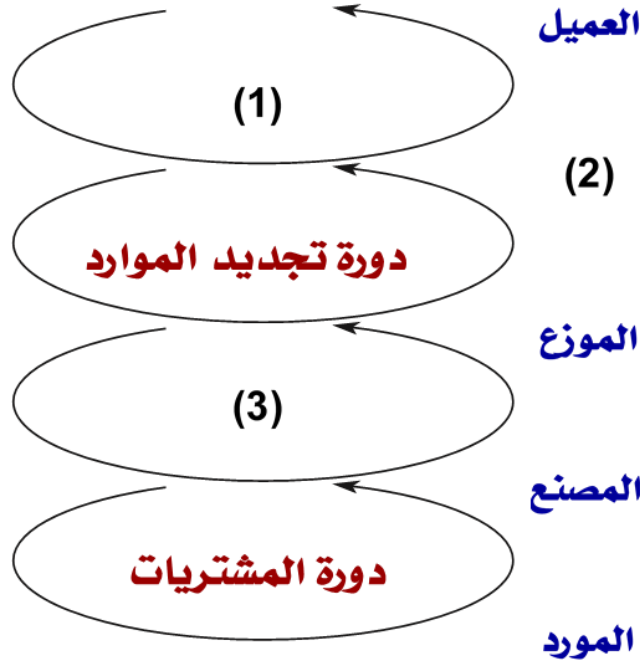
تاجر التجزئة

دورة طلب العميل

إدارة عمليات التصنيع

السؤال 12

الشكل أعلاه يوضح دورات عمليات سلسلة التوريد، والمطلوب تحديد ما الذي يشير إليه الرقم (3) في الشكل؟



دورة التصنيع

تاجر التجزئة

دورة طلب العميل

إدارة عمليات التصنيع

السؤال 13

الربحية هي الفرق بين الإيرادات المتولدة من العملاء والتكلفة الإجمالية عبر سلسلة التوريد.

صواب

خطأ

السؤال 14

كل عمليات سلسلة التوريد يمكن تصنيفها إلى العمليات الكلية التالية: -----

iscm

srm

crm

كل ما سبق

السؤال 15

قد تنطوي سلسلة التوريد النموذجية على مجموعة متنوعة من المراحل. وتشمل مراحل سلسلة التوريد، ما يلي: الزبائن، وتجار التجزئة، و-----.

تجار الجملة / الموزعين

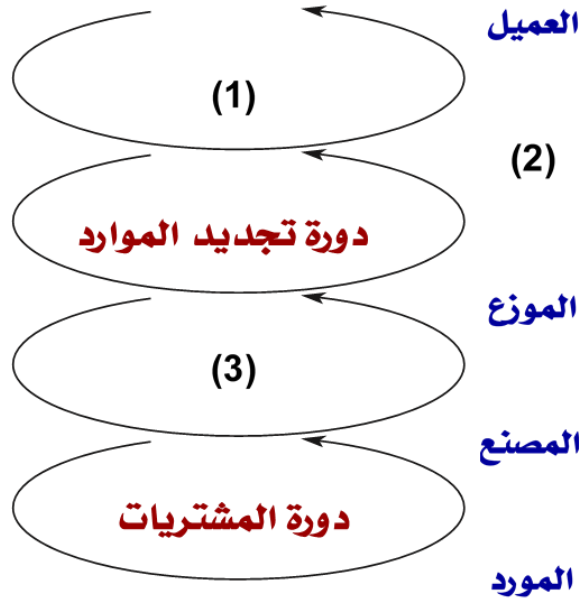
مُصنعين

موردي المواد الخام

كل ما سبق

السؤال 16

الشكل أعلاه يوضح دورات عمليات سلسلة التوريد، والمطلوب تحديد ما الذي يشير إليه الرقم (1) في الشكل؟



دورة التصنيع

تاجر التجزئة

دورة طلب العميل

إدارة عمليات التصنيع