

## المحاضرة الأولى / أساسيات الاقتصاد الكلي

### ❖ ما هي المشكلة الاقتصادية ؟

تتمثل المشكلة الاقتصادية في أن الموارد الاقتصادية محدودة مقارنة مع الحاجات غير المحدودة للمجتمعات البشرية، وهذا ما يعبر عنه الاقتصاديون بمشكلة الندرة (Scarcity).

### ❖ ما هو تعريف علم الاقتصاد ؟

هو أحد العلوم الاجتماعية أو الإنسانية الذي يدرس كيفية توزيع الموارد الاقتصادية أو عناصر الإنتاج (العمل، رأس المال، الموارد الطبيعية، التنظيم) لإنتاج السلع والخدمات التي تشبع حاجات أفراد المجتمع المتعددة

### ❖ ما هي أقسام علم الاقتصاد ؟

١. الاقتصاد الجزئي : وهو دراسة الاقتصاد على مستوى وحدة اتخاذ القرار، أي دراسة سلوك المستهلك وسلوك المنشأة في أسواق السلع وفي أسواق عناصر الإنتاج
  ٢. الاقتصاد الكلي : وهو دراسة الاقتصاد على المستوى الكلي حيث ينصب الاهتمام بالطلب الكلي، والنتائج أو العرض الكلي، والمستوى العام للأسعار والتضخم، ومستوى العمالة والنمو الاقتصادي والتوازن
- في ميزانية الدولة والتوازن في ميزان المدفوعات والتنمية الاقتصادية

### ❖ بماذا يهتم الإقتصاد الجزئي ؟

١. بالمستهلك
٢. بمنشأة الأعمال
٣. بسوق السلع .

### ❖ بماذا يهتم الإقتصاد الكلي ؟

يهتم بـ الطلب الكلي والنتائج أو العرض الكلي وبالمستوى العام للأسعار والتضخم ومستوى العمالة والنمو الاقتصادي .

## ❖ ما هي انواع النظام الاقتصادي ؟

١. النظام الاقتصادي الاسلامي
  ٢. النظام الاقتصادي الاشتراكي الذي زال
  ٣. النظام الاقتصادي الرأس مالي الذي هو مطبق الآن في جميع أنحاء العالم
- ✓ حيث أننا في هذا المقرر ندرس النظام الرأس مالي

## ❖ كيف نشاء وتطور علم الإقتصاد ؟

نشاء وتطور من خلال اربع مدارس وهي :

### المدرسة الكلاسيكية

- أهم مؤسسها هو آدم سميث (١٧٧٦)، وتقوم على أساس التوازن ويتلخص فكرها في:
١. ان اليد الخفية ( الأسعار ) هي من تحرك النشاط الاقتصادي
  ٢. قانون ساي والتوازن التلقائي للاقتصاد عند التوظيف الكامل
  ٣. الحرية الاقتصادية ، وعدم الحاجة لتدخل الدولة
- ✓ سلبية هذه المدرسة التضخم وهو حدوث الكساد الكبير والذي أدى إلى تراجع الإنتاج العالمي وتعرض النظام الرأس مالي بأكمله للخطر .

### المدرسة الكينزية

- مؤسسها جون مينارد كينز (١٩٣٦)، ويتلخص فكرها في:
١. توازن الاقتصاد ( العرض والطلب ) عند مستوى أقل من التوظف الكامل في حالة الكساد
  ٢. ضرورة تدخل الحكومة باستخدام السياسة المالية لمعالجة الكساد الاقتصادي.
- ✓ سلبية هذه المدرسة ادة الى التضخم والبطالة .

### المدرسة النقدية الحديثة

- مؤسسها ميلتون فريدمان (١٩٥٧)، ويتلخص فكرها في:
١. التضخم ظاهرة نقدية
  ٢. السياسة المالية لا فاعلية لها ما لم تدعمها سياسة نقدية

✚ مؤسسها روبرت لوكس وتوماس سيرجنت (١٩٧٠-١٩٨٠)، ويتلخص فكرها في:

ان السياسات الاقتصادية غير المتوقعة فقط هي التي تؤثر في المتغيرات الاقتصادية الحقيقية ( أي الناتج الحقيقي ومعدل البطالة ) فكلما زاد الناتج الحقيقي انخفض معدل البطالة وكلما ارتفع معدل البطالة انخفض الناتج الحقيقي

### ❖ عرف النمو الاقتصادي ؟

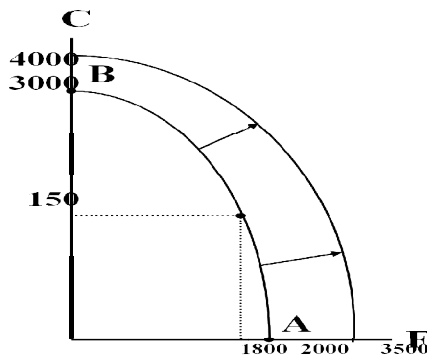
يعرف النمو الاقتصادي على أنه الزيادة المستمرة في الناتج القومي الحقيقي من سنة إلى أخرى .

### ❖ استمرار النمو الاقتصادي أمر مرهون بإمكانيات أذكرها ؟

١. تنمية الموارد الطبيعية وذلك باستصلاح الأراضي أو تنمية الموارد النفطية وتنمية كل من رأس المال البشري ورأس المال المادي.
٢. التقدم التقني، ويتم بالاستثمار في البحوث والتطوير بهدف استخدام تقنيات أحدث في الإنتاج.

### ❖ متى ينتقل منحنى إمكانيات الإنتاج إلى الخارج ( إلى جهة اليمين ) ؟

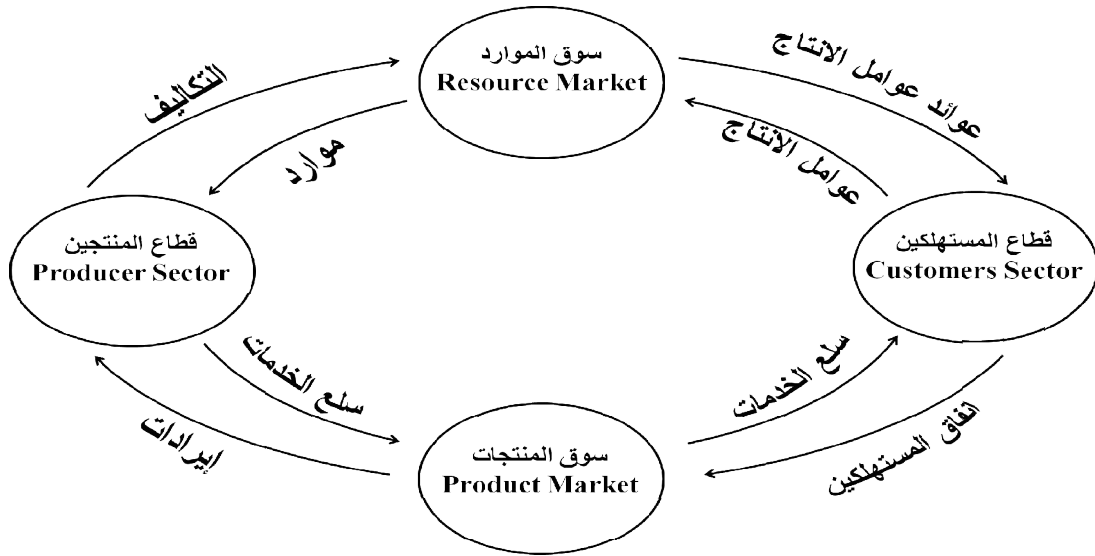
١. عند زيادة رصيد الاقتصاد من الموارد خاصة الرأسمالية
٢. التقدم التقني
٣. زيادة عدد العمال أو مهارة العمال أنفسهم



الشكل (١-١): ينتقل منحنى إمكانيات الإنتاج إلى الخارج في حالة النمو الاقتصادي الذي ينتج عن زيادة رصيد الاقتصاد من الموارد خاصة الرأسمالية أو بالتقدم التقني.

## ❖ يعتمد التدفق الدائري للإنتاج والدخل لبلد معين على اربع قطاعات أذكرها ؟

١. قطاع المنتجين ( يقصد به المؤسسات )
٢. قطاع المستهلكين ( يقصد به الأسر )
٣. القطاع الحكومي ( يقصد به البنوك )
٤. القطاع الخارجي ( يقصد به الحكومة الدولية )



**الشكل (٢-٣):** التدفق الدائري للإنتاج والدخل، حيث يلاحظ تعادل الإنفاق الكلي مع الدخل الكلي أو عوائد عوامل الإنتاج (لافتراض عدم الادخار) مع قيمة الناتج المحلي الإجمالي ممثلة بإيرادات قطاع المنتجين.

## ❖ ما هو دور تأثير القطاع الحكومي ؟

يتمثل تأثير دور القطاع الحكومي في الاقتصاد بطريقة مباشرة من خلال تحصيل الضرائب والرسوم والإنفاقات التي تقوم بها في مختلف المجالات

## ❖ ما هي الحالات التي تفشل فيها آلية السوق الحرة وتستوجب التدخل الحكومي ؟

١. حالة السلع والخدمات العامة
٢. حالة التأثيرات الخارجية
٣. حالة الاحتكار الطبيعي

## ❖ ما هو تعريف الموارد الاقتصادية ؟

هي الموارد المالية والبشرية من الناحيتين الكمية والنوعية المستخدمة في إنتاج السلع والخدمات

## ❖ على ماذا تشتمل الموارد الاقتصادية ؟

١. الأرض: جميع الموارد الطبيعية
٢. العمل: القوى العاملة وما تملكه من كفاءات ومهارات وعلم وخبرات علمية.
٣. رأس المال: موارد من صنع الإنسان كالآلات والمعدات والمباني.
٤. التنظيم: ويتمثل في القدرة على ابتكار الأعمال والأقدام وتحمل المخاطر وتحقيق النجاحات.

## ❖ ماذا يقصد بالسياسة الاقتصادية ؟

يقصد بالسياسة الاقتصادية هي مجموعة الأدوات الاقتصادية التي تستخدمها الحكومة كالضرائب والإنفاق والإعانات يتم بها التأثير بطريقة غير مباشرة على سلوك وحدات صنع القرار بهدف تحقيق أهداف اقتصادية معينة .

## ❖ ما هو هدف السياسة الاقتصادية ؟

١. محاربة الفقر
٢. زيادة معدل النمو الاقتصادي
٣. تحقيق رفاهية الفرد

## ❖ ما العلاقة بين أهداف ووسائل السياسة الاقتصادية ؟

يجب أن يكون هناك تطابق وتناسق ما بين أهداف ووسائل السياسة الاقتصادية فهذه محاربة الفقر مثلا لا بد له من سياسات لتوفير فرص العمل، ورفع الكفاءة الإنتاجية للعمال. وهدف زيادة معدل النمو الاقتصادي يحتاج إلى سياسات لتحفيز الاستثمار الحقيقي والاستثمار في البحوث والتطوير .

## الماضرة الثانية / الحسابات القومية والنمو الاقتصادي ١

❖ **ما هي أهم المؤشرات الاقتصادية المستخدمة لتحديد مستوى النشاط الاقتصادي ؟**

يعتبر الإنتاج المحلي الإجمالي من أهم المؤشرات الاقتصادية المستخدمة لتحديد مستوى النشاط الاقتصادي واتجاه وسرعة نموه .

❖ **ما هو تعريف الناتج المحلي الإجمالي GDP ؟**

يقصد به القيمة السوقية (بالأسعار الجارية) لجميع السلع والخدمات النهائية المنتجة في قطر معين وفي فترة زمنية معينة .

❖ **كيف يتم قياس القيمة السوقية للإنتاج ؟**

نحصل على القيمة السوقية لأي سلعة أو خدمة بضرب الكمية المنتجة في سعرها الجاري في السوق

❖ **على ماذا تشتمل السلع والخدمات النهائية ؟**

١. السلع الاستهلاكية والصادرات
٢. السلع الاستثمارية
٣. الزيادة في المخزون من السلع المختلفة

❖ **ما هو تعريف السلع الوسيطة ؟**

هي السلع التي يتم إنتاجها بواسطة منشأة معينة لتستخدمها منشأة أخرى كعنصر إنتاج في إنتاج سلعة أو خدمة نهائية أخرى .

❖ **لماذا لا يتم حساب السلع الوسيطة عندما نريد نحسب الناتج المحلي ؟**

١. عند احتساب قيمة السلع الوسيطة في حساب الناتج المحلي الإجمالي، فإنها تحتسب مرتين مرة كسلعة وسيطة ومرة أخرى كجزء من قيمة السلعة النهائية.
  ٢. يسبب ذلك في ارتكاب خطأ ما يعرف بالاحتساب المزدوج
  ٣. يقود ذلك الى تضخيم قيمة الناتج المحلي الإجمالي بما يفوق حقيقته.
- ✓ ولتجنب الوقوع في خطأ الحساب المزدوج، تستخدم طريقة القيمة المضافة

**ملاحظة**

مهم جداً الرجوع لمحتوى الاقتصاد الكلي + الكتاب لتلافي أي خطأ أو تقصير أخوكم / انت من ١٤٣٢هـ

## ❖ ما هي طريقة القيمة المضافة ؟

هي ( قيمة الإنتاج - قيمة السلع الوسيطة ) حيث يتم تجميع القيمة المضافة (قيمة الإنتاج - قيمة السلع الوسيطة) في كل مرحلة من مراحل الإنتاج.  
القيمة الإجمالية المضافة من السلع الوسيطة هي قيمة السلعة النهائية

مراحل الإنتاج [١]	قيمة الإنتاج [٢]	القيمة المضافة [٣]	❖ ملاحظاتي الخاصة ❖ القيمة المضافة = قيمة الإنتاج - قيمة مستلزمات الإنتاج
١- القمح	٢٠٠	٢٠٠	القيمة المضافة = قيمة الإنتاج - قيمة مستلزمات الإنتاج $٢٠٠ - صفر = ٢٠٠$
٢- الطحين	٣٥٠	١٥٠	عند استخراج الطحين من القمح كان قيمته (٣٥٠) وبالتالي فالقيمة المضافة = قيمة إنتاج الطحين - قيمة إنتاج القمح $٣٥٠ - ٢٠٠ = ١٥٠$
٣- الخبز	٥٥٠	٢٠٠	عند إنتاج الخبز من الطحين كان قيمته (٥٥٠) القيمة المضافة = قيمة إنتاج الخبز - قيمة إنتاج الطحين $٥٥٠ - ٣٥٠ = ٢٠٠$
٤- المجموع	١١٠٠	٥٥٠	مجموع القيم المضافة = $٢٠٠ + ١٥٠ + ٢٠٠ = ٥٥٠$

### مثال رقم (٢) لتوضيح الطريقة المضافة:

مراحل الإنتاج	القيمة البيعية	مستلزمات إنتاج	القيمة المضافة
قمح	٧٠٠	صفر	٧٠٠
دقيق	١٠٠٠	٧٠٠	٣٠٠
خبز	٢٠٠٠	١٠٠٠	١٠٠٠
			٢٠٠٠



لاحظ في المثال السابق أن القيمة البيعية للقمح تساوي ٧٠٠ ريال ولم يدخل على هذه القيمة مستلزمات إنتاج، لذلك تكون القيمة المضافة هي ٧٠٠ ريال.

أما القيمة البيعية للدقيق فتساوي ١٠٠٠ ريال، ولتصنيع الدقيق استعنا بقمح بلغه قيمته ٧٠٠ ريال فهو بالتالي أي القمح أصبح مستلزم إنتاج للدقيق. أي أن القيمة المضافة تساوي ٣٠٠ ريال.

## ❖ بماذا يقاس الناتج المحلي الإجمالي ؟

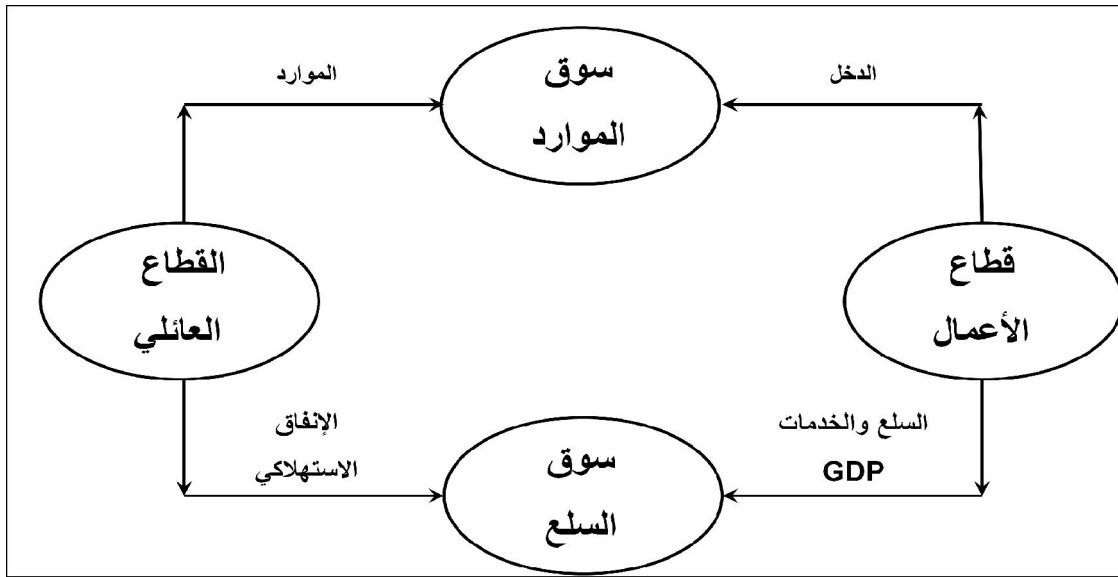
لقياس قيمة الناتج المحلي الإجمالي يتم حساب قيمة السلع والخدمات النهائية الجديدة المنتجة خلال فترة زمنية معينة وهي سنة عادة، فقط داخل الحدود الجغرافية للدولة .

### ملاحظة

مهم جداً الرجوع لمحتوى الاقتصاد الكلي + الكتاب لتلافي أي خطأ أو تقصير أخوكم / انت من ١٤٣٢هـ

## ❖ ماذا يقصد بالتدفق الدائري للإنتاج والدخل ؟

لتفهم أداء الاقتصاد الكلي وما يتأثر به من عوامل داخلية وخارجية، يستخدم نموذج مبسط لاقتصاد مغلق يتكون من قطاعين اثنين فقط، هما القطاع العائلي وقطاع منشآت الأعمال وللتبسيط نفترض أن القطاع العائلي لا يدخر بل ينفق كل ما يحصل عليه من دخل كما هو موضح في الشكل التالي :



يوضح الشكل أعلاه التدفق المالي للدخل من قطاع الأعمال إلى القطاع العائلي والإنفاق من القطاع العائلي إلى قطاع الأعمال، والتدفق المادي للنتائج المحلي الإجمالي من قطاع الأعمال إلى القطاع العائلي وتدفق الموارد من القطاع العائلي إلى قطاع الأعمال.

## ❖ ما هو التوازن الاقتصادي ؟

التوازن الاقتصادي هو حالة من الاستقرار حيث تتعدم فيه القوى الداخلية الدافعة للتغيير.

## ❖ متى يتحقق التوازن الاقتصادي الكلي ؟

عندما يتعادل الدخل ( $Y$ ) مع الإنفاق الذي يقتصر في هذا النموذج على الإنفاق الاستهلاكي ( $C$ ) لذلك يكون الاقتصاد في حالة توازن دائم نتيجة لافتراض عدم وجود المدخرات إذا افترضنا أن القطاع العائلي يدخر جزء من دخله، فستكون هذه المدخرات متاحة عن طريق القطاع المالي (البنوك التجارية والمؤسسات المالية الوسيطة الأخرى) لقطاع الأعمال لتمويل الاستثمار ( $I$ ). وفي هذه الحالة يتحقق توازن الاقتصاد الكلي عندما يتعادل الدخل مع إجمالي الإنفاق الاستهلاكي والاستثماري، أي عندما تكون ( $Y = C + I$ ).



## ❖ على ماذا يؤثر الإنفاق الحكومي ؟

يؤثر الإنفاق الحكومي بدرجة كبيرة على مستوى النشاط الاقتصادي عن طريق التأثير في الطلب الكلي

## ❖ ما هي أقسام الإنفاق الحكومي ؟

١. الإنفاق الجاري
٢. الإنفاق الاستثماري

## ❖ ماذا يقصد بالصادرات ؟

يقصد بالصادرات ذلك الجزء من الناتج المحلي الإجمالي الذي يتم بيعه إلى الأقطار الأخرى

## ❖ ماذا يقصد بالواردات ؟

هي السلع والخدمات التي يتم جلبها من الخارج

## ❖ ماذا يطلق على الفرق بين قيمة الصادرات وقيمة الواردات ؟

صافي الصادرات أو الميزان التجاري

- الصادرات [ Exports ] : ذلك الجزء من الناتج المحلي الإجمالي الذي يتم بيعه إلى الأقطار الأخرى .
- الواردات [ Imports ] : هي السلع والخدمات التي يتم جلبها من الخارج .
- صافي الصادرات [ Net Exports ] = الميزان التجاري [ Balance of Trade ]
- صافي الصادرات [ Net Exports ] = الصادرات [ X ] - الواردات [ M ] .
- إذا كانت قيمة الصادرات ↑ أكبر من قيمة الواردات ، فذلك يدل على فائض تجاري [ Trade Surplus ]
- إذا كانت قيمة الصادرات ↓ أقل من قيمة الواردات ، فذلك يدل على عجز تجاري [ Trade Deficit ]



## ❖ كيف يتم قياس الناتج المحلي الإجمالي ؟

- لذا ، فإنه من الممكن قياس الناتج المحلي الإجمالي بثلاث طرق هي :



### ➤ طريقة الناتج :

يتم في طريقة الناتج جمع قيم السلع والخدمات النهائية المنتجة محلياً في سنة معينة ويتم تقدير الناتج بضرب الكمية المنتجة من كل سلعة أو خدمة في سعر الوحدة منها السائد في أسواق التجزئة

✓ الناتج المحلي الإجمالي = مجموع [ السعر × الكمية ] لجميع السلع والخدمات النهائية

### ➤ طريقة الدخل :

يُقاس الناتج المحلي بطريقتي الدخل بجمع الدخول المتحققة لأفراد المجتمع لقاء مساهمتهم في الإنتاج مضافاً إليها الضرائب غير المباشرة وإهلاكات الأصول الثابتة ومطروحاً منها الإعانات الحكومية غير المباشرة

❖ الناتج المحلي الإجمالي [ GDP ] بطريقة الدخل

= دخول العاملين + صافي [ العوائد ] الفوائد + الإيجارات + أرباح الشركات + دخول الأعمال الصغيرة +  
 صافي الضرائب غير المباشرة + إهلاك رأس المال .

**ملاحظة**

مهم جداً الرجوع لمحتوى الاقتصاد الكلي + الكتاب لتلافي أي خطأ أو تقصير أخوكم / انت من ١٤٣٢هـ

كما هو مبين في الجدول التالي :

جدول (٢-١) : الناتج المحلي الإجمالي بطريقة الدخل		
GDP%	الدخل	بنود الدخل
٥٨.٥	٤٩٨١	دخل العاملين
٥.٣	٤٤٩	صافي الفائدة
١.٩	١٦٣	دخل الإيجارات
٩.٧	٨٢٥	أرباح الشركات
٦.٨	٥٧٧	دخل المالكين للأعمال الصغيرة
٩.٥	٨٠٨	زائد الضرائب غير المباشرة
-٢.٣	-٢٠٠	ناقصا الإعانات غير المباشرة
١٠.٦	٩٠٨	إهلاكات الأصول الثابتة
١٠٠	٨٥١١	الناتج المحلي الإجمالي

طريقة الإنفاق :

ويتم ذلك بجمع الإنفاق على السلع والخدمات النهائية الجديدة أو الإنفاق على GDP من قبل القطاعات الاقتصادية المختلفة وفق المعادلة :

$$GDP = C + I + G + X - M$$

الناتج المحلي الإجمالي - الإنفاق الاستهلاكي - الإنفاق الاستثماري - الإنفاق الحكومي على السلع والخدمات - صافي الصادرات الخارجية  
(الصادرات القابلة)

$$(M - X) + G + I + C = GDP$$

كما هو مبين في الجدول التالي :

جدول (٣-١) : الناتج المحلي الإجمالي بطريقة الإنفاق (الإنفاق بملايين الدينارات في سنة ٢٠٠٣)		
GDP%	الإنفاق	بنود الإنفاق
٦٨.٢	٥٨٠٨	الإنفاق الاستهلاكي
١٦.١	١٣٦٧	الاستثمار الخاص
١٧.٥	١٤٨٧	الإنفاق الحكومي
-١.٨	-١٥١	صافي الصادرات
١٠٠	٨٥١١	الناتج المحلي الإجمالي

## الماضرة الثالثة / الحسابات القومية والنمو الاقتصادي ٢

### ❖ ماذا يقصد بالنتاج القومي الإجمالي ؟

هو ما يشتمل على قيمة جميع السلع والخدمات النهائية المنتجة من قبل الأفراد والشركات العربية سواء تم الإنتاج في داخل أو خارج أقطار الوطن العربي .

### ❖ هل تعتبر الأرباح المتحققة للشركات الأجنبية العاملة في الأقطار العربية جزءاً من الناتج القومي الإجمالي العربي؟

لا

### ❖ ما هو الفرق بين الناتج المحلي الاجمالي والناتج القومي الاجمالي ؟

مثال للتوضيح :

- ✓ الناتج الاجمالي القومي السعودي تحسب فيه جميع السلع والخدمات المنتجة من طرف السعوديون سواء كانوا متواجدين على تراب المملكة او متواجدون بالخارج .
- ✓ اما الناتج المحلي الاجمالي السعودي فيتم حسب جميع السلع والخدمات المنتجة على تراب المملكة فقط من طرف السعوديون او من غير السعوديون المتواجدون في الداخل .

### ❖ كيف يتم قياس الناتج القومي الاجمالي ؟

$$GNP = GDP + NFI$$

### ❖ كيف يتم التوصل الى الدخل المحلي الصافي ؟

يتم التوصل إلى الدخل المحلي الصافي بعد إضافة الإعانات غير المباشرة واستبعاد الضرائب غير المباشرة. أي طرح صافي الضرائب غير المباشرة من الناتج المحلي الصافي أي أن :

$$NDI = GDP - (NIT + D)$$

### ❖ كيف يتم قياس الناتج القومي الصافي ؟

يقاس الناتج الإجمالي الصافي بالفرق بين الناتج القومي الإجمالي وإهلاكات الأصول الثابتة أي أن

$$NNP = GNP - D$$

### ❖ ما هو الدخل الشخصي ؟

هو مجموع ما يحصل عليه افراد المجتمع من دخول دون اعتبار لمشاركتهم او عدم مشاركتهم في الناتج المحلي الاجمالي .

### ❖ كيف يتم التوصل إلى الدخل الشخصي ؟

✓ **بالطريقة التالية :** الدخل الشخصي = صافي الدخل المحلي – (الضرائب على أرباح الشركات + الأرباح غير الموزعة + استقطاعات الضمان الاجتماعي) + (مدفوعات الضمان الاجتماعي وتعويضات البطالة والمساعدات الحكومية للأسر الفقيرة + الفوائد على الدين العام).

### ❖ ما هو الدخل الشخصي المتاح ؟

هو الدخل الذي يملك الأفراد حق التصرف فيه بالإفناق أو الادخار.

### ❖ كيف يتم حساب الدخل الشخصي المتاح ؟

الدخل الشخصي المتاح = الدخل الشخصي – ضريبة الدخل الشخصي

### ❖ ما هو الناتج المحلي النقدي الحقيقي ؟

هو ما يتم احتسابه بعد استبعاد أثر التغير في الأسعار عند دراسة التقلبات في رفاه المجتمع.

### ❖ ما هو الرقم القياسي لأسعار المستهلك ؟

هو رقم قياس لأسعار السلع والخدمات الاستهلاكية ولا يشمل اسعار باقي السلع والخدمات الاخرى

### ❖ كيف يتم احتساب الرقم القياسي لأسعار المستهلك ؟

بقسمة القيمة السوقية لكميات معينة من مجموعة من السلع والخدمات يطلق عليها السلة السوقية لسنة معينة يطلق عليها سنة المقارنة أو السنة الجارية ، على القيمة السوقية لذات السلة من السلع والخدمات في سنة الأساس وهي سنة تتصف الظروف الاقتصادية فيها بالاستقرار يتم اختيارها كنقطة مرجعية ، ويضرب الناتج في مائة.

## وللتوضيح :

- هو رقم قياس لأسعار السلع و الخدمات الاستهلاكية ولا يشمل أسعار باقي السلع و الخدمات الأخرى .
- السلة السوقية [ Market Basket ] ، هي كميات معينة من مجموعة السلع و الخدمات .
- سنة المقارنة [ Current Year ] ، السنة الجارية .
- سنة الأساس [ Base Year ] : هي سنة تتصف الظروف الاقتصادية فيها بالاستقرار ويتم اختيارها كنقطة مرجعية .
- إذا وقع الاختيار مثلاً على سنة ١٩٩٢ كسنة أساس، أمكن حساب الرقم القياسي لأسعار المستهلك في سنة ٢٠٠٠ كالآتي :

$$100 \times \frac{\text{سنة المقارنة} \leftarrow \text{قيمة السلة السوقية في سنة [ ٢٠٠٠ ]}}{\text{سنة الأساس} \leftarrow \text{قيمة السلة السوقية في سنة [ ١٩٩٢ ]}}$$

- يطلق على الرقم القياسي لأسعار المستهلك [ CPI ] ، الرقم القياسي لتكاليف المعيشة
- يكتسب الرقم القياسي لأسعار المستهلك أهمية خاصة في الحياة العملية بالنسبة لتحديد الأجور والرواتب ، خاصة في الأقطار المتقدمة . حيث تزيد الأجور بنسبة الزيادة في الرقم القياسي لأسعار المستهلك ، حيث يتم حساب الأجر الحقيقي [ Real Wages ] باستخدام المعادلة التالية :

$$100 \times \frac{\text{الأجر النقدي}}{\text{الرقم القياسي لأسعار المستهلك}}$$

## ❖ كيف يتم استخدام الرقم القياسي لأسعار المستهلك في قياس معدل التضخم في الأسعار؟

- إذا زاد الرقم القياسي لأسعار المستهلك [ CPI ] من ١٢٠ في سنة ١٩٩٠ إلى ١٥٠ في سنة ٢٠٠٠ يكون معدل التضخم [ IR ] في سنة ٢٠٠٠ كما يلي :

$$IR = \frac{CPI(2000) - CPI(1990)}{CPI(1990)} \times 100 = \frac{150 - 120}{120} \times 100 = 25\%$$

## ❖ ما هي أسباب التحفظ على مدى دقة الرقم القياسي كمؤشر لقياس معدل التضخم؟

١. التغيرات في الأنماط الاستهلاكية
٢. ظهور السلع والخدمات الجديدة
٣. التحسن في نوعية المنتجات
٤. تخفيضات الأسعار

### ❖ ما هو مخفض الناتج المحلي الإجمالي ؟

هو رقم قياسي للأسعار المرجحة بكميات السلع والخدمات. ويعتبر أكثر شمولاً من الرقم القياسي لأسعار المستهلك، لأنه لا يشمل فقط على أسعار السلع والخدمات الاستهلاكية، بل يشمل كذلك على أسعار السلع الاستثمارية، وأسعار السلع والخدمات التي تشتريها الحكومة.

- الناتج المحلي الإجمالي الاسمي هو عبارة عن قيمة السلع والخدمات النهائية المنتجة في سنة معينة :  
أي أنه عبارة عن حاصل ضرب كميات هذه السلع والخدمات في أسعارها الجارية أو الحالية .

### ❖ كيف يتم تحويل الناتج المحلي الاسمي الى الناتج المحلي الحقيقي لأي سنة ؟

- ويمكن تحويل الناتج المحلي الاسمي إلى الناتج المحلي الحقيقي لأي سنة باستخدام المعادلة التالية :

$$\text{الناتج المحلي الحقيقي} = \frac{\text{الناتج المحلي الاسمي}}{\text{مخفض الناتج المحلي الإجمالي}} \times 100$$

### ❖ بماذا يقاس النمو الاقتصادي ؟

يقاس النمو الاقتصادي بمعدل الزيادة في الناتج المحلي الإجمالي الحقيقي من سنة إلى أخرى. ويمكن قياس النمو الاقتصادي باستخدام الناتج المحلي الإجمالي الحقيقي على النحو التالي :

$$\text{معدل النمو الاقتصادي في سنة } 2004 = \frac{\text{RGDP}_{2003} - \text{RGDP}_{2004}}{\text{RGDP}_{2003}} \times 100$$

### ❖ كيف يمكن قياس الناتج الحقيقي للفرد ؟

كما تستخدم أرقام الناتج الحقيقي في قياس الناتج الحقيقي للفرد، الذي يعتبر مؤشراً لمستوى رفاهية المجتمع. ويقاس الناتج الحقيقي للفرد باستخدام المعادلة التالية :

$$\text{الناتج المحلي الحقيقي للفرد} = \frac{\text{الناتج المحلي الإجمالي الحقيقي}}{\text{عدد السكان}}$$

## ❖ ما هي مآخذ استخدام معدل الناتج المحلي كمؤشر للرفاهية ؟

١. إن الناتج المحلي يمثل القيمة النقدية للسلع والخدمات التي يتم تسويقها، لذا فإنه لا يشمل على السلع

والخدمات التي لا يتم تداولها في الأسواق، كالخدمات المنزلية التي تؤديها الزوجة وأعمال الصيانة التي يؤديها الزوج

٢. تتجاهل الطريقة المتبعة في تقدير الناتج المحلي الإجمالي قيمة وقت الراحة الذي يستمتع به أفراد

المجتمع ويسهم في زيادة رفايتهم

٣. لا تعكس مقارنة الناتج المحلي للأقطار المختلفة صورة دقيقة لتباين مستويات الرفاهية الاجتماعية

لسكان هذه الأقطار.

٤. لا تعكس الناتج المحلي الصورة الحقيقية لنمط توزيع الدخل والثروة في المجتمع.

٥. لا تأخذ طريقة تقدير الناتج المحلي بعين الاعتبار الآثار البيئية الضارة الناتجة عن النشاطات

الاقتصادية.

٦. تختلف المجتمعات من حيث طبيعة وحدة المشكلات الاجتماعية التي تواجهها.

٧. لا يعكس تقدير الناتج المحلي الإجمالي الآثار السلبية للسلع التي تنتجها الأنشطة غير القانونية.

٨. أن معدل الدخل الفردي المقوم بالأسعار الجارية لم يعد مؤشراً دقيقاً لأغراض الم أن معدل الدخل

الفردي المقوم بالأسعار الجارية لم يعد مؤشراً دقيقاً لأغراض المقارنات الدولية وذلك لاختلاف

مستويات تكاليف المعيشة بين الدول.



## الماضرة الرابعة / البطالة والدورات الاقتصادية

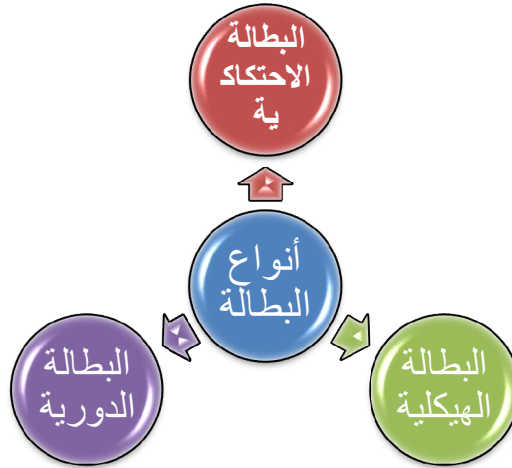
### ❖ ما هي أنواع البطالة ؟

١. البطالة الاحتكاكية

٢. البطالة الهيكلية

٣. البطالة الدورية

✓ البطالة الطبيعية = البطالة الاحتكاكية + البطالة الهيكلية



### ✚ البطالة الاحتكاكية

### ❖ ما هي خصائص البطالة الاحتكاكية ؟

١. تكون البطالة الاحتكاكية عادة قصيرة الأمد

٢. تشمل الأشخاص العاطلين عن عمل بصورة مؤقتة أو موسمية

٣. تعتبر هذه البطالة ظاهرة صحية في اقتصاد يتسم بالحركة والنمو

### ❖ ما هي أسباب البطالة الاحتكاكية ؟

استغناء بعض منشأة الأعمال عن بعض العمال نتيجة لتدهور الأوضاع الداخلية للمنشأة

أو شروعها في الخروج من السوق

**ملاحظة**

مهم جداً الرجوع لمحتوى الاقتصاد الكلي + الكتاب لتلافي أي خطأ أو تقصير أخوكم / انت من ١٤٣٢هـ

### ❖ ما هي الأمور التي تساعد على زيادة البطالة الاحتكاكية ؟

١. عدم كفاءة سوق العمل
٢. بطء حركة انتقال العمال نتيجة لعدم المعرفة التامة بفرص العمل المتاحة
٣. الطبيعة الموسمية لبعض الصناعات

### ❖ كيف يمكن خفض هذا النوع من البطالة ؟

١. طرح برامج لتسهيل وتعجيل حركة انتقال العمال
٢. نشر المعلومات الخاصة بفرص العمل المتاحة

### ❖ كيف يتأثر أمد هذا النوع من البطالة في الدول المتقدمة ؟

تتأثر بمقدار تعويضات البطالة التي يحصل عليها العمال العاطلين فكلما زادت هذه التعويضات انخفضت تكلفة البحث عن فرص العمل وازدادت الفترة الزمنية التي يقضيها العمال في البحث عن فرص العمل الأفضل

### ✚ البطالة الهيكلية

#### ❖ ما هي خصائص البطالة الهيكلية ؟

تكون هذه البطالة عادة أطول من البطالة الاحتكاكية

#### ❖ ما هي أسباب ظهور البطالة الهيكلية ؟

١. التقدم التقني وإحلال الآلة محل اليد العاملة
٢. التراجع في إنتاج بعض الصناعات، بسبب المنافسة الدولية
٣. طبيعة اقتصاد السوق الحر والانفتاح الاقتصادي
٤. التغيرات الهيكلية السكانية والهجرة المحلية والدولية

### ✚ البطالة الدورية

#### ❖ ما هي البطالة الدورية ؟

هي البطالة الناتجة عن الدورة الاقتصادية و تنشأ الدورة الاقتصادية عن تقلبات الناتج المحلي الإجمالي الحقيقي الفعلي ، حول الناتج المحلي الحقيقي الممكن وهو الناتج الذي يمكن تحقيقه بالاستخدام الكامل للموارد الاقتصادية .

## ❖ ما هي أسباب البطالة الدورية ؟

وتعزى أسباب هذه البطالة إلى فترات الانتعاش و الانكماش التي يمر بها الاقتصاد

## ❖ تكاليف البطالة

### ❖ ما هي انواع تكاليف البطالة ؟

١. التكاليف الاقتصادية : حيث تعني البطالة من الناحية الاقتصادية فقدان المجتمع لذلك الإنتاج من السلع والخدمات الذي كان من الممكن تحقيقه.
٢. التكاليف الاجتماعية : وذلك بتدني المستوى المعيشي بسبب انخفاض الدخل أو فقدانها بالكامل، وانتشار الفقر، وما يترتب عليه من ارتفاع في معدلات الجريمة، ونشوب الصراعات والاضطرابات السياسية والاجتماعية

### ❖ ما هي الشروط التي يلزم ان تتوفر في العاطل ؟

١. ان يكون في سن العمل
٢. ان يكون قادراً على العمل
٣. ان يكون باحثاً عن العمل
٤. أنه لم يجد عمل

✓ يمكن توضيح كيفية قياس البطالة من خلال تتبع أرقام المثال الموضح التالي :

الجدول رقم (4-1) : عدد السكان وقوة العمل الفاعلة والبطالة في قطر معين		
	مليون نسمة	
1- عدد السكان	22	
2- نصفاً من هم دون عمر (16) سنة	10-	
3- نصفاً من هم فوق عمر (65) سنة	6-	
4- عدد السكان في عمر العمل	6	$[(3+2)-1]=4$
5- نصفاً عدد المشاركين في القوى العاملة	1.5-	
6- قوة العمل الفاعلة	4.5	$(5)-(4)=6$
7- نصفاً عدد العاملين فعلاً	3.5-	
8- عدد العاملين عن العمل*	1.0	$(7)-(6)=8$

## مؤشرات سوق العمل [ Labor Market Indicators ]

### ١ - نسبة البطالة [ The Rate of Unemployment ]

- ينظر إلى نسبة البطالة كمؤشر للتعرف على نسبة الأشخاص المشاركين في القوى العاملة لكنهم لا يجدون فرصاً للعمل .

$$\text{معدل نسبة البطالة} = \frac{\text{عدد الأشخاص العاطلين ويبحثون عن عمل جديدة}}{\text{قوة العمل الفاعلة}} \times 100$$

ومن الأرقام الواردة في الجدول [ ٤ - ١ ] المدرج أعلاه ، فإن نسبة البطالة هي :

$$\text{معدل نسبة البطالة} - \frac{\text{عدد الأشخاص العاطلين ويبحثون عن عمل جديدة}}{\text{قوة العمل الفاعلة}} \times 100 = \frac{1}{4.5} \times 100 = 22.2\%$$

### ٢ - نسبة المشاركة في قوة العمل الفاعلة [ The Active Labor Force Participation Rate ]

- تمثل نسبة المشاركة في قوة العمل الفاعلة عدد الأشخاص الرغبين و القادرين على العمل ممن في عمر العمل ، [ ١٦ - ٦٥ ] سنة ، سواء كانوا يعملون فعلاً أو عاطلون عن العمل يبحثون جديدة عن فرص للعمل .

- تمثل نسبة قوة العمل الفاعلة كنسبة من عدد السكان ممن هم في عمر العمل .

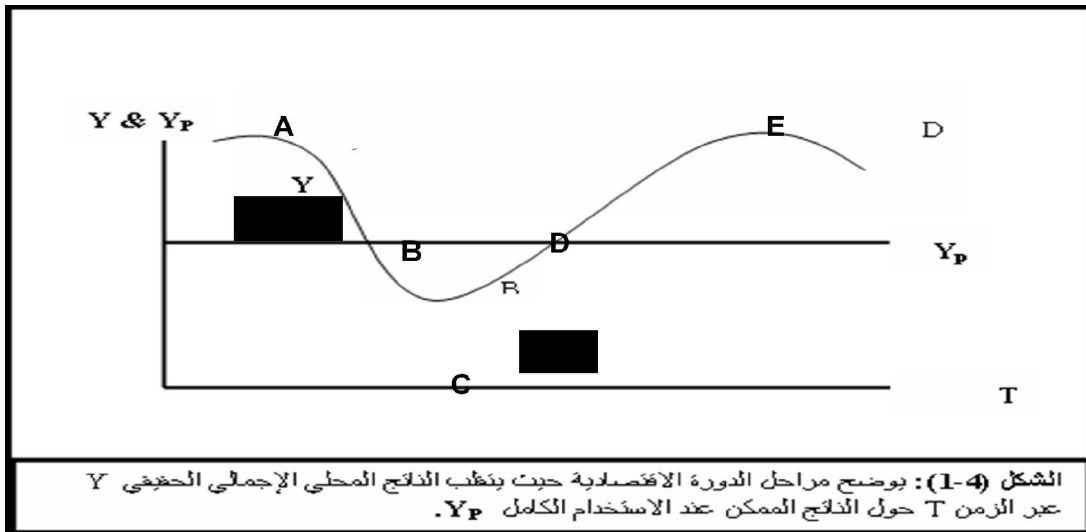
$$\text{معدل نسبة المشاركة في قوة العمل} = \frac{\text{قوة العامل الفاعلة}}{\text{عدد السكان في عمر العمل [ ١٦ - ٦٥ ] سنة}} \times 100$$

ومن الأرقام الواردة في الجدول [ ٤ - ١ ] المدرج أعلاه ، فإن نسبة المشاركة في قوة العمل هي :

$$\text{معدل نسبة المشاركين في قوة العمل} = \frac{\text{قوة العامل الفاعلة}}{\text{عدد السكان في عمر العمل}} \times 100 = \frac{4.5}{6} \times 100 = 75\%$$

## ❖ ما هي أسباب حدوث التقلبات الاقتصادية ؟

١. التغير في الناتج المحلي الإجمالي
٢. التغير في معدلات البطالة، أو الاستخدام
٣. التغير في المستوى العام للأسعار
٤. التغير في الطلب الكلي على السلع والخدمات
٥. التغير في الإنتاج القطاعي
٦. التغير في مستوى الإنفاق والاستهلاك الكلي
٧. التغير في مستوى الإنفاق الاستثماري الكلي



## ❖ ما هي مراحل الدورات الاقتصادية ؟

١. مرحلة الركود، أو الانكماش
٢. مرحلة الكساد
٣. مرحلة الانتعاش
٤. مرحلة الرفاهية

### ١ - مرحلة الركود ، أو الانكماش [ Recession ] :

+ تتميز هذه المرحلة بانخفاض في الناتج المحلي أو مستوى الدخل ، وزيادة معدل البطالة ، وانخفاض المستوى العام للأسعار ، كما هو الحال بين النقاط [ A و C ] في الشكل السابق .

+ يعتبر الركود الاقتصادي حالة عامة تسود معظم النشاطات الاقتصادية ولا تقتصر على قطاع اقتصادي معين ، لذا فإن التغيرات الموسمية في الطلب الكلي التي تحدث عادة في بعض القطاعات لا تعتبر مؤشرات للدلالة على دخول الاقتصاد القومي مرحلة الركود ، مثل الانتاج الزراعي حيث يتم استبعاد تأثير هذه التغيرات ، والتركيز فقط على الاتجاه العام لمؤشرات النشاط الاقتصادي الكلي .

### ٢ - مرحلة الكساد [ Depression ] :

+ يدخل الاقتصاد مرحلة الكساد التي تتميز بانخفاض النشاط الاقتصادي إلى أدنى مستوياته ويطلق عليه [ قاع الركود Bottom of Recession ] في حالة غياب أي تدخل من جانب الحكومية لإيقاف الركود الاقتصادي ، كما هو الحال عند النقطة [ B ] من الشكل السابقة .

### ٣ - مرحلة الانتعاش [ Recovery ] :

+ يتميز الاقتصاد في مرحلة الانتعاش بارتفاع مستويات الدخل أو الناتج ، والاستخدام ، وبالتالي زيادة معدلات الاستثمار والاستهلاك وارتفاع مستوى الأسعار ، كما هو الحال بين النقطتين [ B و D ] في الشكل السابق .

### ٤ - مرحلة الازدهار أو الرخاء [ Prosperity ] :

+ تتميز هذه المرحلة بارتفاع مستوى الناتج المحلي إلى أعلى مستوى له بعد فترة الانتعاش المستمر ، وانخفاض مستوى البطالة إلى أدنى مستوى ، مع ارتفاع مستوى الأسعار كما هو الحال عند النقطة [ D ] في الشكل السابق .

## ❖ ما هي نظريات الدورات الاقتصادية ؟

١. النظرية الماركسية

٢. نظرية تشومبيتر

٣. النظرية الكينزية

٤. النظرية النقدية

٥. نظرية التوقعات الرشيدة

٦. النظرية العامة للعرض الكلي والطلب الكلي

## الماضرة الخامسة / العرض الكلي والطلب الكلي

### ❖ ما هو تعريف العرض الكلي ؟

هو جميع ما ينتج في المجتمع من سلع وخدمات في الاقتصاد المحلي خلال فترة زمنية محددة جرت العادة ان تكون سنة

### ❖ ما هو تعريف الطلب الكلي ؟

هو الطلب على هذه السلع والخدمات التي تنتج في الاقتصاد خلال فترة زمنية محددة جرت العادة ان تكون سنة

### ❖ ما هي العوامل المحددة للعرض الكلي ؟

١. كمية العمل

٢. كمية رأس المال

٣. المستوى التقني السائد

### ❖ ما هي الدالة التي يمكن التعبير بها عن الناتج المحلي الاجمالي ؟

- يمكن التعبير عنها بدالة الإنتاج الضمنية التالية :

$$Y = f(L, K, T) = \text{الناتج المحلي الإجمالي}$$

[L] كمية العمل

[K] كمية رأس المال [مع دمج مدخلات الإنتاج الأخرى عندا كمية العمل]

[T] المستوى التقنية السائد في الاقتصاد .

### ❖ بماذا يقاس العرض الكلي في الأمد البعيد ؟

يقاس بكمية الناتج المحلي الإجمالي الحقيقي عند مستوى الاستخدام الكامل

ملاحظة

مهم جداً الرجوع لمحتوى الاقتصاد الكلي + الكتاب لتلافي أي خطأ أو تقصير أخوكم / انت من ١٤٣٢هـ

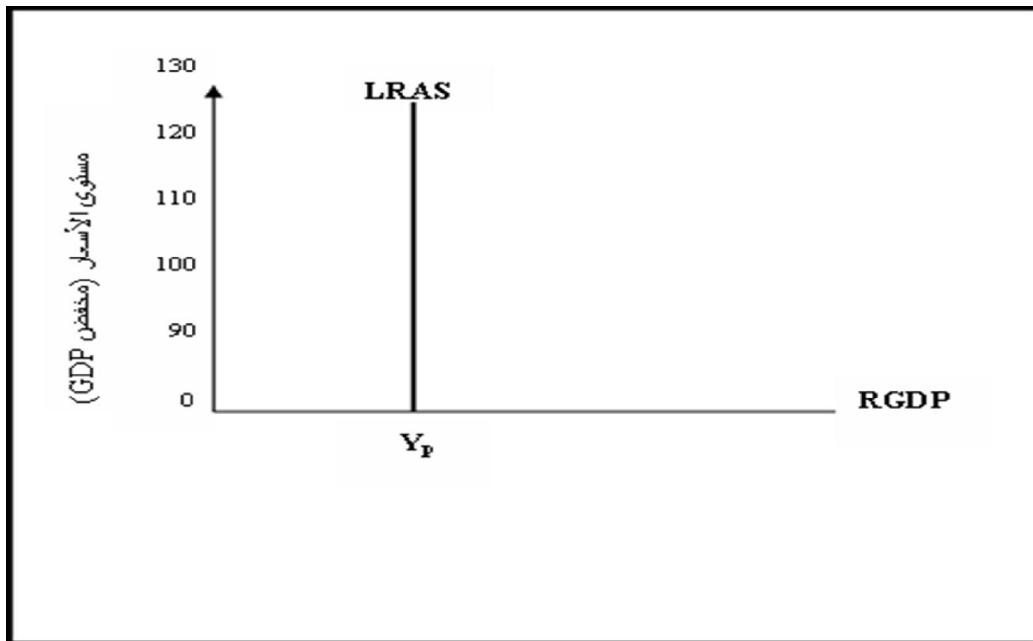
## ❖ ماهي شروط تعادل الناتج المحلي الاجمالي الكامن مع الناتج المحلي الاجمالي الحقيقي ؟

١. ثبات كمية رأس المال

٢. ثبات المستوى التقني

## ❖ ما هو سبب ان الناتج في المدى البعيد مستقل عن مستوى الأسعار ؟

نتيجة لتغير الأسعار والأجور بذات النسبة مما يجعل الأرباح الحقيقية ثابتة رغم تغير مستوى الأسعار ، ويكون معدل البطالة مساوياً لمعدل البطالة الطبيعي .

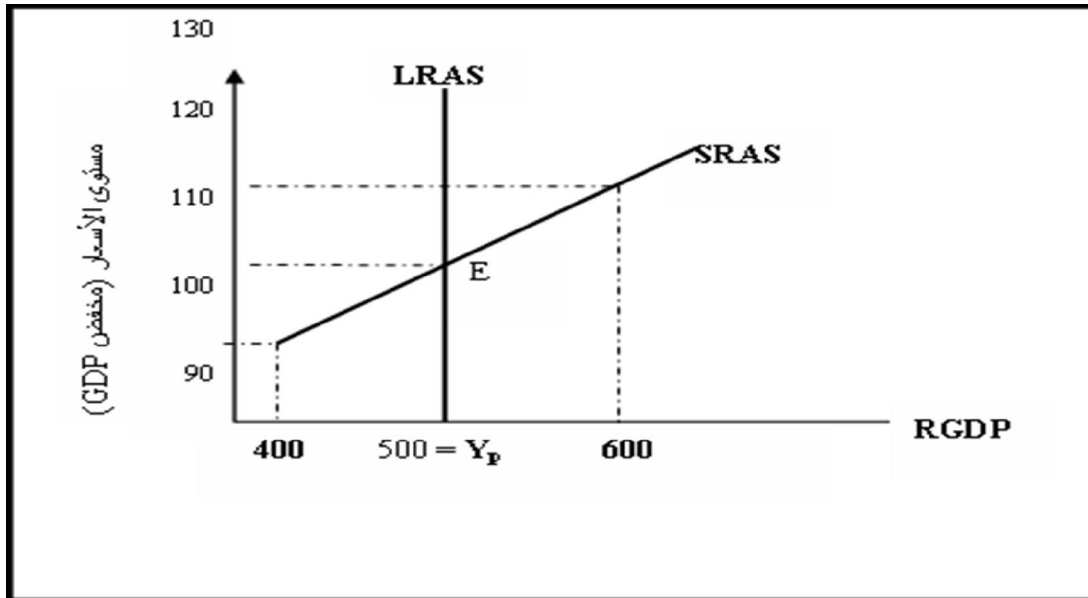


الشكل (5-1): يوضح منحنى العرض الكلي في الأمد البعيد كخط عمودي، حيث يتساوى الناتج الحقيقي الفعلي مع الناتج الكامن، ويكون الناتج الإجمالي مستقلاً عن مستوى الأسعار، ويتحقق الاستخدام الكامل ويكون معدل البطالة مساوياً لمعدل البطالة الطبيعي.



### ❖ ما هو العرض الكلي في الأمد القريب ؟

هو الفترة الزمنية التي يتغير فيها الناتج المحلي الإجمالي الحقيقي وبصفة مؤقتة فيزيد أو ينقص عن مستوى الناتج المحلي الإجمالي الكامن



الشكل (2-5): يوضح الشكل منحنى العرض الكلي في المدى القريب الذي يعكس العلاقة الموجبة بين مستوى الأسعار والناتج المحلي الإجمالي الحقيقي، عند ثبات الأجور النقدية وبافي أسعار عناصر الإنتاج.

### ❖ ما هي معادلة قياس الطلب الكلي بالإنفاق الكلي ؟

يقاس الطلب الكلي بالإنفاق الكلي وفق المعادلة:

$$Y = C + I + G + X - M$$

حيث الإنفاق الاستهلاكي الخاص (C)، والإنفاق الاستثماري الخاص (I)، والإنفاق الحكومي (G) وصافي الصادرات (X - M).

## ❖ ما هي العوامل التي يعتمد عليها الطلب الكلي ؟

١. مستوى الأسعار
٢. التوقعات
٣. السياسات المالية والنقدية
٤. متغيرات الاقتصاد العالمي

## ➤ مستوى الأسعار

## ❖ الى ماذا يعزى العلاقة العكسية بين الناتج المحلي الاجمالي الحقيقي ومستوى الأسعار ؟

١. تأثير الثروة
٢. تأثير الإحلال

## ➤ التوقعات

## ❖ الى ماذا تؤدي التوقعات في زيادة الدخل ؟

١. زيادة الاستهلاك
٢. ارتفاع معدل التضخم
٣. زيادة استثمارات منشآت الأعمال

## ➤ السياسات المالية والنقدية

## ❖ ما هي السياسة المالية ؟

يقصد بها الأساليب التي تتبعها الحكومة للتأثير الغير مباشر في الاقتصاد القومي من خلال التحكم في كل من الضرائب والإنفاق الحكومي لتحقيق الأهداف الاقتصادية الكلية

## ❖ ما هي أدوات السياسة المالية ؟

١. الإنفاق الحكومي، وتأثيره الإيجابي على الطلب الكلي
٢. الضرائب، وتأثيرها السلبي على الطلب الكلي

### ❖ ما هي السياسة النقدية ؟

هي تحكم البنك المركزي في عرض النقود بقصد التأثير على الاقتصاد القومي وتحقيق الأهداف الكلية للاقتصاد .

### ❖ ما هي أدوات السياسة النقدية ؟

١. كمية النقود في الاقتصاد، وتأثيرها الإيجابي على الطلب الكلي
٢. سعر الفائدة، وتأثيره السلبي على الطلب الكلي

### ✚ متغيرات الاقتصاد العالمي

### ❖ ما هي متغيرات الاقتصاد العالمي التي تؤثر على الطلب الكلي ؟

١. سعر صرف العملة الوطنية، وتأثيره السلبي
٢. مستوى الدخل في الدول الأخرى، وتأثيره الإيجابي

### ✚ الاستهلاك

يعد الإنفاق الاستهلاكي أكبر مكونات إجمالي الإنفاق في أي اقتصاد، ويخصص له الجزء الأكبر من الدخل الإجمالي في أي دولة .

### ❖ ما هي دالة الاستهلاك ؟

دالة الاستهلاك: وفق نظرية الدخل المطلق لكينز  
للاستهلاك دالة موجبة في الدخل في الصيغة:

$$C = a + bY$$

حيث أن (C) الإنفاق الاستهلاكي و (Y) الدخل الحقيقي،  
(a) فتمثل الاستهلاك المستقل عن الدخل (Autonomous Consumption)،  
(b) هي ميل دالة الاستهلاك، ويطلق عليها الميل الحدي للاستهلاك (Marginal Propensity to Consume-MPC). حيث أن:  
(1 > b > 0).

$$b = \frac{\Delta C}{\Delta Y}$$

جدول رقم (٥-١): العلاقة بين الدخل والاستهلاك والادخار بالدينار

(7) الميل الحدي للادخار $s = \frac{\Delta S}{\Delta Y}$	(6) الميل الحدي للاستهلاك $b = \frac{\Delta C}{\Delta Y}$	(5) الميل المتوسط للادخار 1+3	(4) الميل المتوسط للاستهلاك ك 1+2	(3) الادخار S	(2) الاستهلاك C	(1) الدخل القابل للتنفاق Y
0.30	0.70	-0.15	1.15	-60	460	400
0.30	0.70	-0.06	1.06	-30	530	500
0.30	0.70	0	1.00	0	600	600
0.30	0.70	0.04	0.96	30	670	700
0.30	0.70	0.07	0.93	60	740	800
0.30	0.70	0.10	0.90	90	810	900
0.30	0.70	0.12	0.88	120	880	1000
0.30	0.70	0.14	0.86	150	950	1100
0.30	0.70	0.15	0.85	180	1020	1200

❖ ماذا يقصد بالميل الحدي للاستهلاك ، وما هي المعادلة التي يمكن تعبير عنه ؟

✓ هو التغير في الاستهلاك الناتج عن التغير في الدخل بمقدار دينار واحد

ويمكن أن يعبر عنه بالمعادلة التالية :

$$MPC = b = \frac{\Delta C}{\Delta Y}$$

يقيس الميل الحدي للادخار التغير في الادخار الناتج عن التغير في الدخل بمقدار دينار واحد، ويعبر عنه بالمعادلة التالية :

$$MPS = s = \frac{\Delta S}{\Delta Y}$$

ونجد أن:  $1 = MPC + MPS$

## ❖ ما هي العوامل المحددة لدالة الاستهلاك ؟

١. معدل الفائدة الحقيقي
٢. الدخل المتاح المتوقع في المستقبل
٣. القيمة الحقيقية للثروة

## ❖ الاستثمار

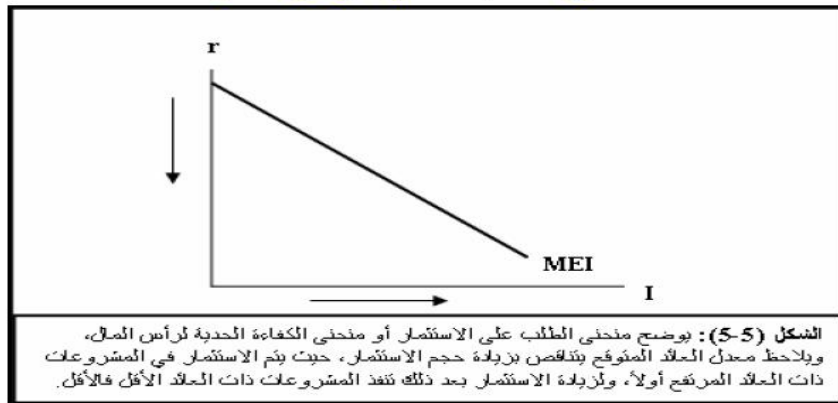
### ❖ ما المقصود بالاستثمار ؟

المقصود بالاستثمار، الإنفاق الاستثماري الحقيقي أو الثابت، الذي ينطوي على استحداث أو شراء أصول رأسمالية أو إنتاجية (آلات ومعدات ومباني) جديدة، تضيف إلى الطاقة الإنتاجية للاقتصاد.

### ❖ ما هي انواع الاستثمار ؟

١. الاستثمار المستقل، وهو الاستثمار المستقل عن التغير في الدخل، مثل الاستثمار الإحلالي اللازم لاستبدال الأصول الهالكة، الذي لا يضيف للطاقة الإنتاجية.
٢. الاستثمار التابع وهو الاستثمار الذي يتأثر بالتغيرات التي تطرأ على مستوى الدخل، أي الاستثمار استجابة للزيادة في الطلب الكلي أو الدخل (GDP)، الذي يسهم في زيادة الطاقة الإنتاجية.

### منحنى الكفاءة الحدية لرأس المال



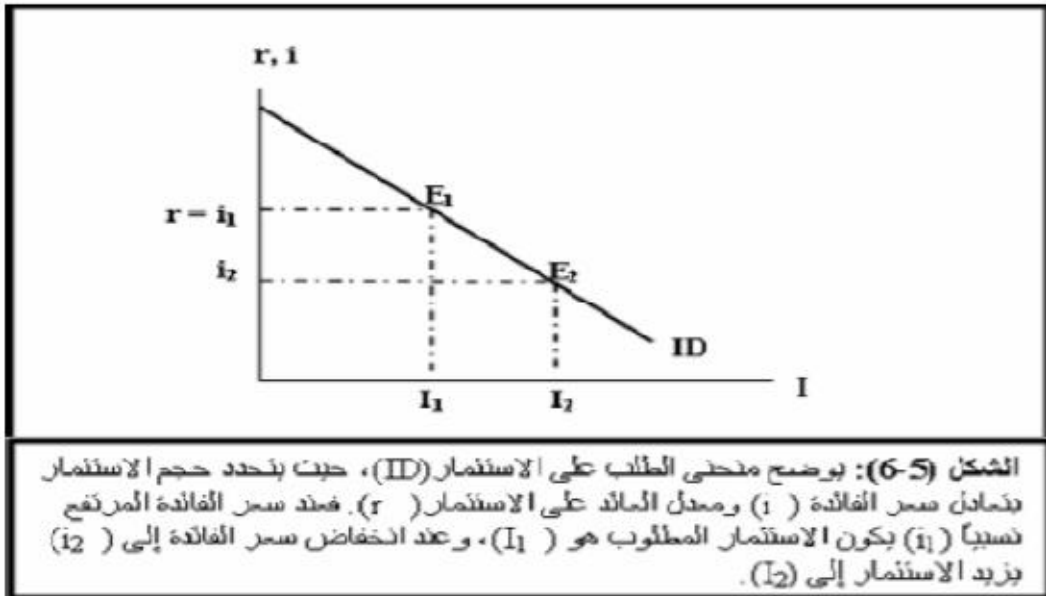
- يوضح منحنى الكفاءة الحدية لرأس المال العلاقة العكسية بين معدل العائد المتوقع وإجمالي الاستثمار

## ❖ ما هي العوامل المحددة للكفاءة الحدية للاستثمار ؟

١. الطلب المتوقع
٢. التقدم التقني
٣. تكاليف الإنتاج
٤. رصيد رأس المال

## ❖ ما هي العلاقة بين معدل الفائدة ومستوى الاستثمار ؟

### العلاقة بين معدل الفائدة ومستوى الاستثمار



- المنشآت تزيد استثماراتها طالما كان العائد على الاستثمار (الكفاءة الحدية للاستثمار) يفوق سعر الفائدة، وتوقع عن زيادة الاستثمار عند الحد الذي يتساوى عنده معدل الفائدة مع الكفاءة الحدية للاستثمار.
- يظلب على المنحنى الذي يوضح العلاقة العكسية بين معدل الفائدة وحجم الاستثمار، منحنى الطلب على الاستثمار.

## الماضرة السادسة / توازن الاقتصاد الكلي

### ❖ متى يتحقق توازن الاقتصاد الكلي ؟

يتحقق توازن الاقتصاد الكلي عند تعادل قوى الطلب الكلي مع قوى العرض الكلي

### ❖ بماذا يقاس كلا من الطلب الكلي والعرض الكلي ؟

يقاس الطلب الكلي بإجمالي الإنفاقات، والتي تشمل الإنفاق الاستهلاكي الخاص والإنفاق الاستثماري الخاص والإنفاق الحكومي بالإضافة إلى صافي الصادرات. ويقاس العرض الكلي بالنتائج المحلي الإجمالي الحقيقي . راجع ص ٢٣ و ٢٥

### ❖ بماذا يتحقق شرط التوازن في الاقتصاد المغلق المكون من قطاعين ؟

بتعادل العرض الكلي (الدخل) مع الطلب الكلي (الإنفاق) ، وفي النموذج المبسط للاقتصاد المغلق المكون من قطاعين يكون شرط التوازن هو تعادل العرض الكلي أو الدخل المحلي الإجمالي (Y) مع الطلب الكلي، المكون من الإنفاق الاستثماري المخطط ( $I_a$ ) والإنفاق الاستهلاكي المخطط (C) وبذلك يتحقق توازن الاقتصاد في هذا النموذج عندما يكون :  $Y = C + I_a$

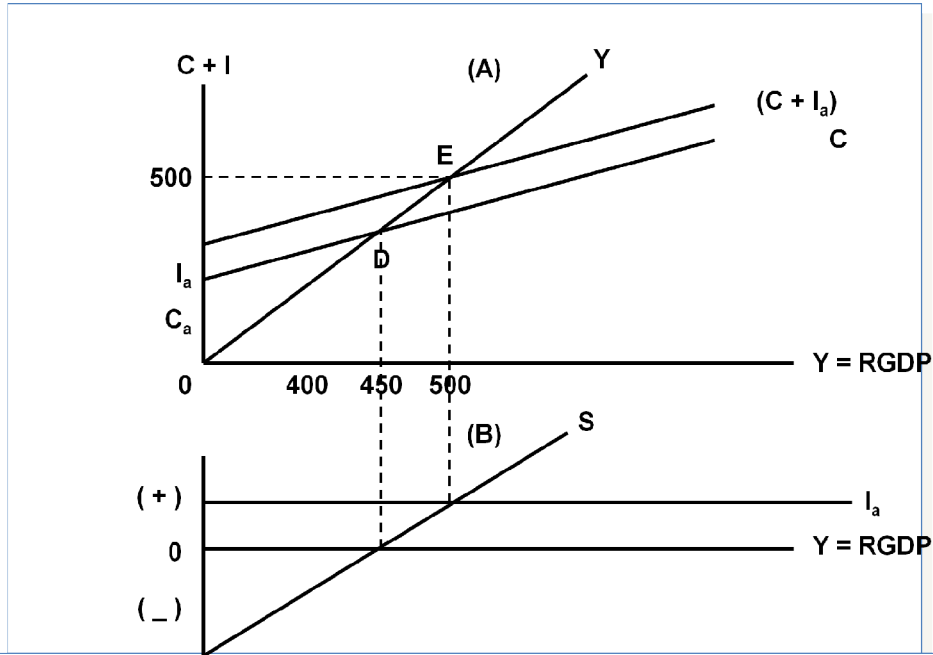
### ❖ إذا علمنا ان الاستهلاك يعتمد على الدخل فما هي الدالة التي تمثله ؟

$$C = C_a + bY$$

جدول (٤-١) : تحديد مستوى الدخل التوازني في الاقتصاد المغلق

(٧) لتغير غير المخطط في المخزون	(٦) الطلب الكلي	(٥) الإنفاق الاستثماري المخطط	(٤) الانخار للمخطط	(٣) الإنفاق الاستهلاكي المخطط	(٢) مستوى الاستخدام بالمليون	(١) الدخل
$\Delta Inv.$	$C + I_a$	$I_a$	S	C	L	Y
-60	460	30	-30	430	2	400
-30	480	30	0	450	2.5	450
0	500	30	30	470	3	500
+30	520	30	60	490	3.5	550
+60	540	30	90	510	4	600
+90	560	30	120	530	4.5	650

ومن خلال الجدول يلاحظ أن التغيير غير المخطط يحدث في مخزون السلع في حالات عدم توازن الاقتصاد، فيزيد المخزون في حالات زيادة العرض الكلي على الطلب الكلي وينقص في حالات زيادة الطلب الكلي على العرض الكلي. وفي الشكل السابق في الجزء (A)، يقاس الناتج أو الدخل على المحور الأفقي، ويقاس الإنفاق على المحور الرأسي.



الشكل (٤-١) : يتحقق توازن الاقتصاد عند دخل قدره ٥٠٠ مليون دينار، وعندما يتعادل الدخل مع الإنفاق في الجزء العلوي (A) من الشكل أعلاه، ويتعادل عنده كذلك الادخار والاستثمار في الجزء السفلي (B) من الشكل. أما النقطة (D) في الشكل العلوي فتقابلها في الشكل السفلي نقطة تعادل الاستهلاك والدخل، حيث يكون الادخار مساوياً للصفر.

### ❖ الى ماذا يؤدي زيادة الاستثمار المستقل بقدر معين في اقتصاد مكون من قطاعين ؟

يؤدي ذلك إلى زيادة الدخل الإجمالي، وتؤدي الزيادة في الدخل إلى زيادة الإنفاق الاستهلاكي لاعتماد على الدخل، وبذلك تتولد دخولا جديدة، ينتج عنها زيادات متتالية في الاستهلاك. وتستمر هذه الموجات المتلاحقة من الإنفاق والزيادة في الدخل حتى يصل الاقتصاد إلى توازن جديد يكون عنده الادخار المخطط مساوياً للاستثمار المخطط.



## ❖ كيف يتم قياس أثر الزيادة في أي من الإنفاقات المستقلة عن الدخل ؟

- ولقياس أثر الزيادة في أي من الإنفاقات المستقلة عن الدخل نشق أولاً مضاعف الإنفاق المستقل (Expenditure Multiplier)، فيكون شرط توازن الاقتصاد في اقتصاد مغلق من قطاعين، أي في غياب

القطاع الحكومي والقطاع الخارجي على النحو التالي :

$$Y = C + I_a$$

$$I = I_a \quad \text{و} \quad C = C_a + bY$$

١٩) الدخل المحلي الإجمالي [ Y ]

٢٠) الإنفاق الاستثماري المخطط [ I<sub>a</sub> ]

٢١) الإنفاق الاستهلاكي المخطط [ C ]

٢٢) الإنفاق الاستهلاكي المستقل [ C<sub>a</sub> ]

٢٣) ميل دالة الاستهلاك [ b ]

- من المعادلات السابقة نجد أن :

$$Y = \frac{1}{1-b}(C_a + I_a)$$

- ولمعرفة أثر التغير في الإنفاقات المستقلة على الدخل المحلي الإجمالي في الاقتصاد، يمكن إعادة كتابة المعادلة أعلاه في صيغة التغير التالية :

$$\Delta Y = \frac{1}{1-b}(\Delta C_a + \Delta I_a)$$

- [ b ] الميل الحدي للاستهلاك .

- [ 1-b ] الميل الحدي للإدخار .

- ففي حالة زيادة الاستهلاك المستقل مع بقاء الاستثمار ثابتاً تنقلص الصيغة أعلاه إلى :

$$\Delta Y = \frac{1}{1-b}(\Delta C_a)$$

- واستناداً إلى الصيغة أعلاه يمكن كتابة معادلة المضاعف في النفقات الاستهلاكية التلقائية على

$$\frac{\Delta Y}{\Delta C_a} = \frac{1}{1-b}$$

النحو التالي :

## ❖ لماذا يتحقق شرط التوازن في الاقتصاد المكون من ثلاث قطاعات ؟

يمكن وصف الاقتصاد بالمعادلات التالية:

$C = C_a + b(Y-T)$	دالة الاستهلاك
$T = tY$	مقدار الضريبة النسبية
$G = G_a$	مقدار الإنفاق الحكومي
$I = I_a$	دالة الاستثمار

ويمكن في هذا النموذج صياغة دخل التوازن على النحو التالي:

$$Y = \frac{1}{1 - b + bt} (C_a + I_a + G_a)$$

ومن هذه المعادلة يمكن صياغة مضاعف الإنفاقات المستقلة (M) في ظل الضريبة النسبية على النحو التالي:

$$\Delta Y = \frac{1}{1 - b + bt} (\Delta C_a - or - \Delta I_a - or - \Delta G_a)$$

حيث أن الاتفاقات المستقلة بين القوسين، وتضم كل من الاستهلاك المستقل والاستثمار المستقل والإنفاق الحكومي وهو أيضاً مستقل عن الدخل في هذا النموذج.

ومن ذلك يمكن صياغة مضاعف الإنفاق المستقل (M) كما يلي:

$$\frac{1}{1 - b + bt} = \frac{\Delta Y}{\Delta C_a - or - \Delta I_a - or - \Delta G_a} = M$$

## ❖ كيف يتم تحديد الدخل التوازني في اقتصاد من أربعة قطاعات ؟

في هذا النموذج نضيف القطاع الخارجي (الصادرات والواردات). ويفترض في هذا النموذج أن:

- الصادرات مستقلة عن الدخل المحلي
- الواردات تعتمد على الدخل المحلي، والعلاقة بينهما موجبة.
- وللتبسيط نفترض أن كلا من الاستثمار والإنفاق الحكومي مستقل عن الدخل.
- للصادرات والواردات الدالتين التاليتين :

$$X = X_a$$

$$M = m_a + m_1 Y$$

## ❖ ما هي شروط التوازن في الاقتصاد المكون من اربع قطاعات ؟

✓ الشرط الأول : تعادل الدخل المحلي الإجمالي مع الإنفاق على الناتج المحلي الإجمالي. ويمكن صياغته على النحو التالي :

$$Y = C + I_a + G_a + X_a - M$$

✓ الشرط الثاني : تعادل مجموع التهربات مع مجموع الحقن أي:

$$(S + T + M) = (I + G + X)$$

ولا يشترط أن تتساوى مفردات التهرب والحقن لتحقيق توازن الاقتصاد بل يكفي أن تتساوى المجموعتين. وفي هذا النموذج تصاغ معادلة دخل التوازن على النحو التالي:

$$Y = \frac{1}{1 - b + bt + m_1} (C + I_a + G_a + X_a - m_a)$$

## ❖ بماذا تقاس نظرية المعجل ؟

وفقاً لنظرية المعجل تؤدي التغيرات في الدخل المحلي الإجمالي إلى تغيرات أكبر في الطلب على السلع الرأسمالية، أي الاستثمار اللازم لزيادة الطاقة الإنتاجية للاقتصاد. ويقاس المعجل بمعامل رأس المال (Capital Coefficient)، وهو عبارة عن حجم الاستثمار الصافي اللازم لزيادة الدخل أو الناتج المحلي الإجمالي بدينار واحد، ويمكن قياس المعجل (A) باستخدام المعادلة التالية:

$$A = \frac{\Delta K}{\Delta Y} = \frac{K_t - K_{t-1}}{Y_t - Y_{t-1}} = \frac{I}{\Delta Y}$$

حيث أن (K) مخزون الاقتصاد من السلع الرأسمالية. والتغير في هذا المخزون من عام لآخر يقاس مقدار الإنفاق الاستثماري (I) في هذه السنة. و (Y) الناتج المحلي الإجمالي.

### ❖ على ماذا ارتكزت نظرية كينز ؟

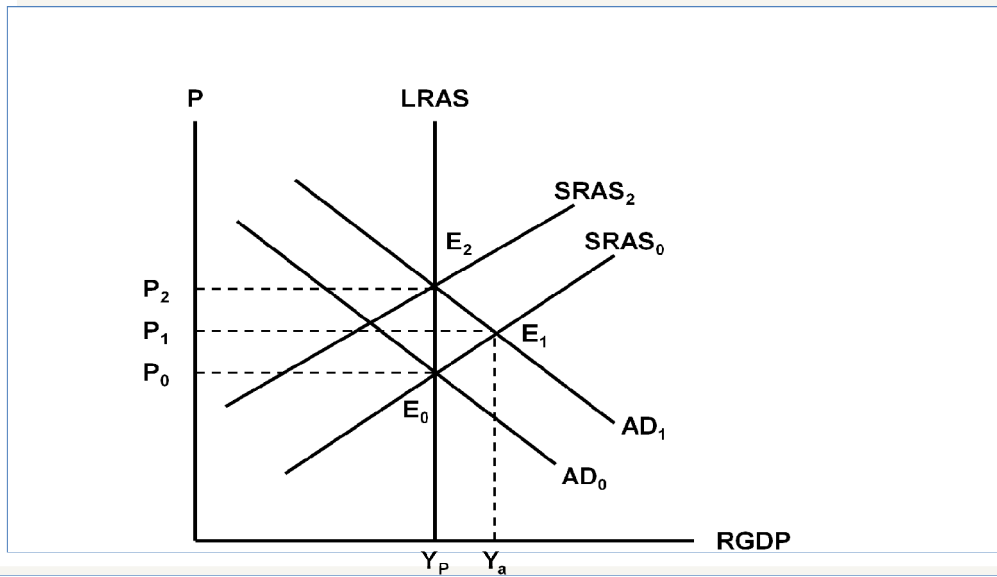
١. أن الطلب الكلي يولد العرض الكلي، أي بعكس النظرية التقليدية
  ٢. أن الأجور والأسعار وسعر الفائدة بطيئة الموائمة وليست فورية الموائمة
- ✓ فالعمال يطالبون برفع أجورهم عند ارتفاع مستوى الأسعار، لكنهم لا يقبلون بخفضها عند انخفاض مستوى الأسعار، مما يتسبب في إطالة فترات الكساد الاقتصادي

### ❖ ما سبب حدوث الفجوة التضخمية ؟

تحدث الفجوة التضخمية في المدى القريب عندما يزيد الطلب الكلي على العرض الكلي عند مستوى الاستخدام الكامل (YP)، مما يضع ضغوطاً على المستوى العام للأسعار فيحدث التضخم .

### ❖ بماذا تقاس الفجوة التضخمية ؟

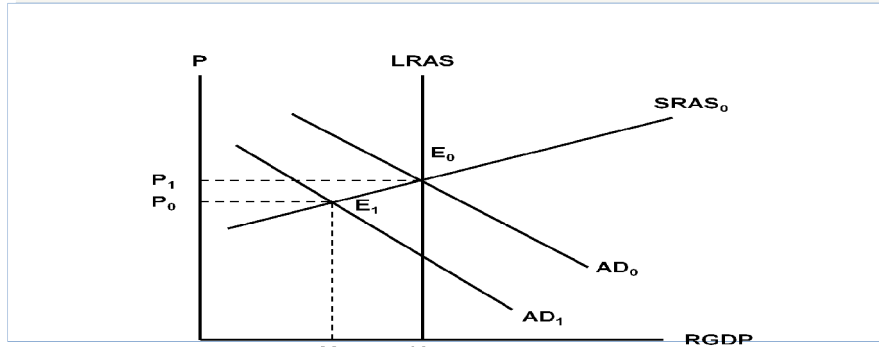
وتقاس الفجوة التضخمية بالفرق بين الناتج المحلي الفعلي ( $Y_a$ ) والناتج المحلي الممكن (YP). ويوضح الشكل (٤-٢) منحنى العرض الكلي في المدى البعيد (LRAS) وهو الخط الرأسى الموازي للمحور الرأسى.



الشكل (٤-٢) : نتيجة لزيادة الطلب الكلي ينتقل الاقتصاد من توازن المدى البعيد عند  $E_0$  إلى توازن في المدى القريب عند  $E_1$ ، حيث يكون معدل البطالة أقل من المعدل الطبيعي ويكون الناتج الفعلي أكبر من الناتج الممكن، ولكن لفترة مؤقتة. في المدى الطويل، ومع زيادة الأجور النقدية، ينتقل منحنى  $LRAS_0$  تدريجياً إلى أعلى حتى يستقر عند  $LRAS_2$ ، ويصل الاقتصاد إلى توازن جديد للمدى البعيد عند  $E_2$ ، يختلف عن التوازن الأصلي فقط في ارتفاع مستوى الأسعار أو التضخم إلى  $P_2$ .

## ❖ ما سبب حدوث الفجوة الانكماشية؟

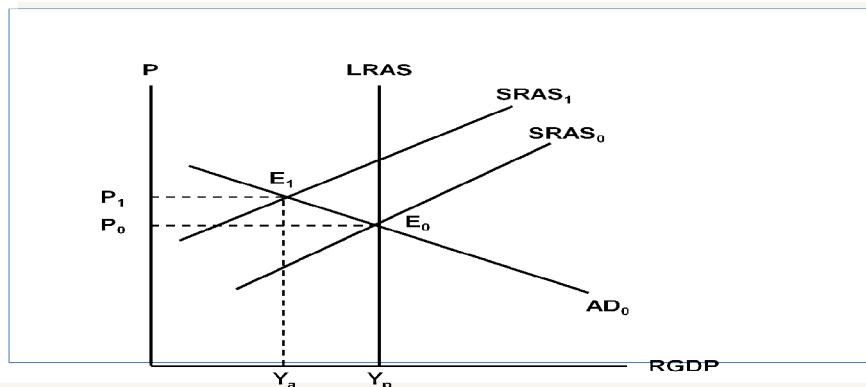
تحدث الفجوة الانكماشية (Deflationary Gap)، في المدى القريب أيضاً نتيجة لانخفاض في الطلب الكلي، حيث ترتفع البطالة وينخفض المستوى العام للأسعار. يوضح ذلك الشكل



الشكل (٣-٤) : نتيجة للنقص في الطلب الكلي ينتقل الاقتصاد من توازن المدى البعيد عند  $E_0$  إلى توازن في المدى القريب عند  $E_1$ ، حيث يكون الناتج الفعلي أقل من الناتج الممكن ويكون معدل البطالة أعلى من المعدل الطبيعي، ويكون مستوى الأسعار أقل مما كان عليه أصلاً عند توازن المدى البعيد. وباستخدام السياسات المالية والنقدية يمكن زيادة الطلب الكلي من أجل خفض معدل البطالة، وإن تم ذلك على حساب زيادة معدل التضخم أو ارتفاع مستوى الأسعار.

## ❖ ما سبب حدوث التضخم الركودي؟

نتيجة لانخفاض العرض الكلي بسبب زيادة تكاليف الإنتاج ونقص الأرباح، فقد جاء هذا التضخم مصحوباً بموجة من الكساد أي ارتفاع معدلات البطالة لتفوق معدلاتها الطبيعية مع انخفاض الناتج أو الدخل إلى مستويات أقل من مستوى الناتج ممكن، كما يتضح من الشكل



الشكل (٤-٤) : نتيجة لزيادة أسعار الموارد ينتقل منحنى العرض  $SRAS_0$  إلى  $SRAS_1$ . فينتقل الاقتصاد من توازن المدى البعيد عند  $E_0$  إلى توازن في المدى القريب عند  $E_1$ . حيث يكون الناتج الفعلي أقل من الناتج الممكن ويكون معدل البطالة أعلى من المعدل الطبيعي، ويكون مستوى الأسعار أعلى أيضاً. في المدى البعيد، وباستخدام السياسات المالية والنقدية يمكن زيادة الطلب من أجل خفض معدل البطالة، وإن تم ذلك على حساب زيادة معدل التضخم أو ارتفاع مستوى الأسعار.

## المحاضرة السابعة / تمارين عملية مع الحل

### التمرين الأول:

إذا كان الدخل الكلي  $Y$  في إقتصاد بلد ما يساوي 50 000 ريال ،  
و إذا كان الميل الحدي للادخار  $MPS$  يساوي 0.35.

المطلوب: باستعمال المعطيات السابقة أوجد كل من :

- الميل الحدي للاستهلاك  $MPC$
- قيمة ما يدخره أفراد هذا البلد  $S$  من مجموع الدخل الكلي  $Y$
- قيمة ما يستهلكه أفراد هذا البلد  $C$  من مجموع الدخل الكلي  $Y$
- الميل المتوسط للادخار  $APS$
- الميل المتوسط للاستهلاك  $APC$

### حل التمرين الأول

$$1 - MPC = 1 - MPS$$

$$MPC = 1 - 0.35 = 0.65$$

$$2 - S = MPS * Y$$

$$S = 0.35 * 50000$$

$$S = 17500$$

$$3 - C = MPC * Y$$

$$C = 0.65 * 50000$$

$$C = 32500$$

$$4 - APS = S / Y$$

$$APS = 17500 / 50000$$

$$APS = 0.35$$

$$5 - APC = C / Y$$

$$APC = 32500 / 50000$$

$$APC = 0.65$$

### التمرين الثاني

يتكون إقتصاد بلد ما من ثلاث قطاعات هي قطاع الصناعة و قطاع الزراعة و قطاع الخدمات ، بحيث قدم كل قطاع مساهمته في الإنتاج الوطني مقيمة بملايين الريالات و ذلك وفقا لمعطيات الجدول التالي :

إنتاج القطاع	القطاع
50 000	الصناعة
70 000	الزراعة
80 000	الخدمات

**المطلوب:** باستعمالك لمعطيات الجدول السابق، يطلب منك إيجاد مالي:

- قيمة الإنتاج الكلي TP
- نسبة مساهمة كل قطاع في الإنتاج الكلي TP
- القيمة المضافة لكل قطاع إذا علمت أن:
- القطاع الأول يستهلك ٢٥% من قيمة إنتاج القطاع الثاني
- القطاع الثاني يستهلك ١٥% من قيمة إنتاج القطاع الثالث
- القطاع الثالث يستهلك ٥% من قيمة إنتاج القطاع الأول
- القيمة المضافة الإجمالية
- الناتج المحلي الإجمالي GDP بطريقة القيمة المضافة الإجمالية

### حل التمرين الثاني

١- قيمة الإنتاج الكلي TP

$$TP=50000+70000+80000$$

$$TP=200000$$

٢- نسبة مساهمة كل قطاع في الإنتاج الكلي TP

$$\text{الصناعة} = \frac{50000}{200000} = 25\%$$

$$\text{الزراعة} = \frac{70000}{200000} = 35\%$$

$$\text{الخدمات} = \frac{80000}{200000} = 40\%$$

٣- القيمة المضافة لكل قطاع

$$\text{القيمة المضافة للصناعة} = 50000 - (70000 * 25\%) = 32500$$

$$\text{القيمة المضافة للزراعة} = 70000 - (80000 * 15\%) = 58000$$

$$\text{القيمة المضافة للخدمات} = 80000 - (50000 * 5\%) = 77500$$

$$\text{٤- القيمة المضافة الإجمالية} = 77500 + 58000 + 32500 = 168000$$

$$\text{٥- الناتج المحلي الإجمالي GDP بطريقة القيمة المضافة الإجمالية} = 168000$$

### التمرين الثالث

يطلب منك إيجاد مايلي:

• الناتج المحلي الإجمالي GDP بطريقة الإنفاق الكلي.

• نسبة إنفاق كل قطاع من الناتج المحلي الإجمالي  
GDP

و ذلك وفقا للمعطيات التالية: (مقيمة بملايين الريالات)

• الاستهلاك الخاص C يساوي 120 000

• الاستثمار الخاص I يساوي 950 500

• الإنفاق الحكومي G يساوي 585 000

• الصادرات X تساوي 132000

• الواردات M تساوي 180000



حل التمرين الثالث

$$GDP = C + I + G + (X - M) - 1$$

$$GDP = 120000 + 950500 + 585000 + (132000 - 180000)$$

$$GDP = 1607500$$

- نسبة إنفاق كل قطاع من الناتج المحلي الإجمالي GDP

$$\% C \text{ من } Y = 120000 / 1607500 = 7.4\%$$

$$\% I \text{ من } Y = 950500 / 1607500 = 59.2\%$$

$$\% G \text{ من } Y = 585000 / 1607500 = 36.3\%$$

$$\% X \text{ من } Y = 132000 / 1607500 = 8.2\%$$

$$\% M \text{ من } Y = 180000 / 1607500 = 11.1\%$$

التمرين الرابع

توفرت لديك المعطيات التالية و المتعلقة باقتصاد بلد ما و المقيمة بملايين الريالات:

- دخول العاملين 23 800
- صافي الفائدة 12300
- دخل الإيجارات 8600
- أرباح الشركات 14600
- دخول مالكي الأعمال الصغيرة 7500
- ضرائب غير مباشرة 6400
- إعانات غير المباشرة 7400
- إهلاكات الأصول الثابتة 5200

المطلوب

- 1- إيجاد الناتج المحلي الإجمالي GDP بطريقة الدخل .
- 2- إيجاد نسبة مساهمة كل عنصر في الناتج المحلي الإجمالي GDP

حل التمرين الرابع

النسبة المئوية %	المبلغ	العنصر
33.5	23 800	دخول العاملين
17.5	12300	+ صافي الفائدة
12.1	8600	+ دخل الإيجارات
20.8	14600	+ أرباح الشركات
10.5	7500	+ دخول مالكي الأعمال الصغيرة
9	6400	+ ضرائب غير مباشرة
-10.4	7400	- إعانات غير المباشرة
7.3	5200	+ إهلاكات الأصول الثابتة
100	71000	= المجموع

## الماضرة الثامنة / السياسة النقدية

### ❖ متى نشأت البنوك المركزية ؟

بدأ ظهور البنوك المركزية في العالم خلال النصف الثاني من القرن السابع عشر، حيث أنشئ بنك السويد عام ١٦٦٨، وبنك إنكلترا عام ١٦٩٤، كما أنشئ بنك فرنسا عام ١٨٠٠.

### ❖ ما هي وظائف البنك المركزي ؟

١. تنفيذ ومتابعة العمليات والإلتزامات النقدية والمالية الحكومية على المستويين الداخلي والخارجي (المدفوعات والمقبوضات).
٢. إصدار العملة الوطنية، حيث يعتبر البنك المركزي السلطة النقدية الوحيدة المخولة قانوناً بإصدار العملة الوطنية.
٣. قبول ودائع البنوك التجارية (إحتياطات البنوك التجارية) وإقراض هذه البنوك عند الحاجة، بالإضافة إلى القيام بعمليات المقاصة بين هذه البنوك.
٤. التحكم في كمية النقود المعروضة (السيولة النقدية) في الإقتصاد الوطني، والمحافظة على إستقرار سعر صرف العملة الوطنية.

### ❖ ما هو مفهوم السياسة النقدية ؟

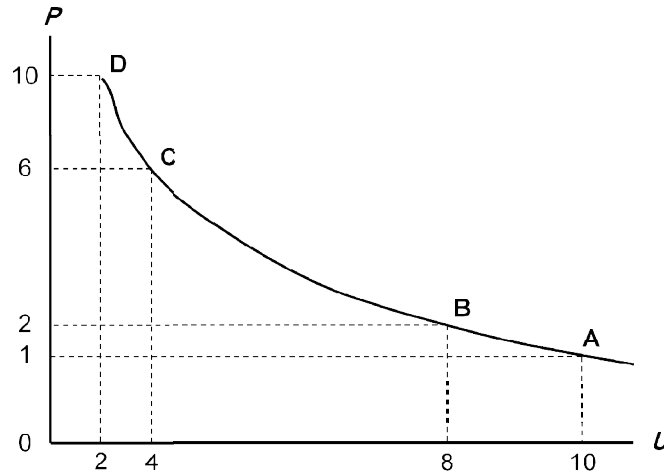
هي الوسيلة غير المباشرة التي يتمكن بها البنك المركزي من التأثير في أداء ومسار الإقتصاد القومي بحيث يتم تحقيق الأهداف الاقتصادية الكلية وفي مقدمتها استقرار المستوى العام للأسعار وخفض البطالة

### ❖ ما هي اهداف السياسة النقدية ؟

١. الاستخدام الكامل أي خفض معدل البطالة
٢. استقرار مستوى الأسعار أي خفض معدل التضخم
٣. تحقيق معدل نمو حقيقي يفوق معدل نمو السكان
٤. معالجة الاختلال في ميزان المدفوعات
٥. العدالة في توزيع الدخل
٦. التخصيص الأمثل للموارد الإقتصادية

## منحنى فيليبس

يعكس منحنى فيليبس العلاقة العكسية بين معدل البطالة (U) ومعدل التضخم (P)، حيث أثبت فيليبس في بريطانيا في القرن التاسع عشر وجود علاقة عكسية بين معدل البطالة ومعدل التغير في الأجور النقدية، كمؤشر لمعدل التضخم باعتبار أن الأجور تشكل نسبة كبيرة من تكاليف الإنتاج، فتعكس تغيراتها على معدل التضخم، وهذا ما يتضح في الشكل التالي :-



هذا الشكل يوضح منحنى فيليبس العلاقة العكسية بين معدل البطالة ومعدل التضخم. ويلاحظ أن معدل التضخم يكون قليل التأثير بخفض معدلات البطالة المرتفعة، نتيجة لوجود طاقات إنتاجية فائضة، لكنه يكون شديد التأثير بخفض معدلات البطالة المنخفضة أصلاً لقلّة الطاقات الإنتاجية الفائضة.

### ما هي العوامل التي تساعد على خفض معدلات البطالة وزحف المنحنى إلى جهة الشمال ؟

- طرح برامج لتسهيل وتعجيل حركة انتقال العمال .
- نشر المعلومات الخاصة بفرض العمل المتاحة .
- تبني السياسات الاقتصادية (سياسة مالية ، سياسة نقدية ) الهادفة إلى الاستقرار الاقتصادي .

### ❖ لماذا يلزم القانون البنوك التجارية ؟

يحتم القانون على البنوك التجارية الاحتفاظ بنسبة من إجمالي الودائع كنفدية سائلة في حساباتها لدى البنك المركزي، الذي يحدد نسبة الاحتياطي القانوني إلى الودائع، وتتراوح نسبة الاحتياطي القانوني عادة بين ٥-٢٠% من حجم الودائع الكلية للبنك وتعتبر هذه الإحتياطيات مصدراً مهماً للسيولة بالنسبة للبنوك التجارية، في مواجهة الطلب الزائد للعملاء للسحب من وداائعهم لدى البنك. أما طلبات السحب الاعتيادية فتقابل من الإيداعات اليومية التي غالباً ما تفوق السحب من الودائع

### ❖ ما هو تعريف الاحتياطي القانوني ؟

هو عبارة عن الحد الأدنى من النقد السائل الذي يجب على البنوك التجارية الالتزام به، وتحت ظروف معينة قد يرى البنك أن هناك ضرورة للاحتفاظ بنسب أعلى من هذا الحد، إما لمواجهة السحب من الودائع في الأعياد والعطلات، أو في فروع البنك بالمناطق المعروفة بمعدلات السحب العالية، ويوصف هذا الاحتياطي الزائد بأنه احتياطي اختياري، أو بسبب عدم قدرة البنك على تحقيق الإقراض الكامل، فيكون لدى البنك إحتياطيات فائضة. أما بالنسبة للودائع في البنوك التجارية، والتي تعرف بالودائع تحت الطلب أو وداائع الحسابات الجارية، فهي عبارة عن مديونية البنك تجاه الجمهور.

## الماضرة التاسعة / السياسة النقدية ٢

### ❖ ما هي أدوات السياسة النقدية ؟

السياسة النقدية هي الوسيلة غير المباشرة التي يتمكن بها البنك المركزي من التأثير في أداء ومسار الاقتصاد القومي بحيث يتم تحقيق الأهداف الاقتصادية الكلية وفي مقدمتها استقرار المستوى العام للأسعار وخفض البطالة وتسمى الطرق التي تمكن البنك المركزي من تنظيم عرض النقد بشكل ينسجم مع أهداف السياسة الاقتصادية بأدوات السياسة النقدية ومن أهم هذه الأدوات الكمية للسيطرة على الائتمان هي :

١. تغيير نسبة الاحتياطي القانوني
٢. تغيير معدل الخصم
٣. عمليات السوق المفتوحة
٤. الأدوات الانتقائية للائتمان من خلال الأدوات الانتقائية للنشاط الائتماني للبنوك التجارية

### ❖ الى ماذا تهدف هذه الأدوات ؟

تهدف هذه الأدوات إلى تشجيع الاستثمار في قطاعات معينة دون أخرى من خلال تحديد سقف الائتمان في مجالات معينة أو تخفيض أسعار الفائدة على قروض الاستثمار في فعاليات اقتصادية دون أخرى.

### ❖ كيف تتم رقابة البنك المركزي على البنوك التجارية ؟

١. التحكم في نشاط البنوك التجارية في مجال الإئتمان وخلق النقود المصرفية
٢. ضمان سلامة المركز المالي للبنوك من خلال مراقبة أدائها المالي والإداري
٣. توفير شروط المنافسة في القطاع المصرفي، وعدم السماح بأي ممارسات احتكارية
٤. وضع اللوائح التي تضمن التوافق بين أنشطة البنوك التجارية وأهداف السياسة الاقتصادية للدولة

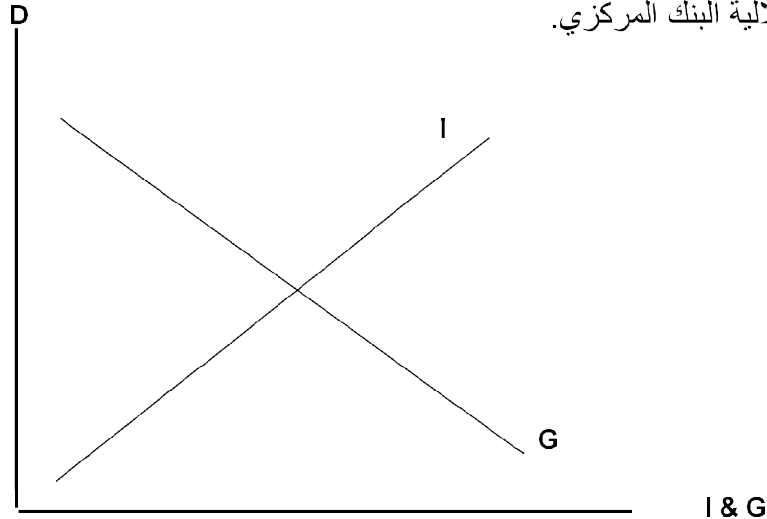
### ❖ أيهما يعتبر أكثر مرونة السياسة النقدية أم السياسة المالية ؟

تعتبر السياسة النقدية أكثر مرونة من السياسة المالية التي تستخدم الإنفاق الحكومي والضرائب، فمن صلاحيات البنك المركزي أن يقوم بإدخال التعديلات المناسبة على أي من أدوات السياسة النقدية دون الحاجة إلى إصدار تشريعات أو قوانين جديدة أو تعديل التشريعات القائمة، كما هو الحال بالنسبة للسياسة المالية.

### ❖ أيهما يعتبر أكثر فعالية السياسة النقدية أم السياسة المالية ؟

يعتقد أنصار المدرسة النقدية بزعامة ملتون فريدمان أن السياسة النقدية أكثر فاعلية في معالجة مشكلات الركود الاقتصادي من السياسة المالية، وخاصة في الدول المتقدمة، وذلك بسبب الاستقلالية الكبيرة التي تتمتع بها البنوك المركزية في تلك الدول في اتخاذ قراراتها بعيداً عن الضغوط السياسية، بعكس الحال بالنسبة للبنوك المركزية في الأقطار النامية، والتي غالباً ما يكون البنك المركزي فيها غير مستقل بلأ بل أحد الإدارات التابعة للحكومة.

ويوضح الشكل التالي أن النمو الاقتصادي مرهون بقلة التدخل الحكومي في السياسة النقدية وبتزايد استقلالية البنك المركزي.



الشكل (٦-٢) : يتضح أنه كلما ازداد التدخل الحكومي (G) في السياسة النقدية قلت استقلالية البنك المركزي (I). ومن الملاحظ أن هناك علاقة مباشرة بين مستوى التطور الاقتصادي (D) وبين استقلالية السياسة النقدية، خاصة في الدول المتقدمة.

## الماضرة العاشرة / السياسة المالية

### ❖ عرف السياسة المالية ؟

هي الأساليب الذي تنتهجها الحكومة في محاولتها التأثير على أداء الاقتصاد بطريقة مباشرة من خلال الإنفاق الحكومي او بطريقة غير مباشرة عن طريق الضرائب والإعانات .

### ❖ ما هي اهداف السياسة الاقتصادية الكلية ؟

١. خفض معدل البطالة
٢. النمو الاقتصادي
٣. إستقرار مستوى الاسعار
٤. تحقيق عدالة توزيع الدخل والثروة

### ❖ لماذا يتأثر الأداء الاقتصادي ؟

يتأثر الأداء الاقتصادي بالتغيرات التي تطرأ على كل من الإنفاق الحكومي والضرائب

وتنقسم تغيرات الإنفاق والضرائب إلى نوعين هما :

١- تغيرات غير مخططة

٢- تغيرات مخططة

### ❖ ما هي التغيرات غير المخططة ؟

هي تلك التغيرات التي تحدث بطريقة تلقائية ويطلق عليها اسم آلية الاستقرار الذاتية حيث تعمل هذه الآلية إستجابة لما يطرأ على مستوى الدخل من تغييرات عبر الدورات الإقتصادية وبالتالي فهي تسهم في إستعادة الإستقرار الإقتصادي .

### ❖ ما هي التغيرات المخططة ؟

هي التي تتم عندما تقوم الحكومة بإحداث تغيرات معينة في الإنفاق والإيرادات الضريبية بهدف التأثير على الطلب الكلي وتحقيق الاستقرار الإقتصادي .

### ❖ ما هي اقسام السياسة المالية المخططة ؟

١. سياسة مالية مخططة كمية تعتمد على التغيرات الكمية في الضرائب
٢. سياسة مالية مخططة نوعية تعتمد على التغيرات في هيكل الضرائب أو تركيبيتها، ومصادر تمويل الدين العام.

### ❖ ما هي اقسام أدوات السياسة المالية الكمية المخططة ؟

١. الضرائب
٢. الإنفاق الحكومي
٣. الضرائب والإنفاق الحكومي معا (الموازنة العامة)

### ❖ الى كم قسم تصنف الضريبة تبعا لإرتباطها بالدخل ؟

١. ضريبه مباشرة كضريبة الدخل الشخصي
٢. ضريبه غير مباشرة كضريبة المبيعات

### ❖ الى كم قسم تصنف الضريبة تبعا لاعتمادها على الدخل ؟

١. ضرائب مستقلة عن الدخل كضريبة الرؤوس
٢. ضرائب غير مستقلة عن الدخل مثل الضريبة النسبية والضريبة التصاعديّة على الدخل الشخصي

### ❖ على ماذا تعتمد الحكومات في تمويل إنفاقاتها ؟

تعتمد الحكومات في تمويل إنفاقاتها على إيرادات الضرائب بأنواعها، كما تعتمد بعض الحكومات على عائدات بيع المواد الأولية التي تمتلكها الدولة.



### ❖ ما هي العلاقة بين الضريبة ودخل توازن الاقتصاد ؟

العلاقة عكسية حيث يتم خفض الضرائب في حالة رغبة الحكومة في إنعاش الاقتصاد ، وتعتمد الى زيادة الضرائب في حالة رغبتها في كبح جماح الاقتصاد بتبني سياسة إنكماشية

### ❖ الى ماذا تؤدي زيادة الضريبة ؟

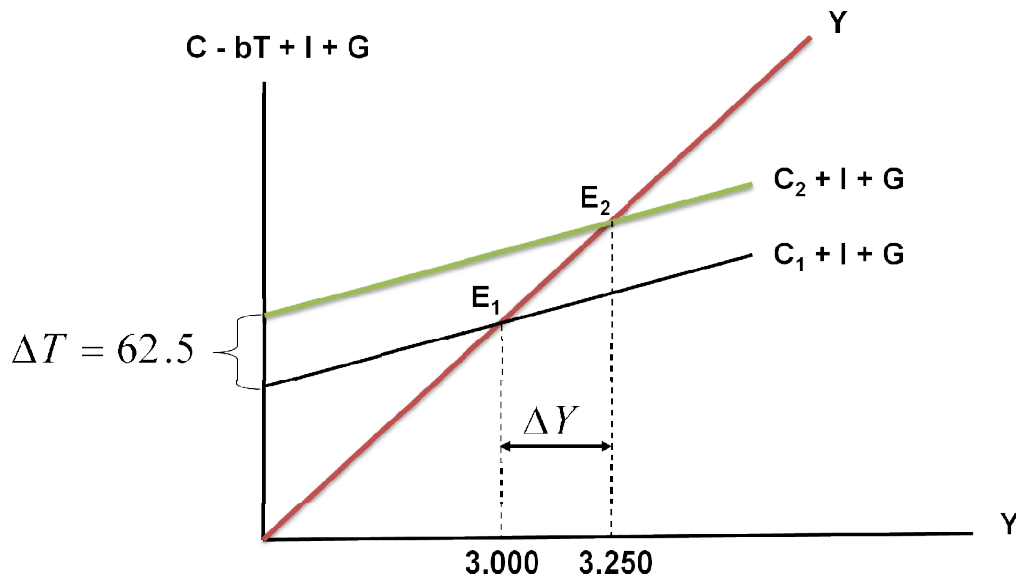
تؤدي إلى خفض الدخل المتاح للإنفاق، فتؤثر سلباً على الطلب الكلي ومستوى دخل التوازن.

### ❖ بماذا يقاس الأثر النهائي لتغير معين في الضريبة على دخل توازن الاقتصاد ؟

يقاس باستخدام مضاعف الضريبة الثابتة، الذي تمثل المعادلة التالية :

$$\frac{\Delta Y}{\Delta T} = -b \left( \frac{1}{1-b} \right)$$

ويوضح الشكل التالي كيفية تأثير خفض الضريبة على دخل توازن الاقتصاد



من خلال الشكل السابق نلاحظ أنه :

إذا قمنا بتخفيض الضريبة الثابتة بمقدار ٦٢.٥ مليون دينار فإن ذلك يؤدي إلى زيادة الإنفاق الاستهلاكي وذلك نتيجة لزيادة الدخل المتاح، ومنه فقد انتقل توازن الإقتصاد من  $E_1$  حيث الكساد وارتفاع البطالة إلى  $E_2$  حيث الاستخدام الكامل، وبالتالي زاد الدخل القومي بمقدار ٢٥٠ مليون دينار وهي تعادل أربعة أضعاف الإنخفاض في الضريبة الثابتة.

❖ **ماذا يقصد بالإنفاق الحكومي ؟**

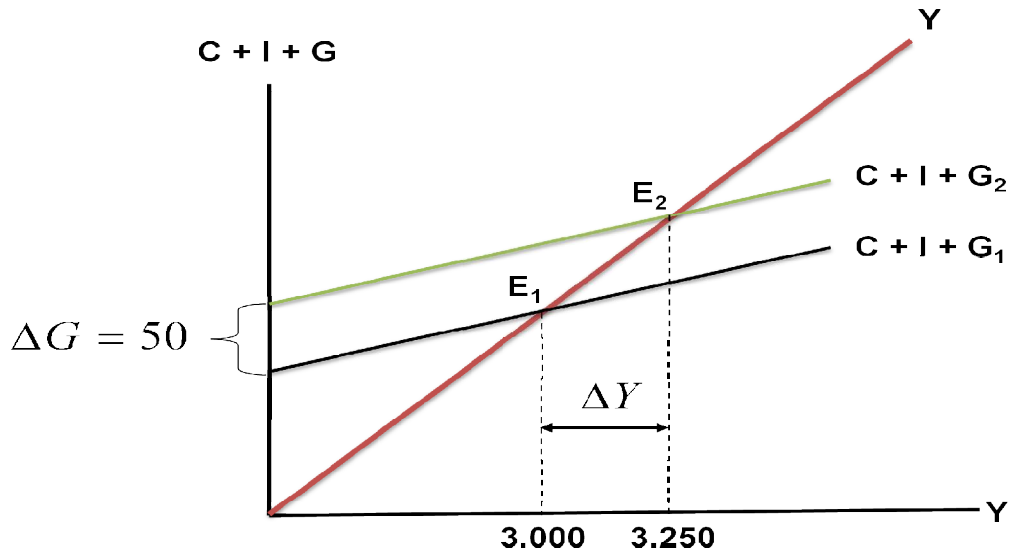
يقصد بالإنفاق الحكومي ما تنفقه الوزارات والأجهزة الحكومية على مشترياتها من السلع والخدمات الاستهلاكية والاستثمارية، بما في ذلك من إنفاق على أجور ومرتببات العاملين في القطاع الحكومي، والإنفاق على مدخلات الإنتاج، بالإضافة إلى الإنفاق الاستثماري على مشروعات البنية التحتية.

❖ **كيف يمكن قياس أثر زيادة معينة في الإنفاق الحكومي على دخل توازن الإقتصاد ؟**

وحتى يمكن قياس أثر زيادة معينة في الإنفاق الحكومي على دخل توازن الإقتصاد لا بد من التعرف على مضاعف الإنفاق الحكومي، والذي يعرف بأنه مقدار التغير في الدخل لكل دينار من التغير في الإنفاق الحكومي.

ويتمثل مضاعف الإنفاق الحكومي في المعادلة

$$\frac{\Delta Y}{\Delta G} = \frac{1}{1 - b} \quad \text{التالية :}$$



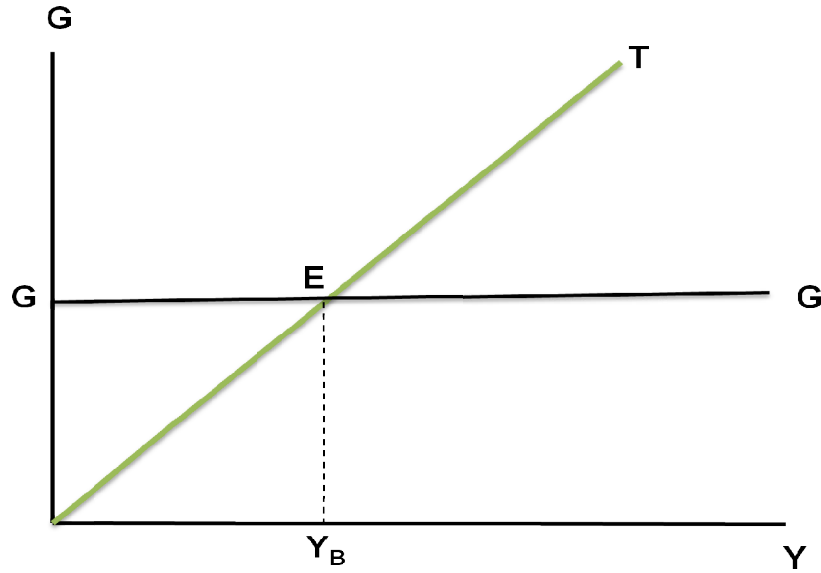
من خلال الشكل السابق نلاحظ أنه :

بزيادة الإنفاق الحكومي بمقدار ٥٠ مليون دينار فإن ذلك يؤدي إلى زيادة الطلب الكلي بطريقة مباشرة، وعليه فقد انتقل توازن الإقتصاد من  $E_1$  حيث الكساد، وارتفاع البطالة إلى  $E_2$  حيث الاستخدام الكامل، وبالتالي زاد الدخل القومي بمقدار ٢٥٠ مليون دينار، وهذه الزيادة تمثل خمسة أضعاف الزيادة في الإنفاق الحكومي.

## الماضرة الحادية عشر / السياسة المالية ٢

### ❖ ماذا يقصد بالموازنة العامة ؟

الموازنة العامة للدولة هي ما يعرف بالميزانية عند غير المتخصصين، وهي في الحقيقة تعني مشروع الميزانية أو الميزانية المقترحة، وبينما تكون الميزانية متوازنة دائماً، نجد أن الموازنة قد لا تكون متوازنة في بعض الحالات بل يمكن أن تسجل عجزاً أو فائضاً.



### من خلال الشكل السابق نلاحظ أنه :

في حال الضريبة النسبية، فإن المنحنى (T) يوضح إيرادات الضريبة، وهي تزيد بزيادة مستوى الدخل (Y). ويمثل الخط الأفقي الإنفاق الحكومي وهو مستقل عن الدخل. وعند ( $Y_B$ ) يتعادل الإنفاق مع إيرادات الضريبة وتكون الموازنة متوازنة ( $G=T$ )، لكن وعند أي مستوى للدخل أقل من ( $Y_B$ ) يكون هناك عجز في الموازنة ( $G>T$ )، بينما عند أي مستوى للدخل أعلى من ( $Y_B$ )، يكون هناك فائض في الموازنة ( $T<G$ ).

### ❖ ما هو تعريف الموازنة المتوازنة ؟

تعرف الموازنة المتوازنة بأنها الموازنة التي يتعادل فيها الإنفاق الحكومي المقترح مع الإيرادات المتوقعة من الضرائب، أي أن يكون الإنفاق الحكومي ممولاً بالكامل من إيرادات الضرائب دون زيادة أو نقصان.

### ❖ ما هو مضاعف الموازنة المتوازنة ؟

مضاعف الموازنة المتوازنة هو مضاعف الإنفاق الحكومي مضافاً إليه مضاعف الضريبة الثابتة المساوية للإنفاق الحكومي، أي أن:

$$\frac{\Delta Y}{\Delta G + \Delta T} = \left\{ \frac{1}{1 - b} \right\} + \left\{ -b \frac{1}{(1 - b)} \right\} \Rightarrow \frac{1 - b}{1 - b} = 1$$

### ❖ ما هي أنواع السياسات المالية النوعية ؟

١. إعادة توزيع عبء الضرائب
٢. إعادة هيكلية الإنفاق الحكومي
٣. إعادة هيكلية الدين العام

### ❖ الى ماذا تؤدي إعادة توزيع عبء الضرائب ؟

تؤدي إلى زيادة الإيرادات الحكومية ومن ثم زيادة الإنفاق الحكومي، وبالتالي إنعاش الإقتصاد في نهاية الأمر .

### ❖ الى ماذا تؤدي إعادة هيكلية الإنفاق الحكومي ؟

تعتبر إمكانية تغيير هيكل الإنفاق الحكومي على جانب كبير من الأهمية في تحريك النشاط الاقتصادي، فبعض النفقات الحكومية، خاصة في مجالات معينة يمكن أن تؤدي إلى تحفيز النشاط الاقتصادي أكثر من النفقات في مجالات أخرى

### ❖ الى ماذا تؤدي إعادة هيكلة الدين العام ؟

تنصب سياسة إعادة هيكلة الدين العام على تغير مصدر تمويل عجز الموازنة بما يتفق وأهداف السياسة الاقتصادية

### ❖ ما هو أهم أهداف السياسة المالية في النظريات الاقتصادية التقليدية ؟

تحقيق التوازن بين الإنفاقات والإيرادات الحكومية

### ❖ هل يعني هذا أنه يجب على الحكومة أن تسعى دائماً لتحقيق توازن الموازنة ؟

جب ألا يكون هدف الحكومة دائماً هو تحقيق التوازن في الموازنة العامة بأي ثمن، بل يجب أن يكون الهدف هو تحقيق الاستقرار الاقتصادي.

### ❖ كيف يمكن تمثيل الاقتصاد في حالة اقتصاد مغلق وضريبة نسبية على الدخل ؟

يمكن تمثيل الاقتصاد بالمعادلات الرياضية التالية

$$\begin{aligned} Y &= C + I + G && \text{شرط التوازن} \\ C &= C_a + b(Y + tY) \\ I &= I_0, G = G_0, T = t_0Y \end{aligned}$$

$$\text{Then , } Y = C_a + bY - bt_0Y + I_0 + G_0$$

$$Y = \frac{1}{1 - b + bt_0} (C_a + I_a + G_0)$$

$$\frac{\Delta Y}{\Delta G} = \frac{1}{1 - b + bt_0}$$

### ❖ كيف يمكن تمثيل الاقتصاد في حالة اقتصاد مغلق وضريبة ثابتة وإستثمار غير مستقر ؟

نفترض في هذه الحالة، اقتصاد من ثلاث قطاعات وضريبة ثابتة على الدخل مع وجود استثمار معتمد على الدخل، حيث المعادلات التالية تمثل هذا الاقتصاد.

$$\begin{aligned} Y &= C + I + G && \text{شرط التوازن} \\ C &= C_a + b(Y - T_0) && \text{دالة الاستثمار} \\ I &= i_0 + i_1 Y \\ G &= G_0, T = T_0 \end{aligned}$$

$$\text{Then } , Y = C_a + bY - bT_0 + i_0 + i_1 Y + G_0$$

$$Y = \frac{1}{1 - b - i_1} (C_a - bT_0 + i_0 + G_0)$$

$$\frac{\Delta Y}{\Delta G} = \frac{1}{1 - b - i_1}$$

### ❖ كيف يمكن تمثيل الاقتصاد في حالة اقتصاد مغلق وضريبة ثابتة وإستثمار مستقل ؟

في هذه الحالة نفترض لاقتصاد واقعي من أربعة قطاعات كما نفترض أن الضريبة والاستثمار مستقلان عن الدخل وعليه يمكن تمثيل الاقتصاد بالمعادلات التالية:

$$\begin{aligned} \text{شرط التوازن} \quad Y &= C + I + G + X - M \\ C &= C_a + b(Y - T_0) \\ M &= m_a + m_1(Y - T_0) \\ G &= G_0, T = T_0, X = X_0 \end{aligned}$$

$$Y = C_a + bY - bT_0 + I_0 + G_0 + X_0 - m_a - m_1 Y - m_1 T_0$$

$$Y = \frac{1}{1 - b + m_1} (C_a - bT_0 + I_0 + G_0 + X_0 - m_0 - m_1 T_0)$$

$$\frac{\Delta Y}{\Delta G} = \frac{1}{1 - b + m_1}$$

## الماضرة الثانية عشر / الإقتصاد الدولي

### ❖ على ماذا تعتمد دراسة الإقتصاد الدولي ؟

تعتمد دراسة الإقتصاد الدولي كما هي الحالة بالنسبة لفروع الإقتصاد الأخرى على النظرية الإقتصادية العامة بفرعيها : **الإقتصاد الجزئي والإقتصاد الكلي** فمثلاً، يدرس الإقتصاد الدولي، على مستوى **الإقتصاد الجزئي**، أثر أنظمة الجمارك في مختلف الأقطار على تخصيص الموارد الإقتصادية وتوزيع الدخل، أما على مستوى **الإقتصاد الكلي**، فتهم دراسة الإقتصاد الدولي بالطرق التي تؤثر بواسطتها الواردات والصادرات والتدفقات المالية الإستثمارية على الدخل والاستخدام والنمو الإقتصادي.

### ❖ ما هي أنماط واتجاهات التجارة الدولية ؟

عندما يقوم بلد معين بشراء السلع والخدمات من بلدان أخرى تسمى هذه **بالواردات** ، أما السلع والخدمات التي يتم بيعها إلى الأقطار الأخرى فتسمى **بالصادرات** والجدير بالملاحظة، أن جميع البلدان، سواء كانت متقدمة أو نامية، تقوم باستيراد وتصدير سلع وخدمات مختلفة.

### ❖ هل تقتصر عملية تصدير الخدمات على الأقطار المتقدمة فقط ؟

لا تقتصر عملية تصدير الخدمات على الأقطار المتقدمة فقط وإن كانت تمثل الجزء الأكبر من صادرات الخدمات في العالم وذلك بحكم حاجة الأقطار النامية لمختلف أنواع الخدمات من الأقطار المتقدمة مثل خدمات الشحن والتأمين والعلاج الطبي والخدمات التعليمية والإستشارية والسياحية وغيرها إلا أن الأقطار المتقدمة تستورد هي أيضاً بعض الخدمات، وخاصة السياحة والعمالة، من الأقطار النامية. حيث تشكل إيرادات السياحة وتحويلات العاملين بالخارج مبالغ كبيرة بالنسبة لبعض الأقطار المصدرة للخدمات السياحية والعمالة مثل مصر، والمغرب، ولبنان .

### ❖ ما هي مبررات قيام التجارة الدولية ؟

يمكن الوقوف على أسباب قيام التجارة بين بعض الأقطار بمجرد تصورنا لما يحدث في حالة قيام كل قطر بالاكتماء الذاتي وعدم المتاجرة مع الأقطار الأخرى في الواقع أنه من الصعب لأي قطر مهما كان غنياً بموارده الإقتصادية أن يستغني عن المنتجات التي يمكن الحصول عليها من الأقطار الأخرى. فقد يستحيل أن ينتج كل قطر جميع ما يحتاجه من السلع والخدمات حيث يؤدي ذلك في النهاية إلى ارتفاع تكاليف الإنتاج وبالتالي انخفاض مستوى المعيشة في ذلك القطر.

### ملاحظة

مهم جداً الرجوع لمحتوى الإقتصاد الكلي + الكتاب لتلافي أي خطأ أو تقصير أخوكم / انت من ١٤٣٢هـ



ومن اسباب قيام التجارة الدولية :

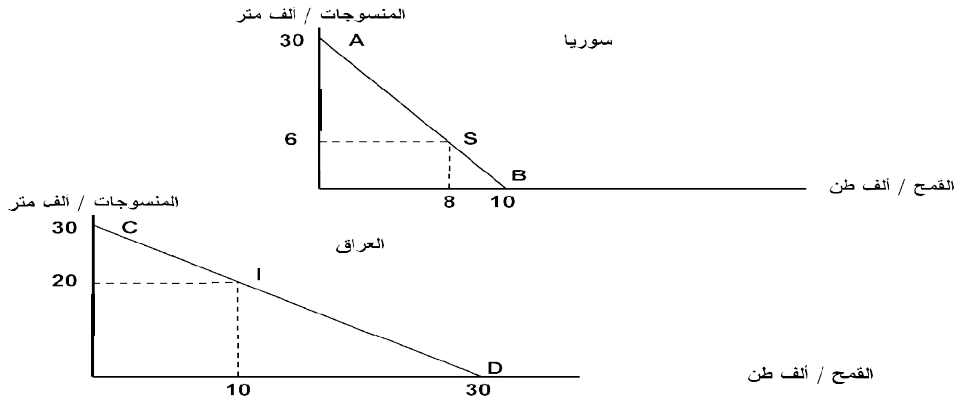
### اولاً : قانون الميزة المطلقة

إن أبسط وأوضح سبب لقيام التجارة الدولية هو ما يعرف بقانون الميزة المطلقة الذي جاء به آدم سميث، والذي يستند إلى مبدأ تقسيم العمل والتخصص بين الأقطار. حيث تحدث التجارة بين الأقطار، إستناداً إلى هذا المبدأ، عندما يكون بإمكان كل قطر (بسبب إختلاف ظروف الإنتاج) أن يصدر إلى القطر الآخر سلعة معينة بأقل تكلفة مما لو تم إنتاجها في ذلك القطر.

### ثانياً : مبدأ الميزة النسبية

لا تقتصر أسباب قيام التجارة الدولية على أساس الميزة المطلقة. فيمكن أن تكون التجارة مربحة لجميع الأقطار حتى في حالة وجود قطر معين يستطيع أن ينتج أكثر من سلعة واحدة بتكاليف أقل من تكلفة إنتاجها في قطر آخر. ويعزى هذا التبرير لقيام التجارة لما يعرف بمبدأ الميزة النسبية ويمكن تفسير مبدأ الميزة النسبية بالمثال التالي. فإذا افترضنا أن العراق وسوريا يمتلكان ذات القدر من الموارد التي يستغلانها مناصفة في كلتا الدولتين لإنتاج كل من المنسوجات والقمح بالكميات الموضحة في الجدول التالي حيث يتضح من الجدول أن للعراق ميزة نسبية في إنتاج القمح، كما أن لسوريا ميزة نسبية في إنتاج المنسوجات، أي أن العراق هو الأكثر كفاءة في إنتاج القمح، بينما سوريا هي الأكثر كفاءة في إنتاج المنسوجات

جدول يبين إنتاج عمل يوم واحد في كل من العراق وسوريا				
تكلفة القرص البديلة		القمح ألف طن / يوم	المنسوجات ألف متر / يوم	الدولة
القمح	المنسوجات	إنتاج	إنتاج	
١/٣	٣/١	١٠	٣٠	سوريا
١/١	١/١	٣٠	٣٠	العراق



و يتضح من الشكل السابق الذي يبين منحنيات إمكانيات الإنتاج والإستهلاك في كل من سوريا والعراق في حالة الإكتفاء الذاتي أي في غياب التبادل التجاري بين البلدين أن سوريا تنتج وتستهلك ثمانية آلاف طن من القمح وستة آلاف متر من المنسوجات، بينما ينتج العراق ويستهلك عشرة آلاف طن من القمح وعشرين ألف متر من المنسوجات.

### ثالثاً : مكاسب التجارة

تتمثل مكاسب التجارة في إمكانية تخصيص كل دولة في فرع الإنتاج الذي لها فيه ميزة نسبية. فنجد أن بإمكان كل دولة أن تنتج ما يكفي إستهلاكها المحلي مع تصدير الفائض إلى الدولة الأخرى، والنتيجة هي زيادة المتاح للدولتين من كل المنسوجات والقمح بما يسهم في رفع مستوى رفاه شعبيهما، وذلك كما يتبين من الجدول التالي :

جدول يبين إنتاج واستهلاك المنسوجات والقمح في حالة التخصص والتبادل التجاري بين العراق وسوريا				
إنتاج	إستهلاك	إنتاج	إستهلاك	
٣٠	٦	٠٠	٨	سوريا
٠٠	٢٠	٣٠	١٠	العراق
٣٠	٢٦	٣٠	١٨	المجموع
مكاسب التجارة		$٤ = ٢٦ - ٣٠$		$١٢ = ١٨ - ٦$

## ❖ ما هي شروط التبادل التجاري ؟

شروط التبادل التجاري والتي يمكن تعريفها بأنها عدد الوحدات من سلعة معينة التي يجب تصديرها مقابل الحصول على وحدات من سلعة أخرى يتم استيرادها. وبعبارة أخرى، إن شروط التبادل التجاري تمثل الأسعار الحقيقية للسلع في التبادل التجاري للحصول على سلع أخرى عن طريق الاستيراد بدلاً من إنتاجها محلياً

## ❖ ما هي وسائل حماية التجارة ؟

بالرغم من المكاسب المؤكدة للتجارة الحرة، ومن أبرزها الإستخدام الأمثل للموارد الإقتصادية في العالم، وتحقيق أقصى مستوى من الإنتاج العالمي والتنوع في الإنتاج للإستجابة لأنواق المستهلكين فإن الكثير من الأقطار النامية وحتى بعض الأقطار المتقدمة، ما زالت تمارس وسائل عديدة تعيق حرية التجارة الدولية وذلك بهدف حماية صناعاتها الوطنية ومن أبرز وسائل الحماية المطبقة ما يلي:

### اولاً : التعريف الجمركية

يقصد بالتعريف الجمركية Tariff الرسوم التي تفرضها الحكومات على الواردات.

### ثانياً : نظام الحصص

يقصد بنظام الحصص Quota System هو تقييد الكميات المسموح باستيرادها من أي سلعة خلال فترة معينة.

## الماضرة الثالثة عشر / الإقتصاد الدولي ٢

### ❖ ما هي اهم نظريات الحماية ؟

١. نظرية الصناعة الناشئة

٢. نظرية تنويع مصادر الدخل

٣. نظرية حماية الأجور

٤. نظرية حماية الاستخدام

٥. نظرية الأمن القومي

٦. نظرية الإغراق

### ❖ ما هي ابرز الانتقادات التي وجهت الى نظرية الصناعة الناشئة ؟

**أولاً :** أن الرسوم الجمركية ووسائل الحماية الأخرى سرعان ما تتحول إلى مصالح مكتسبة للصناعيين من ذوي النفوذ السياسي في القطاع الخاص.

**ثانياً :** إن بعض الصناعات التي تتمتع بمزايا الحماية تفقد الحافز على التطوير وتحقيق الكفاءة الإنتاجية مما يدفع أصحابها إلى التثبيت بالحماية لفترة طويلة جداً.

**ثالثاً :** تؤدي زيادة الرسوم الجمركية أو استخدام نظام الحصص إلى إرتفاع الأسعار بالنسبة للمستهلكين.

### ❖ ما هي ابرز الانتقادات التي وجهت الى نظرية حماية الاجور ؟

**أولاً :** أنها تفترض أن العمل هو المصدر الوحيد لعوامل الإنتاج. في حين أن هناك عوامل أخرى مهمة في عملية الإنتاج.

**ثانياً :** يمكن للأقطار النامية التي تتميز بإنخفاض مستويات الأجور أن تكون في مركز تنافسي بالنسبة للأقطار المتقدمة التي تتميز بإرتفاع مستويات الأجور إلا أن هذه الميزة التنافسية تقتصر فقط على الصناعات التي تعتمد على العمل بنسبة كبيرة.

### ❖ ما هي أبرز الانتقادات التي وجهت الى نظرية حماية الاستخدام ؟

**أولاً :** أن أي منافع يمكن تحقيقها كزيادة الدخل والإستخدام عن طريق سياسة الحماية لا يمكن أن تستمر مدة طويلة.

**ثانياً :** تؤدي الرسوم الجمركية، ونظام الحصص إلى تكوين الإحتكارات المحلية ودعم المنتجين غير الأكفاء.

**ثالثاً :** يركز منطق التجارة الدولية على حقيقة مهمة هي أن القطر الذي يصدر إلى الأقطار الأخرى يجب عليه أن يستورد أيضاً.

### ❖ لماذا لم تعد نظرية الامن القومي ضرورية لحماية الصناعات العسكرية ؟

**أولاً :** أن من الصعب في أوقات الحروب إستبعاد بعض الصناعات دون غيرها بالنسبة لمساهمتها في المجهود الحربي.

**ثانياً :** إذا كان لا بد من حماية بعض الصناعات الإستراتيجية، فقد يكون من الأفضل تقديم إعانات مالية لدعم هذه الصناعات لغرض تحقيق أهدافها بدلاً من تقييد التجارة الدولية.

### ❖ متى يحدث الإغراق ؟

يحدث الإغراق عندما تقوم شركة أجنبية ببيع إنتاجها في الأسواق الخارجية بأسعار أقل من تكاليف إنتاجها وذلك بهدف تثبيت موقعها التنافسي.

### ❖ بماذا تهتم نظرية مضاعف التجارة الخارجية ؟

تهتم بدراسة تأثير التجارة الخارجية على الدخل والاستخدام لقطر معين. تعتبر الواردات أحد مكونات التدفقات الخارجية (التسربات) للدخل الإجمالي للدولة المستوردة ، أما الصادرات فتعتبر أحد مكونات التدفقات الداخلة (الحقن)، فهي تمثل الأرصدة النقدية المستلمة من الخارج لقاء السلع والخدمات المنتجة محلياً والتي يتم تصديرها إلى الدول الأخرى.

## ❖ على ماذا تعتمد العلاقات الاقتصادية في الوقت الحاضر بين الأقطار ؟

أصبحت العلاقات الاقتصادية في الوقت الحاضر بين الأقطار لا تعتمد فقط على الأنشطة التجارية بين الدول، بل أيضاً على التدفقات المالية فيما بينها. لذلك أصبح من الضروري دراسة المالية الدولية التي تتعلق بالجانب النقدي للتجارة الدولية في السلع والخدمات إلى جانب حركة رؤوس الأموال الاستثمارية، من أجل فهم المشكلات الاقتصادية العالمية.

## ❖ ما هي أهمية أسواق الصرف الأجنبي ؟

تعتبر مجموعة أقطار الإتحاد الأوروبي الذي أصبح يضم إعتباراً من ٢٠٠٤/٥/١ خمساً وعشرين دولة يتجاوز عدد سكانها ٤٥٠ مليون نسمة، أي أكثر من سكان الولايات المتحدة وروسيا مجتمعة، وهو أكبر تجمع دولي يستخدم عملة موحدة وهي اليورو، أما باقي أقطار العالم فلكل منها عملتها الخاصة بها ، ويعنى هذا ضرورة تحويل عملة الدولة المستوردة إلى عملة الدولة المصدرة أو إلى عملة السداد التي يتم الإتفاق عليها مع الدولة المصدرة. وتسمى الأسواق التي يتم من خلالها تبادل العملات الدولية أسواق الصرف الأجنبي.

## ❖ ما هي وظيفة أسواق الصرف الأجنبي ؟

تؤدي المبادلات الدولية إلى حصول بعض الأقطار على عملات أجنبية معينة بكميات كبيرة بحيث قد تجد نفسها بحاجة لاستبدال قدر معين من هذه العملات لقاء الحصول على عملات أخرى لاستيراد سلع من بلد تلك العملات. وقد تكون الحالة العكس بالنسبة لأقطار أخرى. لذلك يمكن الحصول على العملات الأجنبية عن طريق أسواق الصرف التي تتحدد فيها أسعار العملات حسب آلية العرض والطلب، كما هي الحالة بالنسبة لأي سلعة أخرى.

## ❖ ما هي تأثيرات المبادلات الدولية ؟

**أولاً :** تؤدي صفقات التصدير إلى زيادة تدفق النقود في القطر المصدر وتخفيض عرض النقود في القطر المستورد.

**ثانياً :** يتمكن القطر المصدر من الحصول على العملات الأجنبية التي تمكنه من دفع قيمة وارداته من الخارج. أي أن قدرة الدولة على التصدير هي التي تحدد قدرتها على الاستيراد من الخارج.

**ثالثاً :** يعتمد سعر صرف عملة قطر معين بالنسبة للعملات الأجنبية الأخرى على مكانة ذلك القطر في مبادلاته التجارية، أي مركز ميزان مدفوعاته.

## ❖ ما هو ميزان المدفوعات ؟

ميزان المدفوعات هو عبارة عن كشف بالقيمة النقدية لجميع المبادلات التي تمت بين قطر معين والعالم الخارجي خلال سنة معينة.

## ❖ ما هي مكونات ميزان المدفوعات ؟

**أولاً :** الحساب الجاري : يشتمل الحساب الجاري (Current Account) على قيم الواردات والصادرات من السلع والخدمات، بالإضافة إلى صافي الفوائد والتحويلات الخارجية.

**ثانياً :** حساب رأس المال : يشتمل حساب رأس المال (Capital Account) على التدفقات المالية من القروض والاستثمارات طويلة الأجل وقصيرة الأجل.

## ❖ على ماذا يعتمد توازن ميزان المدفوعات ؟

يعتمد ميزان المدفوعات على ما يعرف بمبدأ القيد المزدوج ويعني هذا المبدأ أن كل معاملة تجارية يعبر عنها لأغراض المحاسبة بقيدتين، فإذا كان قيدها الأول كحساب مدين يكون قيدها الثاني كحساب دائن

## ❖ ما هي وسائل تحقيق التوازن في ميزان المدفوعات ؟

أولاً - أسعار الصرف المتغيرة بصورة حرة

ثانياً - تغيرات الأسعار والدخول

ثالثاً- وسائل السيطرة الحكومية

## ❖ لأسعار الصرف المتغيره بصورة حرة ثلاث مزايا إذكرها ؟

١. أنها تؤدي إلى تصحيح إختلال التوازن في ميزان المدفوعات بصورة تلقائية وذلك عن طريق آلية الطلب والعرض في السوق العالمية.
٢. انها تؤدي إلى زيادة الواردات وهبوط الصادرات أو بالعكس وذلك بواسطة التغيرات في أسعار الصرف.
٣. أنها لا تؤدي إلى فرض القيود على الإقتصاد المحلي.

## ❖ لأسعار الصرف المتغيره بصورة حرة ثلاث مساوي إذكرها ؟

١. أنها تؤدي إلى زيادة عنصر المخاطرة بالنسبة لعقد الصفقات التجارية الدولية بسبب إحتمال تغير سعر الصرف بين فترة عقد الصفقة ووقت التسليم.
٢. أنها تؤدي إلى تردي شروط التبادل التجاري في القطر الذي إنخفضت قيمة عملته في سوق الصرف
٣. أنها تؤدي إلى الإضرار بالصناعات التصديرية وإلى التقلبات في مستوى الإستخدام والدخل.



## ❖ ما هي وسائل السيطرة الحكومية ؟

### ① وسائل السيطرة على تحويلات النقد الأجنبي :

- تخصيص الموجودات من العملات الأجنبية على القطاعات الاقتصادية بصورة تنسجم مع أهداف السياسة الاقتصادية الكلية ومتطلبات تنفيذ خطط التنمية .
- فرض الرقابة على تحويلات النقد الأجنبي ، حيث تعتبر وسيلة مباشرة لمعالجة العجز في ميزان المدفوعات .
- أهم مساوئها :
- + أنها تؤدي إلى تقييد استيراد بعض السلع لصالح المنتجين المحليين ، ومن ثم ارتفاع أسعار السلع وحدوث التضخم ، وبالتالي تراجع الصادرات وزيادة حدة العجز في الميزان التجاري .
- + أنها تؤدي إلى تشجيع ظهور السوق السوداء للعملات الأجنبية .

### ② وسائل السيطرة التجارية :

- نظام أسعار الصرف المتعدد : حيث تحدد الحكومة أسعاراً متباينة لبيع وشراء العملات الأجنبية وفقاً لأولويات أهداف السياسة الاقتصادية للدولة .
- البنك المركزي يقوم بفرض أسعار عالية لبعض العملات الأجنبية المطلوبة لاستيراد السلع غير الضرورية [ الكمالية ] و فرض أسعار منخفضة لاستيراد السلع الضرورية ، كالمواد الأولية والمعدات الرأسمالية .
- البنك المركزي يقوم ببيع العملات الأجنبية بأسعار مرتفعة للحد من الواردات وشراء العملات الأجنبية من المصدرين بأسعار مرتفعة لتشجيع الصادرات .
- قد تستخدم الحكومة سياسات وإجراءات تجارية معينة بهدف معالجة العجز في ميزان المدفوعات ، كالتعريف الجمركية ، نظام الحصص لتحديد الواردات ، فرض ضرائب خاصة على تحويلات رؤوس الأموال والسفر إلى الخارج لأغراض السياحة ، كما أنها قد تتبنى سياسات تستهدف تشجيع الصادرات ، كمنح الإعانات للصناعات التصديرية وإعفاءها من الضرائب لفترة معينة ...
- أهم مساوئها :
- + أنها تؤدي إلى سوء تخصيص الموارد الاقتصادية .
- + أنها قد تسبب ردود فعل عدائية من قبل الأقطار الأخرى ، وبالتالي تقليل حجم التجارة .

## الماضرة الرابعة عشر / التنمية الاقتصادية

### ❖ ما هو مفهوم التنمية الاقتصادية ؟

يختلف مفهوم التنمية الاقتصادية حسب إختلاف المعايير أو المؤشرات المستخدمة. فالنسبة للمؤشرات الاقتصادية التقليدية، تعني التنمية الاقتصادية قدرة الإقتصاد القومي على تحقيق معدلات مرتفعة في النمو الإقتصادي، وبالتالي زيادة معدل الدخل الفردي.

أما بالنسبة للمعايير غير الاقتصادية كتخفيض نسبة الأمية من خلال تكثيف الإستثمار في الخدمات التعليمية والصحية وزيادة المساهمة الجماهيرية في إتخاذ القرارات من خلال بناء المؤسسات الديمقراطية وتحقيق العدالة الإجتماعية في تخصيص الموارد الاقتصادية.

فالتنمية يجب أن تعني توسيع خيارات جميع أفراد المجتمع في جميع المجالات الاقتصادية، والسياسية، والثقافية، وتوفير تكافؤ الفرص للجميع. كذلك، تشمل أهداف التنمية الشاملة على تحسين نوعية الحياة من جميع النواحي، ولاسيما فيما يتعلق بإحترام حقوق الإنسان المدنية والسياسة وإغناء الحياة الثقافية وتقليل الأضرار الناجمة عن تلوث البيئة.

### ❖ ما هو أثر التحولات الاقتصادية والسياسة العالمية ؟

بعد أن أخفقت معظم الأقطار النامية في تحقيق طموحاتها في مجال التنمية خلال عقد السبعينات من القرن العشرين، جاء عقد الثمانينات ليقضي على معظم هذه الآمال بسبب التحولات الجذرية التي طرأت على المسرح العالمي على الصعيدين الإقتصادي والسياسي، والتي تسببت بإلحاق أضرار كبيرة بهذه الأقطار مما أدى بكثير من الكتاب المعنيين بقضايا التنمية والعلاقات الدولية بوصف هذه الحقبة الزمنية بالعقد الضائع.

### ❖ ما هي خصائص الأقطار النامية ؟

١. انخفاض مستويات المعيشة
٢. انخفاض الإنتاجية
٣. ارتفاع معدلات نمو السكان
٤. ارتفاع معدلات البطالة
٥. الاعتماد الكبير على الإنتاج الزراعي والصادرات الأولية
٦. الانكشاف الكبير في العلاقات الاقتصادية الدولية
٧. غياب أو محدودية المشاركة الجماهيرية

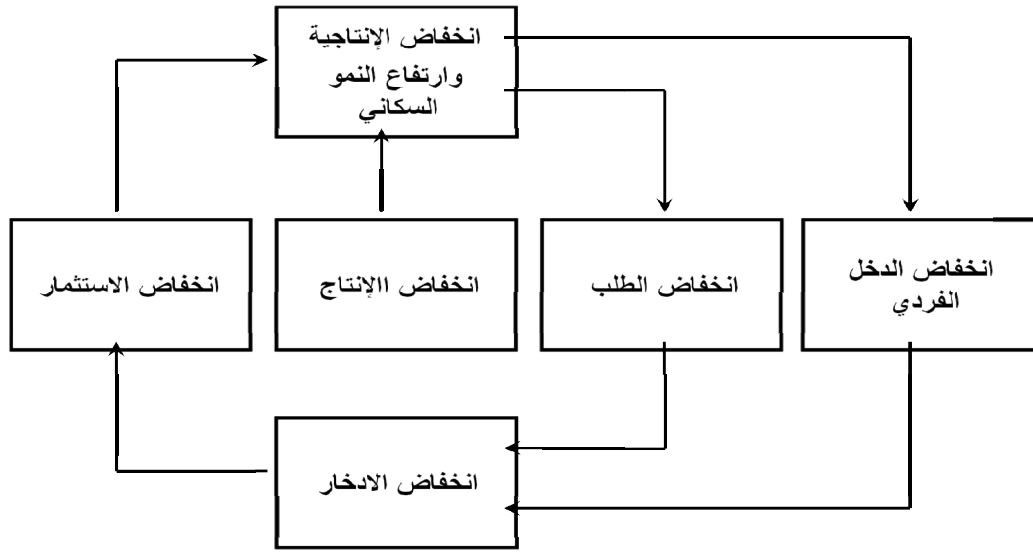
### ❖ ما هي اهم المؤشرات التي تستخدم عادة لأغراض المقارنة بين مستويات المعيشة

#### في الأقطار النامية والأقطار المتقدمة ؟

١. معدل الدخل الفردي
٢. عدالة توزيع الدخل القومي
٣. مستوى الفقر المطلق
٤. معدلات التغذية
٥. نسبة الامية

### ❖ ما هما العاملان اللذان تعتمد حدة الفقر في اي قطر عليهما ؟

١. مستوى الدخل القومي
٢. درجة التفاوت في توزيع الدخل



من خلال الشكل السابق والذي يبين الحلقة المفرغة للفقر، حيث يؤدي إنخفاض الإنتاجية وارتفاع النمو السكاني إلى إنخفاض الدخل الفردي الذي يؤدي بدوره إلى إنخفاض الطلب والإدخار مما يؤدي إلى إنخفاض الإستثمار وبالتالي إلى إستمرار ظاهرة الفقر.

### ❖ كيف يمكن معالجة ظاهرة التخلف الاقتصادي والفقر ؟

١. من خلال تبني السياسات الاقتصادية والاجتماعية الهادفة لزيادة الطاقة الإنتاجية للاقتصاد القومي .

٢. تكثيف الاستثمارات في المشروعات الإنتاجية وتوفير الحوافز اللازمة للقطاع الخاص للمشاركة الفاعلة مع القطاع العام لتحقيق أهداف التنمية

٣. تبني السياسات الهادفة لتحسين نمط توزيع الدخل من خلال توجيه الإنفاق الحكومي بما يضمن حصول أكبر نسبة ممكنة من السكان على ثمار التنمية الاقتصادية والاجتماعية

تم بحمد الله وفضله فلا تنسوننا من صالح الدعاء في ظهر الغيب