

المحاضرة الخامسة

العرض البياني للبيانات

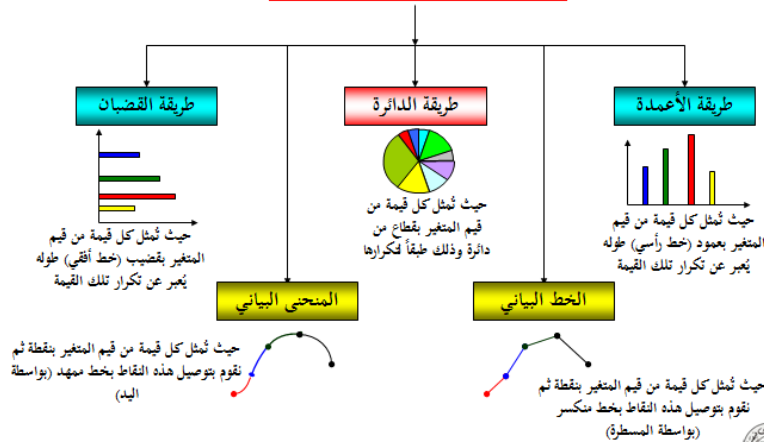
أولاً: البيانات غير المبوبة

تعريف الرسوم البيانية: هي وسيلة مفيدة وفعالة لتوضيح وشرح الحقائق الرقمية وإبراز العلاقة بين المتغيرات، واستقراء اتجاهاتها العامة بأسلوب يسهل فهمه وتذكره بمجرد النظر. وتنطبق القواعد التي ذكرناها في العرض الجدولي على الرسوم البيانية، إذ يجب أن يرقم كل رسم، ويعنون، ويمكن أن يستعمل الحواشي والمصدر وغيرها ..

العرض الجدولي للبيانات المنفصلة:

تختلف الرسوم البيانية حسب طبيعة ونوع البيانات المراد عرضها فإذا كانت البيانات اسمية أو رتببة (أي منفصلة) فإننا نستخدم أحد الأشكال البيانية التالية :

طرق العرض البياني للبيانات المنفصلة



١- طريقة الأعمدة:

ويتم عرض البيانات من خلال هذا الأسلوب من خلال عدة أنواع من الأعمدة البيانية وهي:

أ- الأعمدة البيانية البسيطة:

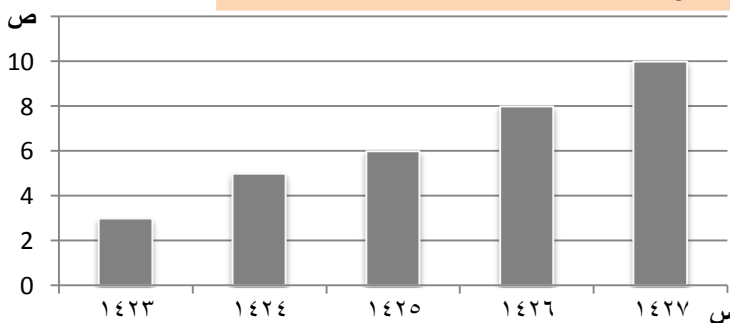
وهي عبارة عن مجموعة من الأعمدة الرأسية أو المستطيلات المتساوية القاعدة والتي تتناسب ارتفاعاتها مع البيانات التي تمثلها

مثال: الجدول الآتي يوضح أعداد الطلاب المقيدين بإحدى الجامعات في السنوات الدراسية من ١٤٢٣هـ حتى ١٤٢٧هـ.

السنة الدراسية	١٤٢٣	١٤٢٤	١٤٢٥	١٤٢٦	١٤٢٧
عدد الطلاب بالالف	٣	٥	٦	٨	١٠

المطلوب:

تمثيل البيانات باستخدام الرسم البياني المناسب

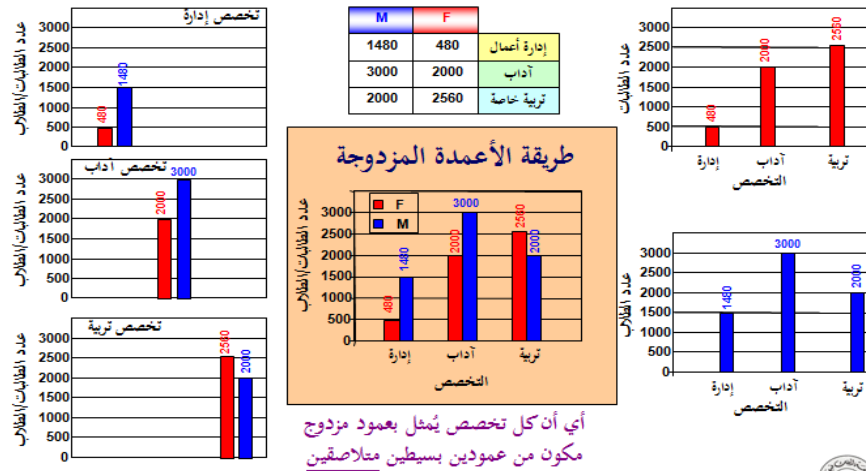


الحل

باستخدام الأعمدة البيانية البسيطة لأن الظاهرة توضح مدى التطور في أعداد الطلاب مع تقدم السنوات مستخدمة متغير واحد فقط

ب - الأعمدة البيانية المزدوجة:

وهو ذلك النوع من الرسوم البيانية الذي يستخدم إذا كان الهدف من الرسم هو مقارنة ظاهرتين أو أكثر لعدة سنوات، أو إذا كان لدينا بيانات مزدوجة لخواص مختلفة .



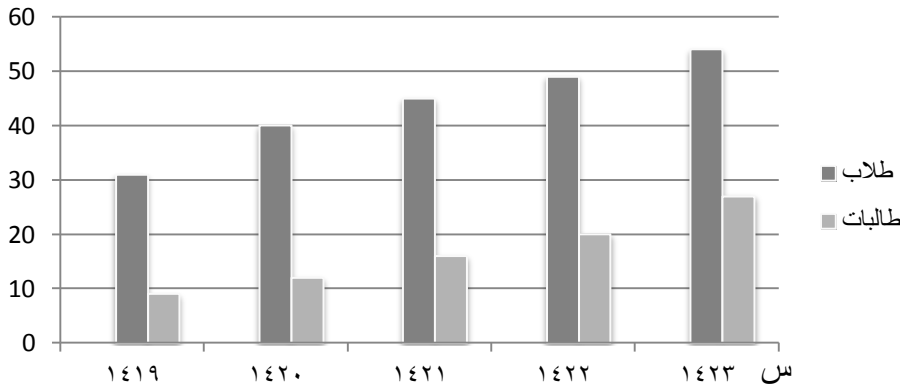
مثال: الجدول الآتي يوضح أعداد الطلبة المسجلين بأحد الجامعات السعودية في السنوات الدراسية ١٤١٩ هـ حتى ١٤٢٣ هـ

السنة الدراسية	١٤٢٣	١٤٢٢	١٤٢١	١٤٢٠	١٤١٩
عدد الطلبة	٥٤	٤٩	٤٥	٤٠	٣١
بالألف	٢٧	٢٠	١٦	١٢	٩

المطلوب:

مثل هذه البيانات بيانيا باستخدام الأعمدة البيانية المزدوجة ؟

ص



الحل

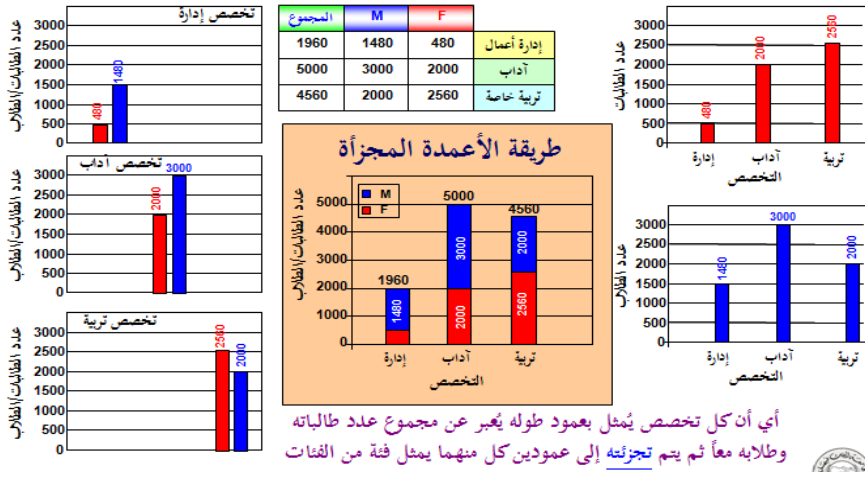
باستخدام الأعمدة البيانية المزدوجة

لأن الظاهرة توضح مدى التطور في أعداد الطلاب مع تقدم السنوات مستخدمة متغيرين أو أكثر

ج - الأعمدة البيانية المجزأة:

وهو ذلك النوع من الرسوم البيانية الذي يستخدم إذا كان الهدف من الرسم هو مقارنة ظاهرتين أو أكثر لعدة سنوات، أو إذا كان لدينا بيانات مزدوجة لخواص مختلفة .

ملاحظة: ولاكن الفرق بين الأعمدة البيانية المزدوجة والأعمدة البيانية المجزأة هو في المجزأة بدلا من أن نرسم عامودين جنب بعض نرسم عامودين بعمود واحد ونجزء العمود ففي المثال التالي سيتبين الفرق بينهما بوضوح.

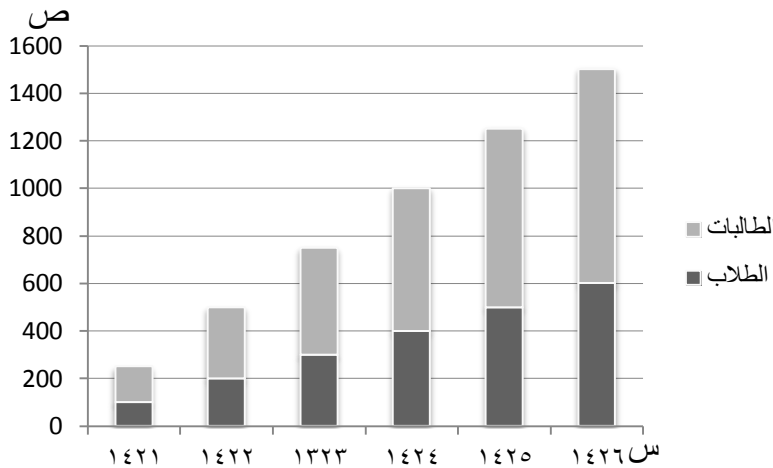


مثال: إذا كانت اعداد الطلاب والطالبات المسجلين في كلية التربية بجامعة الملك فيصل بالأحساء تزداد كما هو موضح في الجدول الآتي:

السنوات الدراسية	١٤٢٦	١٤٢٥	١٤٢٤	١٤٢٣	١٤٢٢	١٤٢١
الطلاب	٦٠٠	٥٠٠	٤٠٠	٣٠٠	٢٠٠	١٠٠
الطالبات	٩٠٠	٧٥٠	٦٠٠	٤٥٠	٣٠٠	١٥٠

المطلوب:

مثل هذه البيانات بيانياً باستخدام الأعمدة المجزأة؟



الحل

باستخدام الأعمدة البيانية المجزأة
لان الظاهرة توضح مدى التطور في اعداد الطلاب مع تقدم السنوات مستخدمة متغيرين او اكثر باستخدام عامود يشمل المتغيرين بدلاً من العمودين

ويمكن ابداء الملاحظات التالية على الرسومات بالاعمدة البيانية بأنواعها المختلفة :

- تعتبر الاعمدة البيانية من اكثر الرسومات البيانية انتشاراً،
- يفضل تظليل الاعمدة أو تخطيطها بواسطة خطوط متوازية أو ابرازها بألوان مختلفة وخاصة عند مقارنة ظواهر مختلفة.
- يستحسن اختيار مقياس رسم مناسب وثابت.
- يفضل عدم كتابة القيم التي تمثلها الاعمدة فوق الاعمدة وذلك لتلافي المبالغة في طول الاعمدة.
- يمكن استخدام العمود الواحد لتمثيل اكثر من نوع واحد من البيانات، وذلك باستخدام مفهوم الاعمدة المجزأة.
- تصلح الاعمدة البيانية لتمثيل البيانات ذات المتغيرات المنفصلة، كما تصلح بشكل خاص لتمثيل البيانات الوصفية (النوعية).

٢- اللوحة الدائرية:

تستخدم الدائرة أو اللوحة الدائرية لتمثيل البيانات في الحالات التالية:

- عندما يكون الهدف منها مقارنة الاجزاء المختلفة بالنسبة للمجموع الكلي
- أن تكون الاجزاء المقارنة قليلة العدد نسبيا وفي فترة زمنية واحدة.

وفيما يلي خطوات رسم الدائرة وتقسيمها الى قطاعات:

- اختيار نصف قطر مناسب لها.

- تحسب الزاوية المقابلة لكل قطاع من خلال العلاقة التالية:

$$\text{الزاوية المركزية لقيمة ما} = \frac{\text{تكرار القيمة}}{\text{مجموع التكرارات}} \times 360$$

- تقسم الدائرة الى قطاعاتها المختلفة بتحديد مساحة كل قطاع على الدائرة وذلك بتقسيم الزاوية المركزية للدائرة الى زوايا القطاعات المختلفة.

وفيما يلي تطبيق ذلك على بيانات إحصائية

الدرجة X	92	93	94	95	96	97	98	99	100
التكرار f	2	2	3	6	1	1	1	3	1

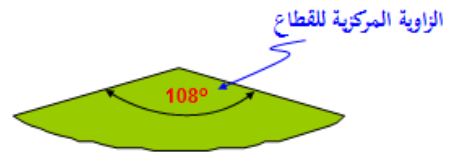
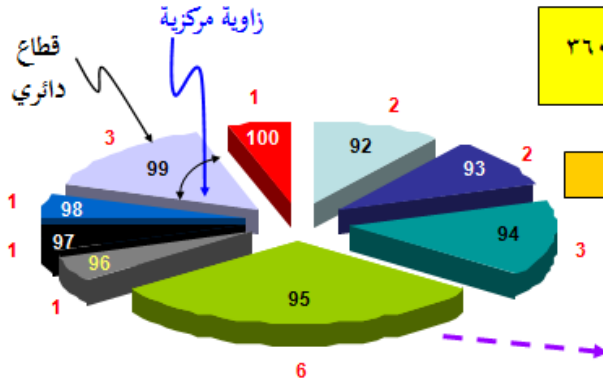
لوكانت لدينا البيانات التالية:

تحدد زاويته المركزية بالعلاقة:

$$\text{الزاوية المركزية لقيمة ما} = \frac{\text{تكرار القيمة}}{\text{مجموع التكرارات}} \times 360$$

أو

$$\text{الزاوية المركزية لقيمة ما} = \text{التكرار النسبي للقيمة} \times 360$$



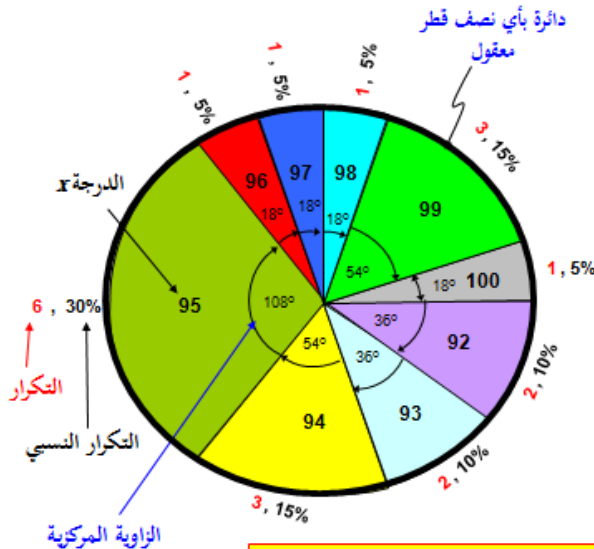
القيم داخل القطاعات تمثل الدرجة (المتغير) X والقيم المكتوبة خارج القطاعات باللون الأحمر تمثل التكرار f

القطاع الخاص بالدرجة "95" ذات التكرار 6 قياس زاويته المركزية تساوي:

$$\frac{6}{20} \times 360 = 108^\circ$$

إذن لا بد من حساب الزاوية المركزية المناظرة لكل قيمة من قيم المتغير X (الدرجة)، وهذه القيم مبيّنة

بالجدول التالي:



طريقة الدائرة لتمثيل البيانات

الدرجة X	التكرار f	الزاوية المركزية
92	2	$(2/20) \times 360 = 36^\circ$
93	2	$(2/20) \times 360 = 36^\circ$
94	3	$(3/20) \times 360 = 54^\circ$
95	6	$(6/20) \times 360 = 108^\circ$
96	1	$(1/20) \times 360 = 18^\circ$
97	1	$(1/20) \times 360 = 18^\circ$
98	1	$(1/20) \times 360 = 18^\circ$
99	3	$(3/20) \times 360 = 54^\circ$
100	1	$(1/20) \times 360 = 18^\circ$
$\sum f = 20$		مجموع الزوايا = 360°

مثال: فيما يلي احصائية لطلاب البكالوريوس في كلية العلوم الإدارية موزعين حسب السنة الدراسية للعام الجامعي ١٤٢٦ هـ .

السنة الدراسية	عدد الطلبة
السنة الأولى	٢٢٦
السنة الثانية	٢٧٦
السنة الثالثة	٢٦٦
السنة الرابعة	١٦٧
المجموع	٩٣٥

المطلوب:

عرض هذه البيانات باستخدام اللوحة الدائرية؟

/الحل/

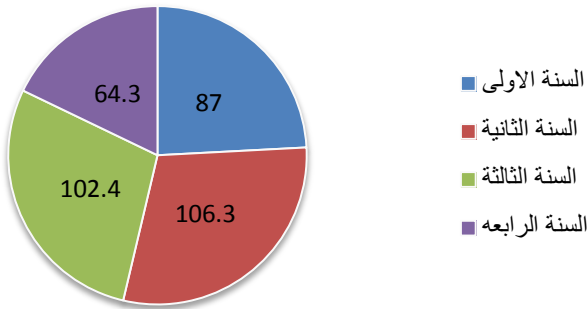
نقوم بحساب الزاوية المركزية لكل قيمة من قيم المتغير (عدد الطلبة)

بأستخدام قانون الزاوية المركزية

$$\text{الزاوية المركزية لقيمة ما} = \frac{\text{تكرار القيمة}}{\text{مجموع التكرارات}} \times 360$$

السنة الدراسية	عدد الطلبة	الزاوية المركزية
الأولى	٢٢٦	$87 = 360 \times (226 \div 935)$
الثانية	٢٧٦	$106,3 = 360 \times (276 \div 935)$
الثالثة	٢٦٦	$102,4 = 360 \times (266 \div 935)$
الرابعة	١٦٧	$64,3 = 360 \times (167 \div 935)$
المجموع	٩٣٥	٣٦٠

اللوحة الدائرية



س: متى نستخدم الأعمدة البيانية (بأنواعها المختلفة) في تمثيل البيانات الاحصائية بيانياً؟

وبماذا تختلف عن التمثيل البياني باستخدام الدائرة؟

يرى غالبية المختصين أن الأعمدة البيانية يفضل استخدامها في الحالات التالية:

- عندما تكون الكميات المقارنة كثيرة العدد نسبياً.
- عند ما تكون الاجزاء المقارنة في فترات زمنية مختلفة.
- عندما نرغب في توضيح قيم الاجزاء المقارنة المختلفة للظاهرة موضع البحث وذلك من أجل ابراز المقارنة بين هذه الأجزاء أو توضيح التغير أو التطور عبر الزمن سواء لظاهرة واحدة أو عدة ظواهر بين فترات زمنية مختلفة.
- غالباً ما ينصح باستعمال الأعمدة البيانية (بأنواعها المختلفة) مع المتغيرات المنفصلة.

٣- المنحنى أو الخط البياني:

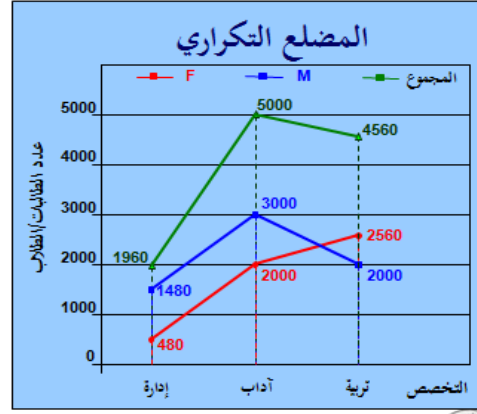
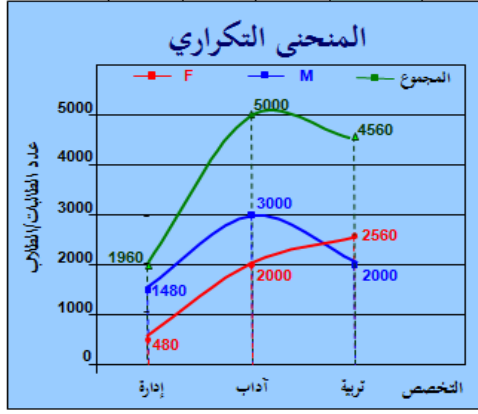
يستخدم المنحنى أو الخط البياني أساساً لتوضيح الاتجاه العام للظاهرة خلال فترة من الزمن، ويستخدم هذا النوع من الرسم البياني لتمثيل الظواهر ذات البيانات المتصلة (غالباً)، وكذلك

يمكن استخدامه مع البيانات المنفصلة.

كما يمكن استخدام الخط أو المنحنى البياني لتمثيل أكثر من ظاهرة على نفس الرسم ومقارنتها ببعضها.

المجموع	M	F	
1960	1480	480	إدارة أعمال
5000	3000	2000	آداب
4560	2000	2560	تربية خاصة

أيضاً نود التنويه أنه يمكن تمثيل جميع البيانات بطريقة الخط البياني أو المنحني البياني كما هو مبين



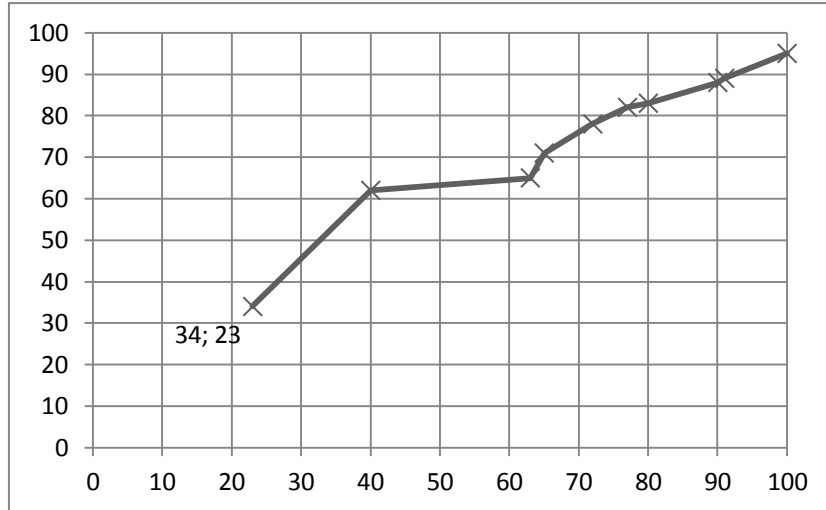
مثال: البيانات التالية لدرجات عشر طلاب بكلية العلوم الإدارية في مقرري الرياضيات والمحاسبة، فكانت كما يلي:

رقم الطالب	1	2	3	4	5	6	7	8	9	10
درجات الرياضيات	23	40	63	65	72	77	80	90	91	100
درجات المحاسبة	34	62	65	71	78	82	83	88	89	95

المطلوب:

استخدام المنحني أو الخط البياني لتمثيل هذه البيانات (درجات مقرر الرياضيات ودرجات مقرر المحاسبة).

الحل /بطريقة الخط البياني

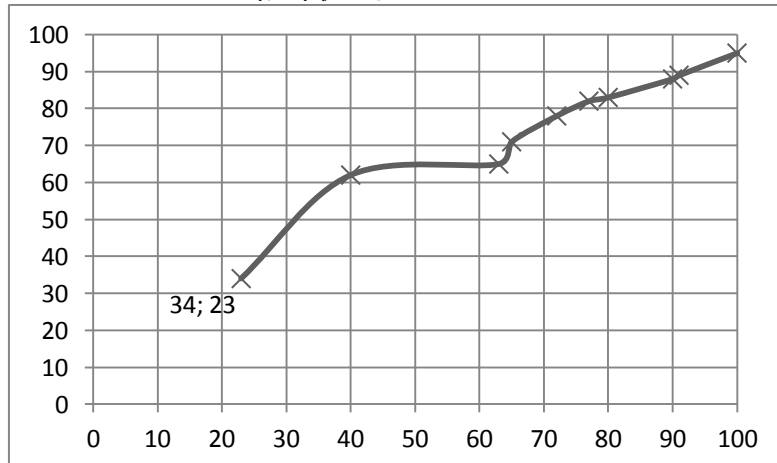


توضيح:

طريقة تحديد النقاط
مثلاً في درجه من
درجات الرياضيات
مثل (٢٣) ودرجه من
درجات المحاسبة (٣٤)
نشوف وين يلتقون
ونضع نقطه او اكس زي
ما انا مسويه والباقي
نفس الشي

درجات الرياضيات

الحل /بطريقة المنحني البياني (بدوي)



درجات الرياضيات

مثال: لوكانت لدينا البيانات التالية:

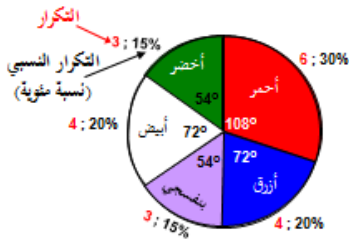
x	f	الزاوية
أحمر	6	108
أزرق	4	72
بنفسجي	3	54
أبيض	4	72
أخضر	3	54

المطلوب: مثل البيانات السابقة بـ:

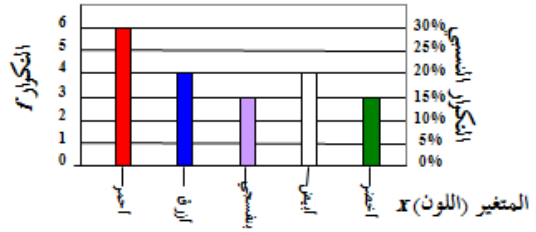
- الأعمدة البسيطة
- الخط البياني
- المنحنى البياني
- اللوحة الدائرية

الحل/

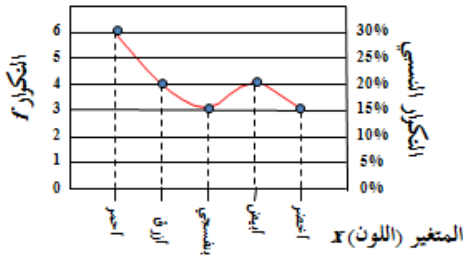
تمثيل البيانات بطريقة اللوحة الدائرية



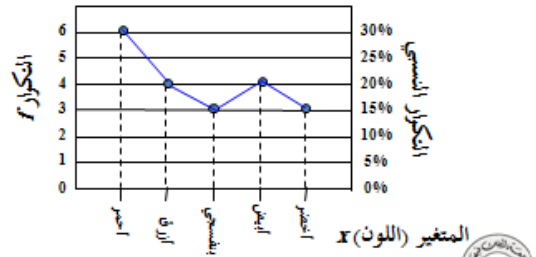
تمثيل البيانات بطريقة الأعمدة البسيطة



تمثيل البيانات المنحنى البياني



تمثيل البيانات بطريقة الخط البياني



ملاحظات على المنحنى والخط البياني:

- الرسم بالخط البياني أو المنحنى يتطلب جهداً أقل من الوقت والجهد اللذين يتطلبهما رسم الأعمدة البيانية بأنواعها المختلفة.
- يسهل الخط البياني أو المنحنى المقارنة على القارئ.
- يمكن استخدام الخط البياني أو المنحنى (كما في الأعمدة البيانية) لتمثيل أكثر من ظاهرة على نفس الرسم ومقارنتها ببعضها.

مزايا وعيوب الرسوم البيانية:

المزايا:

- تثير انتباه المشاهد خاصة إذا كانت جيدة التصميم.
- توفر وقت المشاهدة إذ أن استنباط الحقائق من الرسوم البيانية أسرع من الوصول إليها بواسطة الأرقام الموضوعية في جداول.
- إمكانية معرفة الاتجاهات العامة للظواهر.
- سهولة فهم وتذكر العلاقات بين الظواهر محل الدراسة.

العيوب:

- التوضيح بدقة البيانات إذ أن الرسوم توضح فقط التغيرات العامة للظواهر ولا تبين التفاصيل الدقيقة لها.
- أحياناً تكون الرسوم معقدة، خاصة إذا كانت تشتمل على مجموعات من البيانات المتباينة.
- كثرة التكاليف خاصة إذا كانت البيانات تحتاج إلى مقياس رسم كبير.

س ١ : الجدول المقابل يبين الجدول التكراري لأعمار عدد من الممرضات (لأقرب سنة) اللاتي يعملن في أحد أقسام إحدى المستشفيات ، من هذا الجدول أجب على الأسئلة التالية :

المتغير (العمر) x	التكرار (العدد) f	الزاوية المركزية
20	20	72°
25	?	36°
30	30	?
35	?	?
Σf		

$$\begin{aligned} 72 \times ? &= 36 \times 20 \\ 72 \times ? &= 720 \\ 10 &= 720 \div 72 \end{aligned}$$

هامش للإجابة

(أ-١) هناك تناسب بين التكرار والزاوية المركزية ، إذن : $72 \times ? = 36 \times 20$ ، $\therefore ? = 10$

$$\begin{aligned} 72 \times 30 &= ? \times 20 \\ 2160 &= ? \times 20 \\ 20 \div 2160 &= 108 \end{aligned}$$

(ب-١) بنفس الأسلوب السابق $72 \times 30 = ? \times 20$ ، $\therefore ? = 108^\circ$

(ج-١) مجموع الزوايا المركزية يجب أن يكون 360° $\therefore 72 + 36 + 108 + ? = 360$ ، $\therefore ? = 144^\circ$

$$\begin{aligned} 360 \times 20 &= 72 \times ? \\ 7200 &= 72 \times ? \\ 72 \div 7200 &= 100 \end{aligned}$$

(د-١) هناك أكثر من طريقة أبرزها الأسلوب المشع في الجزئين (أ) ، (ب) : $360 \times 20 = 72 \times \Sigma f$ ، $\therefore \Sigma f = 100$

(أ) عدد الممرضات ذات العمر 25 سنة هو :

40 30 20 10

(ب) الزاوية المركزية المناظرة للعمر 30 سنة هي :

144° 108° 72° 36°

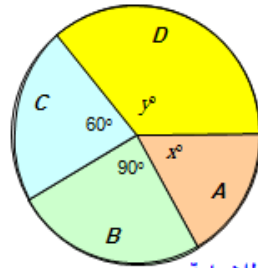
(ج) الزاوية المركزية المناظرة للعمر 35 سنة هي :

144° 108° 72° 36°

(د) عدد الممرضات الكلي [أي مجموع التكرارات Σf] هو :

110 105 100 95

س ٢ : الشكل المقابل يبين مبيعات أربع شركات A, B, C, D (لبيع لعب الأطفال) وذلك خلال عيد الفطر المبارك ، فإذا كان عدد اللعب الكلي التي تم بيعها بواسطة هذه الشركات هو 5400 لعبة ، أجب على الأسئلة التالية :



هامش للإجابة

(أ-٢) $360 \times ? = 90 \times 100$ ، $? = 25\%$

(ب-٢) $\frac{25}{100} \times 5400 = 1350$

(ج-٢) الزاوية المركزية المناظرة لمبيعات الشركتين معاً تساوي $360 - (90 + 60) = 210^\circ$

$5400 \times \frac{210}{360} = 3150$

(أ) النسبة المئوية لمبيعات الشركة B هي :

60% 40% 30% 25%

(ب) عدد اللعب التي باعتها الشركة B هو :

1350 900 2250 2700

(ج) عدد اللعب التي باعتها الشركتان A, D معاً هو :

1350 3150 2250 900