

# المحاضرة الأولى

## أساسيات الاقتصاد الكلي

### الفصل الأول

#### المشكلة الاقتصادية

تتمثل المشكلة الاقتصادية في أن الموارد الاقتصادية محدودة مقارنة مع الحاجات غير المحدودة للمجتمعات البشرية، وهذا ما يعبر عنه الاقتصاديون بمشكلة الندرة (Scarcity).

الندرة: هي مقياس نسبي، فندرة الموارد لا تعني أنها غير موجودة أو قليلة و الا قلنا شح الموارد ولكن تعني قلة الموارد المتاحة أو المعروضة بالنسبة للطلب عليها أو الحاجة إليها.

#### تعريف علم الاقتصاد

هو أحد العلوم الاجتماعية أو الإنسانية الذي يدرس كيفية توظيف الموارد الاقتصادية أو عناصر الإنتاج (العمل، رأس المال، الموارد الطبيعية، التنظيم) لإنتاج السلع والخدمات التي تشبع حاجات أفراد المجتمع المتعددة. ✓ كما يمكن تعريفه على أنه : العلم الذي يبحث في الطريقة المثلى لاستغلال الموارد النادرة، بحيث يتم تحقيق أكبر قدر ممكن من حاجات المجتمع، أي تحقيق أعلى مستوى من رفاهية المجتمع.

#### أقسام علم الاقتصاد

- وينقسم منهجياً علم الاقتصاد إلى قسمين هما: ( فهو لا ينقسم في الواقع فالتفريق نظري فقط )
1. **الاقتصاد الجزئي**: هو دراسة الاقتصاد على مستوى وحدة اتخاذ القرار، أي دراسة سلوك المستهلك وسلوك المنشأة في أسواق السلع وفي أسواق عناصر الإنتاج
  2. **الاقتصاد الكلي**: هو دراسة الاقتصاد على المستوى الكلي حيث ينصب الاهتمام بالطلب الكلي، والناج أو العرض الكلي، والمستوى العام للأسعار والتضخم، ومستوى العمالة والنمو الاقتصادي، والتوازن في ميزانية الدولة والتوازن في ميزان المدفوعات والتنمية الاقتصادية.

#### نشوء وتطور علم الاقتصاد

معلومة: الاقتصاد أو النظام الاقتصادي له ثلاثة أنواع:

- 1) النظام الاقتصادي الإسلامي
- 2) النظام الاقتصادي الاشتراكي ( زال وانتهى )
- 3) النظام الرأسمالي ( الليبرالي المطبق الآن تقريباً في جميع دول العالم ) وهو الاقتصاد الكلي .

#### 1. المدرسة الكلاسيكية:

أهم مؤسسيها هو آدم سميث (1776)، ويتلخص فكرها في:

- اليد الخفية (The Invisible Hand) تحرك النشاط الاقتصادي.
- قانون ساي (Say's Law) والتوازن التلقائي للاقتصاد عند التوظيف الكامل.
- الحرية الاقتصادية، وعدم الحاجة لتدخل الدولة.

## ٢. المدرسة الكينزية:

مؤسسها جون مينارد كينز (١٩٣٦)، ويتلخص فكرها في:

- توازن الاقتصاد عند مستوى أقل من التوظيف الكامل في حالة الكساد.
- ضرورة تدخل الحكومة باستخدام السياسة المالية لمعالجة الكساد الاقتصادي.

الكساد: هو تفوق العرض على الطلب.

## ٣. المدرسة النقدية الحديثة

مؤسسها ميلتون فريدمان (١٩٥٧)، ويتلخص فكرها في:

- التضخم ظاهرة نقدية.
- السياسة المالية لا فاعلية لها ما لم تدعمها سياسة نقدية.

التضخم: هو الارتفاع المستمر في المستوى العام بجميع السلع والخدمات على المستوى الوطني. أي أنه كلما تفوقت الكتلة النقدية على الكتلة السلعية فنكون في حالة تضخم.

## ٤. مدرسة التوقعات الرشيدة

مؤسسها روبرت لوكس وتوماس سيرجنت (١٩٧٠-١٩٨٠) ويتلخص فكرها في:

- السياسات الاقتصادية غير المتوقعة فقط هي التي تؤثر في المتغيرات الاقتصادية الحقيقية، أي الناتج الحقيقي ومعدل البطالة.

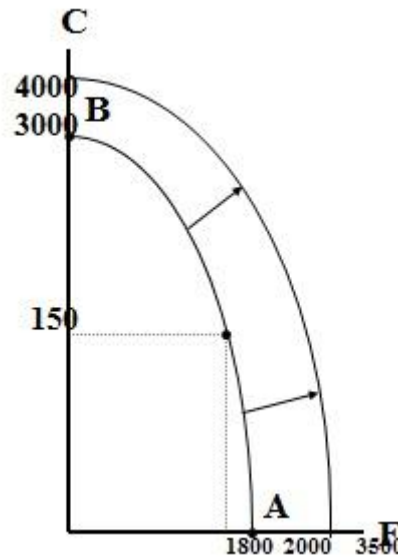
## النمو الإقتصادي:

يعرف النمو الاقتصادي على أنه الزيادة المستمرة في الناتج القومي الحقيقي من سنة إلى أخرى.

كما نلاحظ أن استمرار النمو الاقتصادي أمر مرهون بإمكانية تحقيق كل من :

- تنمية الموارد: باستصلاح الأراضي أو تنمية الموارد النفطية وتنمية كل من رأس المال البشري ورأس المال المادي.
- التقدم التقني: ويتم بالاستثمار في البحوث والتطوير بهدف استخدام تقنيات أحدث في الإنتاج.

✓ ويظهر النمو الاقتصادي بيانياً بانتقال منحني إمكانيات الإنتاج إلى الخارج من جهة اليمين في الشكل (١-١).



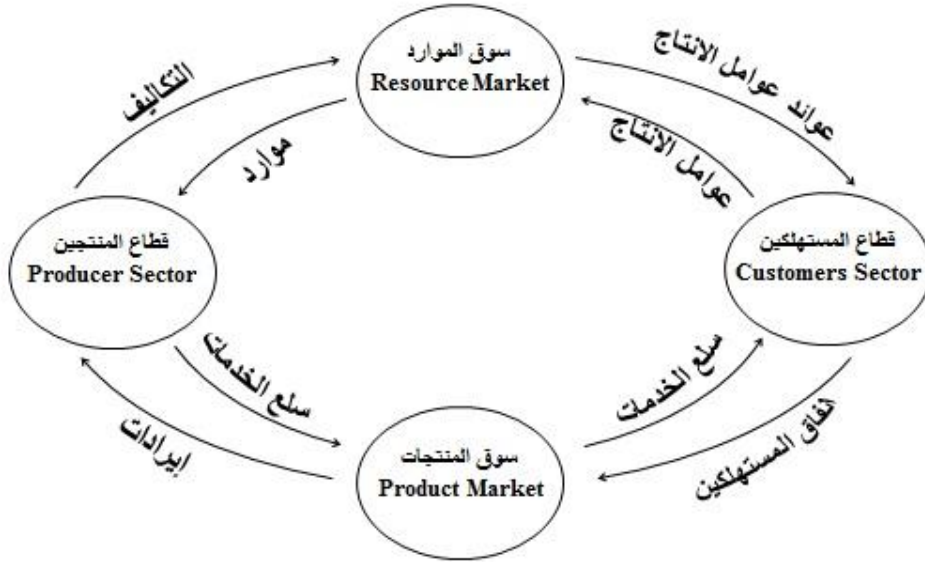
الشكل (١-١):

ينتقل منحني إمكانيات الإنتاج إلى الخارج في حالة النمو الاقتصادي الذي ينتج عن زيادة رصيد الاقتصاد من الموارد خاصة الرأسمالية أو بالتقدم التقني.

## التدفق الدائري للإنتاج والدخل

يعتمد مستوى الأداء الاقتصادي لبلد معين على تدفق الدخل والإنتاج بين القطاعات الرئيسية الأربعة.  
(١) الأسر التي تستهلك. (٢) المؤسسات التي تنتج. (٣) البنوك التي تمول. (٤) الحكومة التي تنظم.

ولأجل التبسيط نبدأ باقتصاد افتراضي من قطاعين، قطاع منتجين وقطاع مستهلكين يتم التبادل بينهما عن طريق أسواق عوامل الإنتاج وأسواق السلع والخدمات، بافتراض عدم الادخار. وتمثل عملية المبادلة هذه القاعدة الأساسية لتدفق الدخل في الاقتصاد القومي، كما يتضح من الشكل (٢-١).



الشكل (٢-١):

التدفق الدائري للإنتاج والدخل : يلاحظ تعادل الانفاق الكلي مع الدخل الكلي أو عوائد عوامل الإنتاج ( بافتراض عدم الادخار) مع قيمة الناتج المحلي الإجمالي ممثلة بإيرادات قطاع المنتجين.

## دور القطاع الحكومي:

يتمثل تأثير دور الحكومة في تأثير كل من الإيرادات التي تحصل عليها من الضرائب والرسوم والإنفاق التي تقوم بها في مختلف المجالات.

### ١. حالة السلع والخدمات العامة:

السلع العامة: هي تلك التي تستهلك جماعياً ومتى ما أنتجت تصبح متاحة للجميع بدون مقابل ولا يمكن حرمان أحد من استهلاكها. ( المطارات - الموانئ - الطرقات - الحدائق العامة )

### ٢. حالة التأثيرات الخارجية:

هي الحالات التي يترتب على النشاط الإنتاجي أو الاستهلاكي فيها آثار خارجية :  
(١) آثار خارجية نافعة كما في حالة التعليم وما يترتب عليه من فوائد للمجتمع.  
(٢) آثار خارجية ضارة كما في حالة المصنع الذي يتسبب في التلوث البيئي.

### ٣. حالة الاحتكار الطبيعي:

وهي حالة انفراد منشأة كبيرة واحدة بالسوق وغياب المنافسين نتيجة لتمتع هذه المنشأة بخاصية تناقص تكلفت إنتاج الوحدة باستمرار مع التوسع في الإنتاج. ( كلما زاد الإنتاج انخفضت التكلفة )

## الموارد الاقتصادية:

تشمل الموارد الاقتصادية جميع مستلزمات عملية الإنتاج ، وهي :

- ١) الأرض: جميع الموارد الطبيعية
- ٢) العمل: القوى العاملة وما تملكه من كفاءات ومهارات وعلم وخبرات علمية.
- ٣) رأس المال: موارد من صنع الإنسان كالآلات والمعدات والمباني.
- ٤) التنظيم: ويتمثل في القدرة على ابتكار الأعمال والأقدام وتحمل المخاطر وتحقيق النجاحات.

## السياسة الاقتصادية:

تتمثل السياسة الاقتصادية في استخدام مجموعة من الأدوات، يتم بها التأثير بطريقة غير مباشرة على سلوك وحدات صنع القرار بهدف تحقيق أهداف اقتصادية معينة.

## العلاقة بين أهداف ووسائل السياسة الاقتصادية:

- يجب أن يكون هناك تطابق وتناسق ما بين أهداف ووسائل السياسة الاقتصادية
- فهدف محاربة الفقر-مثلا- لا بد له من سياسات لتوفير فرص العمل، ورفع الكفاءة الإنتاجية للعمال.
  - وهدف زيادة معدل النمو الاقتصادي يحتاج إلى سياسات لتحفيز الاستثمار الحقيقي والاستثمار في البحوث والتطوير.

نهاية المحاضرة الاولى

## حل اسئلة الكتاب

صح / خطأ

- ١- مشكلة الندرة هي المشكلة الاقتصادية التي تواجه الاقطار الفقيرة فقط ( خطأ )
- ٢- من اهتمامات الاقتصاد الكلي تلك التي تتعلق بتحديد العوامل المؤثرة على مستوى الدخل القومي. ( صح )
- ٣- الموارد الاقتصادية محدودة وكذلك احتياجات المجتمعات . ( خطأ )
- ٤- تطور النظرية الاقتصادية الكلية حدث خلال فترة الكساد الكبير عام ١٩٢٩-١٩٣٣ . ( خطأ )
- ٥- يتسم التطور في علم الاقتصاد بالديناميكية والتجديد المستمر. ( صح )

اختر الاجابة الصحيحة:

١- الاقتصاد المعياري: أ- يهتم بدراسة ما يجب ان يكون. ب- يهتم بالاقتصاد الصناعي. ج- يهتم بدراسة ما هو كائن. د- جميع الاجابات السابقة غير صحيحة.	٢- دراسة الكيفية التي يتم بموجبها اتخاذ القرارات الاقتصادية للمنشأة هي من اهتمامات: أ الاقتصاد الكلي. ب الاقتصاد الجزئي. ج الاقتصاد الدولي. د الاجابتان أ و ج كلاهما صحيحة.	٣- يعتبر حدوث الكساد الكبير دليلاً على أ. فشل النظرية الكينزية. ب. فشل النظرية الكلاسيكية. ج. فشل التدخل الحكومي في الاقتصادية. د. صحة توقعات النظرية الكلاسيكية.
٤- يهتم علم الاقتصاد بدراسة مايلي ما عدا أ. الظواهر الطبيعية. ب. سلوك المستهلكين. ج. اقتصاديات الرفاهية د. علاقة علم الاقتصاد بالعلوم الاخرى.	٥- الندرة مشكلة أ. تواجه الفقراء فقط ب. تواجه الفقراء والاعنياء ج. ليس لها حل د. الاجابتان ب و ج كلاهما صحيحة	٦- يؤدي النمو الاقتصادي الى أ- زيادة نسبة البطالة. ب- التخلص من مشكلة الندرة. ج- انخفاض الاستثمار. د- انتقال منحني (PPF) الى اليمين.



# المحاضرة الثانية

## الحسابات القومية والنمو الاقتصادي

### الفصل الثاني

يوجد قيمة غير سوقية وهي  
قيمة المنتج في المصنع.

#### النتاج المحلي الإجمالي؛

يقصد بالنتاج المحلي الإجمالي (Gross Domestic Product – GDP)؛

القيمة السوقية (القيمة في السوق بالأسعار الجارية) لجميع السلع والخدمات النهائية المنتجة في قطر معين وفي فترة زمنية معينة.

المقصود بالسلع والخدمات النهائية: السلع التي توجه في النهاية الأمر إلى المستهلك لا إلى إنتاج سلعة أخرى.. ولا إلى استخدام خدمة أخرى.

✓ يعتبر الإنتاج المحلي الإجمالي من أهم المؤشرات الاقتصادية المستخدمة لتحديد مستوى النشاط الاقتصادي واتجاه وسرعة نموه.

#### القيمة السوقية؛

نحصل على القيمة السوقية (Market Value) لأي سلعة أو خدمة بضرب الكمية المنتجة في سعرها الجاري في السوق.

ويطلق على الناتج المقوم بالأسعار الجارية، الناتج المحلي الإجمالي بالأسعار الجارية (Current Price GDP) أي الناتج المحلي الاسمي (Nominal GDP).

#### السلع والخدمات النهائية (Final Goods)؛

١) السلع الاستهلاكية. ٢) الصادرات. ٣) السلع الاستثمارية (آلات ومعدات ومباني وطرق وسدود وما شابه). ٤) الزيادة في المخزون من السلع المختلفة.

#### السلع الوسيطة (Intermediate Goods)؛

هي السلع التي يتم إنتاجها بواسطة منشأة معينة لتستخدمها منشأة أخرى كعنصر إنتاج (Input) في إنتاج سلعة أو خدمة نهائية أخرى.

#### الحساب المزدوج؛

إذا احتسبت قيمة السلع الوسيطة في حساب الناتج المحلي الإجمالي، فإنها تحتسب مرتين، مرة كسلعة وسيطة ومرة أخرى كجزء من قيمة السلعة النهائية. ويعرف ذلك بالحساب المزدوج (Double Counting) ويتسبب في تضخيم قيمة الناتج المحلي الإجمالي بما يفوق حقيقته.

#### طريقة القيمة المضافة؛

تستخدم طريقة القيمة المضافة (Value Added) لتجنب الوقوع في خطأ الحساب المزدوج؛ حيث يتم تجميع القيمة المضافة في كل مرحلة من مراحل الإنتاج. والقيمة الإجمالية المضافة من السلع الوسيطة هي قيمة السلعة النهائية.

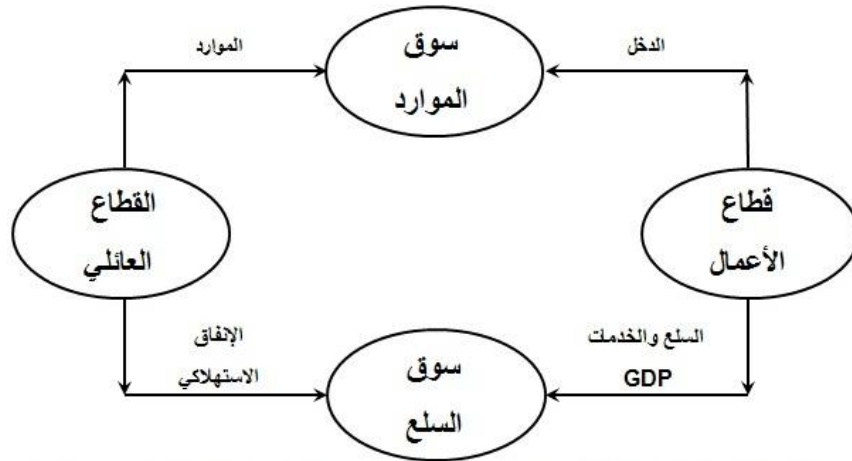
✓ القيمة المضافة = قيمة الإنتاج - قيمة السلع الوسيطة

فالقيمة المضافة مقياس آخر للنتائج المحلي الإجمالي، كما هو مبين في الجدول التالي :

القيمة المضافة (٣)	قيمة الإنتاج (٢)	مراحل الإنتاج (١)
٢٠٠	٢٠٠	١. القمح
١٠٠	٣٠٠	٢. الطحين
١٠٠	٤٠٠	٣. الخبز
٤٠٠	٩٠٠	المجموع

### السلع والخدمات المنتجة محلياً:

- لقياس قيمة الناتج المحلي الإجمالي يتم حساب قيمة السلع والخدمات النهائية الجديدة المنتجة خلال فترة زمنية معينة وهي سنة عادة داخل الحدود الجغرافية للدولة فقط. (أي كان المنتج مواطن أو اجنبي)
- أما عمليات شراء وبيع السلع المستعملة التي تم إنتاجها في سنوات سابقة فلا تدخل في تقدير قيمة الناتج المحلي الإجمالي للسنة الحالية.



### يوضح الشكل أعلاه :

- التدفق المالي للدخل من قطاع الأعمال إلى القطاع العائلي والإنفاق من القطاع العائلي إلى قطاع الأعمال والتدفق المادي للنتائج المحلي الإجمالي من قطاع الأعمال إلى القطاع العائلي وتدفق الموارد من القطاع العائلي إلى قطاع الأعمال.

### شروط توازن الاقتصاد الكلي:

التوازن الاقتصادي هو حالة من الاستقرار حيث تنعدم القوى الدافعة للتغيير.

- ✓ يتحقق توازن الاقتصاد الكلي في نموذج التدفق الدائري للدخل والإنفاق عندما يتعادل الدخل (Y) مع الإنفاق الذي يقتصر في هذا النموذج على الإنفاق الاستهلاكي (C) لذلك يكون الاقتصاد في حالة توازن دائم نتيجة لافتراض عدم وجود المدخرات.

✓ إذا افترضنا أن القطاع العائلي يدخر جزء من دخله:  
فستكون هذه المدخرات متاحة عن طريق القطاع المالي (البنوك التجارية والمؤسسات المالية الوسيطة الأخرى) لقطاع الأعمال لتمويل الاستثمار (I).  
في هذه الحالة يتحقق توازن الاقتصاد الكلي عندما يتعادل الدخل مع إجمالي الإنفاق الاستهلاكي والاستثماري، أي عندما تكون  $(Y = C + I)$ .

### الإنفاق الحكومي:

يؤثر الإنفاق الحكومي بدرجة كبيرة على مستوى النشاط الاقتصادي عن طريق التأثير في الطلب الكلي. ويقسم الإنفاق الحكومي إلى قسمين :

(١) الإنفاق الجاري (Current Expenditure)

(٢) الإنفاق الاستثماري (Investment Expenditure).

### صافي الصادرات من السلع والخدمات

▪ يقصد بالصادرات (Exports) ذلك الجزء من الناتج المحلي الإجمالي الذي يتم بيعه إلى الأقطار الأخرى.  
▪ أما الواردات (Imports) فهي السلع والخدمات التي يتم جلبها من الخارج.  
✓ ويطلق على الفرق بين قيمة الصادرات وقيمة الواردات (X-M)، صافي الصادرات (Net Exports)، أو الميزان التجاري (Balance of Trade).

❖ يتضح من السابق أن المنشآت تقوم ببيع الناتج المحلي الإجمالي للمستهلكين من خلال أسواق السلع، وينفق المستهلكون ما يعادل قيمة الناتج على شرائه، ولما كان القطاع العائلي في هذا النموذج لا يدخر، فإن الإنفاق يتعادل أيضاً مع الدخل.  
أي أن كل دينار من الناتج يولد دخلاً تعادله لأفراد المجتمع ويؤدي إلى إنفاق إجمالي بمقدار الدينار أيضاً في غياب الادخار، وبالتالي يكون :

**الناتج المحلي الإجمالي (GDP) = إجمالي الإنفاق = إجمالي الدخل المحلي**

### طرق قياس الناتج المحلي الإجمالي هي:

(١) طريقة الناتج. (٢) طريقة الدخل. (٣) طريقة الإنفاق.

#### ١. طريقة الناتج: (Product Method)

جمع قيم السلع والخدمات النهائية المنتجة محلياً في سنة معينة، ويتم تقدير الناتج بضرب الكمية المنتجة من كل سلعة أو خدمة في سعر الوحدة منها السائد في أسواق التجزئة.

**الناتج المحلي الإجمالي = [الكميات × الاسعار] مجموع جميع السلع والخدمات النهائية.**

## ٢. طريقة الدخل (Income Method)

جمع الدخول المتحققة لأفراد المجتمع لقاء مساهمتهم في الإنتاج مضافاً إليها الضرائب غير المباشرة واهتلاكات الأصول الثابتة (Capital Depreciation) ومطروحاً منها الإعانات الحكومية غير المباشرة ( Indirect Government Subsidies). كما هو مبين في الجدول التالي :

جدول (٢-١) : الناتج المحلي الإجمالي بطريقة الدخل

%GDP	الدخل	بنود الدخل
٥٨.٥	٤٩٨١	دخول العاملين
٥.٣	٤٤٩	صافي الفائدة
١.٩	١٦٣	دخل الإيجارات
٩.٧	٨٢٥	أرباح الشركات
٦.٨	٥٧٧	دخول المالكين للأعمال الصغيرة
٩.٥	٨٠٨	زائد الضرائب غير المباشرة
٢.٣-	٢٠٠-	ناقصاً الإعانات غير المباشرة
١٠.٦	٩٠٨	إهلاكات الأصول الثابتة
١٠٠	٨٥١١	الناتج المحلي الإجمالي



## ٣. طريقة الإنفاق (Expenditure Method):

يوضح الجدول التالي كيفية قياس الناتج المحلي الإجمالي بطريقة الإنفاق ، وتم ذلك بجمع الإنفاق على السلع والخدمات النهائية الجديدة أو الإنفاق على GDP من قبل القطاعات الاقتصادية المختلفة وفق المعادلة التالية:

$$GDP = C + I + G + X - M$$



(C) : الإنفاق الاستهلاكي.

(I) : الإنفاق الاستثماري.

(G) : الإنفاق الحكومي على السلع والخدمات.

(X) : الصادرات.

(M) : الواردات.

جدول (٣-١) : الناتج المحلي الإجمالي بطريقة الإنفاق

(الإنفاق بملايين الدينارات في سنة ٢٠٠٣)

%GDP	الإنفاق	بنود الإنفاق
٦٨.٢	٥٨٠٨	الإنفاق الاستهلاكي
١٦.١	١٣٦٧	الاستثمار الخاص
١٧.٥	١٤٨٧	الإنفاق الحكومي
-١.٨	-١٥١	صافي الصادرات
١٠٠	٨٥١١	الناتج المحلي الإجمالي

نهاية المحاضرة الثاني

## حل أسئلة الكتاب

صح / خطأ

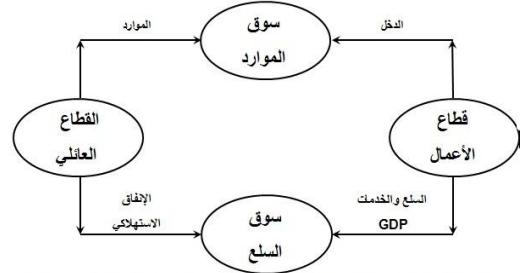
- ١- السلعة الوسيطة هي السلعة التي يتم إنتاجها من قبل منشأة معينة وتشتريها منشأة أخرى لاستخدامها كأحد المدخلات لإنتاج سلعة أخرى (صح)
- ٢- يتسبب الاحتساب المزدوج لقيمة السلع الوسيطة في تضخيم قيمة الناتج المحلي الإجمالي نتيجة لاحتساب قيم السلع الوسيطة لأكثر من مرة (صح)
- ٣- تحسب المدفوعات التحويلية في تقدير الناتج المحلي الإجمالي (خطأ)
- ٤- يقاس النمو الاقتصادي بمعدل الزيادة في الناتج المحلي الإجمالي الاسمي (خطأ)
- ٥- يمكن حساب الاجور الحقيقية بقسمة الاجور النقدية على الرقم القياسي لاسعار المستهلك. (صح)

اختر الاجابة الصحيحة:

- ١- أي من الفقرات التالية تدخل في حساب الناتج المحلي الإجمالي بطريقة الدخل:
  - أ. شراء وبيع الاسهم والسندات
  - ب. دخل الأيجارات
  - ج. شراء وبيع السلع والمستعملات
  - د. لا شيء مما سبق
- ٢- احد العوامل المحددة للنمو الاقتصادي الذي يمكن قياسه بصورة مباشرة هو
  - أ. التقدم التقني
  - ب. تكوين رأس المال
  - ج. تحسين نوعية الموارد البشرية
  - د. تحسين نوعية الموارد الطبيعية

## اسئلة من الاختبارات الماضية

- ١- يستثنى من السلع والخدمات النهائية مايلي ..
  - أ- السلع التي تنتج كي تستخدم وتفنن وتتحول الى سلع اخرى
  - ب- السلع الاستهلاكية
  - ج- الآلات والمعدات والمباني
  - د- الصادرات



- ٢- في الشكل اعلاه: فإن التدفق المالي لـ..... من قطاع الأعمال إلى القطاع العائلي و..... من القطاع العائلي إلى قطاع الأعمال والتدفق..... للناتج المحلي الإجمالي من قطاع الأعمال إلى القطاع العائلي وتدفق..... من القطاع العائلي إلى قطاع الأعمال.
  - أ- الدخل - الانفاق - المادي - الموارد
  - ب- الانفاق - الدخل - المادي - الموارد
  - ج- الدخل - العمل - المادي - الموارد
  - د- الموارد - العمل - المالي - الموارد

- ٣- يقاس GDP بطريقة الانفاق ( من الشمال الى الجنوب ) كما يلي....

- أ-  $C - I + G + X - M$
- ب-  $C - I + G + M - X$
- ج-  $C + I - G + X - M$
- د-  $C + I + G + X - M$

- ٤- يعرف GDP بأنه:

- أ- مجموع السلع والخدمات النهائية المنتجة محلياً في سنة معينة.
- ب- مجموع من القيمة السوقية للسلع والخدمات النهائية والوسيطات المنتجة محلياً في سنة معينة
- ج- مجموع القيمة السوقية للسلع والخدمات النهائية المنتجة محلياً في سنة معينة.
- د- مجموع القيمة السوقية للسلع والخدمات النهائية المنتجة محلياً وخارجياً في سنة معينة.

%GDP	الدخل	بتنود الدخل
		دخول العاملين
		صافي الفائدة
		.....
		أرباح الشركات
		دخول المالكين للأعمال الصغيرة
		زائد الضرائب غير المباشرة
		.....
		إهلاكات الأصول الثابتة
		.....

٥- يتم إكمال فراغات الجدول على التوالي ب.....

- أ- دخل المنشآت - زائد الاقتطاعات غير المباشرة - الناتج القومي الاجمالي.  
 ب- دخل البنوك - ناقصاً الاقتطاعات المباشرة - الناتج المحلي الصافي.  
 ج- دخل الايجارات - ناقصاً الاعانات غير المباشرة - الناتج المحلي الاجمالي.  
 د- دخل الاسر - زائد مداخيل الافراد - الناتج الاجمالي الصافي.

٦- مجموع القيم المضافة لجميع المراحل الانتاجية لسلعة ما

- أ- يقل عن سعر السلعة في السوق.  
 ب- يزيد عن سعر السلعة في السوق.  
 ج- يساوي سعر السلعة في السوق.  
 د- يؤدي الى الاحتساب المزدوج.

٧- التوازن الاقتصادي هو حالة من ..... حيث تنعدم القوى الداخلية الدافعة .....

- أ- الاستثمار ، للتطوير  
 ب- التطوير ، للاستثمار  
 ج- الاستقرار ، للتغيير  
 د- التغيير ، للاستقرار

٨- لا يختلف مفهوم توازن الاقتصاد الكلي عن:

- أ- التوازن في جميع المعادلات الرياضية  
 ب- التوازن في المقاييس والأوزان المختلفة  
 ج- التوازن في سوق السلع والخدمات  
 د- التوازن في المسافات والأبعاد

٩- في الجدول أدناه وبافتراض اقتصاد ينتج سلعتين ١ و ٢ الناتج المحلي النقدي في سنتي ٢٠٠٨ و ٢٠٠٩ هما على التوالي :

السنة	P1	Q1	P2	Q2
2008	50	100	10	40
2009	70	150	20	55

- أ- ٤٥٠٠ و ٩٦٧٠  
 ب- ٥٤٠٠ و ١١٦٠٠  
 ج- ٥٤٠٠ و ١١٩٠٠  
 د- ٦٧٠٠ و ١١٦٠٠

١٠- من الجدول اعلاه ومن خلال التغيير الذي طرأ على الناتج المحلي الاجمالي النقدي بين عامي ٢٠٠٨ و ٢٠٠٩ نستنتج أن رفاهية المجتمع

- أ- تدهورت  
 ب- تحسنت  
 ج- سواء تغيرت أم لم تتغير، لا يمكننا الحكم على ما حدث بالاعتماد على NGDP ( Nominal GDP )  
 د- لم تتغير

## المحاضرة الثالثة

### الحسابات القومية والنمو الاقتصادي

#### الفصل الثاني

#### الناتج القومي الإجمالي:

يشمل الناتج القومي الإجمالي (Gross National Product – GNP) العربي على قيمة جميع السلع والخدمات النهائية المنتجة من قبل الأفراد والشركات العربية، سواء تم الإنتاج في داخل أو خارج أقطار الوطن العربي.

- فالأرباح المتحققة للاستثمارات العربية في الخارج جزء من الناتج القومي الإجمالي العربي.
- بينما لا تعتبر الأرباح المتحققة للشركات الأجنبية العاملة في الأقطار العربية جزءاً من الناتج القومي الإجمالي العربي.

✓ من المتوقع أن يكون الناتج القومي الإجمالي العربي أكبر من الناتج المحلي الإجمالي العربي طالما كانت عوائد عناصر الإنتاج الأجنبية في أقطار الوطن العربي أقل من عوائد عناصر الإنتاج العربية في الخارج حيث أن :

$$GNP = GDP + NFI$$

**الناتج القومي السعودي هو**  
مجموع قيم السلع والخدمات  
النهائية المنتجة محلياً  
وخارجياً بواسطة المواطنين  
السعوديين.

GNP = الناتج القومي الإجمالي

GDP = الناتج المحلي الإجمالي

NFI = صافي عوائد عوامل الإنتاج في الخارج

#### الدخل المحلي الصافي:

يتم التوصل إلى الدخل المحلي الصافي بعد إضافة الإعانات غير المباشرة واستبعاد الضرائب غير المباشرة. أي طرح صافي الضرائب غير المباشرة من الناتج المحلي الصافي أي أن :

$$NDI = NDP - NIT$$

NDI = الدخل المحلي الصافي

NDP = الناتج المحلي الصافي

NIT = صافي الضرائب غير المباشرة

#### الناتج القومي الصافي:

يقاس الناتج الإجمالي الصافي بالفرق بين الناتج القومي الإجمالي وإهلاكات الأصول الثابتة أي أن :

$$NNP = GNP - Depreciation$$

NNP = الناتج القومي الصافي

GNP = الناتج القومي الإجمالي

Depreciation = صافي الضرائب غير المباشرة

## الدخل الشخصي:

يتم التوصل إلى الدخل الشخصي بالطريقة التالية:  
الدخل الشخصي = صافي الدخل المحلي - الضرائب على أرباح الشركات + الأرباح غير الموزعة +  
استقطاعات الضمان الاجتماعي + مدفوعات الضمان الاجتماعي وتعويضات البطالة والمساعدات الحكومية  
للأسر الفقيرة + الفوائد على الدين العام.

## الدخل الشخصي المتاح:

هو الدخل الذي يملك الأفراد حق التصرف فيه بالإنفاق أو الادخار.

■ ويحسب الدخل الشخصي المتاح بطرح ضريبة الدخل الشخصي من الدخل الشخصي، أي أن:

**الدخل الشخصي المتاح = الدخل الشخصي - ضريبة الدخل الشخصي**

ويوضح الجدول التالي صيغة مبسطة لكيفية التوصل إلى مفاهيم الدخل المختلفة، ابتداء من الناتج المحلي الإجمالي وانتهاء بالدخل الشخصي المتاح، وتوزيعه بين الإنفاق الاستهلاكي والادخار، وذلك استناداً إلى بيانات تقديرية لاقتصاد الوطن العربي في سنة ٢٠٠٤.

الفقرة	مليار دولار أمريكي
١- الناتج المحلي الإجمالي بالأسعار الجارية	٨٠٠
(NFI) + صافي دخل عوامل الإنتاج من الخارج	١٠+
٢- الناتج القومي الإجمالي بالأسعار الجارية	٨١٠
- إهلاك رأس المال الثابت	١٤-
٣- الناتج القومي الصافي	٧٩٦
- الضرائب غير المباشرة	٥٦-
٤- الدخل القومي	٧٤٠
- الضرائب على أرباح الشركات	١٥-
- الأرباح غير الموزعة	٢٠-
- استقطاعات الضمان الاجتماعي	٥-
- دخل الاستثمارات الحكومية	١٠٠-
+ المدفوعات التحويلية	٢٠+
+ الفوائد على الدين العام	٥+
٥- الدخل الشخصي	٦٢٥
- ضريبة الدخل الشخصي	٥٠-
٦- الدخل الشخصي المتاح	٥٧٥
- الإنفاق الاستهلاكي الشخصي	٤٠٠-
- الفوائد على القروض الاستهلاكية	٨-
- صافي تحويلات غير المقيمين	١٥-
٧- الادخار الشخصي	١٤٨



## تغيرات الأسعار وتقدير الناتج الحقيقي؛

لا يقتصر التحليل الاقتصادي على دراسة التغيرات الاقتصادية في فترة زمنية معينة، بل يتعداه إلى دراسة التغيرات الاقتصادية التي تطرأ بين فترة زمنية وأخرى. وذلك لمعرفة العوامل التي تؤدي إلى مثل هذه التقلبات، وكذلك تحديد مدى التقدم الاقتصادي الذي حققه قطر معين، ونسبة التحسن الذي تحقق في مستوى معيشة الأفراد في هذا القطر خلال فترة معينة.

## الناتج المحلي النقدي والحقيقي؛

الناتج المحلي الإجمالي الحقيقي هو ما يتم احتسابه بعد استبعاد أثر التغير في الأسعار عند دراسة التقلبات في رفاه المجتمع.

مثال: إذا رفعت الحكومة الرواتب والأجور بنسبة ١٠٪ وفي المقابل ارتفعت الأسعار بنسبة ١٥٪ .

- هل نقول ان رفاهية المجتمع زادت ؟ الجواب لا .
- هل نقول ان مداخيل الافراد الحقيقية زادت ؟ الجواب لا .
- لكن مداخيل الافراد النقدية او الاسمية هي التي زادت .

## الرقم القياسي لأسعار المستهلك: (CPI)

يحسب الرقم القياسي لأسعار المستهلك بقسمة القيمة السوقية لكميات معينة من مجموعة من السلع والخدمات يطلق عليها السلّة السوقية لسنة معينة يطلق عليها سنة المقارنة أو السنة الجارية، على القيمة السوقية لذات السلّة من السلع والخدمات في سنة الأساس، وهي سنة تتصف الظروف الاقتصادية فيها بالاستقرار ويتم اختيارها كنقطة مرجعية، ويضرب الناتج في مائة.

- إذا وقع الاختيار مثلاً على سنة ١٩٩٢ كسنة أساس، أمكن حساب الرقم القياسي لأسعار المستهلك في سنة ٢٠٠٠ كالآتي :

$$\text{الرقم القياسي لتكاليف المستهلك} = \frac{\text{قيمة السلع السوقية في سنة (٢٠٠٠)}}{\text{قيمة السلع السوقية في سنة (١٩٩٢)}} \times 100$$

(سنة الأساس)



- ✓ يطلق على الرقم القياسي لأسعار المستهلك الرقم القياسي لتكاليف المعيشة.
- ✓ يعتبر مؤشراً هاماً لقياس نسبة التضخم
- ✓ وبالتالي تحديد الدخل الحقيقي أو القوة الشرائية للدخل النقدي.
- ✓ ويكتسب الرقم القياسي لأسعار المستهلك أهمية خاصة في الحياة العملية بالنسبة لتحديد الأجور والرواتب، خاصة في الأقطار المتقدمة. حيث تزيد الأجور بنسبة الزيادة في الرقم القياسي لأسعار المستهلك، حيث يتم حساب الأجر الحقيقي باستخدام المعادلة التالية :

$$\text{الأجر الحقيقي} = \frac{\text{الأجر النقدي}}{\text{الرقم القياسي لأسعار المستهلك}} \times 100$$

- كما يستخدم الرقم القياسي لأسعار المستهلك CPI في قياس معدل التضخم في الأسعار. فإذا زاد CPI من ١٢٠ في سنة ١٩٩٠ إلى ١٥٠ في سنة ٢٠٠٠ يكون معدل التضخم (IR) في سنة ٢٠٠٠ كما يلي :

$$\text{معدل التضخم (IR)} = \frac{\text{CPI}_{2000} - \text{CPI}_{1990}}{\text{CPI}_{1990}} \times 100$$

- وبالرغم من الاستخدام الواسع للرقم القياسي لأسعار المستهلك في قياس معدل التضخم، إلا أن هناك بعض التحفظات على مدى دقته كمؤشر للتضخم وذلك للأسباب التالية:
  - (١) التغيرات في الأنماط الاستهلاكية.
  - (٢) ظهور السلع والخدمات الجديدة.
  - (٣) التحسن في نوعية المنتجات.
  - (٤) تخفيضات الأسعار.

### مخفض الناتج المحلي الإجمالي:

هو رقم قياسي للأسعار المرجحة بكميات السلع والخدمات. ويعتبر أكثر شمولاً من الرقم القياسي لأسعار المستهلك، لأنه لا يشمل فقط على أسعار السلع والخدمات الاستهلاكية، بل يشمل كذلك على أسعار السلع الاستثمارية، وأسعار السلع والخدمات التي تشتريها الحكومة.

ويوضح الجدول التالي كيفية حساب الناتج المحلي الحقيقي عن طريق تقويم الكميات المنتجة من السلع والخدمات المكونة للناتج المحلي بالأسعار الثابتة لسنة الأساس ١٩٩٢.

ويمكن تحويل الناتج المحلي الاسمي إلى الناتج المحلي الحقيقي لأي سنة باستخدام المعادلة التالية:

$$\text{الناتج المحلي الحقيقي} = \frac{\text{الناتج المحلي الاسمي}}{\text{مخفض الناتج المحلي الإجمالي}} \times 100$$

السلع والخدمات	الناتج المحلي الإجمالي في سنة ١٩٩٢ (بالأسعار الجارية) = سنة الأساس			الناتج المحلي الإجمالي في سنة ٢٠٠٠ (بالأسعار الجارية)			الناتج المحلي الحقيقي في سنة ٢٠٠٠ (بالأسعار الثابتة)
	(١) الكمية	(٢) السعر	(٣) مجموع الإنفاق	(٤) الكمية	(٥) السعر	(٦) مجموع الإنفاق	
A	١٠	٣٠	٣٠٠	١٢	٣٥	٤٢٠	(٧) = (٤) × (٦)
B	٥	٢٠	١٠٠	٦	٣٠	١٨٠	
			٤٠٠			٦٠٠	٤٨٠

### النمو الاقتصادي:

يقاس النمو الاقتصادي بمعدل الزيادة في الناتج المحلي الإجمالي الحقيقي من سنة إلى أخرى. ويمكن قياس النمو الاقتصادي باستخدام الناتج المحلي الإجمالي الحقيقي على النحو التالي:

$$\text{معدل النمو الاقتصادي في سنة ٢٠٠٤} = \frac{\text{RDGP}_{2003} - \text{RDGP}_{2004}}{\text{RDGP}_{2003}} \times 100$$

كما تستخدم أرقام الناتج الحقيقي في قياس الناتج الحقيقي للفرد، الذي يعتبر مؤشراً لمستوى رفاهية المجتمع. ويقاس الناتج الحقيقي للفرد باستخدام المعادلة التالية:

$$\text{الناتج المحلي الحقيقي للفرد} = \frac{\text{الناتج المحلي الإجمالي الحقيقي}}{\text{عدد السكان}}$$

## مآخذ على استخدام معدل الناتج المحلي كمؤشر للرفاهية:

- ١- إن الناتج المحلي يمثل القيمة النقدية للسلع والخدمات التي يتم تسويقها، لذا فإنه لا يشمل على السلع والخدمات التي لا يتم تداولها في الأسواق، كالخدمات المنزلية التي تؤديها الزوجة وأعمال الصيانة التي يؤديها الزوج.
- ٢- تتجاهل الطريقة المتبعة في تقدير الناتج المحلي الإجمالي قيمة وقت الراحة الذي يستمتع به أفراد المجتمع ويسهم في زيادة رفاهيتهم.
- ٣- لا تعكس مقارنة الناتج المحلي للأقطار المختلفة صورة دقيقة لتباين مستويات الرفاهية الاجتماعية لسكان هذه الأقطار.
- ٤- لا تعكس الناتج المحلي الصورة الحقيقية لنمط توزيع الدخل والثروة في المجتمع.
- ٥- لا تأخذ طريقة تقدير الناتج المحلي بعين الاعتبار الآثار البيئية الضارة الناتجة عن النشاطات الاقتصادية.
- ٦- تختلف المجتمعات من حيث طبيعة وحدة المشكلات الاجتماعية التي تواجهها.
- ٧- لا يعكس تقدير الناتج المحلي الإجمالي الآثار السلبية للسلع التي تنتجها الأنشطة غير القانونية.
- ٨- أن معدل الدخل الفردي المقوم بالأسعار الجارية لم يعد مؤشراً دقيقاً لأغراض المقارنات الدولية وذلك لاختلاف مستويات تكاليف المعيشة بين الدول.

نهاية المحاضرة الثالثة

### حل اسئلة الكتاب

- ١- يزيد الناتج القومي الاجمالي عن الناتج القومي الصافي بـ ....
  - أ- حجم الضرائب المباشرة.
  - ب- المدفوعات التحويلية.
  - ج- الانفاق الحكومي على السلع والخدمات.
  - د- إهلاك رأس المال الثابت.
- ٢- الدخل الشخصي المتاح يساوي
  - أ- الدخل الشخصي زائداً ضرائب الدخل.
  - ب- الدخل الشخصي ناقصاً ضرائب الدخل.
  - ج- الدخل الشخصي زائداً إيرادات الاسهم.
  - د- الدخل الشخصي ناقصاً المدفوعات الحكومية.

### اسئلة الاختبار

- ١- عندما يبدأ معدل الاجر النقدي بالانخفاض ..... مستوى الاسعار.
  - أ ينخفض
  - ب يرتفع
  - ج لن يتأثر
  - د لا شئ مما ذكر
- ٢- المعادلة التالية  $100 \times \frac{\text{قيمة السلع السوقية في سنة المقارنة}}{\text{قيمة السلع السوقية في سنة الاساس}}$  تعبر عن :
  - أ- الرقم القياسي لأجر العامل
  - ب- الرقم القياسي لاسعار المستهلك
  - ج- الرقم القياسي لربح المنتج
  - د- لا شئ مما ذكر

٣- الناتج القومي السعودي في أي سنة هو مجموع قيم السلع والخدمات النهائية

- أ- المنتجات محلياً بواسطة المواطنين السعوديين.
- ب- المنتجات محلياً وخارجياً بواسطة السعوديين.
- ج- المنتجات محلياً بواسطة المواطنين السعوديين وغير السعوديين.
- د- المنتجات محلياً بواسطة غير السعوديين.

٤- يقاس معدل النمو الاقتصادي ....

- أ- بمعدل النمو السكاني
- ب- بمعدل نمو الناتج المحلي الاجمالي النقدي
- ج- بمعدل نمو الناتج القومي النقدي
- د- بمعدل نمو الناتج المحلي الاجمالي الحقيقي

# المحاضرة الرابعة

## البطالة والدورات الاقتصادية

### الفصل الثالث

#### أنواع البطالة:

١. البطالة الاحتكاكية
٢. البطالة الهيكلية
٣. البطالة الدورية.
٤. البطالة الطبيعية = البطالة الاحتكاكية + البطالة الهيكلية

#### ١. البطالة الاحتكاكية (Frictional Unemployment)

##### خصائصها:

١. قصيرة الأمد.
٢. مؤقتة أو موسمية
٣. متعلقة بفترة زمنية معينة.

##### اسبابها:

- تغيير الوظائف.
- البحث عن فرص عمل أفضل.

#### ٢. البطالة الهيكلية (Structural Unemployment)

##### خصائصها:

١. دائمة.
٢. هيكلية داخلية في تركيبة النشاط الاقتصادي.
٣. متعلقة بفترة زمنية معينة.

##### اسبابها:

- التقدم التقني وإحلال الآلة محل اليد العاملة. التي تؤدي العمل بدقة وسرعة تفوق الإنسان.
- التراجع في إنتاج بعض الصناعات، بسبب المنافسة الدولية.

#### ٣. البطالة الدورية (Cyclical Unemployment)

هي البطالة الناتجة عن الدورات الاقتصادية (Business Cycles) وتنشأ الدورة الاقتصادية عن تقلبات الناتج المحلي الإجمالي الحقيقي الفعلي (Actual RGDP) حول الناتج الممكن (Potential RGDP)، وهو الناتج الذي يمكن تحقيقه عند التوظيف الكامل للقوى العاملة.

##### اسبابها:

- فترات الانتعاش و الانكماش التي يمر بها الاقتصاد.

## تكاليف البطالة:

هناك نوعان من التكاليف التي يتحملها المجتمع نتيجة للبطالة:

1. التكاليف الاقتصادية: فقدان المجتمع لذلك الإنتاج من السلع والخدمات الذي كان من الممكن تحقيقه.
2. التكاليف الاجتماعية:

- تدني المستوى المعيشي بسبب انخفاض الدخل أو فقدانها بالكامل.
- انتشار الفقر وما يترتب عليه من ارتفاع في معدلات الجريمة.
- نشوب الصراعات والاضطرابات السياسية والاجتماعية .

الشروط التي يجب أن تتوفر في الشخص لكي يطلق عليه عاطل:

1. أن يكون في سن العمل.
2. أن يكون قادراً على العمل.
3. أن يكون باحثاً عن العمل.
4. أنه لم يجد عمل.

## قياس نسبة البطالة:

$$\text{نسبة البطالة} = \frac{\text{عدد الأشخاص العاطلين}}{\text{قوة العمل الفاعلة}} \times 100$$

$$\text{نسبة المشاركة في قوة العمل} = \frac{\text{قوة العمل الفاعلة}}{\text{عدد السكان في عمر العمل}} \times 100$$

$$\text{نسبة الاستخدام إلى السكان} = \frac{\text{عدد الأشخاص العاملين}}{\text{عدد السكان في عمر العمل}} \times 100$$

الجدول رقم (1-4): عدد السكان وقوة العمل الفاعلة والبطالة في قطر معين

1- عدد السكان	22 مليون	
2- ناقصاً من هم دون عمر (١٦) سنة	10- مليون	
3- ناقصاً من هم فوق عمر (٦٥) سنة	6- مليون	
4- عدد السكان في عمر العمل	6 مليون	$4 = 1 - (2 + 3)$
5- ناقصاً عدد المشاركين في القوى العاملة	1.5- مليون	
6- قوة العمل الفاعلة	4.5 مليون	$6 = 4 - 5$
7- ناقصاً عدد العاملين فعلاً	3.5- مليون	
8- عدد العاطلين عن العمل	1 مليون	$8 = 6 - 7$

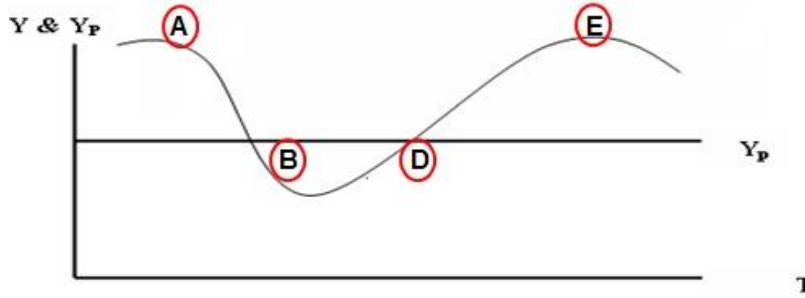
## الدورات الاقتصادية:

### أسباب حدوث التقلبات الاقتصادية:

١. التغير في الناتج المحلي الإجمالي. (إذا ارتفع الناتج المحلي الإجمالي للسنة الحالية عن الناتج المحلي الإجمالي للسنة الماضية فنكون في حالة انتعاش، وإذا كان أقل نكون في حالة انكماش.)
٢. التغير في معدلات البطالة، أو الاستخدام. (إذا ارتفعت نسبة البطالة أو الاستخدام في السنة الحالية فنكون في حالة انكماش وإذا انخفضت نكون في حالة انتعاش.)
٣. التغير في المستوى العام للأسعار. (إذا ارتفعت أسعار جميع السلع والخدمات مما تسبب في حالة تضخم فنكون في حالة انكماش أما إذا كانت معدلات الأسعار متناسبة مع معدلات الأجور وكانت الكتلة النقدية متناسبة مع الكتلة السلعية أدى ذلك إلى الانتعاش.)

### مراحل الدورات الاقتصادية:

١. مرحلة الركود أو الانكماش.
٢. مرحلة الكساد.
٣. مرحلة الانتعاش.
٤. مرحلة الرفاهية.



- A مرحلة انتعاش  
B مرحلة انكماش  
D مرحلة كساد  
E مرحلة انتعاش



### الشكل (1-4):

يوضح مراحل الدورة الاقتصادية حيث يتطلب الناتج المحلي الإجمالي الحقيقي  $Y$  عبر الزمن  $T$  حول الناتج الممكن عن الاستخدام الكامل  $Y_p$ .

### نظريات الدورات الاقتصادية:

١. النظرية الماركسية: (الشيوعية أو الاشتراكية "زالت")  
تعتبر الدورات الاقتصادية من الظواهر الملازمة للنظام الرأسمالي، تمتد جذورها في أعماق علاقات الإنتاج ونظام التبادل في السوق الرأسمالي الحر.
٢. نظرية تشومبيتر: (من الرأس مالين)  
فسرت الدورات الاقتصادية بنظرية الإبداعات (Innovations). حيث ترى أن الإبداعات والمخترعات الجديدة تأتي في موجات متلاحقة على فترات تطول أحياناً لعدة سنوات، تسبب ظهور الدورات الاقتصادية.

### ٣. النظرية الكينزية:

( مؤسسها جون مينارد كينز وهو من رواد النظام الاقتصادي الليبرالي الرأس مالي )  
تعتبر التوقعات (Expectations) المصدر الرئيسي للتقلبات الاقتصادية. حيث تؤدي التوقعات إلى التغير في مستوى الاستثمار ومن ثم التقلبات الاقتصادية.



### ٤. النظرية النقدية:

يعتقد دعاة هذه النظرية، وفي مقدمتهم ملتون فريدمان (Milton Friedman) (من رواد النظام الاقتصادي الليبرالي الرأس مالي) أن التقلبات في كمية النقود هي المصدر الرئيسي للتقلبات الاقتصادية.

### ٥. نظرية التوقعات الرشيدة:

يقصد بهذه النظرية إمكانية التنبؤ في ضوء المعلومات المتاحة. فاستناداً إلى النظرية الكلاسيكية الجديدة، تعتبر التقلبات غير المتوقعة في الطلب الكلي المصدر الرئيسي للتقلبات الاقتصادية.

## النظرية العامة للعرض الكلي والطلب الكلي

- تعتبر النظريات الخمس السابقة حالات خاصة بالنسبة لنظرية أكثر شمولاً وهي نظرية التوازن العام بين العرض الكلي والطلب الكلي. حيث يمكن حدوث الركود الاقتصادي بسبب انخفاض العرض الكلي.
- بينما اعتبرت النظريات السابقة صدمات جانب العرض الكلي كحالات نادرة الحدوث، وأن من الأرجح أن تكون تقلبات الطلب الكلي هي المسبب الأهم للدورات الاقتصادية.

نهاية المحاضرة الرابعة

## حل اسئلة الكتاب

صح \ خطأ

١. تعتبر التقلبات الاقتصادية سمة ملازمة لاقتصادات السوق. ( صح )
٢. تتسم مرحلة الركود بوجود إنتاجية فائضة أو عاطلة. ( صح )
٣. تؤدي مرحلة الانتعاش الاقتصادي الى انخفاض الاسعار. ( خطأ )
٤. يتسبب التقدم التقني في خفض معدل البطالة. ( خطأ )
٥. تعتبر البطالة الاحتكاكية ظاهرة صحية في اقتصاد يتسم بالحركة والنمو. ( صح )

## اختر الاجابة الصحيحة:

١. تقاس قوة العمل الفاعلة بعدد السكان  
أ. في سن العمل زائداً عدد السكان خارج سن العمل.  
ب. في سن العمل ناقصاً عدد السكان خارج سن العمل.  
ج. في سن العمل مضروباً في معدل المشاركة في القوة العاملة.  
د. ناقصاً عدد العاطلين عن العمل.
٢. إذا كان عدد السكان في سن العمل في الوطن العربي يبلغ ٢٠٠ مليون وعدد العاملين يبلغ ١٣٠ مليون وعدد العاطلين عن العمل يبلغ ١٥ مليون. فإن قوة العمل الفاعلة تبلغ  
أ. ٢٠٠ مليون.  
ب. ١٤٥ مليون.  
ج. ١٣٠ مليون.  
د. ١٥ مليون.



٣. تسمى البطالة في مرحلة الركود الاقتصادي

- أ. بطالة احتكاكية.
- ب. بطالة دورية.
- ج. بطالة هيكلية.
- د. بطالة مقنعة

٤. تبدأ مرحلة الركود الاقتصادي عندما يبدأ ..... في الانخفاض.

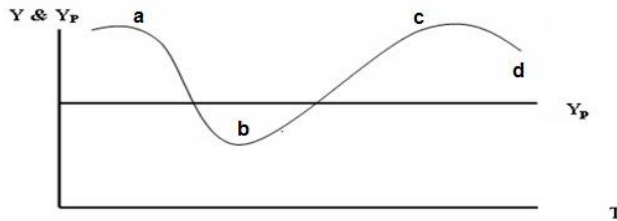
- أ. الانفاق الاستهلاكي.
- ب. الاستثمار.
- ج. الانفاق الحكومي.
- د. الواردات.

٥. توجد هناك بطالة مقنعة في المنشأة إذا أمكن

- أ- خفض عدد العاملين دون نقص في الانتاج.
- ب- خفض عدد العاملين دون زيادة في الانتاج.
- ج- زيادة عدد العاملين دون زيادة في الانتاج.
- د- الإجابتيين أ و ج .

### اسئلة الاختيار

١- في الشكل ادناه، يبدأ الانكماش عن النقطة ..... ويبدأ الانتعاش عند النقطة .....  
( تقرأ الاجابة من اليمين الى الشمال )



- أ- d , a
- ب- c , b
- ج- a , b
- د- c , b

٢- حسب النظرية .....، تعتبر ..... المصدر الرئيسي لـ ..... الاقتصادية.

- أ- التوقعات الرشيدة - مستويات الطلب - التغيرات
- ب- الكينزية - التوقعات - التقلبات
- ج- الكلاسيكية - الازمات - التقلبات
- د- النقدية - النقود - التنمية

## المحاضرة الخامسة العرض الكلي والطلب الكلي

### العرض الكلي

#### ١. العوامل المحددة للعرض الكلي

تعتمد كمية الناتج المحلي الإجمالي التي ينتجها الاقتصاد خلال سنة معينة على العوامل الثلاثة التالية:

- ١- كمية العمل
- ٢- كمية رأس المال
- ٣- المستوى التقني السائد

ويمكن التعبير عنها بدالة الإنتاج الضمنية التالية:

$$Y = f(L, K, T)$$

(Y) العرض الكلي.

(L) : كمية العمل.

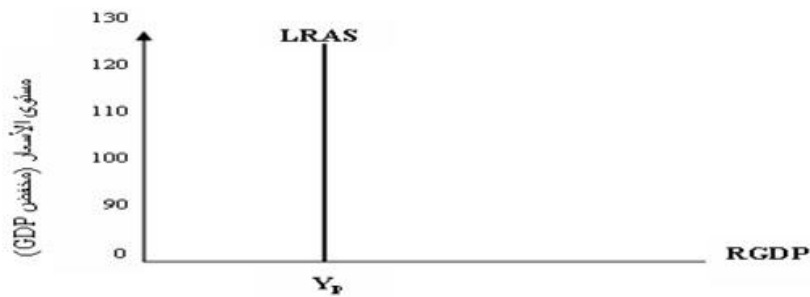
(K) : كمية رأس المال.

(T) : التقنية المتاحة.

#### ٢. العرض الكلي في الأمد البعيد:

يقاس بكمية الناتج المحلي الإجمالي الحقيقي عند مستوى الاستخدام الكامل، ويعادل الناتج المحلي الإجمالي الكامن أو الممكن، عند ثبات كل من كمية رأس المال، والمستوى التقني.

والناتج في المدى البعيد مستقل عن مستوى الأسعار، نتيجة لتغير الأسعار والأجور بذات النسبة، مما يجعل الأرباح الحقيقية ثابتة رغم تغير مستوى الأسعار، ويكون معدل البطالة مساوياً لمعدل البطالة الطبيعي.

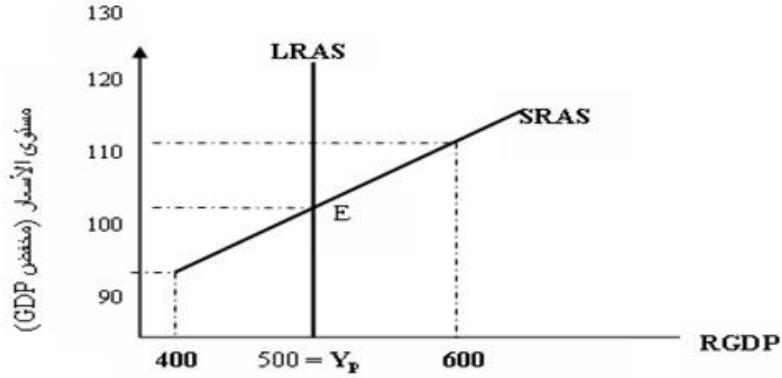


**الشكل (5-1):** يوضح منحنى العرض الكلي في الأمد البعيد كخط عمودي، حيث تساوى الناتج الحقيقي الفعلي مع الناتج الكامن، ويكون الناتج الإجمالي مستقلاً عن مستوى الأسعار، ويتحقق الاستخدام الكامل ويكون معدل البطالة مساوياً لمعدل البطالة الطبيعي.

### ٣. العرض الكلي في الأمد القريب:

الأمد القريب هو الفترة الزمنية التي يتغير فيها الناتج المحلي الإجمالي الحقيقي وبصفة مؤقتة فيزيد أو ينقص عن مستوى الناتج المحلي الإجمالي الكامن.

ويضرب ذلك بتوفر المعلومات عن زيادة مستوى الأسعار للمنشآت، وعدم توفرها للعمال، فتزيد الأرباح الحقيقية ويزيد الناتج مع زيادة الأسعار، والعكس في حالة انخفاضها. وفي المدى القريب، يرتفع أو ينخفض معدل البطالة عن معدل البطالة الطبيعي، نتيجة لجهل العمال بالتغيرات في مستوى الأسعار والأجور الحقيقية.



**الشكل (2-5):** يوضح الشكل منحنى العرض الكلي في المدى القريب الذي يعكس العلاقة الموجبة بين مستوى الأسعار والناتج المحلي الإجمالي الحقيقي، عن ثبات الأجور النقدية وباقي أسعار عناصر الإنتاج.

### الطلب الكلي:

▪ يقاس الطلب الكلي بالإنفاق الكلي وفق المعادلة:

$$Y = C + I + G + X - M$$

(Y) الطلب الكلي.

(C) : الإنفاق الاستهلاكي.

(I) : الإنفاق الاستثماري الخاص.

(G) : الإنفاق الحكومي.

(X) : الصادرات.

(M) : الواردات.



يعتمد الطلب الكلي على عدة عوامل هي بالأساس محددات مكوناته، من أهمها:

١. مستوى الأسعار
٢. التوقعات
٣. السياسات المالية والنقدية
٤. متغيرات الاقتصاد العالمي

#### ١. الأسعار:

كلما ارتفع مستوى الأسعار، مع بقاء العوامل الأخرى ثابتة، انخفضت كمية الناتج المحلي الإجمالي الحقيقي المطلوبة.

وتعزى العلاقة العكسية بين (RGDP) ومستوى الأسعار إلى كل من:

- أ- تأثير الثروة
- ب- تأثير الإحلال

#### ٢. التوقعات:

تؤدي الزيادة في الدخل المتوقع في المستقبل إلى زيادة الرغبة في الإنفاق أي قلة الرغبة في الادخار في الوقت الحاضر، وبالتالي زيادة الطلب الكلي.

يؤدي ارتفاع معدل التضخم المتوقع في المستقبل إلى التعجيل بالشراء وزيادة الطلب الكلي في الوقت الحاضر.

تؤدي الزيادة في الأرباح المتوقعة في المستقبل إلى زيادة استثمارات منشآت الأعمال في الوقت الحاضر بهدف زيادة الطاقة الإنتاجية لمنشآتهم، وبالتالي زيادة الطلب الكلي.

#### ٣. السياسات الاقتصادية:

##### (١) السياسة المالية:

أي تحكم الحكومة في كل من الضرائب والإنفاق الحكومي لتحقيق الأهداف الاقتصادية الكلية.

##### أدوات السياسة المالية:

- أ- الإنفاق الحكومي، وتأثيره الإيجابي على الطلب الكلي.
- ب- الضرائب، وتأثيرها السلبي على الطلب الكلي.

##### (٢) السياسة النقدية:

أي تحكم البنك المركزي في عرض النقود بقصد التأثير على الاقتصاد القومي وتحقيق الأهداف الكلية للاقتصاد.

##### أدوات السياسة النقدية:

- أ- كمية النقود في الاقتصاد، وتأثيرها الإيجابي على الطلب الكلي.
- ب- سعر الفائدة، وتأثيره السلبي على الطلب الكلي.

#### ٤. متغيرات الاقتصاد العالمي:

تؤثر على الطلب الكلي من خلال عاملين:

- أ- سعر صرف العملة الوطنية، وتأثيره السلبي.
- ب- مستوى الدخل في الدول الأخرى، وتأثيره الإيجابي.

## الاستهلاك

يعد الإنفاق الاستهلاكي أكبر مكونات إجمالي الإنفاق في أي اقتصاد، ويخصص له الجزء الأكبر من الدخل الإجمالي في أي دولة.



### دالة الاستهلاك:

وفق نظرية الدخل المطلق لكيّنز للاستهلاك دالة موجبة في الدخل في الصيغة:

$$C = a + bY$$

(C) : الإنفاق الاستهلاكي.

(Y) : الدخل الحقيقي.

(a) : الاستهلاك المستقل عن الدخل (Autonomous Consumption).

(b) : ميل دالة الاستهلاك

ويطلق على (b) الميل الحدي للاستهلاك (Marginal Propensity to Consume-MPC). حيث أن:

$$(1 > b > 0)$$

$$b = \frac{\Delta C}{\Delta Y}$$

(7) الميل الحدي للادخار $S = \frac{\Delta S}{\Delta Y}$	(6) الميل الحدي للاستهلاك $b = \frac{\Delta C}{\Delta Y}$	(5) الميل المتوسط للادخار 1-3	(4) الميل المتوسط للاستهلاك 1-2	(3) الادخار S	(2) الاستهلاك C	(1) الدخل القابل للإنفاق Y
0.30	0.70	-0.15	1.15	-60	460	400
0.30	0.70	-0.06	1.06	-30	530	500
0.30	0.70	0	1.00	0	600	600
0.30	0.70	0.04	0.96	30	670	700
0.30	0.70	0.07	0.93	60	740	800
0.30	0.70	0.10	0.90	90	810	900
0.30	0.70	0.12	0.88	120	880	1000
0.30	0.70	0.14	0.86	150	950	1100
0.30	0.70	0.15	0.85	180	1020	1200

جدول رقم (١-٥) : العلاقة بين الدخل والاستهلاك والادخار بالدينار



▪ يقيس الميل الحدي للاستهلاك، التغير في الاستهلاك الناتج عن التغير في الدخل بمقدار دينار واحد.  
ويمكن أن يعبر عنه بالمعادلة التالية :

$$MPC = b = \frac{\Delta C}{\Delta Y}$$



▪ يقيس الميل الحدي للاادخار التغير في الادخار الناتج عن التغير في الدخل بمقدار دينار واحد.  
ويعبر عنه بالمعادلة التالية :

$$MPS = s = \frac{\Delta S}{\Delta Y}$$

ونجد أن:  $1 = MPC + MPS$

### الاستثمار :

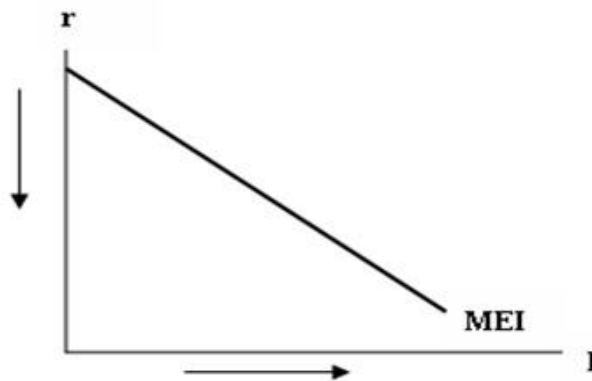
يعتبر الاستثمار المكون الثاني المكمل للاستهلاك في النموذج المبسط للطلب الكلي في اقتصاد المغلق.

▪ المقصود بالاستثمار :

الإنفاق الاستثماري الحقيقي أو الثابت، الذي ينطوي على استحداث أو شراء أصول رأسمالية أو إنتاجية (آلات ومعدات ومباني ... ) جديدة تضيف إلى الطاقة الإنتاجية للاقتصاد.

### ويجب التمييز هنا بين:

١. الاستثمار المستقل، وهو الاستثمار المستقل عن التغير في الدخل، مثل الاستثمار الإحلالي اللازم لاستبدال الأصول الهالكة، الذي لا يضيف للطاقة الإنتاجية.
٢. الاستثمار التابع وهو الاستثمار الذي يتأثر بالتغيرات التي تطرأ على مستوى الدخل، أي الاستثمار استجابة للزيادة في الطلب الكلي أو الدخل (GDP)، الذي يسهم في زيادة الطاقة الإنتاجية.

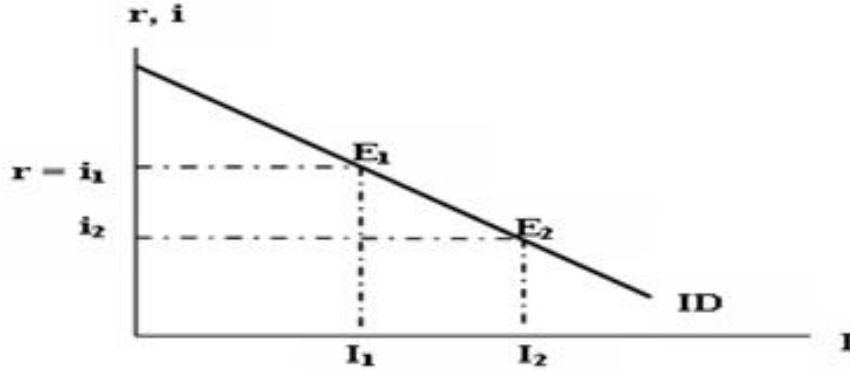


**الشكل (5-5):** يوضح منحنى الطلب على الاستثمار أو منحنى الكفاءة الحدية لرأس المال. ويلاحظ معدل العائد المتوقع يتناقص بزيادة حجم الاستثمار، حيث يتم الاستثمار في المشروعات ذات العائد المرتفع أولاً، ولزيادة الاستثمار بعد تنفيذ المشروعات ذات العائد الأقل فالأقل.

## محددات للكفاءة الحديثة للاستثمار

تتلخص العوامل المحددة لكفاءة الحديثة للاستثمار في:

١. الطلب المتوقع
٢. التقدم التقني
٣. تكاليف الإنتاج
٤. رصيد رأس المال



**الشكل (5-6):** يوضح منحنى الطلب على الاستثمار (ID)، حيث يتحدد حجم الاستثمار بتعادل سعر الفائدة (I) ومعدل العائد على الاستثمار (r) فعند سعر الفائدة المرتفع نسبياً (  $i_1$  ) يكون الاستثمار المطلوب هو (  $I_1$  ) . وعند انخفاض سعر الفائدة الى (  $i_2$  ) يزيد الاستثمار الى (  $I_2$  ) .

نهاية المحاضرة الخامسة

## اسئلة الكتاب

صح / خطأ

١. تعتبر التوقعات من أهم العوامل المحددة للاستثمار. ( صح )
٢. يؤدي التضخم الى ارتفاع القيمة الحقيقية للمدخرات. ( خطأ )
٣. يتأثر الطلب المحلي بالتغيرات الاقتصادية العالمية. ( صح )
٤. عندما يكون الانفاق الاستهلاكي أكبر من الدخل، يكون الادخار سالباً. ( صح )
٥. تتأثر العادات الاستهلاكية لذوي الدخل المنخفضة بالعادات الاستهلاكية لذوي الدخل المرتفعة. ( صح )

## اختر الاجابة الصحيحة

١. يتحدد العرض الكلي بالعوامل التالية ما عدا
  - أ- كمية الموارد البشرية.
  - ب- كمية رأس المال.
  - ج- الواردات من السلع الكمالية.
  - د- مستوى التقدم التقني.
٢. يعتمد الطلب الكلي على
  - أ- الاسعار.
  - ب- التوقعات.
  - ج- السياسات الاقتصادية الحكومية.
  - د- كل ما تقدم.

٣. يعتمد الانفاق الاستهلاكي علي
- أ- معدل الفائدة الحقيقي.
  - ب- الدخل المتاح
  - ج- الدخل المتوقع في المستقبل
  - د- كل ما تقدم.

٤. يعتمد الاستثمار على العوامل التالية
- أ- الكفاءة الحدية للاستثمار.
  - ب- معدل الفائدة.
  - ج- التوقعات.
  - د- كل ما تقدم.

٥. اذا كان الميل الحدي للاستهلاك يساوي 0.7 وكانت الزيادة المستهدفة في الناتج المحلي الاجمالي هي 3,000 مليون دينار. فإن الزيادة المتوقعة في الاستهلاك هي؛
- أ- 1,700 مليون دينار.
  - ب- 2,700 مليون دينار.
  - ج- 2,100 مليون دينار.
  - د- 3,300 مليون دينار.

### اسئلة الاختيار النهائي

١. تتلخص العوامل المحددة للكفاءة الحدية في

- أ- الطلب المتوقع
- ب- التقدم التقني
- ج- تكاليف الانتاج ورصيد رأس المال
- د- جميع ما ذكر

٢. يقيس الميل الحدي للاستهلاك التغير في الاستهلاك الناتج عن التغير في .....

- أ- الدخل
- ب- الادخار
- ج- الاستهلاك
- د- الطلب

٣. يقيس الميل الحدي للادخار التغير في الاستهلاك الناتج عن التغير في .....

- أ- الاستهلاك
- ب- الطلب
- ج- سعر الفائدة
- د- الدخل

٤. يعد الانفاق الاستهلاكي أكبر مكونات إجمالي ..... في أي اقتصاد، ويخصص له الجزء الأكبر من ..... الاجمالي في أي دولة.

- أ- الانتاج - الاستثمار
- ب- الاستثمار - الانتاج
- ج- الانفاق - الدخل
- د- لا شيء مما ذكر

٥. يقاس الطلب الكلي بـ ..... الكلي وفق المعادلة التالية  $Y = C + I + G + X - M$

- أ- الانفاق
- ب- الادخار
- ج- الاستثمار
- د- التوزيع



٦. يعتمد الطلب الكلي على عدة عوامل هي بالأساس محددات مكوناته ومن أهمها
- أ- مستوى الاسعار.
  - ب- التوقعات.
  - ج- السياسات الاقتصادية الحكومية.
  - د- جميع ما ذكر.
٧. تعتمد كمية الناتج المحلي الاجمالي التي ينتجها الاقتصاد خلال سنة معينة على
- أ- كمية العمل.
  - ب- كمية رأس المال.
  - ج- المستوى التقني السائد.
  - د- جميع ما ذكر.
٨. اذا زادت الكمية المعروضة من النقود على الكمية المطلوبة منها
- أ- ارتفع سعر الفائدة
  - ب- انخفض سعر الفائدة
  - ج- لن يتأثر سعر الفائدة
  - د- لا شئ مما ذكر
٩. تعبر هذه المعادلة  $Y = f(L, K, T)$  عن العلاقة بين
- أ- الناتج المحلي الاجمالي الحقيقي والعوامل المحددة للعرض الكلي.
  - ب- الناتج القومي الاجمالي والعوامل المحددة لطلب الكلي.
  - ج- الناتج المحلي الصافي والعوامل المؤثرة في حجمته
  - د- كل ما ذكر.
١٠. تعبر هذه المعادلة  $Y = C + I + G + X - M$  عن:
- أ- العرض الكلي
  - ب- الطلب الكلي
  - ج- الدخل الكلي
  - د- لا شئ مما ذكر
١١. عند ثبات الاجور النقديّة وباقي اسعار الانتاج فإن منحنى العرض الكلي في المدى القريب يعكس
- أ- العلاقة العكسيّة بين العرض الكلي والطلب الكلي.
  - ب- العلاقة الموجبة بين مستوى الاسعار والناتج القومي الاجمالي.
  - ج- العلاقة الموجبة بين مستوى الاسعار والناتج المحلي الاجمالي الحقيقي.
  - د- العلاقة العكسيّة بين مستوى الاستخدام الكامل والناتج المحلي الاجمالي.

## المحاضرة السادسة توازن الاقتصاد الكلي

### ليتحقق توازن الاقتصاد الكلي عند تعادل قوى الطلب الكلي مع قوى العرض الكلي.

١. يقاس الطلب الكلي بإجمالي الإنفاقات، والتي تشمل:

(١) الإنفاق الاستهلاكي الخاص

(٢) الإنفاق الاستثماري الخاص

(٣) الإنفاق الحكومي

(٤) صافي الصادرات

٢. يقاس العرض الكلي بالنتائج المحلي الإجمالي الحقيقي.

### تحديد الدخل التوازني في اقتصاد من قطاعين:

- يتحقق شرط التوازن في الاقتصاد المغلق بتعادل العرض الكلي (الدخل) مع الطلب الكلي (الإنفاق).
- وفي النموذج المبسط للاقتصاد المغلق المكون من قطاعين يكون شرط التوازن هو تعادل العرض الكلي أو الدخل المحلي الإجمالي (Y) مع الطلب الكلي، المكون من الإنفاق الاستثماري المخطط ( $I_a$ ) والإنفاق الاستهلاكي المخطط (C).

▪ ويفترض ان الاستهلاك يعتمد على الدخل وتمثله الدالة الخطية التالية :

$$C = C_a + bY$$

▪ ويتحقق توازن الاقتصاد في هذا النموذج عندما يكون :

$$Y = C + I_a$$

وبإعادة صياغة المعادلة السابقة نجد أن:

$$Y - C = I_a$$

$$S = I_a$$

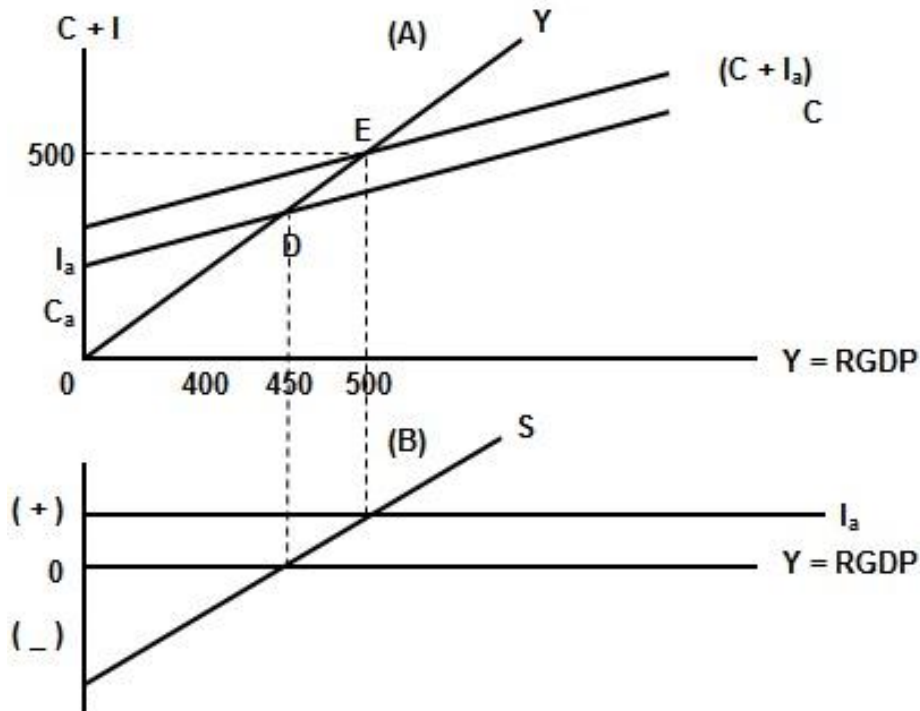
✓ أي أن لشرط توازن الاقتصاد المغلق صياغة بديلة وهي تعادل الادخار مع الاستثمار.

ومن خلال تتبع الأرقام الافتراضية في الجدول (١-٤) تتضح العلاقة بين المتغيرات المحددة للتوازن الاقتصادي.

ومن خلال الجدول يلاحظ أن التغيير غير المخطط يحدث في مخزون السلع في حالات عدم توازن الاقتصاد، فيزيد المخزون في حالات زيادة العرض الكلي على الطلب الكلي وينقص في حالات زيادة الطلب الكلي على العرض الكلي. وفي الشكل (١-٤) في الجزء (A)، يقاس النتائج أو الدخل على المحور الأفقي، ويقاس الإنفاق على المحور الرأسي.

جدول (٤-١) : تحديد مستوى الدخل التوازني في الاقتصاد المغلق

(7) التغير غير المخطط في المخزون	(6) الطلب الكلي	(5) الإنفاق الاستثماري المخطط	(4) الادخار المخطط	(3) الإنفاق الاستهلاكي المخطط	(2) مستوى الاستخدام بالمليون	(1) الدخل
$\Delta Inv.$	$C + I_a$	$I_a$	$S$	$C$	$L$	$Y$
-60	460	30	-30	430	2	400
-30	480	30	0	450	2.5	450
0	500	30	30	470	3	500
+30	520	30	60	490	3.5	550
+60	540	30	90	510	4	600
+90	560	30	120	530	4.5	650



**الشكل (٤-١) :** يتحقق توازن الاقتصاد عند دخل قدره ٥٠٠ مليون دينار، وعندما يتعادل الدخل مع الإنفاق في الجزء العلوي (A) من الشكل أعلاه، ويتعادل عنده كذلك الادخار والاستثمار في الجزء السفلي (B) من الشكل. أما النقطة (D) في الشكل العلوي فتقابلها في الشكل السفلي نقطة تعادل الاستهلاك والدخل، حيث يكون الادخار مساوياً للصفر.

## مضاعف الإنفاق:

في هذا النموذج إذا زاد الاستثمار المستقل بقدر معين يؤدي ذلك إلى زيادة الدخل الإجمالي، وتؤدي الزيادة في الدخل إلى زيادة الإنفاق الاستهلاكي لاعتماده على الدخل، وبذلك تتولد دخولا جديدة، ينتج عنها زيادات متتالية في الاستهلاك. وتستمر هذه الموجات المتلاحقة من الإنفاق والزيادة في الدخل حتى يصل الاقتصاد إلى توازن جديد يكون عنده الادخار المخطط مساوياً للاستثمار المخطط.

▪ لقياس أثر الزيادة في أي من الإنصافات المستقلة عن الدخل :

نشقق أولاً مضاعف الإنفاق المستقل (Expenditure Multiplier)، فيكون شرط توازن الاقتصاد في اقتصاد مغلق من قطاعين، أي في غياب القطاع الحكومي والقطاع الخارجي على النحو التالي :

$$Y = C + I_a$$

حيث أن:

$$C = C_a + bY$$

$$I = I_a$$

من المعادلات السابقة نجد أن:

$$Y = \frac{1}{1-b} (C_a + I_a)$$

ولمعرفة أثر التغير في الإنصافات المستقلة على الدخل المحلي الإجمالي في الاقتصاد، يمكن إعادة كتابة المعادلة أعلاه في صيغة التغير التالية:

$$\Delta Y = \frac{1}{1-b} (\Delta C_a + \Delta I_a)$$

ففي حالة زيادة الاستهلاك المستقل مع بقاء الاستثمار ثابتاً تتقلص الصيغة أعلاه إلى:

$$\Delta Y = \frac{1}{1-b} (\Delta C_a)$$

واستناداً إلى الصيغة أعلاه يمكن كتابة معادلة المضاعف على النحو التالي:

$$\frac{\Delta Y}{\Delta C_a} = \frac{1}{1-b}$$

وتتضح طريقة عمل مضاعف الاستثمار المستقل من خلال الجدول (٢-٤).

### تحديد الدخل التوازني في اقتصاد من ثلاثه قطاعات:

(١) القطاع العائلي. (٢) قطاع الأعمال. (٣) القطاع الحكومي.

ولنفترض أن الحكومة قد فرضت ضريبة نسبية (Proportional Tax) بمعدل (t) من الدخل الشخصي، كما نفترض أن الاستثمار ما زال مستقلاً عن الدخل، وأن الإنفاق الحكومي هو الآخر مستقل عن الدخل. يمكن في هذه الحالة صياغة شروط توازن الاقتصاد كما يلي :

**جدول (٢-٤) : أثر مضاعف الاستثمار على الدخل**

الزيادة في الدخل (مليون دينار)	الزيادة في الادخار (مليون دينار)	الزيادة في الاستهلاك (مليون دينار)	الزيادة في الاستثمار (مليون دينار)	الجدول
١٠٠			١٠٠	١
٨٠	٢٠	٨٠	--	٢
٦٤	١٦	٦٤	--	٣
٥١.٢٠	١٢.٨٠	٥١.٢٠	--	٤
٤٠.٩٦	١٠.٢٤	٤٠.٩٦	--	٥
٣٢.٧٧	٨.١٩	٣٢.٧٧	--	٦
٢٦.٢١	٦.٥٥	٢٦.٢٠	--	٧
٢٠.٩٧	٥.٢٤	٢٠.٩٧	--	٨
١٦.٧٨	٤.١٩	١٦.٧٨	--	٩
وهكذا تستمر هذه الأصداء حتى يصل الاقتصاد إلى حالة توازن جديد عند مستوى أعلى من الدخل، وتكون التغيرات النهائية في الدخل والاستهلاك والادخار كما يوضحها السطر التالي :				
٥٠٠	١٠٠	٤٠٠	١٠٠	المجموع

ويمكن وصف الاقتصاد بالمعادلات التالية:

$$C = C_a + b (Y-T)$$

دالة الاستهلاك

$$T = t Y$$

مقدار الضريبة النسبية

$$G = G_a$$

مقدار الإنفاق الحكومي

$$I = I_a$$

دالة الاستثمار

ويمكن في هذا النموذج صياغة دخل التوازن على النحو التالي:

$$Y = \frac{1}{1-b+bt} (C_a + I_a G_a)$$

ومن هذه المعادلة يمكن صياغة مضاعف الإنفاق المستقلة (M) في ظل الضريبة النسبية على النحو التالي:

$$\Delta Y = \frac{1}{1-b+bt} (\Delta C_a - or - \Delta I_a - or - \Delta G_a)$$

حيث أن الاتفاقات المستقلة بين القوسين، وتضم كل من الاستهلاك المستقل والاستثمار المستقل والإنفاق الحكومي وهو أيضاً مستقل عن الدخل في هذا النموذج.

ومن ذلك نجد يمكن صياغة مضاعف الإنفاق المستقل (M) كما يلي:

$$\frac{1}{1-b+bt} = \frac{\Delta Y}{\Delta C_a - or - \Delta I_a - or - \Delta G_a} = M$$

### تحديد الدخل التوازني في اقتصاد من أربعة قطاعات:

في هذا النموذج نضيف القطاع الخارجي (الصادرات والواردات). ويفترض في هذا النموذج أن:

- الصادرات مستقلة عن الدخل المحلي
- الواردات تعتمد على الدخل المحلي، والعلاقة بينهما موجبة.
- وللتبسيط نفترض أن كلاً من الاستثمار والإنفاق الحكومي مستقل عن الدخل.
- للصادرات والواردات الدالتين التاليتين :

$$X = X_a$$

$$M = m_a + m_1 Y$$

### شرطي توازن الاقتصاد:

- **الشرط الأول:** تعادل الدخل المحلي الإجمالي مع الإنفاق على الناتج المحلي الإجمالي. ويمكن صياغته على النحو التالي :

$$Y = C + I_a + G_a + X_a - M$$

- **الشرط الثاني:** تعادل مجموع التسريبات مع مجموع الحقن أي:

$$(S + T + M) = (I + G + X)$$

- لا يشترط أن تتساوى مفرجات التسرب والحقن لتحقيق توازن الاقتصاد بل يكفي أن تتساوى المجموعتين. وفي هذا النموذج تصاغ معادلة دخل التوازن على النحو التالي:

$$Y = \frac{1}{1-b+bt+m_1} (C + I_a + G_a + X_a - m_a)$$

## نظرية المعجل للاستثمار:

تؤدي التغيرات في الدخل المحلي الإجمالي إلى تغيرات أكبر في الطلب على السلع الرأسمالية. أي الاستثمار اللازم لزيادة الطاقة الإنتاجية للاقتصاد.

- يقاس المعجل بمعامل رأس المال (Capital Coefficient) وهو عبارة عن حجم الاستثمار الصافي اللازم لزيادة الدخل أو الناتج المحلي الإجمالي بدينار واحد ويمكن قياس المعجل (A) باستخدام المعادلة التالية:

$$A = \frac{\Delta K}{\Delta Y} = \frac{K_t - K_{t-1}}{Y_t - Y_{t-1}} = \frac{I}{\Delta Y}$$

حيث أن (K) مخزون الاقتصاد من السلع الرأسمالية. والتغير في هذا المخزون من عام لآخر يقيس مقدار الإنفاق الاستثماري (I) في هذه السنة. (Y) الناتج المحلي الإجمالي.

## التوازن دون مستوى الاستخدام الكامل:

### ارتكزت نظرية كينز على مبدئين :

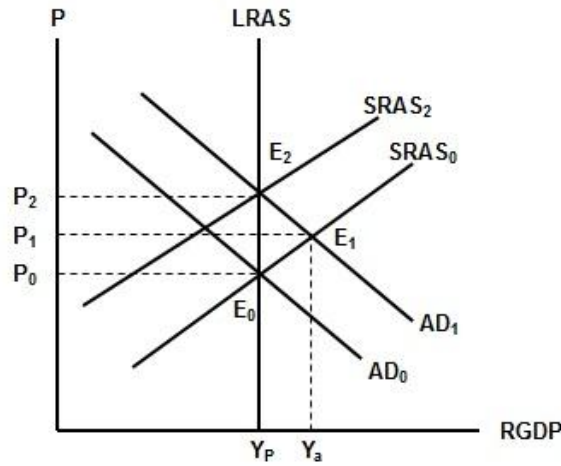
- الأول: أن الطلب الكلي يولد العرض الكلي، أي بعكس النظرية التقليدية.
- الثاني: أن الأجور والأسعار وسعر الفائدة بطيئة الموازنة وليست فورية الموازنة.

فالعمال يطالبون برفع أجورهم عند ارتفاع مستوى الأسعار، لكنهم لا يقبلون بخفضها عند انخفاض مستوى الأسعار، مما يتسبب في إطالة فترات الكساد الاقتصادي.

### ١- الفجوة التضخمية:

- تحدث الفجوة التضخمية (Inflationary Gap)، في المدى القريب عندما يزيد الطلب الكلي على العرض الكلي عند مستوى الاستخدام الكامل (YP)، مما يضع ضغطاً على المستوى العام للأسعار فيحدث التضخم.
- تقاس الفجوة التضخمية بالفرق بين الناتج المحلي الفعلي (Y<sub>a</sub>) والناتج المحلي الممكن (YP).

ويوضح الشكل (٢-٤) منحنى العرض الكلي في المدى البعيد (LRAS) وهو الخط الرأسي الموازي للمحور الرأسي.



الشكل (٢-٤) :

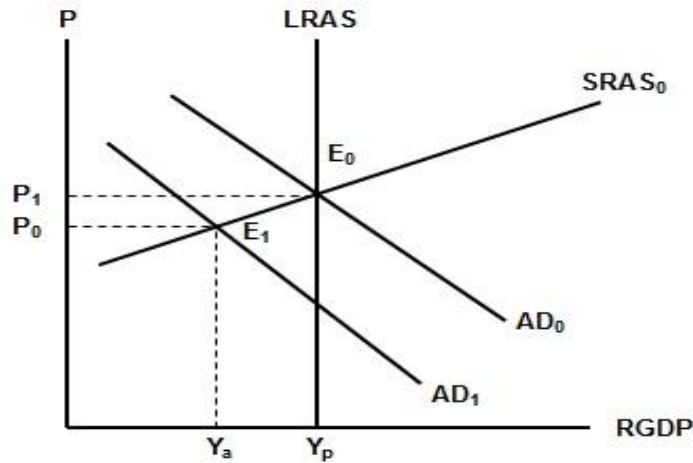
نتيجة لزيادة الطلب الكلي ينتقل الاقتصاد من توازن المدى البعيد عند  $E_0$  إلى توازن في المدى القريب عند  $E_1$ .

- حيث يكون معدل البطالة أقل من المعدل الطبيعي.
- ويكون الناتج الفعلي أكبر من الناتج الممكن، ولكن لفترة مؤقتة.

في المدى الطويل ومع زيادة الأجور النقديّة، ينتقل منحنى  $LRAS_0$  تدريجياً إلى أعلى حتى يستقر عند  $LRAS_2$  ويصل الاقتصاد إلى توازن جديد للمدى البعيد عند  $E_2$ ، يختلف عن التوازن الأصلي فقط في ارتفاع مستوى الأسعار أو التضخم إلى  $P_2$ .

## ٢- الفجوة الانكماشية:

- تحدث الفجوة الانكماشية (Deflationary Gap) في المدى القريب أيضاً نتيجة لانخفاض في الطلب الكلي، حيث ترتفع البطالة وينخفض المستوى العام للأسعار. يوضح ذلك الشكل (٣-٤).



الشكل (٣-٤) :

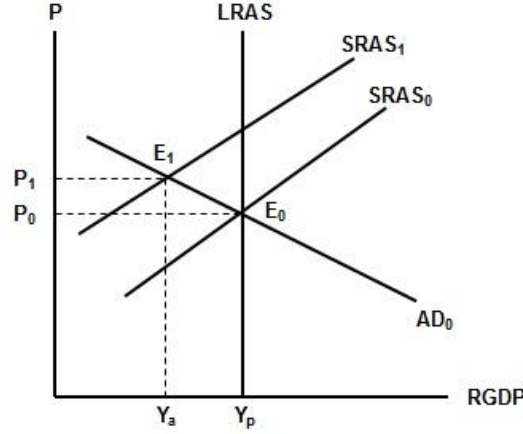
نتيجة للنقص في الطلب الكلي ينتقل الاقتصاد من توازن المدى البعيد عند  $E_0$  إلى توازن في المدى القريب عند  $E_1$ .

- حيث يكون الناتج الفعلي أقل من الناتج الممكن.
  - ويكون معدل البطالة أعلى من المعدل الطبيعي.
  - ويكون مستوى الأسعار أقل مما كان عليه أصلاً عند توازن المدى البعيد.
- وباستخدام السياسات الماليّة والنقديّة يمكن زيادة الطلب الكلي من أجل خفض معدل البطالة، وإن تم ذلك على حساب زيادة معدل التضخم أو ارتفاع مستوى الأسعار.



### ٣-التضخم الركودي؛

- يحدث نتيجة لانخفاض العرض الكلي بسبب زيادة تكاليف الإنتاج ونقص الأرباح.
  - فقد جاء هذا التضخم مصحوباً بموجة من الكساد أي ارتفاع معدلات البطالة لتفوق معدلاتها الطبيعية مع انخفاض الناتج أو الدخل إلى مستويات أقل من مستوى الناتج ممكن.
- كما يتضح من الشكل (٤-٤).



#### الشكل (٤-٤)؛

- نتيجة لزيادة أسعار الموارد ينتقل منحني العرض  $SRAS_0$  إلى  $SRAS_1$ . فينتقل الاقتصاد من توازن المدى البعيد عند  $E_0$  إلى توازن في المدى القريب عند  $E_1$ .
- حيث يكون الناتج الفعلي أقل من الناتج الممكن.
  - ويكون معدل البطالة أعلى من المعدل الطبيعي.
  - ويكون مستوى الأسعار أعلى أيضاً في المدى البعيد.
- وباستخدام السياسات المالية والنقدية يمكن زيادة الطلب من أجل خفض معدل البطالة، وإن تم ذلك على حساب زيادة معدل التضخم أو ارتفاع مستوى الأسعار.

نهاية المحاضرة السادسة

### اسئلة الكتاب

اختر الاجابة الصحيحة

- ١- يعني التضخم الركودي جميع الحالات التالية ما عدا  
أ- ارتفاع معدل البطالة  
ب- **انخفاض معدل البطالة**  
ج- انخفاض الناتج المحلي الاجمالي  
د- ارتفاع كل من معدل التضخم ومعدل البطالة في ان واحد.
- ٢- يقصد بالسياسات الاقتصادية لتحفيز العرض الكلي باقتصاد جانب العرض التي تشمل جميع الاجراءات التالية ما عدا  
أ- تخفيض الضرائب على العائدات الاستثمار  
ب- تخفيض اسعار الفائدة  
ج- تخفيض الرسوم الجمركية على السلع الاستثمارية  
د- **زيادة الضرائب على عائدات الاستثمار**

- ٣- يعكس منحنى العرض في المدى البعيد ( LAS )
- أ- الناتج المحلي الاجمالي عند الاستخدام الكامل
- ب- أقصى مستوى للناتج المحلي الاجمالي يمكن للاقتصاد تحقيقه في المدى القصير
- ج- الناتج المحلي الاجمالي الذي يمكن انتاجه عند ثبات مستوى الاسعار
- د- مستوى الناتج المحلي الاجمالي النقدي الذي يتعادل مع معدل البطالة
- ٤- اذا شهد القطر تحسن في تقنيات الانتاج، فأى العبارات التالية تكون صحيحة
- أ- ينتقل منحنى الطلب الكلي ( AD ) الى جهة اليمين
- ب- ينتقل منحنى العرض الكلي في المدى البعيد الى جهة اليمين
- ج- يزيد الناتج المحلي الاجمالي الكامن
- د- ( ب ) و ( ج ) كلاهما صحيح
- ٥- اذا كان الاقتصاد في توازن المدى البعيد، وتوقع رجال الاعمال بعض الخسائر في المستقبل. فأى التغيرات التالية يمكن ان تحدث في المدى القريب.
- أ- انخفاض الناتج المحلي الحقيقي.
- ب- زيادة في مستوى الاسعار.
- ج- انخفاض البطالة.
- د- زيادة معدل الاستخدام.

### اسئلة الاختيار

- ١- وفقاً لنظرية المعجل تؤدي التغيرات في الدخل المحلي الاجمالي الى تغيرات ..... في الطلب على السلع الرأسمالية .
- أ- أقل.
- ب- أكبر.
- ج- متساوية.
- د- معاكسة.
- ٢- تبعاً لقانون ..... يولد العرض الكلي الطلب الكلي المعادل له.
- أ- العرض والطلب
- ب- كينز
- ج- ساي
- د- التوازن
- ٣- يعد الاستثمار المكون الرئيسي لـ
- أ- الادخار المستقل
- ب- الاستهلاك المستقل
- ج- الانفاق المستقل
- د- الانتاج المستقل
- ٤- تؤدي الزيادة في الاستثمار المستقل الى
- أ- زيادة أقل في الدخل والانتاج
- ب- زيادة متساوية في الدخل والانتاج
- ج- زياد أكبر في الدخل والانتاج
- د- زيادة متناقصة في الدخل والانتاج
- ٥- تعبر المعادلة  $A = \frac{\Delta K}{\Delta Y} = \frac{K_t - K_{t-1}}{Y_t - Y_{t-1}} = \frac{I}{\Delta Y}$  عن :
- أ- مضاعف الاستثمار
- ب- مضاعف الدخل
- ج- معجل الدخل
- د- معجل الاستثمار

## المحاضرة السابعة خاصة بالفصول ٢، ٤، ٥

تمارين عملية

**التمرين الأول:** (من اسئلة الاختبار النهائي لاحد الفصول الماضية)

إذا كان الدخل الكلي  $Y$  في إقتصاد بلد ما يساوي 50.000 ريال ،  
وإذا كان الميل الحدي للإدخار  $MPS$  يساوي 0.35.



**المطلوب:** باستعمال المعطيات السابقة أوجد كل من :

- الميل الحدي للإستهلاك  $MPC$
- قيمة ما يدخره أفراد هذا البلد  $S$  من مجموع الدخل الكلي  $Y$
- قيمة ما يستهلكه أفراد هذا البلد  $C$  من مجموع الدخل الكلي  $Y$
- الميل المتوسط للإدخار  $APS$
- الميل المتوسط للإستهلاك  $APC$

### حل التمرين الأول

$$-١ \quad MPC = 1 - MPS$$

$$MPC = 1 - 0.35 = 0.65$$

$$-٢ \quad S = MPS * Y$$

$$S = 0.35 * 50000$$

$$S = 17500$$

$$-٣ \quad C = MPC * Y$$

$$C = 0.65 * 50000$$

$$C = 32500$$

$$-٤ \quad APS = S / Y$$

$$APS = 17500 / 50000$$

$$APS = 0.35$$

$$-٥ \quad APC = C / Y$$

$$APC = 32500 / 50000$$

$$APC = 0.65$$

## التمرين الثاني (من اسئلة الاختبار النهائي لاحد الفصول الماضية)

يتكون اقتصاد بلد ما من ثلاث قطاعات هي قطاع الصناعة و قطاع الزراعة و قطاع الخدمات ، بحيث قدم كل قطاع مساهمته في الإنتاج الوطني مقيمة بملايين الريالات و ذلك وفقا لمعطيات الجدول التالي :

القطاع	إنتاج القطاع
الصناعة	50.000
الزراعة	70.000
الخدمات	80.000

### المطلوب:

باستعمالك لمعطيات الجدول السابق، يطلب منك إيجاد مالي:

1. قيمة الإنتاج الكلي TP
2. نسبة مساهمة كل قطاع في الإنتاج الكلي TP
3. القيمة المضافة لكل قطاع إذا علمت أن:
  - أ- القطاع الأول يستهلك 25% من قيمة إنتاج القطاع الثاني
  - ب- القطاع الثاني يستهلك 15% من قيمة إنتاج القطاع الثالث
  - ج- القطاع الثالث يستهلك 5% من قيمة إنتاج القطاع الأول
4. القيمة المضافة الإجمالية
5. الناتج المحلي الإجمالي GDP بطريقة القيمة المضافة الإجمالية

### حل التمرين الثاني

1. قيمة الإنتاج الكلي TP  
 $TP = 50000 + 70000 + 80000$   
 $TP = 200000$
2. نسبة مساهمة كل قطاع في الإنتاج الكلي TP  
الصناعة =  $200000 / 50000 = 25\%$   
الزراعة =  $200000 / 70000 = 35\%$   
الخدمات =  $200000 / 80000 = 40\%$
3. القيمة المضافة لكل قطاع
  - أ- القيمة المضافة للصناعة =  $50000 - (25\% * 70000) = 32500$
  - ب- القيمة المضافة للزراعة =  $70000 - (15\% * 80000) = 58000$
  - ج- القيمة المضافة للخدمات =  $80000 - (5\% * 50000) = 77500$
4. القيمة المضافة الإجمالية =  $77500 + 58000 + 32500 = 168000$

٥. الناتج المحلي الإجمالي GDP بطريقة القيمة المضافة الإجمالية = ١٦٨٠٠٠

### التمرين الثالث (من أسئلة الاختبار النهائي لحد الفصول الماضية)

يطلب منك إيجاد ما يلي:

- ١- الناتج المحلي الإجمالي GDP بطريقة الإنفاق الكلي.
- ٢- نسبة إنفاق كل قطاع من الناتج المحلي الإجمالي GDP وذلك وفقا للمعطيات التالية: (مقيمة بملايين الريالات)

- الاستهلاك الخاص C يساوي 120 000
- الاستثمار الخاص I يساوي 950 500
- الإنفاق الحكومي G يساوي 585 000
- الصادرات X تساوي 132000
- الواردات M تساوي 180000

### حل التمرين الثالث

$$-١ \quad \text{GDP} = \text{C} + \text{I} + \text{G} + (\text{X} - \text{M})$$

$$\text{GDP} = 120000 + 950500 + 585000 + (132000 - 180000)$$
$$\text{GDP} = 1607500$$

-٢- نسبة إنفاق كل قطاع من الناتج المحلي الإجمالي GDP



$$\% \text{ لـ C من Y} = 1607500 / 120000 = 7.4\%$$

$$\% \text{ لـ I من Y} = 1607500 / 950500 = 59.2\%$$

$$\% \text{ لـ G من Y} = 1607500 / 585000 = 36.3\%$$

$$\% \text{ لـ X من Y} = 1607500 / 132000 = 8.2\%$$

$$\% \text{ لـ M من Y} = 1607500 / 180000 = -11.1\%$$

## التمرين الرابع (من أسئلة الاختبار النهائي لأحد الفصول الماضية بدون ارقام)

توفرت لديك المعطيات التالية و المتعلقة باقتصاد بلد ما و المقيمة بملايين الريالات:

- دخول العاملين 23 800
- صافي الفائدة 12300
- دخل الإيجارات 8600
- أرباح الشركات 14600
- دخول مالكي الأعمال الصغيرة 7500
- ضرائب غير مباشرة 6400
- إعانات غير مباشرة 7400
- إهلاكات الأصول الثابتة 5200

### المطلوب

- 1- إيجاد الناتج المحلي الإجمالي GDP بطريقة الدخل .
- 2- إيجاد نسبة مساهمة كل عنصر في الناتج المحلي الإجمالي GDP

## حل التمرين الرابع

العنصر	المبلغ	النسبة المئوية%
دخول العاملين	23 800	33.5
+ صافي الفائدة	12300	17.5
+ دخل الإيجارات	8600	12.1
+ أرباح الشركات	14600	20.8
+ دخول مالكي الأعمال الصغيرة	7500	10.5
+ ضرائب غير مباشرة	6400	9
- إعانات غير مباشرة	7400	-10.4
+ إهلاكات الأصول الثابتة	5200	7.3
= المجموع	71000	100



نهاية المحاضرة السابعة

## اسئلة الاختبار النهائي

١- اذا كان الدخل الكلي Y يساوي 50.000 ريال واذا كان الميل الحدي للادخار MPS يساوي 0,35 فإن الميل الحدي للاستهلاك MPC وقيمة الادخار S وقيمة الاستهلاك C والميل المتوسط للادخار APS والميل المتوسط للاستهلاك APC هم على التوالي ...

- أ- ٠,٦٥ ، ١٧٥٠٠ ، ٣٢٥٠٠ ، ٠,٣٥ ، ٠,٦٥  
 ب- ٠,٦٥ ، ١٧٥٠٠ ، ٢٢٥٠٠ ، ٠,٥٣ ، ٠,٦٥  
 ج- ٠,٣٣ ، ١٢٤٠٠ ، ٢٦٥٠٠ ، ٠,٤٨ ، ٠,٦٥  
 د- ٠,٨٧ ، ٤٥٦٠٠ ، ٥٨٢٠٠ ، ٠,٧٧ ، ٠,٣٣

القطاع	إنتاج القطاع
الصناعة	50.000
الزراعة	70.000
الخدمات	80.000

٢- وفقاً لمعطيات الجدول اعلاه فإن قيمة الانتاج الكلي TP هي

- أ- ٢٠٠٠  
 ب- ٢٠٠٠٠  
 ج- ٢٠٠٠٠٠  
 د- ٢٠٠٠٠٠٠

٣- اذا كان الاستهلاك الخاص C يساوي 120.000 والاستثمار الخاص I يساوي 950.500 والانفاق الحكومي G يساوي 585.000 والصادرات X تساوي 132.000 والواردات M تساوي 180.000 فإن الناتج الاجمالي GDP بطريقة الانفاق الكلي يساوي ...

- أ- 1.706.500  
 ب- 1.607.500  
 ج- 1.506.700  
 د- 1.507.600

%GDP	الدخل	بنود الدخل
		دخول العاملين
		صافي الفائدة
		.....
		أرباح الشركات
		دخول المالكين للأعمال الصغيرة
		زائد الضرائب غير المباشرة
		.....
		إهلاكات الأصول الثابتة
		.....

٤- يتم إكمال فراغات الجدول على التوالي ب.....

- أ- دخل المنشآت - زائد الاقتطاعات غير المباشرة - الناتج القومي الاجمالي.  
 ب- دخل البنوك - ناقصاً الاقتطاعات المباشرة - الناتج المحلي الصافي.  
 ج- دخل الايجارات - ناقصاً الاعانات غير المباشرة - الناتج المحلي الاجمالي.  
 د- دخل الاسر - زائد مداخيل الافراد - الناتج الاجمالي الصافي.

## المحاضرة الثامنة السياسة النقدية

### مقدمة

**س : من هي الهيئة الاقتصادية التي من صلاحياتها وضع السياسة النقدية والتي تكلف بتنفيذها وتطبيقها؟**  
**ج : البنك المركزي هو المخول قانوناً بوضع هذه السياسة وتنفيذها وتطبيقها.**

بدأ ظهور البنوك المركزية في العالم خلال النصف الثاني من القرن السابع عشر، حيث أنشئ بنك السويد عام ١٦٦٨، وبنك إنكلترا عام ١٦٩٤، كما أنشئ بنك فرنسا عام ١٨٠٠. واقتصرت وظائف هذه البنوك في بادئ الأمر على القيام بالأعمال المصرفية الحكومية، بالإضافة إلى الأعمال المصرفية الاعتيادية التي تقوم بها البنوك التجارية. تم منح هذه البنوك صلاحية إصدار العملة فقط خلال القرن التاسع عشر، وكان ذلك في عام ١٨٣٣ بالنسبة لبنك إنكلترا، وعام ١٨٩٧ بالنسبة لبنك السويد.

- ويقوم البنك المركزي بممارسة الرقابة النقدية على البنوك التجارية وغيرها من المؤسسات المالية.
- يتولى إصدار وإدارة كمية النقود بما يحقق الأهداف الاقتصادية الكلية، وأهمها:

١. تحقيق الاستقرار الاقتصادي.
  ٢. خفض معدل البطالة.
  ٣. ضمان النمو الاقتصادي المضطرب.
- فكيف يستطيع البنك المركزي القيام بذلك ؟

### وظائف البنك المركزي ( بنك البنوك )

- أولاً : تنفيذ ومتابعة العمليات والالتزامات النقدية والمالية الحكومية على المستويين الداخلي والخارجي (المدفوعات والمقبوضات).
- ثانياً : إصدار العملة الوطنية، حيث يعتبر البنك المركزي السلطة النقدية الوحيدة المخولة قانوناً بإصدار العملة الوطنية.
- ثالثاً : قبول ودائع البنوك التجارية (احتياطيات البنوك التجارية) واقراض هذه البنوك عند الحاجة، بالإضافة إلى القيام بعمليات المقاصة بين هذه البنوك.
- رابعاً : التحكم في كمية النقود المعروضة (السيولة النقدية) في الإقتصاد الوطني، والمحافظة على استقرار سعر صرف العملة الوطنية.

عملية الاستقرار الاقتصادي يجب ان تتساوى فيها الكتلة النقدية مع الكتلة السلعية.  
فإذا تفوقت الكتلة السلعية على الكتلة النقدية فنحن في حالة انكماش.  
أما إذا تفوقت الكتلة النقدية على الكتلة السلعية فنحن في حالة تضخم.

معلومة : التصريف بين الإصدار النقدي والخلق النقدي:

- **الإصدار النقدي** هو إصدار العملة الوطنية من طرف البنك المركزي وطبع ونتاج النقود التي نستعملها في حياتنا اليومية.
- **الخلق النقدي** هو من اختصاصات البنوك التجارية وتعمل على خلق النقود المصرفية او ما تسمى بالنقود التجارية عن طريق تحويل الوديعات الى وديعة مشتقة وعن طريق تحويل القروض الى ودائع.
- فالإصدار النقدي يتعلق بالنقود التي تستخدم يومياً والخلق النقدي يتعلق بالنقود التجارية او المصرفية.



## مفهوم السياسة النقدية

يقصد بالسياسة النقدية الوسيلة التي يتمكن بها البنك المركزي من إدارة عرض النقود، من خلال توجيه النشاط المصرفي بما يحقق الأهداف الكلية للاقتصاد.

## أهداف السياسة النقدية

الهدف النهائي هو الارتقاء المستدام بمستوى رفاهية المجتمع.

- لتحقيق هذا الهدف هناك مجموعة من الأهداف الوسيطة للسياسة النقدية تتمثل في الأهداف الأربعة التالية:
1. الاستخدام الكامل أي خفض معدل البطالة. (عن طريق زيادة التشغيل التي تأتي عن طريق تشجيع الاستثمار والذي يأتي عن طريق خفض الفائدة والتي تأتي عن طريق توجيه البنك المركزي للبنوك التجارية أو ما يسمى أملاءات السياسة النقدية)
  2. استقرار مستوى الأسعار أي خفض معدل التضخم
  3. تحقيق معدل نمو حقيقي يفوق معدل نمو السكان.
  4. معالجة الاختلال في ميزان المدفوعات

ميزان المدفوعات: هو الجدول الذي ترصد فيه حركتي الصادرات والواردات وايضاً حركتي خروج الاموال "الاقراض الخارجي" ودخول رؤوس الاموال "الاقترض الخارجي"

الاختلال:

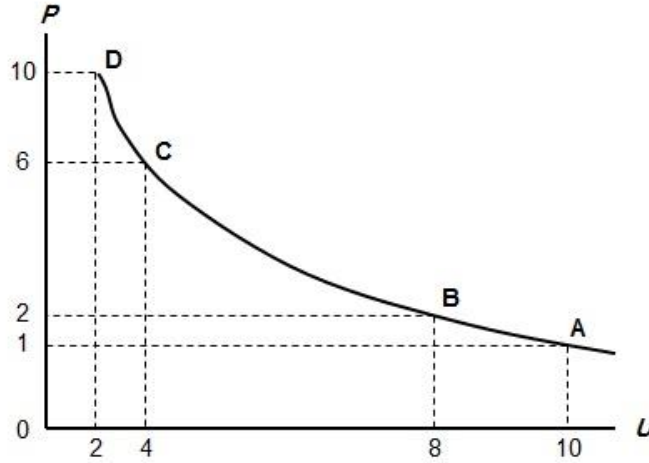
اذا تفوقت الصادرات على الواردات فنحن في حالة فائض.  
واذا تفوقت الواردات على الصادرات فنحن في حالة عجز.

وبالرغم من أهمية هذه الأهداف الأربعة للسياسة النقدية فإنها ليست الأهداف الوحيدة التي ينبغي على الحكومة تحقيقها، حيث توجد بعض الأهداف الأخرى التي لا تقل أهمية عنها مثل: العدالة في توزيع الدخل، والتخصيص الأمثل للموارد الاقتصادية.

## منحنى فيليبس

يعكس منحنى فيليبس العلاقة العكسية بين معدل البطالة (U) ومعدل التضخم (P)

حيث أثبت فيليبس في بريطانيا في القرن التاسع عشر وجود علاقة عكسية بين معدل البطالة ومعدل التغير في الأجور النقدية، كمؤشر لمعدل التضخم باعتبار أن الأجور تشكل نسبة كبيرة من تكاليف الإنتاج، فتنعكس تغيراتها على معدل التضخم، وهذا ما يتضح في الشكل التالي :-



**هذا الشكل يوضح منحنى فليبس** العلاقة العكسية بين معدل البطالة ومعدل التضخم. ويلاحظ أن معدل التضخم يكون قليل التأثير بخفض معدلات البطالة المرتفعة، نتيجة لوجود طاقات إنتاجية فائضة، لكنه يكون شديد التأثير بخفض معدلات البطالة المنخفضة أصلاً لقلّة الطاقات الإنتاجية الفائضة.

## البنك المركزي وإدارة عرض النقود

يحتم القانون على البنوك التجارية الاحتفاظ بنسبة من إجمالي الودائع كندية سائلة في حساباتها لدى البنك المركزي، الذي يحدد نسبة الاحتياطي القانوني إلى الودائع، وتتراوح نسبة الاحتياطي القانوني عادة بين 5-20% من حجم الودائع الكلية للبنك.

في حالة الانكماش يعمل البنك المركزي على تقليص الاحتياطي القانوني إلى أقصى درجة ممكنة لكي يحول البنك هذه الودائع إلى قروض لضخها في الكتلة النقدية الموجودة في الاقتصاد لكي يرفع الكتلة النقدية إلى مصاف الكتلة السليمة. ويعمل العكس في حالة التضخم.

وتعتبر هذه الإحتياطيات مصدراً مهماً للسيولة بالنسبة للبنوك التجارية، في مواجهة الطلب الزائد للعملاء لسحب من ودايعهم لدى البنك. أما طلبات السحب الاعتيادية فتقابل من الإيداعات اليومية التي غالباً ما تفوق السحب من الودائع.

والاحتياطي القانوني هو عبارة عن الحد الأدنى من النقد السائل الذي يجب على البنوك التجارية الالتزام به، وتحت ظروف معينة قد يرى البنك أن هناك ضرورة للاحتفاظ بنسب أعلى من هذا الحد، إما لمواجهة السحب من الودائع في الأعياد والعطلات، أو في فروع البنك بالمناطق المعروفة بمعدلات السحب العالية.

ويوصف هذا الاحتياطي الزائد بأنه احتياطي اختياري، أو بسبب عدم قدرة البنك على تحقيق الإقراض الكامل، فيكون لدى البنك إحتياطيات فائضة. أما بالنسبة للودائع في البنوك التجارية، والتي تعرف بالودائع تحت الطلب أو ودايع الحسابات الجارية، فهي عبارة عن مديونية البنك تجاه الجمهور.

نهاية المحاضرة الثامنة

## أسئلة الكتاب

صح / خطأ

١. تخضع السياسة النقدية في معظم الاقطار النامية للبنك المركزي. ( صح )
٢. تقوم البنوك التجارية المعاصرة بإصدار العملة الوطنية. ( خطأ )
٣. يعتبر الاستقرار الاقتصادي من اهم اهداف السياسة النقدية. ( صح )

اختر الاجابة الصحيحة

(١) تشمل مهام البنك المركزي على ما يلي باستثناء

- a. اصدار العملة
- b. الاشراف على البنوك التجارية
- c. تنظيم عرض النقود
- d. قبول ودائع الجمهور

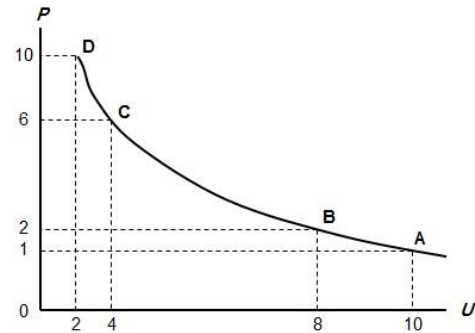
(٢) استناداً الى منحنى فليبس يؤدي ارتفاع معدل التضخم الى

- a. انخفاض نسبة البطالة
- b. ارتفاع نسبة البطالة
- c. عدم تغير معدل البطالة
- d. انخفاض معدل الفائدة

## اسئلة الاختبار النهائية

(١) من اهداف السياسة النقدية:

- a. الاستخدام الكامل أي خفض معدل البطالة
- b. استقرار مستوى الاسعار أي خفض معدل التضخم
- c. تحقيق معدل نمو حقيقي يفوق معدل نمو السكان
- d. جميع ما ذكر



(٢) المنحنى اعلاه هو منحنى

- a. الطلب
- b. العرض
- c. التكلفة
- d. فليبس

(٣) يوضح المنحنى اعلاه

- a. العلاقة الطردية بين البطالة والتضخم
- b. العلاقة العكسية بين البطالة والتضخم
- c. العلاقة الطردية بين كمية النقود وقيمتها
- d. العلاقة العكسية بين قيمة النقود وكميتها

## المحاضرة التاسعة السياسة النقدية

### أدوات السياسة النقدية

السياسة النقدية هي الوسيلة غير المباشرة التي يتمكن بها البنك المركزي من التأثير في أداء ومسار الاقتصاد القومي.

بحيث يتم تحقيق الأهداف الاقتصادية الكلية وفي مقدمتها استقرار المستوى العام للأسعار وخفض البطالة.

وتسمى الطرق التي تمكن البنك المركزي من تنظيم عرض النقد بشكل ينسجم مع أهداف السياسة الاقتصادية بأدوات السياسة النقدية. ولقد أصبح من المتعارف عليه تقسيم هذه الأدوات إلى مجموعتين هما :

#### ١. الأدوات الكمية للسياسة النقدية:

يستطيع البنك المركزي التأثير في قدرة البنوك التجارية على تقديم التسهيلات الائتمانية، وذلك بواسطة ما يعرف بالوسائل الكمية للائتمان، والتي تستهدف بالدرجة الأولى التأثير في حجم أو كمية احتياطات البنوك وتكلفة الاحتفاظ بها.

تقديم التسهيلات البنكية من مصلحة البنوك التجارية تحويل جميع الودائع الى قروض لأنها تتحمل تكلفة قبول هذه الودائع بإعطائها فائدة مدينة للمدخرين ( الربا ) وكذلك لأنها تريد ان تستفيد من الفائدة الدائنة التي تُقرض بها المستثمرين.  
فحصولها على الودائع بتكلفة وعدم تحويلها الى قروض بإيرادات يمثل خطر الافلاس بالنسبة للبنوك التجارية ومنه فإنها تعمل جاهدة على تحويل جميع هذه الودائع الى قروض.  
ولكن البنك المركزي يقف لها بالمرصاد.

**أهم هذه الأدوات الكمية للسيطرة على الائتمان هي :**

- ١) تغيير نسبة الاحتياطي القانوني
- ٢) تغيير معدل الخصم
- ٣) عمليات السوق المفتوحة

#### ١- تغيير نسبة الاحتياطي القانوني

- تُرفع هذه النسبة اذا كان الاقتصاد يعاني من الضغوطات التضخمية.
- تُرفع هذه النسبة اذا تفوقت الكتلة النقدية على الكتلة السلعية.
- تُرفع هذه النسبة اذا كان هناك تسارع في معدلات رفع المستوى العام للأسعار.
- وتُخفض هذه النسبة في حالة الانكماش.

## ٢- تغيير معدل الخصم:

- يعرف بمعدل الفائدة الذي يتقاضاه البنك المركزي على القروض التي يقدمها للبنوك التجارية.
- معدل الخصم يكون على مستويين:
  - I- مستوى الأفراد أو الشركات والبنوك التجارية.
  - II- مستوى البنوك التجارية والبنك المركزي.
- معدل الخصم خاص بالأوراق المالية.

**مثال:** إذا حصل البائع على ورقة قبض استحقاقها بعد شهرين واحتاج هذا البائع للسيولة قبل تاريخ الاستحقاق، فإنه يعطيها للبنك الذي بدوره يدفع المبلغ للبائع بعد خصم عمولته ولتكن ٥% ويحتفظ بورقة القبض إلى فترة الاستحقاق ولكن في ظروف كثيرة يحتاج أيضا البنك التجاري للسيولة قبل فترة الاستحقاق ففي هذه الحالة فإن البنك التجاري يعطي هذه الورقة للبنك المركزي بإعادة خصم اقل من ٥% ليستفيد البنك التجاري أما إذا كانت أكثر من ٥% فإن البنك التجاري يعتبر خاسر.

**مهم:** في حالة الانكماش يعمل البنك المركزي على خفض معدل إعادة الخصم تشجيعاً للبنوك التجارية للخصم لديه وتشجيعاً للبنوك التجارية للخصم للجار وتشجيعاً للتجار للبيع بالأجل وبالتالي تنشيط الحركة التجارية على المستوى الوطني. وعمل العكس في حالة التضخم أو الارتفاع المستمر للأسعار.

## ٢- عمليات السوق المفتوح

- إذا رأى البنك المركزي ان هناك اموال فائضة في السوق فإنه يعمل على امتصاصها عن طريق طرح سندات للبيع في السوق بواسطة البنوك التجارية.
- وإذا رأى البنك المركزي ان هناك حالة انكماش فإنه يعمل على شراء هذه السندات لضخ سيولة في السوق.

## ٢- الأدوات النوعية للسياسة النقدية:

تتوفر للبنك المركزي وسائل أخرى للسياسة النقدية تتمثل في الأدوات الانتقائية للانتمان يستطيع بواسطتها التحكم في عرض النقود من خلال الأدوات الانتقائية للنشاط الائتماني للبنوك التجارية.

وتهدف هذه الأدوات إلى تشجيع الاستثمار في قطاعات معينة دون أخرى من خلال تحديد سقف الائتمان في مجالات معينة أو تخفيض أسعار الفائدة على قروض الاستثمار في فعاليات اقتصادية دون أخرى.

**مثال:** إذا رأى البنك المركزي ان القطاع السياحي يحدث ضغوطات في الكتلة النقدية ويعمل على رفع الاسعار الغير الحقيقية من خلال ضخ كمية نقدية في السوق تفوق حجم التعامل التجاري فإنه يفرض على البنوك التجارية ان ترفع من سعر القروض التي يطلبها قطاع السياحة . ويقوم بذلك عن طريق رفع سعر الفائدة على هذه البنوك لكي تقوم بالتالي هذه البنوك برفع سعر الفائدة على المستثمرين الذين يردون القروض من اجل الاستثمار في القطاع السياحي . فهذه الحالة تعتبر انتقائية لأنها تخص قطاع السياحي فقط فهي لم تمس القروض الزراعية او القروض الصناعية ... لان البنك المركزي يعلم مسبقاً ان القطاع السياحي هو المتسبب في ضغوطات التضخم على المستوى الوطني. وإذا مرض القطاع السياحي فإن اثار ذلك ستترب على بقية القطاعات الاخرى ومن يعمل على عزل هذا القطاع اولاً ثم مداواته ثانياً لكي لا تتأثر باقي القطاعات الاقتصادية الاخرى

## الرقابة على البنوك

إن نجاح النظام المصرفي في أي مجتمع أمر مرهون بثقة الجمهور في سلامة الوضع المالي للبنوك، فاهتزاز هذه الثقة كفيل بإفلاس أي بنك مهما كان حجمه ووزنه المالي، ومهما كانت سمعته ونجاحاته في الماضي.

لذلك يقوم البنك المركزي بمسئولية الرقابة على أنشطة المؤسسات المالية، وخاصة البنوك التجارية بهدف تحسين النظام المصرفي ضد هذه الهزات، وتتم الرقابة من خلال الوسائل التالية :

- التحكم في نشاط البنوك التجارية في مجال الائتمان وخلق النقود المصرفية.
- ضمان سلامة المركز المالي للبنوك من خلال مراقبة أدائها المالي والإداري
- توفير شروط المنافسة في القطاع المصرفي، وعدم السماح بأي ممارسات احتكارية.
- وضع اللوائح التي تضمن التوافق بين أنشطة البنوك التجارية وأهداف السياسة الاقتصادية للدولة.

## فاعلية السياسة النقدية

تعتبر السياسة النقدية أكثر مرونة من السياسة المالية التي تستخدم الإنفاق الحكومي والضرائب.

### صلاحيات البنك المركزي:

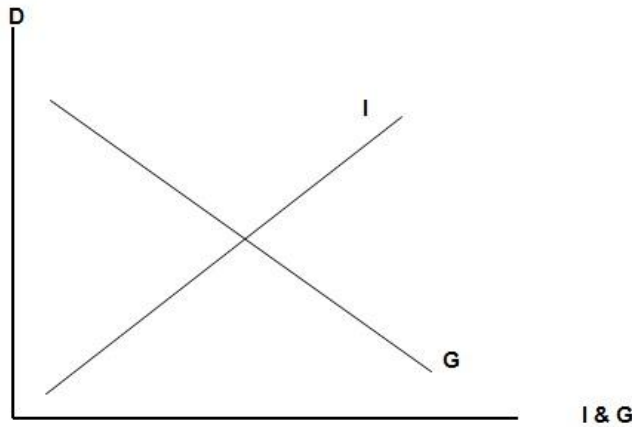
يقوم بإدخال التعديلات المناسبة على أي من أدوات السياسة النقدية دون الحاجة إلى إصدار تشريعات أو قوانين جديدة أو تعديل التشريعات القائمة، كما هو الحال بالنسبة للسياسة المالية.

يعتقد أنصار المدرسة النقدية بزعامة **ملتون فريدمان** أن السياسة النقدية أكثر فاعلية في معالجة مشكلات الركود الاقتصادي من السياسة المالية، وخاصة في الدول المتقدمة.

وذلك بسبب الاستقلالية الكبيرة التي تتمتع بها البنوك المركزية في تلك الدول في اتخاذ قراراتها بعيداً عن الضغوط السياسية.

بعكس الحال بالنسبة للبنوك المركزية في الأقطار النامية، والتي غالباً ما يكون البنك المركزي فيها غير مستقل بل أحد الإدارات التابعة للحكومة.

**ويوضح الشكل التالي** أن النمو الاقتصادي مرهون بقلّة التدخل الحكومي في السياسة النقدية وبزيادة استقلالية البنك المركزي.



**الشكل (٢-٦) :** يتضح أنه كلما ازداد التدخل الحكومي (G) في السياسة النقدية قلت استقلالية البنك المركزي (I). ومن الملاحظ أن هناك علاقة مباشرة بين مستوى التطور الاقتصادي (D) وبين استقلالية السياسة النقدية، خاصة في الدول المتقدمة.

نهاية المحاضرة التاسعة

## اسئلة الكتاب

صح / خطأ

- ١) معدل الخصم هو سعر الفائدة الذي تتقاضاه البنوك التجارية من عملائها. ( خطأ )  
٢) تؤدي بيع السندات الحكومية بواسطة البنك المركزي الى انخفاض الطلب الكلي. ( صح )  
٣) تخضع السياسة النقدية في معظم الاقطار النامية للبنك المركزي. ( صح )

اختر الاجابة الصحيحة

١. عندما تقوم البنوك التجارية بشراء السندات الحكومية فإن القروض التي يمكن للبنك تقديمها

أ- ستزيد بمقدار قيمة السندات

ب- ستتخف بمقدار السندات

ج- ستتخف بأضعاف قيمة السندات

د- ستزيد بأضعاف قيمة السندات

٢. أي من الاجراءات التالية من قبل البنك المركزي يمثل سياسة نقدية

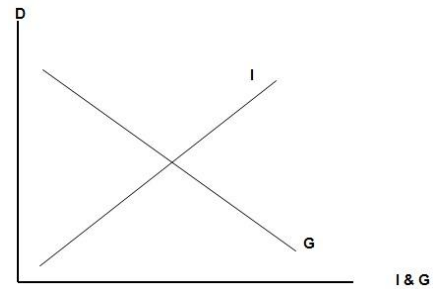
أ- زيادة معدل الخصم

ب- تخفيض متطلبات الاحتياطي القانوني

ج- بيع السندات الحكومية

د- تخفيض عرض النقود

## اسئلة الاختبار النهائي



١) يوضح الشكل اعلاه

- أ- أن النمو الاقتصادي مرهون بقلّة التدخل الحكومي في السياسة النقدية وبتزايد استقلالية البنك المركزي.  
ب- أن معدل التضخم يكون قليل التأثير بخفض معدلات البطالة المرتفعة لوجود طاقات إنتاجية فائضة.  
ج- أن معدل التضخم يكون شديد بخفض معدلات البطالة المنخفضة أصلاً لقلّة الانتاجية الفائضة.  
د- أن النمو الاقتصادي مرهون بكثرة التدخل الحكومي في السياسة المالية وبتزايد استقلالية البنك المركزي.

## المحاضرة العاشرة السياسة المالية

### تعريف السياسة المالية

هي الأسلوب الذي تنتهجه الحكومة في محاولتها التأثير على أداء الاقتصاد بطريقة غير مباشرة من خلال استخدام الإنفاق الحكومي والضرائب كأدوات لإحداث هذا التأثير لتحقيق أهداف السياسة الاقتصادية الحكومية و المتمثلة في ما يلي :

1. التخصيص الأمثل للموارد الاقتصادية
2. الاستقرار الاقتصادي أي خفض التضخم والبطالة
3. النمو الاقتصادي
4. تحقيق عدالة توزيع الدخل والثروة



### أدوات السياسة المالية

يتأثر الأداء الاقتصادي بالتغيرات التي تطرأ على كل من الإنفاق الحكومي والضرائب، وتنقسم تغيرات الإنفاق والضرائب إلى نوعين هما :

- 1- تغيرات غير مخططة
- 2- تغيرات مخططة

#### 1. التغيرات غير المخططة

أي تلك التغيرات التي تحدث بطريقة تلقائية ويطلق عليها اسم آلية الاستقرار الذاتية حيث تعمل هذه الآلية استجابة لما يطرأ على مستوى الدخل من تغييرات عبر الدورات الاقتصادية ، وبالتالي فهي تسهم في استعادة الاستقرار الاقتصادي .

#### 2. التغيرات المخططة

يقصد بها تغيرات السياسة المالية المخططة التي تهدف إلى :  
أولاً : التأثير على الطلب الكلي ( زيادة الأجور - خفض الأسعار )  
ثانياً : تحقيق الاستقرار الاقتصادي.

وتنقسم السياسة المالية المخططة إلى نوعين هما:

- I- سياسة مالية مخططة كمية تعتمد على التغيرات الكمية في الضرائب.
- II- سياسة مالية مخططة نوعية تعتمد على التغيرات في هيكل الضرائب أو تركيبها، ومصادر تمويل الدين العام.



## أدوات السياسة المالية الكمية المخططة:

تنقسم أدوات السياسة المالية الكمية المخططة إلى ما يلي :

- ١- الضرائب
- ٢- الإنفاق الحكومي
- ٣- الضرائب والإنفاق الحكومي معا (الموازنة العامة)

### ١- الضرائب

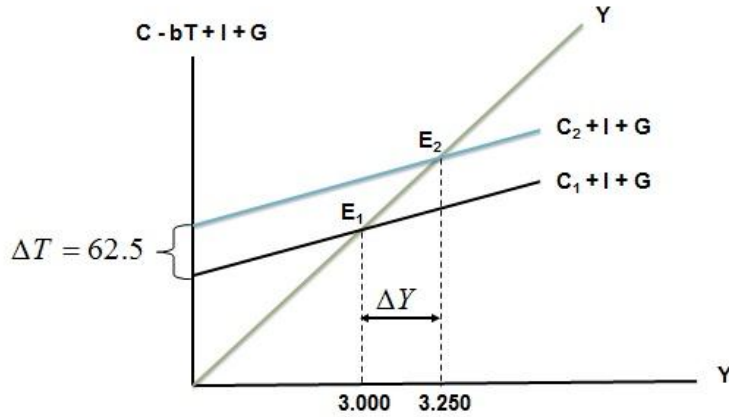
تعتمد الحكومات في تمويل إنفاقاتها على إيرادات الضرائب بأنواعها، كما تعتمد بعض الحكومات على عائدات بيع المواد الأولية التي تمتلكها الدولة.

○ إن زيادة الضريبة تؤدي إلى خفض الدخل المتاح للإنفاق فتؤثر سلباً على الطلب الكلي ومستوى دخل التوازن.

○ يقاس الأثر النهائي لتغير معين في الضريبة على دخل توازن الاقتصاد باستخدام مضاعف الضريبة الثابتة، الذي تمثل المعادلة التالية :

$$\frac{\Delta Y}{\Delta T} = -b \left( \frac{1}{1-b} \right)$$

ويوضح الشكل التالي كيفية تأثير خفض الضريبة على دخل توازن الاقتصاد:



**من خلال الشكل السابق نلاحظ أنه :**

إذا قمنا بتخفيض الضريبة الثابتة بمقدار ٦٢,٥ مليون دينار فإن ذلك يؤدي إلى زيادة الإنفاق الاستهلاكي وذلك نتيجة لزيادة الدخل المتاح، ومنه فقد انتقل توازن الاقتصاد من  $E_1$  حيث الكساد وارتفاع البطالة إلى  $E_2$  حيث الاستخدام الكامل وبالتالي زاد الدخل القومي بمقدار ٢٥٠ مليون دينار وهي تعادل أربعة أضعاف انخفاض في الضريبة الثابتة.

## ١. الإنفاق الحكومي

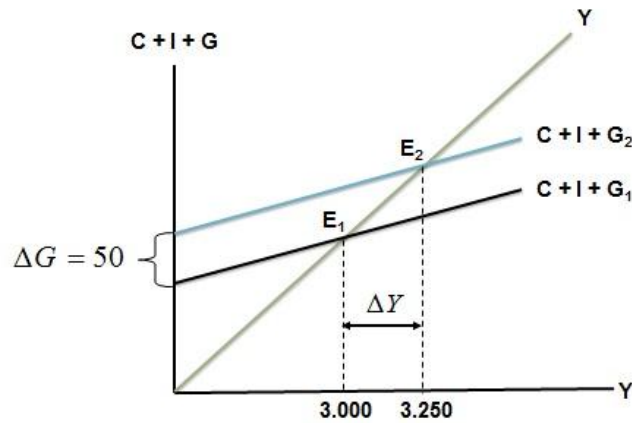
يقصد بالإنفاق الحكومي ما تنفقه الوزارات والأجهزة الحكومية على مشترياتها من السلع والخدمات الاستهلاكية والاستثمارية، بما في ذلك من إنفاق على أجور ومرتببات العاملين في القطاع الحكومي، والإنفاق على مدخلات الإنتاج، بالإضافة إلى الإنفاق الاستثماري على مشروعات البنية التحتية. وحتى يمكن قياس أثر زيادة معينة في الإنفاق الحكومي على دخل توازن الاقتصاد لا بد من التعرف على مضاعف الإنفاق الحكومي، والذي يعرف بأنه مقدار التغير في الدخل لكل دينار من التغير في الإنفاق الحكومي.

ويتمثل مضاعف الإنفاق الحكومي في المعادلة التالية :

$$\frac{\Delta Y}{\Delta G} = \frac{1}{1-b}$$



ويتضح من الشكل التالي أن زيادة الإنفاق الحكومي بمقدار ٥٠ مليون دينار تؤدي إلى زيادة الدخل أو الناتج المحلي الإجمالي بمقدار ٢٥٠ مليون دينار، وذلك نتيجة لتأثير مضاعف الإنفاق الحكومي والذي تزيد قيمته على الواحد الصحيح.



من خلال الشكل السابق نلاحظ أنه :

بزيادة الإنفاق الحكومي بمقدار ٥٠ مليون دينار فإن ذلك يؤدي إلى زيادة الطلب الكلي بطريقة مباشرة، وعليه فقد انتقل توازن الاقتصاد من  $E_1$  حيث الكساد، وارتفع البطالة إلى  $E_2$  حيث الاستخدام الكامل، وبالتالي زاد الدخل القومي بمقدار ٢٥٠ مليون دينار، وهذه الزيادة تمثل خمسة أضعاف الزيادة في الإنفاق الحكومي.



نهاية المحاضرة العاشرة

## اسئلة الكتاب

صح ام خطأ

- 1- تعتبر الضرائب التصاعدية وسيلة مهمة لإعادة توزيع الدخل القومي. (صح)
- 2- تؤدي زيادة الضرائب الى انخفاض الدخل القابل للانفاق. (صح)
- 3- تستطيع الحكومة تمويل العجز في الموازنة عن طريق بيع السندات الحكومية. (صح)
- 4- تمثل زيادة الضرائب سياسة مالية توسعية. (خطأ)
- 5- يتحقق الفائض في الموازنة عندما تكون الايرادات اقل من المصروفات الحكومية. (خطأ)

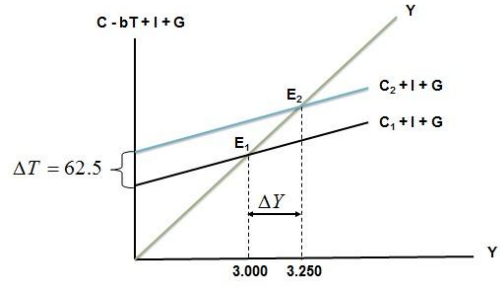
## اختر الاجابة الصحيحة

- 1- تؤدي زيادة الضرائب على الدخل وأرباح الشركات الى  
أ- زيادة الاستثمار  
ب- انخفاض الاستثمار  
ج- زيادة الادخار  
د- زيادة النمو
- 2- تستخدم السياسة المالية التوسعية  
أ- في فترة الانتعاش الاقتصادي  
ب- في فترة الركود الاقتصادي  
ج- لمحاربة التضخم  
د- ليس أي مما تقدم
- 3- تستطيع الحكومة معالجة العجز في الموازنة عن طريق الاقتراض من  
أ- البنوك التجارية  
ب- المنظمات المالية الدولية  
ج- المنظمات المالية الاقليمية  
د- كل ما تقدم
- 4- من أهم وسائل السياسة المالية هي  
أ- الضرائب والرسوم  
ب- الانفاق الحكومي  
ج- معدل الفائدة  
د- (أ) و (ب)
- 5- من أهم مصادر الايرادات الحكومية في الاقطار المتقدمة هي  
أ- الضرائب على الدخل والارباح  
ب- الرسوم الجمركية  
ج- ضريبة المبيعات  
د- ضريبة الانتاج

## اسئلة الاختبار النهائي

### 1- من اهداف السياسة المالية

- أ- التخصيص الأمثل للموارد الاقتصادية
- ب- الاستقرار الاقتصادي أي خفض التضخم والبطالة
- ج- النمو الاقتصادي وتحقيق عدالة توزيع الدخل والثروة
- د- كل ما ذكر اعلاه



٢- يبين الشكل اعلاه

- أ- كيفية تأثير خفض الضريبة على دخل توازن الاقتصاد  
 ب- كيفية تأثير رفع الضريبة على دخل توازن الاقتصاد  
 ج- كيفية تأثير خفض دخل التوازن على مقدار الضريبة  
 د- لا شيء مما ذكر

٣- تمثل هذه المعادلة  $\frac{\Delta Y}{\Delta T} = -b\left(\frac{1}{1-b}\right)$

- أ- مضاعف الضريبة الثابتة  
 ب- مضاعف الانفاق الحكومي  
 ج- مضاعف الضريبة النسبية  
 د- مضاعف الاستثمار الحكومي

٤- ان العلاقة بين الضريبة ودخل التوازن هي علاقة :

- أ- طردية  
 ب- عكسية  
 ج- عكسية احيانا وطردية احيانا  
 د- لا شيء مما سبق

٥- تؤدي زيادة الضريبة على الدخل الى ..... الدخل المتاح ل....

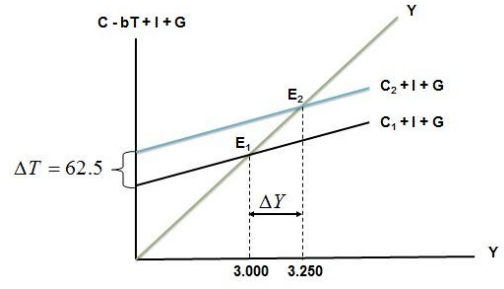
- أ- خفض - الانفاق  
 ب- رفع - الاستثمار  
 ج- خفض - الاستثمار  
 د- رفع - الانفاق

٦- تمثل هذه المعادلة  $\frac{\Delta Y}{\Delta G} = \frac{1}{1-b}$

- أ- مضاعف الضريبة الثابتة  
 ب- مضاعف الانفاق الحكومي  
 ج- مضاعف الضريبة النسبية  
 د- مضاعف الاستثمار الحكومي

٧- تقوم الحكومة بتمويل انفاقاتها العامة عن طريق :

- أ- المساعدات المالية الداخلية والخارجية  
 ب- الايادات الضريبية  
 ج- الاقتراض الداخلي والخارجي  
 د- الاجابتين ( ب ) و ( ج ) كلاتهما صحيحة



٨- في الشكل اعلاه، يزيد ..... بمقدار ..... مليون دينار ..... الطلب الكلي بمقدار.....

أ- الضريبة - ٥٠ - انخفاض - ٢٥٠

ب- الدخل - ٥٠ - زاد - ٢٥٠

ج- الانفاق الحكومي - ٢٥٠ - زاد - ٥٠

د- الانفاق الحكومي - ٥٠ - زاد - ٢٥٠

٩- في الشكل اعلاه انتقل توازن الاقتصاد من E1 حيث .....، وارتفع البطالة الى E2

أ- الزواج ، التضخم

ب- الكساد ، الاستخدام الكامل

ج- اللاتوازن ، التوازن

د- الفائض ، العجز

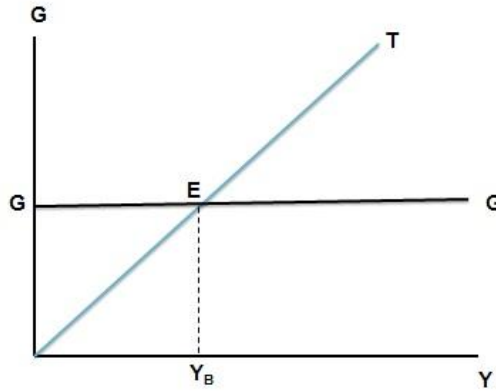
## المحاضرة الحادية عشر السياسة المالية

### الضرائب والإنفاق معاً - الموازنة العامة

الموازنة العامة للدولة هي ما يعرف بالميزانية عند غير المتخصصين وهي في الحقيقة تعني مشروع الميزانية أو الميزانية المقترحة، وبينما تكون الميزانية متوازنة دائماً، نجد أن الموازنة قد لا تكون متوازنة في بعض الحالات بل يمكن أن تسجل عجزاً أو فائضاً.

ويوضح الشكل التالي

- أنه قد يكون هناك عجز (Deficit) بالموازنة وذلك في حالة زيادة النفقات المقترحة (G) على إيرادات الضرائب (T)،
- وقد يكون هناك فائض (Surplus) في حالة زيادة الإيرادات الضريبية (T) على النفقات الحكومية (G)
- بينما قد يكون هناك توازن في حالة تعادل النفقات (G) مع الإيرادات (T).



#### من خلال الشكل السابق نلاحظ أنه :

في حال الضريبة النسبية فإن المنحنى (T) يوضح إيرادات الضريبة وهي تزيد بزيادة مستوى الدخل (Y). ويمثل الخط الأفقي الإنفاق الحكومي وهو مستقل عن الدخل. وعند  $(Y_B)$  يتعادل الإنفاق مع إيرادات الضريبة وتكون الموازنة متوازنة ( $G=T$ )، لكن وعند أي مستوى للدخل أقل من  $(Y_B)$  يكون هناك عجز في الموازنة ( $G>T$ )، بينما عند أي مستوى للدخل أعلى من  $(Y_B)$ ، يكون هناك فائض في الموازنة ( $T>G$ ).

### الموازنة المتوازنة

تعرف الموازنة المتوازنة بأنها الموازنة التي يتعادل فيها الإنفاق الحكومي المقترح مع الإيرادات المتوقعة من الضرائب، أي أن يكون الإنفاق الحكومي ممولاً بالكامل من إيرادات الضرائب دون زيادة أو نقصان.

## مضاعف الموازنة المتوازنة

مضاعف الموازنة المتوازنة هو مضاعف الإنفاق الحكومي مضافاً إليه مضاعف الضريبة الثابتة المساوية للإنفاق الحكومي، أي أن:

$$\frac{\Delta Y}{\Delta G + \Delta T} = \left\{ \frac{1}{1-b} \right\} + \left\{ -b \frac{1}{(1-b)} \right\} \Rightarrow \frac{1-b}{1-b} = 1$$



## السياسات المالية النوعية

بالإضافة إلى السياسات المالية المخططة المنصبة على التغيير في حجم الإنفاق أو زيادة وخفض إيرادات الضريبة، هناك سياسات بديلة تبقي على هذه المتغيرات دون تغيير في أحجامها، وإنما تركز على هيكلها، فتغير توزيع عبء الضريبة، أو تغير هيكل الإنفاق، أو تغير هيكل أو مصادر تمويل الدين العام.

## أنواع السياسات المالية النوعية

تتمثل أنواع السياسات المالية النوعية في ما يلي :

١- إعادة توزيع عبء الضرائب

٢- إعادة هيكلتة الإنفاق الحكومي

٣- إعادة هيكلتة الدين العام

### ١. إعادة توزيع عبء الضرائب:

إن عملية إعادة توزيع عبء الضرائب (Redistribution of Taxes) من خلال زيادة الضريبة على الدخل المرتفعة تؤدي إلى زيادة الإيرادات الحكومية ومن ثم زيادة الإنفاق الحكومي، وبالتالي إنعاش الاقتصاد في نهاية الأمر.

### ٢. إعادة هيكلتة الإنفاق الحكومي:

تعتبر إمكانية تغيير هيكل الإنفاق الحكومي على جانب كبير من الأهمية في تحريك النشاط الاقتصادي فبعض النفقات الحكومية خاصة في مجالات معينة يمكن أن تؤدي إلى تحفيز النشاط الاقتصادي أكثر من النفقات في مجالات أخرى.

### ٣. إعادة هيكلتة الدين العام

تنصب سياسة إعادة هيكلتة الدين العام على تغير مصدر تمويل عجز الموازنة بما يتفق وأهداف السياسة الاقتصادية والمتمثلة في :

i. التخصيص الأمثل للموارد الاقتصادية

ii. الاستقرار الاقتصادي أي خفض التضخم والبطالة

iii. النمو الاقتصادي

iv. تحقيق عدالة توزيع الدخل والثروة

## الآلية التلقائية للاستقرار الاقتصادي

افترضنا في نقاشنا للسياسة المالية المخططة أن الضريبة مستقلة عن مستوى الدخل، ولكن، في الواقع أن ضريبة الدخل تعتمد على مستوى الدخل، فهي نسبة مئوية من الدخل، لذلك، يتضمن الاقتصاد آلية تلقائية للاستقرار.

## تقويم سياسة الموازنة المتوازنة



كان تحقيق توازن الموازنة أهم أهداف السياسة المالية في النظريات الاقتصادية التقليدية.

س : هل يعني هذا أنه يجب على الحكومة أن تسعى دائماً لتحقيق توازن الموازنة ؟

ج : يجب أن لا يكون هدف الحكومة دائماً هو تحقيق التوازن في الموازنة العامة بأي ثمن، بل يجب أن يكون الهدف هو تحقيق الاستقرار الاقتصادي.

### 1. مضاعف الإنفاق الحكومي في اقتصاد مغلق وضريبة نسبية (t) على الدخل:

في الحالة مضاعف الإنفاق الحكومي في اقتصاد مغلق وضريبة نسبية (t) على الدخل فإنه يمكن تمثيل توازن الاقتصاد بالمعادلات الرياضية التالية :

شرط التوازن

$$Y = C + I + G$$

$$C = C_a + b(Y + tY)$$

$$I = I_0, G = G_0, T = t_0Y$$

$$\text{Then, } Y = C_a + bY - bt_0Y + I_0 + G_0$$

$$Y = \frac{1}{1-b+bt_0} (C_a + I_a + G_0)$$

#### ملاحظة مهمة

نبه الدكتور الى ان معادلات الاشتقاق ليست مطلوبة في الاختبار النهائي.

المطلوب هو المعادلة النهائية بالخط العريض.

$$\frac{\Delta Y}{\Delta G} = \frac{1}{1-b+bt_0}$$



## ٢. مضاعف الإنفاق الحكومي في إقتصاد مغلق وضريبة ثابتة واستثمار غير مستقل:

نفترض في هذه الحالة إقتصاد من ثلاث قطاعات وضريبة ثابتة على الدخل مع وجود استثمار معتمد على الدخل، حيث المعادلات التالية تمثل هذا الإقتصاد:

$$Y = C + I + G \quad \text{شرط التوازن}$$

$$C = C_a + b(Y - T_0) \quad \text{دالة الاستثمار}$$

$$I = i_0 + i_1 Y$$

$$G = G_0, T = T_0$$

$$\text{Then, } Y = C_a + bY - bT_0 + i_0 + i_1 Y + G_0$$

$$Y = \frac{1}{1 - b - i_1} (C_a - bT_0 + i_0 + G_0)$$

$$\frac{\Delta Y}{\Delta G} = \frac{1}{1 - b - i_1}$$

**ملاحظة مهمة**  
 نبيه الدكتور الى ان معادلات  
 الاشتقاق ليست مطلوبة في  
 الاختبار النهائي.  
**المطلوب هو المعادلت  
 النهائية بالخط العريض.**

## ٣. مضاعف الإنفاق الحكومي في إقتصاد مفتوح وضريبة ثابتة واستثمار مستقل:

في هذه الحالة نفترض لإقتصاد واقعي من أربعة قطاعات كما نفترض أن الضريبة والاستثمار مستقلان عن الدخل وعليه يمكن تمثيل الإقتصاد بالمعادلات التالية:

$$Y = C + I + G + X - M \quad \text{شرط التوازن}$$

$$C = C_a + b(Y - T_0)$$

$$M = m_a + m_1(Y - T_0)$$

$$G = G_0, T = T_0, X = X_0$$

$$Y = C_a + bY - bT_0 + I_0 + G_0 + X_0 - m_a - m_1 Y - m_1 T_0$$

$$Y = \frac{1}{1 - b + m_1} (C_a - bT_0 + I_0 + G_0 + X_0 - m_0 - m_1 T_0)$$

$$\frac{\Delta Y}{\Delta G} = \frac{1}{1 - b + m_1}$$

نهاية المحاضرة الحادية عشر

**ملاحظة مهمة**  
 نبيه الدكتور الى ان معادلات  
 الاشتقاق ليست مطلوبة في  
 الاختبار النهائي.  
**المطلوب هو المعادلت  
 النهائية بالخط العريض.**

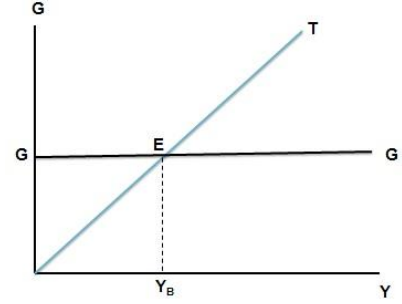
## اسئلة الاختبار النهائي

١- يجب الا يكون هدف الحكومة دائماً هو تحقيق التوازن في الموازنة العامة بأي ثمن بل يجب ان يكون الهدف هو

- أ- تحقيق الاستقرار الاقتصادي
- ب- تحقيق الربح الاقتصادي
- ج- تحقيق الفائض الاقتصادي
- د- جميع ما ذكر اعلاه

٢- هذه المعادلة تمثل ..... 
$$\frac{\Delta Y}{\Delta G + \Delta T} = \left\{ \frac{1}{1-b} \right\} + \left\{ -b \frac{1}{(1-b)} \right\} \Rightarrow \frac{1-b}{1-b} = 1$$

- أ- مضاعف الموازنة المتوازنة
- ب- مضاعف الانفاق الحكومي
- ج- مضاعف الضريبة النسبية
- د- لا شئ مما ذكر



٣- في الشكل اعلاه (Y<sub>B</sub>) يتعادل ..... مع ..... وتكون الموازنة .....

- أ- الدخل - الانفاق - فائض
- ب- الانفاق - ايراد الضريبة - متوازنة
- ج- الانفاق - الدخل - عاجزة
- د- الدخل - الاستهلاك - متوازنة

## المحاضرة الثانية عشر الإقتصاد الدولي

### مقدمة

تعتبر دراسة الإقتصاد الدولي والتجارة الدولية (International Trade) من الفروع المهمة لعلم الإقتصاد الحديث، حيث تعتمد دراسة الإقتصاد الدولي، كما هي الحال بالنسبة لفروع الإقتصاد الأخرى، كالمالية العامة والتنمية الإقتصادية، على النظرية الإقتصادية العامة بفرعيها : الإقتصاد الجزئي (Microeconomics)، والإقتصاد الكلي (Macroeconomics).

- يدرس الإقتصاد الدولي على مستوى الإقتصاد الجزئي أثر أنظمة الجمارك في مختلف الأقطار على تخصيص الموارد الإقتصادية وتوزيع الدخل.
- أما على مستوى الإقتصاد الكلي، فتهتم دراسة الإقتصاد الدولي بالطرق التي تؤثر بواسطتها الواردات والصادرات والتدفقات المالية الاستثمارية على الدخل والاستخدام والنمو الإقتصادي.

### التجارة الدولية

#### ١. أنماط واتجاهات التجارة الدولية:

- عندما يقوم بلد معين بشراء السلع والخدمات من بلدان أخرى تسمى هذه بالواردات (Imports)
- أما السلع والخدمات التي يتم بيعها إلى الأقطار الأخرى فتسمى بالصادرات (Exports)
- ملاحظة أن جميع البلدان سواء كانت متقدمة أو نامية تقوم باستيراد وتصدير سلع وخدمات مختلفة.

#### ▪ تجارة السلع:

تضم تجارة السلع التبادل التجاري في كل من السلع المصنعة والمواد الخام والسلع الوسيطة.

#### ▪ تجارة الخدمات:

لا تقتصر عملية تصدير الخدمات على الأقطار المتقدمة فقط، وإن كانت تمثل الجزء الأكبر من صادرات الخدمات في العالم وذلك بحكم حاجة الأقطار النامية لمختلف أنواع الخدمات من الأقطار المتقدمة. مثل خدمات الشحن والتأمين والعلاج الطبي والخدمات التعليمية والاستشارية والسياحية وغيرها. إلا أن الأقطار المتقدمة تستورد هي أيضاً بعض الخدمات، وخاصة السياحة والعمالة، من الأقطار النامية. حيث تشكل إيرادات السياحة وتحويلات العاملين بالخارج مبالغ كبيرة بالنسبة لبعض الأقطار المصدرة للخدمات السياحية والعمالة مثل مصر، والمغرب، ولبنان.

#### ٢. مبررات قيام التجارة الدولية

يمكن الوقوف على أسباب قيام التجارة بين بعض الأقطار بمجرد تصورنا لما يحدث في حالة قيام كل قطر بالاكتفاء الذاتي وعدم المتاجرة مع الأقطار الأخرى. في الواقع أنه من الصعب لأي قطر، مهما كان غنياً بموارده الإقتصادية أن يستغني عن المنتجات التي يمكن الحصول عليها من الأقطار الأخرى. فقد يستحيل أن ينتج كل قطر جميع ما يحتاجه من السلع والخدمات، حيث يؤدي ذلك في النهاية إلى ارتفاع تكاليف الإنتاج وبالتالي انخفاض مستوى المعيشة في ذلك القطر.

## I- قانون الميزة المطلقة:

إن أبسط وأوضح سبب لقيام التجارة الدولية هو ما يعرف بقانون الميزة المطلقة Law of Absolute Advantage الذي جاء به آدم سميث، والذي يستند إلى مبدأ تقسيم العمل والتخصص بين الأقطار. حيث تحدث التجارة بين الأقطار، إستناداً إلى هذا المبدأ، عندما يكون بإمكان كل قطر (بسبب إختلاف ظروف الإنتاج) أن يصدر إلى القطر الآخر سلعة معينة بأقل تكلفة مما لو تم إنتاجها في ذلك القطر.

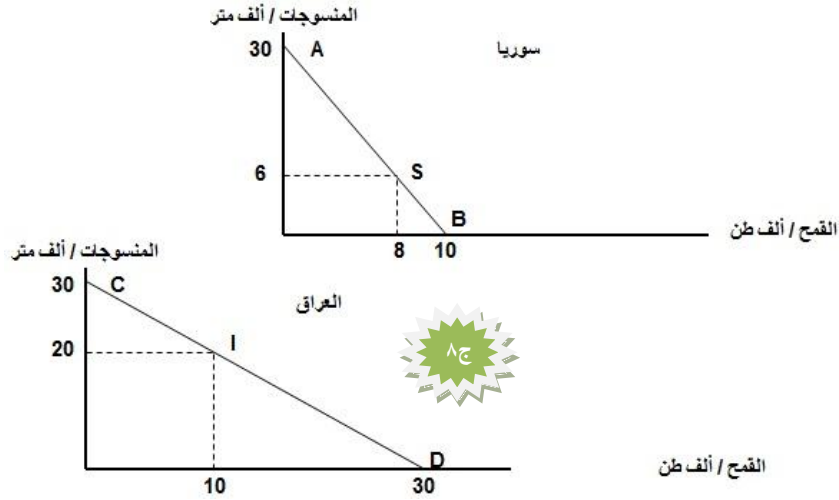
## II- مبدأ الميزة النسبية:

لا تقتصر أسباب قيام التجارة الدولية على أساس الميزة المطلقة. فيمكن أن تكون التجارة مربحة لجميع الأقطار حتى في حالة وجود قطر معين يستطيع أن ينتج أكثر من سلعة واحدة بتكاليف أقل من تكلفتها إنتاجها في قطر آخر. ويعزى هذا التبرير لقيام التجارة لما يعرف بمبدأ الميزة النسبية (Comparative Advantage).

ويمكن تفسير مبدأ الميزة النسبية بالمثال التالي. فإذا افترضنا أن العراق وسوريا يمتلكان ذات القدر من الموارد التي يستغلانها مناصفة في كلتا الدولتين لإنتاج كل من المنسوجات والقمح بالكميات الموضحة في الجدول التالي حيث يتضح من الجدول أن للعراق ميزة نسبية في إنتاج القمح، كما أن لسوريا ميزة نسبية في إنتاج المنسوجات، أي أن العراق هو الأكثر كفاءة في إنتاج القمح، بينما سوريا هي الأكثر كفاءة في إنتاج المنسوجات.

جدول يبين إنتاج عمل يوم واحد في كل من العراق وسوريا				
الدولة	المنسوجات		القمح	
	ألف متر / يوم	ألف طن / يوم	ألف طن / يوم	تكاليف الفرص البديلة
	إنتاج	إنتاج	المنسوجات	القمح
سوريا	٣٠	١٠	٣/١	١/٣
العراق	٣٠	٣٠	١/١	١/١

فإذا افترضنا عدم وجود تجارة بين البلدين، وكان كل منهما يحقق الإكتفاء الذاتي بإنتاج ما يحتاجه من المنسوجات والقمح، عند النقطة (S) على منحنى إمكانيات الإنتاج (AB) بالنسبة لسوريا، وعند النقطة (I) على منحنى إمكانيات الإنتاج (CD) بالنسبة للعراق في الشكل (١-٨). يتضح من الشكل أن سوريا قد إختارت أن تنتج ثمانية آلاف طن من القمح وستة آلاف من المنسوجات لغرض إستهلاكها المحلي، وذلك عند النقطة (S). بينما إختار العراق أن ينتج عشرة آلاف طن من القمح وعشرون ألف متر من المنسوجات لغرض الإستهلاك المحلي عند النقطة (I).



يتضح من الشكل السابق الذي يبين منحنيات إمكانيات الإنتاج والاستهلاك في كل من سوريا والعراق في حالة الإكتفاء الذاتي أي في غياب التبادل التجاري بين البلدين أن سوريا تنتج وتستهلك ثمانية آلاف طن من القمح وستة آلاف متر من المنسوجات، بينما ينتج العراق ويستهلك عشرة آلاف طن من القمح وعشرين ألف متر من المنسوجات.

### ٣. مكاسب التجارة:

تتمثل مكاسب التجارة The Gains from Trade في إمكانية تخصيص كل دولة في فرع الإنتاج الذي لها فيه ميزة نسبية. فنجد أن بإمكان كل دولة أن تنتج ما يكفي إستهلاكها المحلي مع تصدير الفائض إلى الدولة الأخرى والنتيجة هي زيادة المتاح للدولتين من كل المنسوجات والقمح بما يسهم في رفع مستوى رفاه شعبيهما، وذلك كما يتبين من الجدول التالي :

جدول يبين إنتاج واستهلاك المنسوجات والقمح في حالة التخصص والتبادل التجاري بين العراق وسوريا				
منسوجات		قمح		
إنتاج	إستهلاك	إنتاج	إستهلاك	
٠٠	٨	٣٠	٦	سوريا
٣٠	١٠	٠٠	٢٠	العراق
٣٠	١٨	٣٠	٢٦	المجموع
$١٢ = ١٨ - ٣٠$		$٤ = ٢٦ - ٣٠$		مكاسب التجارة

#### ٤- شروط التبادل التجاري:

شروط التبادل التجاري (The Terms of Trade) والتي يمكن تعريفها بأنها عدد الوحدات من سلعة معينة التي يجب تصديرها مقابل الحصول على وحدات من سلعة أخرى يتم استيرادها.  
وبعبارة أخرى إن شروط التبادل التجاري تمثل الأسعار الحقيقية للسلع في التبادل التجاري للحصول على سلع أخرى عن طريق الاستيراد بدلاً من إنتاجها محلياً.

#### وسائل حماية التجارة:

بالرغم من المكاسب المؤكدة للتجارة الحرة ومن أبرزها الاستخدام الأمثل للموارد الإقتصادية في العالم، وتحقيق أقصى مستوى من الإنتاج العالمي والتنوع في الإنتاج للإستجابة لأذواق المستهلكين، فإن الكثير من الأقطار النامية وحتى بعض الأقطار المتقدمة، ما زالت تمارس وسائل عديدة تعيق حرية التجارة الدولية وذلك بهدف حماية صناعاتها الوطنية. ومن أبرز وسائل الحماية المطبقة ما يلي :

##### ١- التعريضة الجمركية:

يقصد بالتعريضة الجمركية Tariff الرسوم التي تفرضها الحكومات على الواردات.



##### ٢- نظام الحصص:

يقصد بنظام الحصص Quota System هو تقييد الكميات المسموح باستيرادها من أي سلعة خلال فترة معينة.

نهاية المحاضرة الثانية عشر

#### اسئلة الاختبار النهائي

١- عندما يقوم بلد معين بشراء السلع والخدمات من بلدان أخرى تسمى هذه بـ

- أ- الواردات
- ب- الصادرات
- ج- المساعدات
- د- القروض

٢- إن السلع والخدمات التي يتم بيعها إلى الأقطار الأخرى تسمى بـ

- أ- الواردات
- ب- الصادرات
- ج- المساعدات
- د- القروض

٣- إن ..... تقوم باستيراد وتصدير سلع وخدمات مختلفة.

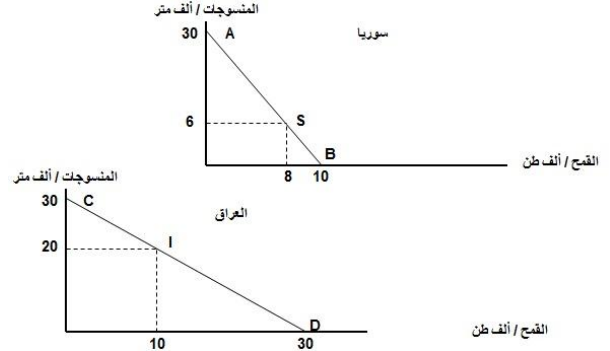
- أ- الدول النامية
- ب- الدول المختلفة
- ج- الدول المتقدمة
- د- جميع الدول

٤- يقصد بالتعريضة الجمركية Tariff الرسوم التي تفرضها الحكومات على .....

- أ- الواردات
- ب- الصادرات
- ج- الاجانب
- د- السياح

٥. المنحنيين التاليين يبينان ....

- أ- منحنيات إمكانيات الإنتاج والاستهلاك في كل من سوريا والعراق  
 ب- منحنيات إمكانيات الادخار والاستهلاك في كل من سوريا والعراق  
 ج- منحنيات إمكانيات الدخل والاستهلاك في كل من سوريا والعراق  
 د- منحنيات إمكانيات الإنتاج والاستثمار في كل من سوريا والعراق  
 هـ-



٦. المنحنيين السابقين يبينان أن كل من الاقتصاد السوري والعراقي في حالة .....

- أ- الفائض التجاري  
 ب- العجز المالي  
 ج- التضخم النقدي  
 د- الاكتفاء الذاتي

٧. من خلال المنحنيين السابقين نستنتج أنه هناك .....

- أ- غياب للبنوك في عملية التمويل في البلدين  
 ب- غياب التدخل الحكومي في اقتصاد البلدين  
 ج- غياب التبادل التجاري في اقتصاد البلدين  
 د- غياب الاقتراض والاقتراض بين البلدين

٨. من خلال المنحنيين السابقين نستنتج أن .....

- أ- سوريا تنتج وتستهلك ٨ آلاف طن من القمح و ٦ آلاف متر من المنسوجات، بينما ينتج العراق ويستهلك ١٠ آلاف طن من القمح و ٢٠ ألف متر من المنسوجات.  
 ب- العراق ينتج ويستهلك ٨ آلاف طن من القمح و ٦ آلاف متر من المنسوجات، بينما تنتج سوريا وتستهلك ١٠ آلاف طن من القمح و ٢٠ ألف متر من المنسوجات.  
 ج- سوريا تنتج وتستهلك ١٠ آلاف طن من القمح و ٢٠ آلاف متر من المنسوجات، بينما ينتج العراق ويستهلك ٨ آلاف طن من القمح و ٦ ألف متر من المنسوجات.  
 د- سوريا تنتج وتستهلك ٨ آلاف طن من القمح و ٦ آلاف متر من المنسوجات، بينما ينتج العراق ويستهلك ١٠ آلاف طن من القمح و ٢٠ ألف متر من القمح.

إنتاج	إستهلاك	إنتاج	إستهلاك	
٣٠	٦	٠٠	٨	سوريا
٠٠	٢٠	٣٠	١٠	العراق
٣٠	٢٦	٣٠	١٨	المجموع
الخانة أ	الخانة ب			مكاسب التجارة

٩. في الجدول أعلاه فإن مكاسب التجارة بين البلدين هي..

- أ-  $٢٠ - ٢٦ = ٤$  ( بالنسبة للخانة أ ) و  $١٨ - ٣٠ = ١٢$  ( بالنسبة للخانة ب )  
ب-  $٢٣ - ٣٠ = ٤$  ( بالنسبة للخانة أ ) و  $١٨ - ٣٠ = ١٢$  ( بالنسبة للخانة ب )  
ج-  $٣٠ + ٢٦ = ٥٦$  ( بالنسبة للخانة أ ) و  $١٨ + ٣٠ = ٤٨$  ( بالنسبة للخانة ب )  
د- لا شيء صحيح مما ذكر أعلاه



## المحاضرة الثالثة عشر الإقتصاد الدولي

### نظريات الحماية

#### ١. نظرية الصناعة الناشئة

بما أن الصناعة الناشئة (Infant-Industry) تكون غير مكتملة التطور بعد فإنها غالباً ما تعجز عن مواجهة المنافسة العالمية. لذلك تلجأ الأقطار عادة إلى حماية صناعاتها الناشئة لحين اكتمال تطورها من حيث الكفاءة والجودة حتى تقوى على منافسة الصناعات الأجنبية، خاصة في السوق المحلية.

#### الانتقادات التي وجهت لنظرية الصناعة الناشئة:

- أولاً: أن الرسوم الجمركية ووسائل الحماية الأخرى سرعان ما تتحول إلى مصالغ مكتسبة للصناعيين من ذوي النفوذ السياسي في القطاع الخاص.
- ثانياً: إن بعض الصناعات التي تتمتع بمزايا الحماية تفقد الحافز على التطوير وتحقيق الكفاءة الإنتاجية مما يدفع أصحابها إلى التشبث بالحماية لفترة طويلة جداً.
- ثالثاً: تؤدي زيادة الرسوم الجمركية أو استخدام نظام الحصص إلى ارتفاع الأسعار بالنسبة للمستهلكين.

#### ٢. نظرية الاقتصاد المتنوع

تعتبر نظرية الاقتصاد المتنوع (Diversified-Economy) من أبرز مبررات حماية الصناعة المحلية، حيث أنها تمكن القطر من إقامة مختلف الصناعات التي تؤدي إلى زيادة الاستقرار الاقتصادي.

#### ٣. نظرية حماية الأجور:

تقوم بعض الأقطار، وخاصة المتقدمة صناعياً، بحماية الأجور Wage-Protection فيها عن طريق عرقلة دخول المنتجات الأجنبية المنافسة من إنتاج الدول التي تمتاز بانخفاض تكاليف الإنتاج، وخاصة الأجور.

#### الانتقادات التي وجهت لنظرية حماية الأجور:

- أولاً: أنها تفترض أن العمل هو المصدر الوحيد لعوامل الإنتاج. في حين أن هناك عوامل أخرى مهمة في عملية الإنتاج.
- ثانياً: يمكن للأقطار النامية التي تتميز بانخفاض مستويات الأجور أن تكون في مركز تنافسي بالنسبة للأقطار المتقدمة التي تتميز بارتفاع مستويات الأجور، إلا أن هذه الميزة التنافسية تقتصر فقط على الصناعات التي تعتمد على العمل بنسبة كبيرة.

#### ٤. نظرية حماية الاستخدام:

تركز هذه النظرية على أثر الحماية في تقليل الواردات وتشجيع الصناعات التصديرية التي تؤدي بدورها إلى زيادة مستوى الاستخدام وتقليل مستوى البطالة وتحسين مستويات الدخل.

#### أهم الانتقادات التي وجهت لنظرية حماية الاستخدام:

- أولاً: أن أي منافع يمكن تحقيقها كزيادة الدخل والإستخدام عن طريق سياسة الحماية لا يمكن أن تستمر مدة طويلة.

ثانياً : تؤدي الرسوم الجمركية ونظام الحصص إلى تكوين الإحتكارات المحلية ودعم المنتجين غير الأكفاء.

ثالثاً : يرتكز منطق التجارة الدولية على حقيقة مهمة هي أن القطر الذي يصدر إلى الأقطار الأخرى يجب عليه أن يستورد أيضاً.

#### ٥. نظرية الأمن القومي:

تبرر نظرية الأمن القومي National Security ضرورة حماية الصناعات العسكرية لاعتبارات الأمن القومي.

#### هذه الاعتبارات لم تعد مقنعة لسببين :

أولاً : أن من الصعب في أوقات الحروب إستبعاد بعض الصناعات دون غيرها بالنسبة لمساهمتها في المجهود الحربي.

ثانياً : إذا كان لا بد من حماية بعض الصناعات الإستراتيجية فقد يكون من الأفضل تقديم إعانات مالية لدعم هذه الصناعات لغرض تحقيق أهدافها بدلاً من تقييد التجارة الدولية.

#### ٦. نظرية الإغراق:

يحدث الإغراق Dumping عندما تقوم شركة أجنبية ببيع إنتاجها في الأسواق الخارجية بأسعار أقل من تكاليف إنتاجها وذلك بهدف تثبيت موقعها التنافسي.



#### ٧. نظرية التجارة الخارجية:

تهتم نظرية مضاعف التجارة الخارجية (Foreign Trade Multiplier) بدراسة تأثير التجارة الخارجية على الدخل والاستخدام لقطر معين.

- تعتبر الواردات أحد مكونات التدفقات الخارجية (التسريبات) للدخل الإجمالي للدولة المستوردة.
- تعتبر الصادرات أحد مكونات التدفقات الداخلة (الحقن) فهي تمثل الأرصدة النقدية المستلمة من الخارج لقاء السلع والخدمات المنتجة محلياً والتي يتم تصديرها إلى الدول الأخرى.

### المالية الدولية:

أصبحت العلاقات الاقتصادية في الوقت الحاضر بين الأقطار لا تعتمد فقط على الأنشطة التجارية بين الدول، بل أيضاً على التدفقات المالية فيما بينها. لذلك أصبح من الضروري دراسة المالية الدولية (International Finance) التي تتعلق بالجانب النقدي للتجارة الدولية في السلع والخدمات إلى جانب حركة رؤوس الأموال الاستثمارية، من أجل فهم المشكلات الاقتصادية العالمية.

#### ١. أسواق الصرف الأجنبي:

تعتبر مجموعة أقطار الإتحاد الأوروبي الذي أصبح يضم إعتباراً من ٢٠٠٤/٥/١ خمساً وعشرين دولة يتجاوز عدد سكانها ٤٥٠ مليون نسمة، أي أكثر من سكان الولايات المتحدة وروسيا مجتمعة، وهو أكبر تجمع دولي يستخدم عملة موحدة وهي اليورو، أما باقي أقطار العالم فكل منها عملتها الخاصة بها. ويعنى هذا ضرورة تحويل عملة الدولة المستوردة إلى عملة الدولة المصدرة أو إلى عملة السداد التي يتم الإتفاق عليها مع الدولة المصدرة. وتسمى الأسواق التي يتم من خلالها تبادل العملات الدولية أسواق الصرف الأجنبي.

## ٢. وظيفة أسواق الصرف الأجنبي:

تؤدي المبادلات الدولية إلى حصول بعض الأقطار على عملات أجنبية معينة بكميات كبيرة بحيث قد تجد نفسها بحاجة لاستبدال قدر معين من هذه العملات لقاء الحصول على عملات أخرى لاستيراد سلع من بلد تلك العملات. وقد تكون الحالة العكس بالنسبة لأقطار أخرى. لذلك يمكن الحصول على العملات الأجنبية عن طريق أسواق الصرف التي تتحدد فيها أسعار العملات حسب آلية العرض والطلب، كما هي الحالة بالنسبة لأي سلعة أخرى.

## ٣. تأثيرات المبادلات الدولية:

أولاً: تؤدي صفقات التصدير إلى زيادة تدفق النقود في القطر المصدر وتخفيض عرض النقود في القطر المستورد.

ثانياً: يتمكن القطر المصدر من الحصول على العملات الأجنبية التي تمكنه من دفع قيمة وارداته من الخارج. أي أن قدرة الدولة على التصدير هي التي تحدد قدرتها على الاستيراد من الخارج.

ثالثاً: يعتمد سعر صرف عملة قطر معين بالنسبة للعملات الأجنبية الأخرى على مكانة ذلك القطر في مبادلاته التجارية، أي مركز ميزان مدفوعاته.

## ميزان المدفوعات:

ميزان المدفوعات هو عبارة عن كشف بالقيمة النقدية لجميع المبادلات التي تمت بين قطر معين والعالم الخارجي خلال سنة معينة.



### ١. مكونات ميزان المدفوعات:

أولاً: الحساب الجاري: يشتمل الحساب الجاري (Current Account) على قيم الواردات والصادرات من السلع والخدمات، بالإضافة إلى صافي الفوائد والتحويلات الخارجية.

ثانياً: حساب رأس المال: يشتمل حساب رأس المال (Capital Account) على التدفقات المالية من القروض والاستثمارات طويلة الأجل وقصيرة الأجل.

### ٢. توازن ميزان المدفوعات:

يعتمد ميزان المدفوعات على ما يعرف بمبدأ القيد المزدوج (Double-Entry Book keeping)، ويعني هذا المبدأ أن كل معاملة تجارية يعبر عنها لأغراض المحاسبة بقيدتين، فإذا كان قيدها الأول كحساب مدين (Debit Account) يكون قيدها الثاني كحساب دائن (Credit Account).

### ٣. معالجة الاختلال في ميزان المدفوعات:

لما كان اختلال التوازن (Disequilibrium) في ميزان المدفوعات هو نتيجة لحدوث فجوة بين مجموع المدفوعات ومجموع الإيرادات، لذلك كان لا بد من التأثير في العوامل التي تحدد هذه المبادلات لغرض تحقيق التوازن بين ما يدفعه القطر إلى الخارج، وبين الإيرادات التي يستلمها من الخارج.

#### ٤. وسائل تحقيق التوازن في ميزان المدفوعات:

أولاً: أسعار الصرف حرة : يعبر سعر الصرف الأجنبي عن سعر الوحدة من العملة الوطنية بوحدة من العملات الأجنبية الأخرى.

▪ مزايا أسعار الصرف المتغيرة بصورة حرة هي ثلاث مزايا :

- (١) أنها تؤدي إلى تصحيح إختلال التوازن في ميزان المدفوعات بصورة تلقائية وذلك عن طريق آلية الطلب والعرض في السوق العالمية.
- (٢) أنها تؤدي إلى زيادة الواردات وهبوط الصادرات أو بالعكس وذلك بواسطة التغيرات في أسعار الصرف.
- (٣) أنها لا تؤدي إلى فرض القيود على الإقتصاد المحلي.

▪ مساوئ أسعار الصرف المتغيرة بصورة حرة هي:

- (١) أنها تؤدي إلى زيادة عنصر المخاطرة بالنسبة لعقد الصفقات التجارية الدولية بسبب احتمال تغير سعر الصرف بين فترة عقد الصفقة ووقت التسليم.
- (٢) أنها تؤدي إلى تردي شروط التبادل التجاري في القطر الذي إنخفضت قيمة عملته في سوق الصرف.
- (٣) أنها تؤدي إلى الإضرار بالصناعات التصديرية وإلى التقلبات في مستوى الإستخدام والدخل.

ثانياً - تغيرات الأسعار والدخول : متى ما امكن إعادة التوازن في ميزان المدفوعات عن طريق تغيرات أسعار الصرف، مع بقاء مستويات الأسعار والدخول المحلية ثابتة، ويصبح ذلك أيضاً ممكناً بالنسبة لتغيرات الأسعار والدخول، مع بقاء أسعار الصرف ثابتة.

ثالثاً- وسائل السيطرة الحكومية : تتمثل وسائل السيطرة الحكومية في مجموعتين هما :

- (١) وسائل السيطرة على تحويلات النقد الأجنبي،
- (٢) وسائل السيطرة التجارية.

نهاية المحاضرة الثالثة عشر

#### أسئلة الكتاب

صح / خطأ

- ١- تعني سياسة الإغراق بيع السلع في الاسواق الاجنبية بأسعار تقل عن تكاليف الإنتاج. ( صح )
- ٢- يقصد بسعر الصرف قيمة الوحدة من العملة الوطنية لدولة معينة بوحدة من عملة دولة أخرى. (صح)
- ٣- يكون هناك فائض في الميزان التجاري إذا كانت قيمة الواردات أكبر من قيمة الصادرات. ( خطأ )
- ٤- القطر الذي يحقق فائضاً في الميزان التجاري لا بد أن يحقق فائضاً في ميزان المدفوعات. ( خطأ )
- ٥- يؤدي ارتفاع سعر صرف العملة الوطنية إلى زيادة الصادرات. ( خطأ )

اختر الاجابة الصحيحة

- ١- من أهم مساوئ القيود الحكومية على الواردات أن هذه الواردات تؤدي إلى  
أ- ارتفاع أسعار السلع المستوردة  
ب- ارتفاع أسعار السلع المنتجة محلياً.  
ج- انخفاض الصادرات المحلية وحدوث عجز في ميزان المدفوعات  
د- كل ما تقدم

٢. يمكن لقطر معين معالجة الاختلال في ميزان المدفوعات عن طريق

أ- تخفيض سعر صرف العملة المحلية

ب- تقليل تكاليف الانتاج وتحسين النوعية

ج- تقليل الواردات من السلع الكمالية

د- كل ما تقدم

٣. تؤدي رقابة الدولة على تحويل النقود الى الخارج الى

أ- ظهور السوق السوداء

ب- انخفاض حجم التجارة مع الاقطار الاخرى

ج- انخفاض اسعار السلع الاستهلاكية

د- (أ) و (ب)

٤. تؤدي التجارة الحرة الى

أ- تحقيق فائض في الميزان التجاري

ب- ارتفاع معدلات التضخم

ج- زيادة المنافسة وانخفاض اسعار السلع

د- حماية الصناعة الناشئة

٥. أي مما يلي يعكس إتمام عملية صادرات غير منظورة بالنسبة للاقتصاد

أ- صادرات القطن

ب- تحويلات العاملين المصريين في الخارج

ج- عوائد السياحة

د- (ب) و (ج)

### اسئلة الاختبار النهائي

١. يحدث الإغراق Dumping عندما تقوم شركة أجنبية ببيع إنتاجها في الأسواق الخارجية بأسعار..... تكاليف إنتاجها وذلك بهدف تثبيت موقعها

التنافسي.

أ- أعلا من

ب- أقل من

ج- مساوية لـ

د- لا شئ مما ذكر

٢. ميزان المدفوعات هو عبارة عن كشف بالقيمة لجميع المبادلات التي تمت بين

أ- بلد معين والعالم الخارجي.

ب- مؤسسة معينة والسوق.

ج- شركة معينة والبنك.

د- السوق وباقي المؤسسات.

٣. هناك شرطاً بديلاً لتوازن الاقتصاد الكلي هو

أ- تعادل الدخل الوطني مع الاستهلاك الوطني

ب- تعادل الاعانات مع الاقتطاعات.

ج- تعادل التسريبات مع الحقن.

د- كل ما ذكر

## المحاضرة الرابعة عشر التنمية الاقتصادية

### مفهوم التنمية الاقتصادية:

يختلف مفهوم التنمية الاقتصادية حسب اختلاف المعايير أو المؤشرات المستخدمة.

▪ **فبنسبة للمؤشرات الاقتصادية التقليدية:** تعني التنمية الاقتصادية قدرة الإقتصاد القومي على تحقيق معدلات مرتفعة في النمو الإقتصادي وبالتالي زيادة معدل الدخل الفردي.



▪ **أما بالنسبة للمعايير غير الاقتصادية:** كتخفيض نسبة الأمية من خلال تكثيف الإستثمار في الخدمات التعليمية والصحية وزيادة المساهمة الجماهيرية في إتخاذ القرارات من خلال بناء المؤسسات الديمقراطية وتحقيق العدالة الإجتماعية في تخصيص الموارد الاقتصادية.

فالتنمية يجب أن تعني توسيع خيارات جميع أفراد المجتمع في جميع المجالات الاقتصادية، والسياسية، والثقافية، وتوفير تكافؤ الفرص للجميع. كذلك، تشمل أهداف التنمية الشاملة على تحسين نوعية الحياة من جميع النواحي، ولاسيما فيما يتعلق باحترام حقوق الإنسان المدنية والسياسة وإغناء الحياة الثقافية وتقليل الأضرار الناجمة عن تلوث البيئة. ( التنمية المستدامة )

### أثر التحولات الاقتصادية والسياسة العالمية:

بعد أن أخفقت معظم الأقطار النامية في تحقيق طموحاتها في مجال التنمية خلال عقد السبعينات من القرن العشرين جاء عقد الثمانينات ليقضي على معظم هذه الآمال بسبب التحولات الجذرية التي طرأت على المسرح العالمي على الصعيدين الإقتصادي والسياسي، والتي تسببت بإحراق أضرار كبيرة بهذه الأقطار مما أدى بكثير من الكتاب المعنيين بقضايا التنمية والعلاقات الدولية بوصف هذه الحقبة الزمنية بالعقد الضائع.

### خصائص الأقطار النامية:

بالرغم من صعوبة تعميم مجموعة من الخصائص على جميع الأقطار النامية، إلا أنه يمكن تشخيص سبع خصائص عامة تنطبق على معظم هذه الأقطار. وتتمثل هذه الخصائص في التالي :

- ١- انخفاض مستويات المعيشة.
- ٢- انخفاض الإنتاجية.
- ٣- ارتفاع معدلات نمو السكان.
- ٤- ارتفاع معدلات البطالة.
- ٥- الاعتماد الكبير على الإنتاج الزراعي والصادرات الأولية.
- ٦- الانكشاف الكبير في العلاقات الاقتصادية الدولية.
- ٧- غياب أو محدودية المشاركة الجماهيرية.

## ١. انخفاض مستويات المعيشة:

تنعكس مستويات المعيشة المنخفضة بصورة كمية ونوعية بحالة الفقر وتردي مستويات الصحة والتعليم وارتفاع معدلات وفيات الأطفال وانخفاض معدل العمر المتوقع.

### أ - انخفاض معدلات الدخل الفردي:

يقدر الناتج المحلي الإجمالي للأقطار النامية في سنة ٢٠٠٤ بما يعادل ٢٢٪ من الناتج المحلي العالمي بينما يشكل عدد السكان ٨٢،٤٪ من مجموع سكان العالم، أما بالنسبة للأقطار المتقدمة، فيشكل سكانها أقل من ١٨٪ من مجموع سكان العالم إلا أن حصتها النسبية تقدر بحوالي ٧٨٪ من مجموع الإنتاج العالمي كما يوضح الجدول التالي :

الناتج الإجمالي، السكان، ومعدل الدخل الفردي لسنة ٢٠٠٤

معدل الناتج الفردي على أساس القوة الشرائية المتكافئة (دولار) (٦)	معدل الناتج الفردي بالأسعار الجارية (دولار) (٥)	% من سكان العالم (٤)	السكان (مليون نسمة) (٣)	% من الناتج العالمي (٢)	الناتج المحلي الإجمالي (مليار دولار) (١)	الأقطار / مجموعة الأقطار
٣٥.٧٥٠	٣٦.٦٦٧	٤.٧	٣٠٠	٣٠.٥	١١.٠٠٠	(١) الولايات المتحدة
٢٥.٩٠٠	٢١.٢٧٧	٧.٣	٤٧٠	٢٧.٨	١٠.٠٠٠	(٢) أقطار المجموعة الأوروبية (٢٥)
٢٦.٩٠٠	٣٩.٠٦٢	٢.٠	١٢٨	١٣.٩	٥.٠٠٠	(٣) اليابان
٢٦.٠٠٠	٢٠.٠٠٠	١.٤	٩٠	٥.٠	١.٨٠٠	(٤) الأقطار المتقدمة الأخرى
٨.٢٣٠	٢٦٧٦	٢.٢	١٤٢	١.٠١	٢٨٠	(٥) روسيا الاتحادية
٢٥.٠٠٠	٢٤.٩٣٨	١٧.٦	١.١٣٠	٧٨.٣	٢٨١٨٠	مجموع الأقطار المتقدمة (٢٣)
٤.١٥٠	١.٤٨٤	٨٢.٤	٥٢٧٠	٢١.٧	٧٨٢٠	(٦) الأقطار النامية: (١٤٤)
٤.٨٠٠	١١٦٢	٥٧.٨	٣٧٠٠	١٢.٠	٤٣٠٠	آسيا: (٤٩)
٤.٦٠٠	١١٥٢	٢٠.٣	١٣٠٠	٤.٢	١٥٠٠	الصين
٢.٦٧٠	٠.٥٠٩	١٦.٩	١٠٨٠	١.٥	٥٥٠	الهند
٧.٣٠٠	٣٩٢٨	٨.٨	٠.٥٥٠	٦.١	٢.٢٠٠	(٢) أمريكا اللاتينية: (٢٨)
٨.٩٧٠	٦١٨٢	١.٧	١١٠	١.٩	٦٨٠	المكسيك
٧.٧٧٠	٢٦٦٦	٢.٨	١٨٠	١.٣	٤٨٠	البرازيل
١.٧٩٠	٧٤٣	١٠.٩	٧٠٠	١.٤	٥٢٠	(٣) أفريقيا: (٤٨)
٥.١٥٠	٢٥٨١	٤.٩	٣١٠	٢.٢	٨٠٠	(٤) الأقطار العربية: (١٩)
٧.٨٠٠	٥٦٢٥	١.٠٠	٦.٤٠٠	١.٠٠	٣٦.٠٠٠	(٥) المجموع الكلي: (١٧٧)

\* تم التوصل إلى هذه التقديرات إستناداً إلى الأرقام المنشورة في التقارير الدولية.

والجدير بالملاحظة، أن الفجوة في معدل الدخل الفردي بين الأقطار الغنية والأقطار الفقيرة قد ازدادت خلال عقد التسعينات من القرن العشرين بصورة أكبر مما كانت عليه طيلة العقود الثلاث السابقة، وذلك لأسباب عديدة يأتي في مقدمتها انخفاض معدلات النمو الإقتصادي في معظم الأقطار النامية من جهة، واستمرار ارتفاع معدلات نمو السكان في هذه الأقطار من جهة أخرى. أما بالنسبة للفجوة الآخذة بالازدياد في توزيع الدخل العالمي بين الأقطار الغنية والأقطار الفقيرة، فيتضح من الجدول التالي أنه بينما كانت هذه الفجوة بين أغنى ٢٠% بالمقارنة مع أفقر ٢٠% من سكان العالم تبلغ (٣٠) ضعفاً في سنة ١٩٦٠، فإنها ازدادت إلى أكثر من (٦٠) ضعفاً في نهاية عقد الثمانينات وإلى (٨٨) ضعفاً في نهاية عقد التسعينات من القرن الماضي.

الجدول يبين التفاوت في توزيع الدخل العالمي			
معدل حصص الدخل الأغنى إلى الأفقر	نسبة الدخل العالمي		السنة
	أغنى ٢٠%	أفقر ٢٠%	
١/٣٠	٧٠.٢	٢.٣	١٩٦٠
١/٣٢	٧٣.٩	٢.٣	١٩٧٠
١/٤٥	٧٦.٣	١.٧	١٩٨٠
١/٦١	٨٥.٠	١.٤	١٩٩٠
١/٨٨	٨٦.٠	١.٠	١٩٩٩

ب- سوء توزيع الدخل القومي : يتضح من الجدول السابق بأن حصة أفقر ٢٠% من سكان العالم قد تدهورت من ٢.٣% من الدخل العالمي في سنة ١٩٦٠ إلى ١% في سنة ١٩٩٩. وتجدر الإشارة هنا بأن زيادة الفجوة في معدلات الدخل الفردي بين الأقطار الغنية والأقطار الفقيرة لا تعكس وحدها إتساع التفاوت الاقتصادي الحاد بين الأغنياء والفقراء في العالم، فمن الضروري أيضاً التعرف على الفجوة المتزايدة بين الأغنياء والفقراء ضمن القطر الواحد في الأقطار الفقيرة.

ج- الفقر المطلق : تعتمد حدة الفقر في أي قطر على عاملين هما :

١- مستوى الدخل القومي

٢- درجة التفاوت في توزيع الدخل

- تزداد حدة الفقر عند أي مستوى من الدخل كلما زادت حدة التفاوت في توزيع الدخل.
- كذلك تزداد حدة الفقر عند أي مستوى معين من نمط التوزيع كلما إنخفض مستوى الدخل.



#### د - سوء التغذية :

بالإضافة إلى انخفاض معدلات الدخل الفردي وزيادة ظاهرة الفقر تعاني معظم الأقطار النامية من حالة سوء التغذية ونفسي الأمراض لاسيما بين الأطفال دون السنة الخامسة.

**ويعزى** تدهور الحالة الصحية في معظم الأقطار النامية بصورة رئيسية إلى حرمان نسبة كبيرة من السكان من الخدمات الصحية الأساسية والمياه الصالحة للشرب والمرافق الصحية، كما يتضح من الجدول التالي :

جدول يبين الحرمان الصحي في الأقطار النامية ٢٠٠٠		
العدد (مليون)	طبيعة الحرمان الصحي	
٧٦٦	عدم توفر الخدمات الصحية	١
١,١٦٠	عدم توفر المياه الصالحة للشرب	٢
٢,٣٦٠	عدم توفر المرافق الصحية	٣
١١	الأطفال الذين يفارقون الحياة قبل بلوغهم السنة الخامسة	٤
٨٥٠	الأشخاص الذين يعانون من سوء التغذية	٥

#### هـ - ارتفاع نسبة الأمية :

بالرغم من الإنجازات الملموسة (الكمية) التي حققتها معظم الأقطار النامية في مجال توفير الخدمات التعليمية، وخاصة بالنسبة لمرحلة التعليم الابتدائي وتخفيض نسبة الأمية بين الكبار، فما زالت نسبة الأمية مرتفعة. وتنتشر ظاهرة الأمية بين الإناث، حيث تبلغ النسبة ٦٠٪ ويعيش أكثر من ٧٥٪ من السكان الأميين في العالم في قارة آسيا.

#### ٢. انخفاض الإنتاجية:

تتسم الأقطار النامية إضافة لانخفاض مستوى المعيشة بانخفاض إنتاجية العمل (أي معدل الإنتاج لكل عامل) بالمقارنة مع الأقطار المتقدمة.

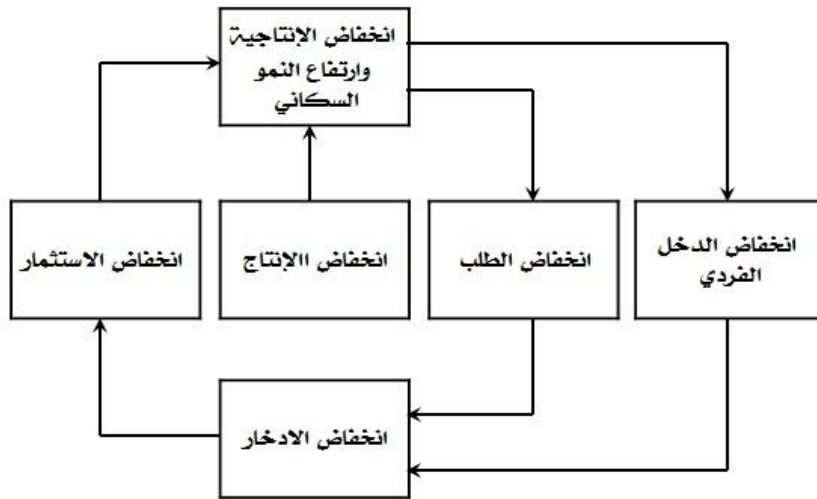
**ويعزى** انخفاض الإنتاجية إلى النقص الحاد في عوامل الإنتاج المكملّة الأخرى، مثل رأس المال والإدارة الكفؤة وكذلك غياب الحوافز الاقتصادية.

#### ٣. ارتفاع معدلات نمو السكان:

تعتبر معدلات نمو السكان في معظم الأقطار النامية وبضمنها الأقطار العربية مرتفعة بصورة عامة، حيث تتراوح بين ٢-٣٪ سنوياً بالمقارنة مع ٠,٦٪ سنوياً في الأقطار المتقدمة.

وتتمثل الخصائص الرئيسية للاقتصادات النامية فيما يعرف بظاهرة الحلقة المفرغة للفقر (Vicious Circle of Poverty) المتمثلة بانخفاض معدل الدخل الفردي الذي يؤدي إلى انخفاض مستوى الطلب وانخفاض

الإدخار، ومن ثم انخفاض الاستثمار الذي يؤدي إلى انخفاض الإنتاجية، وبالتالي انخفاض معدل الدخل الفردي، الذي يزداد تدهوراً بسبب ارتفاع معدل نمو السكان، كما يتضح من الشكل التالي :



من خلال الشكل السابق والذي يبين الحلقة المفرغة للفقر، حيث يؤدي انخفاض الإنتاجية وارتفاع النمو السكاني إلى انخفاض الدخل الفردي الذي يؤدي بدوره إلى انخفاض الطلب والإدخار مما يؤدي إلى انخفاض الاستثمار وبالتالي إلى استمرار ظاهرة الفقر.

#### ٤. ارتفاع معدلات البطالة:

تعتبر ظاهرة سوء استغلال الموارد البشرية من أهم أسباب انخفاض مستويات المعيشة في الأقطار النامية. وتتجسم هذه الظاهرة بشكلين :

**الأول :** هو الاستغلال غير الكامل لمورد العمل في المناطق الريفية والحضرية على حد سواء، أي أن الأفراد لا يعملون بكل طاقاتهم خلال فترة العمل اليومي، بالرغم من اشتغال نسبة كبيرة منهم بدوام كامل من الناحية الشكلية.

ويطلق على هذه الظاهرة بالبطالة المقنعة (Disguised Unemployment)، والتي تنتشر بصورة خاصة في المناطق الريفية حيث تنخفض الإنتاجية الحديثة للعمل إلى الصفر تقريباً.

**الثاني:** يتمثل بالبطالة الهيكلية (Structural Unemployment)، والتي تعني عجز الاقتصاد القومي عن خلق فرص عمل جديدة لامتصاص الأيدي العاملة العاطلة.

#### ٥. الاعتماد الكبير على الإنتاج الزراعي والصادرات الأولية:

تتراوح نسبة العاملين في القطاع الزراعي بين ٢٥% من مجموع الأيدي العاملة في أمريكا اللاتينية، ٧٠% في شرق آسيا، ٦٤% في جنوب آسيا، ٨٦% في أفريقيا، بالمقارنة مع ٥% في الأقطار المتقدمة، علماً بأن هذه النسبة تبلغ أقل من ٢% في كل من الولايات المتحدة وكندا.

أما من حيث مساهمة القطاع الزراعي في الناتج المحلي القومي الإجمالي فتتراوح بين ١٠% في أمريكا اللاتينية، ١٨% في شرق آسيا، ٣٠% في جنوب آسيا و٢٠% في أفريقيا، بالمقارنة مع ٧% في أقطار أوروبا الغربية وأقل من ٣% في أمريكا الشمالية.



**ويعزى** السبب الرئيسي لتركز السكان والإنتاج في الأنشطة الزراعية والأولية في معظم الأقطار النامية إلى حقيقة أنه عند المستويات المنخفضة للدخل تكون الأولية بالنسبة للسكان هي محاولة إشباع الحاجات الأساسية وفي مقدمتها الغذاء.

## ٦. الإنكشاف الكبير في العلاقات الاقتصادية الدولية:

لقد أسهم التوزيع غير المتكافئ للقوة الاقتصادية والسياسية في العالم في تعميق الفجوة بين الأقطار المتقدمة (أقطار الشمال) والأقطار النامية (أقطار الجنوب). ويتجسم تدهور القوة التساومية أو التفاوضية لأقطار الجنوب على الصعيدين الاقتصادي والسياسي في زيادة هيمنة أقطار الشمال (وفي مقدمتها الولايات المتحدة) على الاقتصاد العالمي والتجارة الدولية وكذلك في التحكم بشروط نقل التقنية والتدخل في توجيه سياسات المؤسسات الائتمانية الدولية لخدمة مصالحها السياسية.

## ٧. غياب أو محدودية المشاركة الجماهيرية:

**يعزى** غياب أو محدودية المشاركة الجماهيرية في عملية اتخاذ القرار إلى غياب مؤسسات المجتمع المدني في معظم الأقطار النامية. حيث تتسم النظم السياسية في العديد من هذه الأقطار بوجود حكومات غير شرعية، أي أنها لم تأت إلى الحكم عن طريق الانتخاب الحر وإنما عن طريق الانقلابات العسكرية أو هيمنة الحزب الواحد على السلطة لفترة طويلة.

## **المسئولية الدولية والمحلية لظاهرة التخلف الاقتصادي:**

يجب التأكيد بأن ظاهرة التخلف الاقتصادي (Economic Underdevelopment) لا بد أن ينظر إليها من المنظورين الدولي والمحلي. فالمشكلات الاقتصادية التي تعاني منها معظم الأقطار النامية لها جذورها المحلية والأجنبية. كذلك الحال بالنسبة للسياسات والإجراءات الهادفة لإيجاد الحلول المناسبة لهذه المشكلات. أما على الصعيد الدولي فيمكن إرجاع حالة التخلف إلى فترة الاستعمار الاستيطاني، حيث تعرضت شعوب المستعمرات في آسيا وأفريقيا إلى أبشع أنواع الاستغلال الاقتصادي من قبل الدول الاستعمارية وبصورة خاصة بريطانيا وفرنسا.

## **السياسات الائتمانية الهادفة**

لا شك أن معالجة ظاهرة التخلف الاقتصادي والفقر تعتبر من أهم التحديات التي تواجه الأقطار الفقيرة. ويمكن التقليل من التأثيرات السلبية لهذه الظاهرة على عملية النمو الاقتصادي وتحسين مستوى معيشة السكان من خلال تبني السياسات الاقتصادية والاجتماعية الهادفة لزيادة الطاقة الإنتاجية للاقتصاد القومي من خلال تكثيف الاستثمارات في المشروعات الإنتاجية وتوفير الحوافز اللازمة للقطاع الخاص للمشاركة الفاعلة مع القطاع العام لتحقيق أهداف التنمية.

كذلك، لا بد من تبني السياسات الهادفة لتحسين نمط توزيع الدخل من خلال توجيه الإنفاق الحكومي بما يضمن حصول أكبر نسبة ممكنة من السكان على ثمار التنمية الاقتصادية والاجتماعية المتمثلة في توفير الفرص المتكافئة للجميع للحصول على التعليم والرعاية الصحية وفرص العمل، وبالتالي خروج نسبة متزايدة من السكان من دائرة الفقر.

نهاية المحاضرة الرابعة عشر ( والحمد لله والشكر له )

## اسئلة الكتاب

### صح / خطأ

١. يقصد بالنمو الاقتصادي الزيادة في الناتج المحلي الاجمالي الاسمي. ( خطأ )
٢. تعني البطالة المقنعة وجود نسبة من الايدي العاملة غير مستغلة استغلالاً كاملاً. ( صح )
٣. تشكل الصادرات الصناعية نسبة كبيرة من صادرات الاقطار النامية. ( خطأ )
٤. يعتبر الانفاق على التعليم والتدريب أفضل السياسات الاقتصادية لمعالجة مشكلة الفقر. (صح)
٥. تؤدي زيادة نسبة الاناث في سوق العمل الى انخفاض معدلات نمو السكان. (صح)

### اختر الاجابة الصحيحة

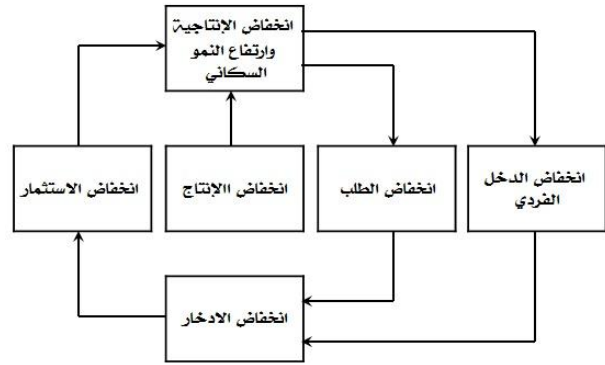
١. تشير توقعات نمو السكان في العالم في سنة ٢٠٢٥م الى أن الضجوة بين المستوى المعيشي لسكان الاقطار المتقدمة والاقطار النامية  
أ- ستبقى ثابتة  
ب- ستتقلص بسرعة  
ج- ستتقلص تدريجياً  
د- ستزداد اتساعاً
٢. أي من السياسات الاقتصادية التالية تعتبر غير مقبولة بالنسبة للأقطار النامية  
أ- الاستثمار في البنى التحتية  
ب- تشجيع المواطنين على الادخار  
ج- زيادة الاستثمار في التعليم  
د- تخصيص نسبة كبيرة من الايرادات الحكومية للانفاق العسكري
٣. تبلغ نسبة الامية بين الكبار في العالم العربي  
أ- اقل من ٢٠%  
ب- اقل من ٣٠%  
ج- اعلا من ٤٠%  
د- اعلا من ٧٠%
٤. تبلغ نسبة سكان الاقطار النامية من مجموع سكان العالم أكثر من  
أ- ٥٠%  
ب- ٦٠%  
ج- ٧٠%  
د- ٨٠%
٥. تعزى ظاهرة الحلقة المفرغة للفقر الى الاسباب التالية ما عدا  
أ- انخفاض الدخل القومي  
ب- انخفاض الاستثمار  
ج- انخفاض نمو السكان  
د- انخفاض الانتاجية

### اسئلة الاختبار النهائي

١. تتسم الاقطار النامية اضافة لانخفاض مستوى المعيشة، بانخفاض  
أ- عدد السكان  
ب- إنتاجية العمل  
ج- مواردها الطبيعية  
د- مساحتها

٢. تعتبر ظاهرة ..... من أهم اسباب انخفاض مستويات المعيشة في الاقطار النامية.

- أ- ارتفاع الموارد الطبيعية
- ب- زيادة الدخل القومي
- ج- ارتفاع عدد المستهلكين
- د- سوء استغلال الموارد البشرية



٣. يعبر الشكل اعلاه عن

- أ- التدفق الدائري للدخل
- ب- الحلقة المضغوطة للفقر
- ج- توزيع الثروة بين القطاعات
- د- التوازن الاقتصادي الكلي

٤. يعزى انخفاض الانتاجية في الدول النامية الى :

- أ- النقص الحاد في عوامل الانتاج المكملات
- ب- النقص الحاد في عدد السكان
- ج- النقص الحاد في الثروات الطبيعية
- د- لا شئ مما ذكر

٥. يعزى السبب الرئيسي لتركز السكان والانتاج في الانشطة الزراعية والاولوية في معظم الاقطار النامية الى .....

- أ- أنه عند المستويات المرتفعة للدخل تكون الاولوية بالنسبة للسكان هي محاولة إشباع الحاجات الأساسية وفي مقدمتها الترفيه.
- ب- أنه عند المستويات المرتفعة للدخل تكون الاولوية بالنسبة للسكان هي محاولة إشباع الحاجات الثانوية وفي مقدمتها الغذاء.
- ج- أنه عند المستويات المنخفضة للدخل تكون الاولوية بالنسبة للسكان هي محاولة إشباع الحاجات الأساسية وفي مقدمتها الغذاء.
- د- أنه عند المستويات المرتفعة للدخل تكون الاولوية بالنسبة للسكان هي محاولة إشباع الحاجات الأساسية وفي مقدمتها الغذاء.

٦. تعني التنمية الاقتصادية وفقاً للمؤشرات الاقتصادية التقليدية قدرة الاقتصاد القومي على تحقيق معدلات مرتفعة من .....

- أ- النمو الاقتصادي
- ب- الربح الاقتصادي
- ج- التوازن الاقتصادي
- د- لا شئ مما ذكر

لا تنسونا من صالح دعائكم

أخوكم فهد