

تجميع واجبات المستوى الثاني

التلاوة والتجويد

الواجب الأول

السؤال الأول

: (الحكم التجويدي في قوله تعالى (ويل لكل

ادغام بغير غنة كامل

السؤال الثاني

: (الحكم التجويدي في قوله تعالى (كتاب أنزلناه

.إظهار التنوين عند الهمزة

السؤال الثالث

: (الحكم التجويدي في قوله تعالى (شراباً طهوراً

إخفاء حقيقي

الواجب الثاني

: أشدُّ حروف الإظهار الشفوي إظهاراً 1-

الواو والفاء -أ

الواو والكاف -ب

. الواو والقاف -ج

الكاف والقاف -د

: (الحكم التجويدي في قوله تعالى (بكل شيء عليم 2-

إخفاء شفوي -أ

إخفاء حقيقي -ب

إظهار حقيقي -ج

إظهار شفوي -د

: (نوع المد في قوله تعالى (خلائف -3

أ- مد واجب منفصل

ب- مد جائز متصل

ج- مد واجب متصل

د- مد صلة

الواجب الثالث

: (الظهار)الحكم التجويدي في قوله تعالى _1

أ- إظهار النون الساكنة عند الهاء

ب- إظهار الهاء عند النون الساكنة

ج- نون مشددة

د- إظهار مطلق

: (المتقين)الحكم التجويدي في قوله تعالى - 2

أ- مد واجب متصل

ب- مد جائز متصل

ج- مد عارض للسكون

د- مد لازم كلمي مثقل

: (سلام هي)الحكم التجويدي في قوله تعالى - 3

أ- إظهار حلقى

ب- إخفاء حلقى

ج- إظهار حقيقي

د- إظهار شفوي

: هروف الإدغام بغنة -4

أ- يرملون

ب- اللام والراء

ج- الواو والميم

د- ينمو

النحو التطبيقي ٢

الواجب الأول

-قد ينوب الجار والمجرور عن الفاعل

صح

2-المفعول الذي يبين سبب حدوث الفعل هو المفعول لأجله

صح

3-قد يأتي الفاعل جملة

خطا

الواجب الثاني

١-التابع الذي يتبع متبوعه بواسطة حرف هو

العطف

٢-من في قولك ماجاءنا من اهد

حرف جر زائد

٣-واحد مما يلي ليست من احكام الفاعل

قد ياتي جملة

الواجب الثالث

1. الأصل في الحال أن يكون مشتقاً.

صح

2.تمييز الذات يكون غالباً بعد الموازين والمكايل والمساحات.

صح

3. إذا وصف المفعول المطلق فإنه يكون مؤكداً لفعله .

خطأ

4. المفعول لأجله هو الظرف الزماني أو المكاني .

خطأ

التذوق الأدبي

الواجب الأول

/الشاعر الذي تار على المقدمات الطللية واستبدل بها المقدمات الخمرية هو أبو نواس.

صح

2/ يسمى الانتقال من ضمير الغيبة إلى ضمير المتكلم الالتفات.

صح

3/ قائل بيت الشعر التالي:

تخطّ فيها العوالي ليس تنفذها كأن كلّ سنانٍ فوقها قلمٌ

هو البحري

خطأ

الواجب الثاني

التذوق الذي يدرك الجمال ويتذوقه ويبين مواطنه هو ذوق

إيجابي

:يختلف شعر عدي بن زيد في رفته وسلاسته عن شعر زهير في جزالته وقوته وذلك بسبب تأثير

.البيئة .

:صاحب قصيدة بانث سعاد هو

.كعب بن زهير

1. من الشعراء الذين غلب على شعرهم عمق المعاني أبو تمام. (صح)

2. الاستعارة تشبيه حذف أحد طرفيه. (صح)

3. يعد السيوطي أول من تابع الهمذاني في كتابة المقامات. (خطأ)

4. يعد الشاعر محمود سامي البارودي من شعراء العصر العباسي. (خطأ)

القراءة والمحادثة

الواجب الأول

تكوين المهارة يحتاج الى عدة أمور منها : المحاولة المتكررة 1/

صح

خطأ

الاستماع هو : قصد استقبال الصوت والانتباه له مع عدم الانشغال بشيء آخر 2/

صح

خطأ

اثبتت أن ٩٠ ٪ من الحادثات التي تتم بين الناس لا تعتمد على النطق 3/

صح

خطأ

الواجب الثاني

ان تفعل مثل جلييك وتتأفم معه في التنفس ، والصوت ، والحركات ، وتعبيرات الجسم يسمى أسلوب المرأة المتقاطعه

(خطأ)

2.من المهارات البديعة التي يمتلكها قليل من الناس: الاستماع لأكثر من جهة في وقت واحد.

(خطأ)

- إذا ، وتريد أنت موضوعاً آخر يناسب الجمهور ، فالأفضل أن تبدأ بالموضوع المناسب للجمهور ، ثم تعرج على موضوعك

(صح)

إذا أخذت أنت المبادرة بعد المجارة ، فممت بتغيير مقصود في سلوكك ستجد: أن المقابل يجاريك في سلوكك - 1

صح

خطأ

من عناصر القراءة الانتقائية: قراءة فهرس الموضوعات والمصادر والمراجع - 2

صح

خطأ

- 3الشخص متوسط السرعة يقرأ: بسرعة ٣٥٠ كلمة في الدقيقة

صح

خطأ

- 4توهم القارئ أن فهمه يزداد من خلال الرجوع: خطأ ينبغي أن يتنبه إليه المتدرب في القراءة

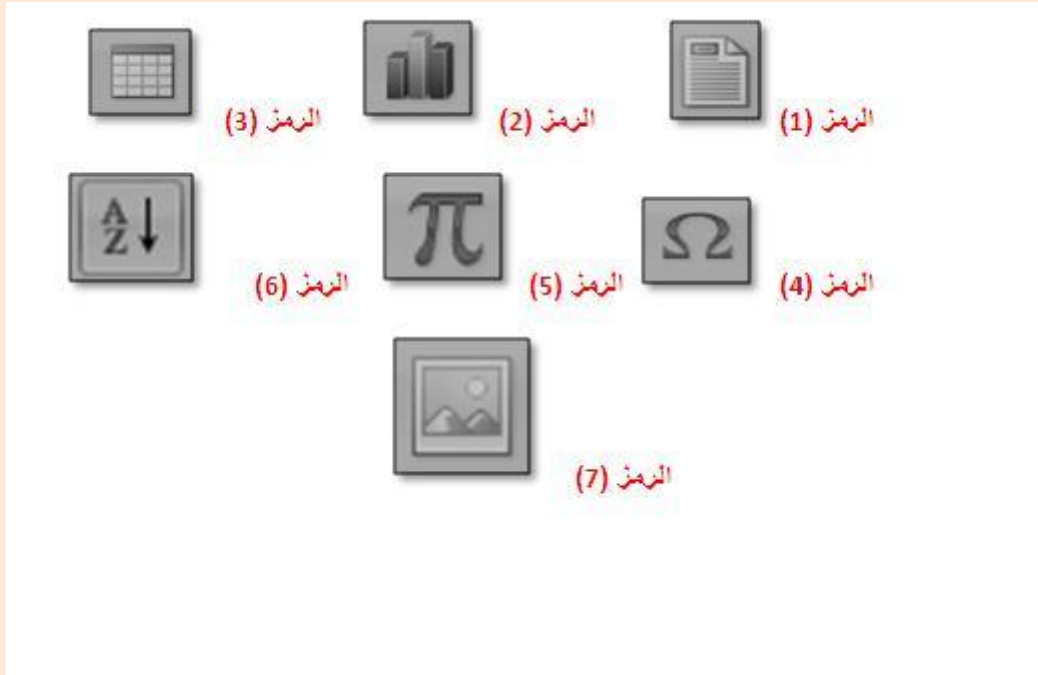
صح

خطأ

برامج الحاسب المكتبية

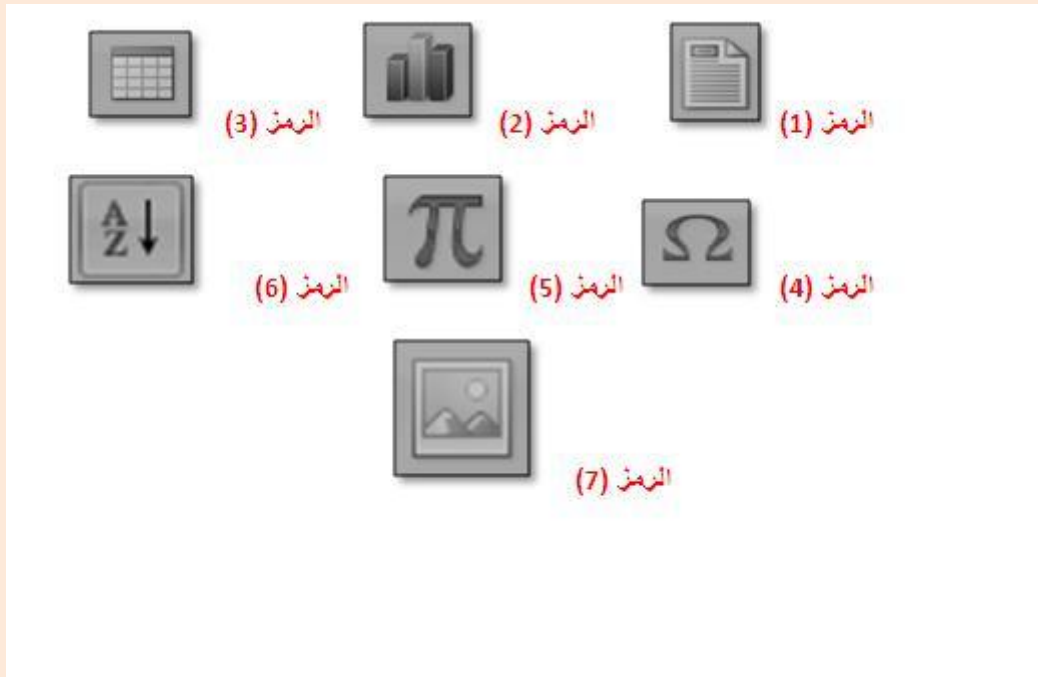
الواجب الأول

من اجل (Word) يستخدم هذا الرمز (١) في برمجية مايكروسوفت وورد



إدراج عنوان للمستند إدراج صفحة جديدة في المستند إدراج رأس للمستند إدراج حاشية سفلية للمستند

إدراج جدول في برمجية مايكروسوفت وورد (Word) نستخدم الرمز التالي



الرمز ٢ الرمز ٢ الرمز ٤ الرمز 5

لإدراج صورة من ملف في برمجية مايكروسوفت وورد (Word) نستخدم الرمز التالي



الواجب الثاني

١- (Excel 2007) يستخدم الرمز رقم (١) في برمجية مايكروسوفت إكسل - 1
زيادة وإنفاص الفواصل العشرية للخلية

٢- (Excel 2007) يستخدم الرمز رقم (٢) في برمجية مايكروسوفت إكسل - 2
إدراج مخططات بيانية

٣- (Excel 2007) يستخدم الرمز رقم (٣) في برمجية مايكروسوفت إكسل - 3
إدراج دالة حسابية

في إعداد (Excel) تستخدم برمجية مايكروسوفت إكسل (٢٠٠٧-1
العمليات الحسابية باستخدام الجداول الالكترونية

نتبع الخطوات (PowerPoint) لحفظ ملف ملف بنسخة أخرى باستخدام برمجية مايكروسوفت بوربوينت (٢٠٠٧-2
التالية

حفظ باسم – عرض بوربوينت – office زر

تكون بصيغة (PowerPoint 2007) (امتداد الملفات المخزنة باستخدام برمجية مايكروسوفت بوربوينت-3
PPTX

في إعداد (PowerPoint 2007) تستخدم برمجية مايكروسوفت بوربوينت-4
العروض التقديمية للمؤتمرات المرئية والاجتماعات

الإنجليزي كتابة

الواجب الأول

1. Which of the following sentences does NOT have a capitalization mistake?

- A. Mr. Anwar is an English teacher at King Faisal University.
- B. Mr. anwar is an English teacher at King Faisal University.
- C. Mr. Anwar is an English teacher at king faisal University.
- D. Mr. Anwar is an English teacher at king faisal university

2. Which is the irrelevant sentence in the following paragraph?

I go shopping with my family every Friday. We go to a mall near our house. We usually buy meat, vegetables, juice and milk. We never buy junk food. Meat is very expensive these days.

- A. I go shopping with my family every Friday.
- B. We go to a mall near our house.
- C. We usually buy meat, vegetables, juice and milk.
- D. Meat is very expensive these days.

3. What's the best way to combine the following two sentences?

(1) I went to Mecca by bus.

(2) My friend Ahmad went by bus, too.

- A. My friend Ahmad and I went to Mecca by bus.
- B. My friend Ahmad went to Mecca and I went to Mecca by bus.
- C. My friend Ahmad and I went to Mecca and we went by bus.
- D. My friend Ahmad went to Mecca by bus and I went to Mecca by bus.

الواجب الثاني

1. Which is the best way to rewrite the following sentence?

"I can't speak French. I can't speak Japanese."

- A. I can't speak French and Japanese.
- B. I can't speak French or Japanese.
- C. I can't speak French but Japanese.
- D. I can't speak French or I can't speak Japanese.

2. What is the correct order of the following sentences?

- 1. First, I brush my teeth and wash my face.
- 2. Every day I wake up at 5:00 in the morning.
- 3. After that, I have a big breakfast.
- 4. Then I leave for work at 6:30 a.m.

- A. 3, 2, 1, 4
- B. 2, 1, 3, 4
- C. 2, 3, 4, 1
- D. 4, 3, 2, 1

3. Choose the word/words that best fits/fit in the blank space:

Ahmad has a small bedroom. He _____ a big bedroom.

- A. does not have
- B. don't have
- C. have not
- D. does have

الواجب الثالث

1 - Choose the best substitute for the underlined words. If the sentence is correct, choose "Make no change."
I'm not hungry; moreover, I cannot eat anything now.

- B. as a result

Which sentence is irrelevant to the following topic sentence?

Topic sentence: "It is interesting to visit foreign countries."

...

- D. You can find hotels on the internet.

Which of the following sentences contains a compound subject and a compound verb?

...

- D. Leila and her sister live and work in Dammam

Which two sentences have the same meaning

(1) You should do your best, or you will not pass the exams.

(2) You should do your best, but you will not pass the exams.

(3) You should do your best; otherwise, you will not pass the exams.

(4) You should do your best; therefore, you will not pass the exams

- A. Sentences 1 and 3

الواجب الأول

..... 1- هي عملية وضع البيانات الخاصة بظاهرة معينة في جداول منسقة وعرضها بطرق مناسبة .

جمع البيانات

تنظيم وعرض البيانات

تحليل البيانات

استقراء النتائج واتخاذ القرارات

2- المدى R لمجموعة من البيانات هو :

أكثر القيم تكراراً في البيانات

أكبر قيمة في البيانات

أصغر قيمة في البيانات

الفرق بين أكبر وأصغر قيمة من البيانات

3- انظر الصورة المرفقة أعلاه ثم أجب عن السؤال

أ

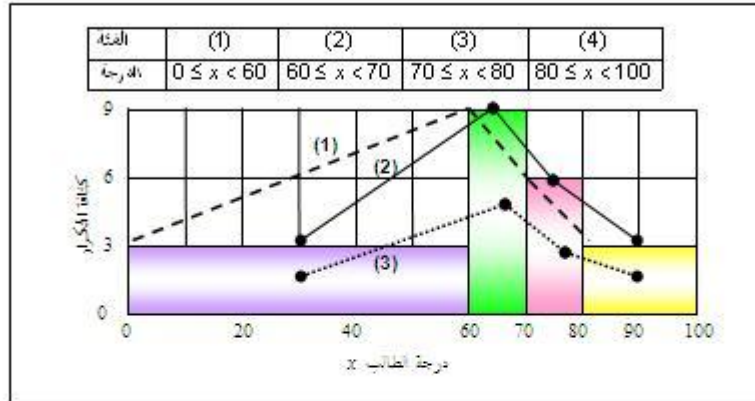
ب

ج

د

الواجب الثاني

الرسم التالي يبين المدرج التكراري للدرجة x لعدد من الطلاب في مقرر مبادئ الإحصاء مقسمين على 4 فئات ، من هذا المدرج يمكن استنتاج الآتي :



(1) العدد الكلي للطلاب :

- (أ) 180 (ب) 270 (ج) 330 (د) 390

(2) عدد الطلاب الناجحين والحاصلين على تقدير B على الأكثر [أكثر من 60 وأقل من 80] :

- (أ) 60 (ب) 90 (ج) 150 (د) 180

(3) الخط المنكسر الذي يمثل المضاع التكراري للبيانات هو :

- (أ) الخط المنكسر (1) (ب) الخط المنكسر (2)
(ج) الخط المنكسر (3) (د) ليس أي خط مما سبق .

390 (د) 1-

150 (ج) 2-

الخط المنكسر ٢ (ب) 3-

الواجب الثالث

1 - في المنحنى المتماثل يكون

الوسط = المنوال

الوسط ضعف المنوال

الوسط أكبر من المنوال

المنوال أكبر من الوسط

2 - إذا كان الوسط الحسابي لمجموعة من القيم هو ٢٠ وضربنا كل قيمة من القيم في ٢ ، فإن الوسط الحسابي للقيم

الجديدة يكون

40

18

22

20

3 - أحد مقاييس النزعة المركزية الذي قد يمكن تحديده للبيانات النوعية:

المنوال

الوسيط

المدى

الوسط الحسابي

4 - الوسيط لمجموعة القيم ٩ ٣ ٢ ٨ ٤ ١٦ هو

6

8

2

قيمة غير موجودة

الإنجليزي قراءة

الواجب الأول

Which of the following was not a Cherokee family clan?

A. Wolf

B. Paint

C. Wild Potato

D. Coyote

Babies were born into their _____ clan

- A. father's
- B. their own clan
- C. mother's
- D. brother's

Which of the following is NOT true?

- A. Women never participated in war.
- B. Women were in charge of property.
- C. Men were in charge of hunting
- D. Men were in charge of diplomatic relations

الواجب الثاني

Read the following passage and answer the questions bellow.

The Great Pyramid at Giza is one of the world's most amazing landmarks. Rising high above the Sahara Desert in the Giza region of northern Egypt,

.....

- - 1- Where is the Great Pyramid NOT located?

- D. Southern Egypt

- 2- The Pyramid was _____ of engineering.

- B. a wonderful accomplishment

-3- The Great Pyramid was built in _____.

- A. a very hot area

الواجب الثالث

-Why is this species named Loggerhead Sea Turtle?

C. It has a large head.

What shape are scutes?

A. hexagonal

- Which of the following is not part of the turtle's shell?

D. tail

- The Loggerhead Sea Turtle is _____ in length.

B. three and a half feet

علم الاجتماع

الواجب الأول

السؤال الأول:

: قسم رأجيسست كونت علم الاجتماع إلى

الجواب: قسمين رئيسيين

السؤال الثاني:

أنواع المعرفة

الجواب: ثلاثة أنواع

السؤال الثالث:

:تنقسم الأنثروبولوجيا إلى أقسام

الجواب: ثلاثة أقسام

الواجب الثاني

س١: جماعات تتكون عن طريق علماء الاجتماع والإحصائيين وعلماء السكان، وأعضاؤها لا يتميزون بالوعي أو الشعور (بالنوع)، بالإضافة إلى عدم وجود تنظيم رسمي يضم هؤلاء الأعضاء أسمائها (زاندن)

ج: الفئات الإحصائية

س٢: هي الجماعات التي يرجع إليها الفرد في تقييم سلوكه

ج: الجماعات المرجعية

س٣: جماعات تقوم على علاقات الوجه للوجه المباشرة بين أعضائها كما تقوم على أساس علاقة التعاون الواضح وحرية التعبير عن الشخصية والعواطف

ج: الجماعات الأولية

الواجب الثالث

- استجابة نوعية واسعة الانتشار تماماً.....

سمات الشخصية

2- فئات من الأشخاص يكون لكل افراد فئة منهم انماط متماثلة من سمات الشخصية

انماط الشخصية

3- يبدو عندما تعيش جماعة من الافراد في منطقة واحدة ،.....

انماط الشخصية الاساسية

4- تشمل عناصر الشخصية التي يدرسها عالم الاجتماع على عناصر

خمسة

،،

وختاماً أختكم **أم عمر** تسألکم الدعاء لها بظهر الغيب وأن لا تنسوها من دعواتکم الصالحات،،

وأسأل الله العلي العظيم كما جمعنا في هذه الدنيا الفانية ،، أن يجمعنا ثانية،، في جنة قطوفها دانية ،،

إخوانا على سرر متقابلين ،، اللهم آمينين ،

وأسألکم أن تطلوني وتغفروا لي السهو والزلل فجل من لا يسهو ،،